

じゅけんばんごう 受験番号

合 計	
	/100

れい わ ねん ど
令和 4 年度

おおさか ふりつ ち てきしょう こうとう し えん がっ こうしよくぎょうがっ か
大阪府立知的障がい高等支援学校職業学科

てきせいけんさもんだい ひつとう
適性検査問題 (筆答)

ちゅうい じこう
【注意事項】

- 「はじめなさい。」の放送があるまで、問題用紙を開いてはいけません。
- 検査が終わるまで、席を離れてはいけません。気分が悪くなったり、トイレに行きたくなったりしたら、黙って手をあげなさい。
- 床に落ちたものは、試験監督が拾います。自分で拾ってはいけません。
- 問題の内容に関する質問はできません。
- 周りの人の解答を見たり、聞いたりしてはいけません。
- 印刷された文字などが見えにくいときや、ページが抜けているときなどは、黙って手をあげなさい。
- 問題用紙の端の網かけ部分には、何も書いてはいけません。

けんさ せつめい
【検査の説明】

- 検査時間は40分間です。
- 検査は、問題1から問題10まであります。
- 「はじめなさい。」の放送があつてから、はじめなさい。
- 検査が終了する5分前に、「あと5分です。」と放送があります。
- 「やめなさい。」の放送があれば、筆記用具を置き、静かに待ちなさい。
- 受験番号の欄に、自分の受験番号を書きなさい。書き終わったら、筆記用具を置き、「はじめなさい。」の放送があるまで、静かに待ちなさい。

1. 次の(1)～(3)の答えを、1字ずつ

--

 のなかか書きなさい。

(1) 物や図形の角度を測る、この器具の名前をひらがなで書きなさい。

ぶんどきの写真

著作権者の配慮から現時点での掲載を控えております。

--	--	--	--

1(1)	
	/1

(2) 三角形に折り曲げた金属の棒を、金属の棒で打って演奏する、この楽器の名前をカタカナで書きなさい。

トライアングルの写真

著作権者の配慮から現時点での掲載を控えております。

--	--	--	--	--	--	--	--

1(2)	
	/1

(3) 次の①～③の漢字の読みをひらがなで書きなさい。

① 電話

--	--	--

② 会場

--	--	--	--

③ 生年月日

--	--	--	--	--	--	--

1(3)①	
	/2

1(3)②	
	/2

1(3)③	
	/2

1 小計	
	/8

2. 次の(1)、(2)の問いに答えなさい。

(1) 次の①、②の文の に当てはまることばとして、最も適しているものを の中から1つ選び、() の中に○を書きなさい。

① 図書室で本を借りることができる。

、1人3冊までだ。

() すると () ただし

() つまり () または

② 今朝は晴れていたのに、傘を持たずに出かけた。

、午後から雨が降りはじめた。

() あるいは () そのうえ

() ところが () なぜなら

(2) 次のことわざの に当てはまることばとして、正しいものを の中から1つ選び、() の中に○を書きなさい。

「善は 」

() 急げ () 進め

() 習え () 学べ

2(1)①
/2

2(1)②
/2

2(2)
/2

2 小計
/6

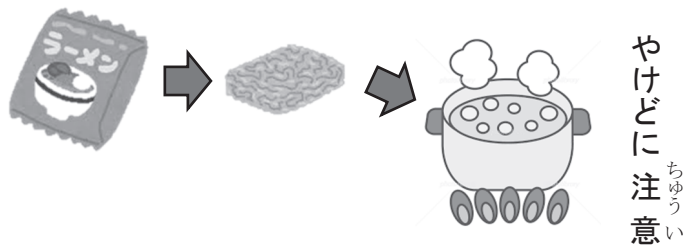
もんだい つぎ つづ
問題は次のページに続きます。

まい
1枚めくって、
つぎ
次のページにすすみなさい。


3. 次の【作り方】に従い、インスタントラーメンを作ることになりました。【作り方】を見て、(1)～(4)の問いに答えなさい。

【作り方】

- ① 鍋に水500mLを入れて沸とうさせます。そこに、めんを入れて3分間ゆでてください。(めんのゆで時間は好みにより調節してください。)



- ② めんをゆでている間に、粉末スープを器に入れておきます。



- ③ めんをゆでたら、先に鍋からお湯を器に入れ、粉末スープとお湯をよくかき混ぜて、スープを作っておきます。



- ④ 最後に、スープが入った器にめんを入れ、軽くかき混ぜてできあがりです。お好みでチャーシュー、メンマ、もやし、玉ねぎ、白ネギなどを加えてお召し上がりください。



(1) インスタントラーメンを作るのに必要な水の量は何mL
 ですか。 の中に答えを書きなさい。

	mL
--	----

3(1)	
/2	

(2) 下線部の3分を英語にしたとき、正しいものを
 の中から1つ選び、()に○を書きなさい。

()	ワン ミニット one minute
()	トゥー ミニッツ two minutes
()	スリー ミニッツ three minutes

3(2)	
/3	

(3) 【作り方】の①では、何に注意するように示されていますか。
 答えをひらがなで1字ずつ の中に書きなさい。

--	--	--

3(3)	
/3	

(4) 【作り方】から読み取れる内容として、正しいものを
 の中から1つ選び、()に○を書きなさい。

()	鍋に水とめんを入れてから、沸とうさせる。
()	めんが入っている鍋に粉末スープを入れて混ぜる。
()	スープを作っておいた器に、めんを入れる。

3(4)	
/4	

3 小計	
/12	

4. つぎの(1)、(2)の問いに答えなさい。

(1) つぎの①～⑤の計算をし、の中に答えを書きなさい。

4(1)①	
/1	

① $676 + 228 =$

4(1)②	
/1	

② $43 - 28 =$

4(1)③	
/1	

③ $1479 + 3749 =$

4(1)④	
/1	

④ $38 \times 8 =$

4(1)⑤	
/1	

⑤ $52 \div 13 =$

(2) つぎの①、②のの中に四則計算の記号(+、-、×、÷)を書き、式を完成させなさい。

4(2)①	
/1	

① 6 $7 + 44 = 86$


4(2)②	
/2	

② 12 6 $1 + 9 = 10$


4 小計	
/8	

5. 線が入った透明な同じ形、同じ大きさのガラスの板が2枚あります。その2枚の板を、向きを変えずに重ねると、どのような模様になりますか。次の【例】を参考にして、(1)、(2)の答えを の中から1つずつ選び、() の中に○を書きなさい。

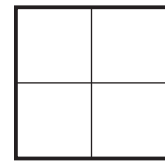
【例】



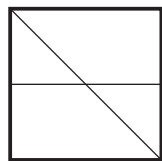
と



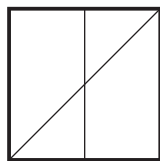
をを重ねると



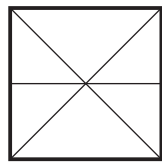
(1)



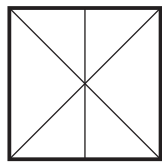
と



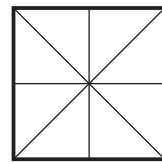
をを重ねると



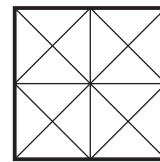
()



()

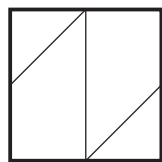


()

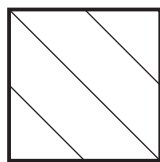


()

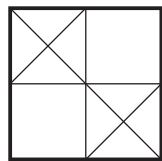
(2)



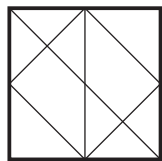
と



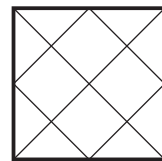
をを重ねると



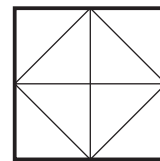
()



()



()



()

5(1)	
/4	

5(2)	
/4	

5 小計	
/8	

6. 次の【表】は、2020年1月から12月までの大阪府の最高気温と最低気温、平均気温を示しています。この【表】を見て、(1)～(4)の問いに答えなさい。

ひょう
【表】

	1月	2月	3月	4月	5月	6月
最高気温 (°C)	11.9	11.9	15.6	18.1	25.7	29.1
最低気温 (°C)	5.8	4.7	7.7	9.7	16.8	21.4
平均気温 (°C)	8.6	8.0	11.4	13.7	20.8	24.9

	7月	8月	9月	10月	11月	12月
最高気温 (°C)	29.6	35.7	30.0	22.9	19.0	12.5
最低気温 (°C)	23.4	27.1	22.8	15.1	10.9	5.1
平均気温 (°C)	26.0	30.7	25.8	18.7	14.7	8.7

(1) 最高気温が最も高かったのは何月ですか。

の中に答えを書きなさい。

6(1)	
/2	

月

(2) 平均気温が最も低かった月の最低気温は何°Cですか。

の中に答えを書きなさい。

6(2)	
/2	

°C

(3) 最高気温と最低気温の差が最も小さいのは何月ですか。

の中から1つ選び、()の中から○を書きなさい。

() 1月 () 5月
 () 9月 () 12月

6(3)	
/3	

(4) この【表】の平均気温を表したグラフとして、最も適しているものを

の中から1つ選び、()の中から○を書きなさい。

()

()

()

()

6(4)	
/5	

6 小計	
/12	

7. こうたさんはクラスで校外学習こうがいがくしゅうに行くことになりました。次の
【スケジュール】を見て、(1)～(4)の問いとに答えこたなさい。

【スケジュール】

<日 程> 令和4年10月21日 (金)

<行き先> 臨海公園



<予定表>

じ かん 時間	かつどうないよう 活動内容
9 : 00	がっこうしゅっぱつ 学校出発
9 : 15	やまなかえきとうちやく 山中駅到着
9 : 50	うみ べ えきとうちやく 海辺駅到着
10 : 00	りんかいこうえんとうちやく 臨海公園到着
10 : 10	スタンプラリー
11 : 40	ちゅうしょく 昼食
12 : 50	すいぞくかんけんがくかい し 水族館見学開始
14 : 25	すいぞくかんけんがくしゅうりょう 水族館見学終了
14 : 35	りんかいこうえんしゅっぱつ 臨海公園出発
14 : 45	うみ べ えきとうちやく 海辺駅到着
15 : 20	やまなかえきとうちやく 山中駅到着
15 : 35	がっこうとうちやく かいさん 学校到着・解散

すいぞくかんけんがく
<水族館見学について>

- けんがく かつどう
・見学はグループで活動して
ください。
- すいぞくかん さん か
・水族館イベントへの参加は
じゅう さん か
自由です。参加するかどうかはグループで話し合っ
てき
決めてください。

すいぞくかん じ かん
水族館イベント時間

- ・イルカショー 
 - ①13 : 00～13 : 20
 - ②13 : 50～14 : 10
 - *①と②の内容は同じです。
- ・ペンギンパレード 
 - ①13 : 10～13 : 25
 - ②14 : 00～14 : 15
 - *①と②の内容は同じです。

- (1) 校外学習が行われる月のカレンダーとして、正しいものを
 []の中から1つ選び、()に○を書きなさい。

令和4年 10月						
日	月	火	水	木	金	土
					1	2
3	4	5	6	7	8	9
10	11	12	13	14	15	16
17	18	19	20	21	22	23
24	25	26	27	28	29	30
31						

()

令和4年 10月						
日	月	火	水	木	金	土
						1
2	3	4	5	6	7	8
9	10	11	12	13	14	15
16	17	18	19	20	21	22
23	24	25	26	27	28	29
30	31					





()

令和4年 12月						
日	月	火	水	木	金	土
						1
2	3	4	5	6	7	8
9	10	11	12	13	14	15
16	17	18	19	20	21	22
23	24	25	26	27	28	29
30	31					

()

7(1)
/2

- (2) 昼食の開始時刻を表している時計として、適切なものを
 []の中から1つ選び、()に○を書きなさい。

			
()	()	()	()

7(2)
/2

- (3) 水族館を見学する時間は、何時間何分ですか。 [] の
 中に答えを書きなさい。

時間	分
----	---

7(3)
/4

- (4) こうたさんのグループは、イルカショーを見てからペンギンパレードを見ることにしました。イルカショーが終わってからペンギンパレードが始まるまでは、何分間ありますか。
 []の中に答えを書きなさい。

分間

7(4)
/4

7 小計
/12

8. みさきさんとゆうかさんは、新しく開店したカフェへ行きました。次の【チラシ】と【メニュー1】、【メニュー2】を見て、(1)～(4)の問いに答えなさい。

【チラシ】

開店セール！

店内でお食事をされた方限定！

お持ち帰り商品を2個以上お買い上げいただくと、お帰りの際に、代金を100円割引いたします。

【メニュー1】店内お食事商品一覧

フード

たまごサンド	380円
ホットドッグ	450円
オムライス	700円
カレーライス	650円

スイーツ

ショートケーキ	370円
フルーツケーキ	520円
パフェ	580円

ドリンク

コーヒー	280円
アイスティー	310円
オレンジジュース	320円
ミックスジュース	460円

コーヒーの写真

著作権者の配慮から現時点での掲載を控えております。

*すべて税込価格です。

【メニュー2】お持ち帰り商品一覧

スイーツ

プリン	330円
シュークリーム	210円



*すべて税込価格です。

(1) パフェとコーヒーを1つずつ注文して食事をしたとき、
代金はいくらですか。 の中に答えを書きなさい。

	円
--	---

8(1)	
/2	

(2) フルーツケーキとショートケーキの価格を比べると、どちらの方が何円高いですか。 の中に答えを書きなさい。

	の方が	<input type="text"/>	円	高い。
--	-----	----------------------	---	-----

8(2)	
/3	

(3) みさきさんは、カレーライスとアイ스티ーを1つずつ注文して食事をした後、お持ち帰り用にプリンを2個買いました。代金はいくらですか。 の中に答えを書きなさい。

	円
--	---

8(3)	
/3	

(4) ゆうかさんは、たまごサンドとミックスジュースを1つずつ注文して食事をした後、お持ち帰り用にシュークリームをできるだけ多く買いたいと考えています。ゆうかさんが2000円持っているとき、シュークリームは何個まで買うことができますか。 の中に答えを書きなさい。

	個
--	---

8(4)	
/4	

8 小計	
/12	

- (1) 市役所から市民病院までの距離は、1100mです。1100mをkmで表すと、何kmになりますか。小数点を使って、答えを の中に書きなさい。

9(1)	
<input type="text"/>	/2

- (2) 歴史博物館に最も近いバス停の名前を の中に書きなさい。

9(2)	
<input type="text"/>	/2

- (3) 桜井中学校の南側にあるものを の中から1つ選び、() に○を書きなさい。

9(3)	
<input type="text"/>	/2

() みどり銀行	() 池上小学校
() 朝日池公園	() 朝日郵便局

- (4) 桜井駅前バス停からバスに乗るとき、市役所前バス停はいくつ先のバス停ですか。答えを の中から1つ選び、() に○を書きなさい。

9(4)	
<input type="text"/>	/3

() 3つ	() 4つ	() 5つ
--------	--------	--------

- (5) 公園入口バス停から図書館前バス停までバスで行くとき、進行方向に向かって左側に見える小学校の名前を の中に書きなさい。

9(5)	
<input type="text"/>	/3

9(1)	
<input type="text"/>	/2

9(2)	
<input type="text"/>	/2

9(3)	
<input type="text"/>	/2

9(4)	
<input type="text"/>	/3

9(5)	
<input type="text"/>	/3

9 小計	
<input type="text"/>	/12

もんだい
問題はここまです。

令和4年度 大阪府立知的障がい高等支援学校職業学科
適性検査問題(筆答)解答例及び配点

大問番号	出題の内容	小計	小問番号	配点	解答例	採点基準及び部分点など
1	名称をひらがなやカタカナで正しく書く。 日常生活で使われる簡単な漢字を読む。	8	(1)	1	ぶんどき	* 全てのマスにひらがな、カタカナが1字ずつ書いてあるものを採点対象とする。 * (3)②「よ」、(3)③「っ」は、他の文字と比べて小さい場合に正解とする。
			(2)	1	トライアングル	
			(3)①	2	でんわ	
			(3)②	2	かいじょう	
			(3)③	2	せいねんがっぴ	
2	適切な助詞や接続詞を用いて文を完成させる。 日常生活で使われる簡単な慣用句やことわざを完成させる。	6	(1)①	2	()すると (○)ただし ()つまり ()または	
			(1)②	2	()あるいは ()そのうえ (○)ところが ()なぜなら	
			(2)	2	(○)忘れ ()通め ()習え ()調べ	
3	文章を読み、内容を順序立てて構成する。 状況に応じた文章を読みとる。	12	(1)	2	500 (mL)	* (1)はアラビア数字、漢数字を正解とする。 * (3)はひらがなが1字ずつ書いてあるものを採点対象とする。
			(2)	3	()ワン ミニット one minute () トゥー ミニッツ two minutes (○) スリー ミニッツ three minutes	
			(3)	3	やけど	
			(4)	4	() 鍋に水とめんを入れてから、沸とうさせる。 () めんが入っている鍋に粉末スープを入れて混ぜる。 (○) スープを作っておいた器に、めんを入れる。	
4	四則計算の意味を理解し、簡単な計算を行う。	8	(1)①	1	904	* (1)①～⑤はアラビア数字、漢数字を正解とする。 * (2)①、②は記号のみを正解とする。
			(1)②	1	15	
			(1)③	1	5228	
			(1)④	1	304	
			(1)⑤	1	4	
			(2)①	1	×	
			(2)②	2	÷、-	
5	示された図形や立体図等から、形の特徴や違い、位置関係をとらえる。	8	(1)	4	 () () (○) ()	
			(2)	4	 () (○) () ()	
6	示された表やグラフなどの特徴や全体の傾向を読み取る。	12	(1)	2	8 (月)	* (1)、(2)はアラビア数字、漢数字を正解とする。
			(2)	2	4.7 (°C)	
			(3)	3	(○) 1月 () 5月 () 9月 () 12月	
			(4)	5	 () () (○) ()	
7	スケジュール表などの情報を読み取り、予定をたてる。	12	(1)	2	 () (○) ()	* (3)、(4)はアラビア数字、漢数字を正解とする。
			(2)	2	 () () (○) ()	
			(3)	4	1 (時間) 35 (分)	
			(4)	4	40 (分間)	
8	示された条件で目的に合わせ、金銭の使い方を考える。	12	(1)	2	860 (円)	* (1)～(4)はアラビア数字、漢数字を正解とする。 * (2)「フルーツケーキ」はひらがなも正解とする。
			(2)	3	フルーツケーキ、150 (円)	
			(3)	3	1520 (円)	
			(4)	4	6 (個)	
9	地図などから必要と考える情報を読み取り、各自の日常生活に照らし合わせ活用を考える。	12	(1)	2	1.1 (km)	* (1)はアラビア数字、漢数字を正解とする。 * (2)、(5)はひらがなも正解とする。
			(2)	2	市民病院前 (バス停)	
			(3)	2	() みどり銀行 () 池上小学校 (○) 朝日池公園 () 朝日郵便局	
			(4)	3	(○) 3つ () 4つ () 5つ	
			(5)	3	大原 (小学校)	
10	示された条件にそって自分の考えや気持ちを文章で表現する。	10		10		* 10点満点とし、以下の観点で採点する。 ○ 内容: 8点 ○ 文字数: 1点 ○ 文字表記・文法等: 1点
合計		100		100		

じゅけんばんごう
受験番号

れい わ ねん ど
令和4年度

おおさか ふりつ ち てきしょう こうとう し えんがっこうしょくぎょうがっ か
大阪府立知的障がい高等支援学校職業学科

てきせいけん さ もん だ い さ ぎ ょう
適性検査問題 (作業)

ちゅうい じこう
【注意事項】

- 「はじめなさい。」の放送があるまで、問題用紙を開いてはいけません。
- 検査が終わるまで、席を離れてはいけません。気分が悪くなったり、トイレに行きたくなったりしたら、黙って手をあげなさい。
- 床に落ちたものは、試験監督が拾います。自分で拾ってはいけません。
- 問題の内容に関する質問はできません。
- 周りの人の解答を見たり、聞いたりしてはいけません。
- 印刷された文字などが見えにくいときや、ページが抜けているときなどは、黙って手をあげなさい。

けんさ せつめい
【検査の説明】

- 検査時間は10分間です。
- 検査は、問題1から問題2まであります。
- 「はじめなさい。」の放送があってから、はじめなさい。
- 検査が終了する1分前に、「あと1分です。」と放送があります。
- 「やめなさい。」の放送があれば、作業をやめて、静かに待ちなさい。
- 問題用紙とラベルシートの受験番号の欄に、自分の受験番号を書きなさい。書き終わったら、筆記用具を置き、「はじめなさい。」の放送があるまで、静かに待ちなさい。

1. 次の【作業】を、下の【表】を見て行いなさい。

【作業】

右の【作業欄】に、【表】の①～④④が示す行と列が交わる位置に数字を、枠からはみ出さないように書きなさい。

たとえば、【表】の例では、【作業欄】の行イと列Bが交わる位置に数字9を書きます。

【表】

	ぎょう 行	れつ 列		すうじ 数字
れい 例	イ	B	→	9
①	ウ	A	→	4
②	コ	H	→	0
③	オ	E	→	6
④	ケ	C	→	3
⑤	ア	B	→	8
⑥	エ	G	→	7
⑦	キ	I	→	1
⑧	カ	J	→	3
⑨	ケ	A	→	6
⑩	イ	D	→	9
⑪	エ	C	→	1
⑫	キ	H	→	2
⑬	ア	D	→	0
⑭	ケ	J	→	2

	ぎょう 行	れつ 列		すうじ 数字
⑮	イ	I	→	3
⑯	コ	F	→	4
⑰	ウ	C	→	4
⑱	ケ	B	→	9
⑲	エ	E	→	7
⑳	キ	G	→	3
㉑	ウ	H	→	8
㉒	キ	E	→	8
㉓	ア	A	→	0
㉔	オ	I	→	6
㉕	カ	F	→	9
㉖	ア	I	→	5
㉗	オ	H	→	5
㉘	コ	A	→	4
㉙	カ	D	→	7

	ぎょう 行	れつ 列		すうじ 数字
⑳	ク	B	→	7
㉑	ウ	J	→	1
㉒	キ	B	→	3
㉓	コ	E	→	4
㉔	ア	F	→	2
㉕	イ	C	→	9
㉖	エ	B	→	0
㉗	イ	G	→	8
㉘	ク	C	→	6
㉙	オ	C	→	7
㉚	ケ	G	→	5
㉛	イ	E	→	5
㉜	カ	C	→	1
㉝	ク	J	→	9
㉞	ウ	D	→	2

さきょうらん
【作業欄】

		れつ 列									
		A	B	C	D	E	F	G	H	I	J
ぎょう 行	ア										
	イ		9								
	ウ										
	エ										
	オ										
	カ										
	キ										
	ク										
	ケ										
	コ										

2. 次の【作業】を、下の【表1】、【表2】を見て行いなさい。

【作業】

右の【作業欄】に、下の【例】のように、商品名と商品の発送先に対応するラベル番号のシールをラベルシートから選び、枠からはみ出さないように貼りなさい。

【表1】商品番号一覧

商品名	商品番号
天然水	00989
緑茶	37935
麦茶	79611
ウーロン茶	35342
紅茶	35441
コーラ	72618
サイダー	01078
コーヒー	04997

【表2】発送先番号一覧

発送先	発送先番号
三重県	24
滋賀県	25
京都府	26
大阪府	27
兵庫県	28
奈良県	29
和歌山県	30

【例】

商品名	発送先	ラベル番号
天然水	大阪府	0098927

ラベルシートから選んで貼る。



00989 27

商品番号

発送先番号

さぎょうらん
【作業欄】

しょうひんめい 商品名	はっそうさき 発送先	ばんごう ラベル番号
コーラ	きょうと ふ 京都府	
こうちゃ 紅茶	ひょうご けん 兵庫県	
むぎちゃ 麦茶	しがけん 滋賀県	
ウーロン茶 ^{ちゃ}	おおさか ふ 大阪府	
りょくちゃ 緑茶	みえけん 三重県	
サイダー	ならけん 奈良県	
てんねんすい 天然水	わかやまけん 和歌山県	
コーヒー	ひょうご けん 兵庫県	
ウーロン茶 ^{ちゃ}	わかやまけん 和歌山県	
むぎちゃ 麦茶	みえけん 三重県	
りょくちゃ 緑茶	きょうと ふ 京都府	
サイダー	しがけん 滋賀県	
コーヒー	ならけん 奈良県	
こうちゃ 紅茶	おおさか ふ 大阪府	

しょうひんめい 商品名	はっそうさき 発送先	ばんごう ラベル番号
こうちゃ 紅茶	みえけん 三重県	
サイダー	おおさか ふ 大阪府	
てんねんすい 天然水	ならけん 奈良県	
コーヒー	きょうと ふ 京都府	
ウーロン茶 ^{ちゃ}	ひょうご けん 兵庫県	
コーラ	わかやまけん 和歌山県	
こうちゃ 紅茶	しがけん 滋賀県	
むぎちゃ 麦茶	おおさか ふ 大阪府	
りょくちゃ 緑茶	ならけん 奈良県	
サイダー	ひょうご けん 兵庫県	
コーヒー	わかやまけん 和歌山県	
コーラ	みえけん 三重県	
むぎちゃ 麦茶	きょうと ふ 京都府	
てんねんすい 天然水	しがけん 滋賀県	

じゅけんばんごう 受験番号

てきせいけん さ もんだい さぎょう
適性検査問題（作業）
ラベルシート

0098924	3793529	3534227	7261825	0107830
0098925	3793530	3534228	7261826	0499724
0098926	7961124	3534229	7261827	0499725
0098927	7961125	3534230	7261828	0499726
0098928	7961126	3544124	7261829	0499727
0098929	7961127	3544125	7261830	0499728
0098930	7961128	3544126	0107824	0499729
3793524	7961129	3544127	0107825	0499730
3793525	7961130	3544128	0107826	
3793526	3534224	3544129	0107827	
3793527	3534225	3544130	0107828	
3793528	3534226	7261824	0107829	