

じゅけんばんごう 受験番号

合計
/100

へいせい ねん ど
平成27年度

おおさか ふ り つ ち てきしょう こうとう し えんがっこうしよくぎょうがっ か
大阪府立知的障がい高等支援学校職業学科

てきせいけんさ ひつとう
適性検査 (筆答)

ちゅういじこう
【注意事項】

- 受験番号の欄に、自分の受験番号を書きなさい。
- 受験番号を書き終わったら、筆記用具を置いて、静かに待ちなさい。
- 問題がすべてできても、指示があるまでは、この検査室から出ることはできません。
- 検査用紙は全部で12ページあります。
- 大問題は1. ～ 10. まであります。
- 大問題の中には小問題があるものもあります。
- 問題についての質問はできません。
- 書いてある文字などが見えにくいなど、印刷状態が悪いものやページがたりないものがあれば、黙って手をあげなさい。
- 検査が終わるまでは、席を離れてはいけません。
- 周りの人の解答をのぞいたり、聞いたりしてはいけません。
- 気分が悪くなったり、トイレに行きたくなったりしたら、黙って手をあげなさい。
- 検査時間は40分です。
- 「はじめなさい。」と言われてから、はじめなさい。
- 検査が終了する5分前に、「あと5分です。」と言います。
- 終了時刻になったら、「やめなさい。」と言います。
- 「やめなさい。」と言われたら、筆記用具を置いて、静かに待ちなさい。
- 網掛けの部分は、すべて記入してはいけません。

1. 次の の中に、ひらがなを一字ずつ書き、(1)～(4)の
 問いの答えを完成させなさい。

(1) 朝のあいさつのことば

お す

(2) 知らない人が訪ねてきたとき、問いかけることば

ど で か

(3) 人に迷惑をかけたとき、ていねいにあやまることば

も あ ん

(4) 先に帰るとき、残っている人にかけることば

お し す

1(1)
/2

1(2)
/2

1(3)
/2

1(4)
/2

1 小計
/8

2. 次の(1)～(3)は、描かれているものについての説明です。

すべての の中にカタカナを一字ずつ書いて、
説明されているものの名前を書きなさい。

(1)



しろ しろ けんばん がつき
白と黒の鍵盤がある楽器

--	--	--

(2)



しやう どうぐ
テニスで使用する道具

--	--	--	--

(3)



きいろ くだもの
黄色い果物

--	--	--

2(1)

/2

2(2)

/2

2(3)

/2

2 小計

/6

3. 次の(1)～(4)の場面で使う適切なことばを、下の の

中のア～クから1つずつ選び、記号を の中に書きなさい。

(1) 外出するとき

(2) 食事を終えたとき

(3) 初めて会う人にあいさつをするとき

(4) 作業の方法がわからず、困っているとき

- | | |
|----------------|----------------|
| ア 「はじめまして。」 | イ 「ただいま。」 |
| ウ 「いってきます。」 | エ 「いただきます。」 |
| オ 「おしえてください。」 | カ 「どういたしまして。」 |
| キ 「ごぶさたしています。」 | ク 「ごちそうさまでした。」 |

3(1)
/2

3(2)
/2

3(3)
/2

3(4)
/2

3 小計
/8

4. 次の表は大阪府が「なにわ特産品」として選定した9品目をまとめたものです。この表をみて、(1)～(5)の問いの答えを の中に書きなさい。

<なにわ特産品>

品名	生産地	旬(*)
わか 若ごぼう	やおし 八尾市	がつ 3月～4月
おおさか 大阪たけのこ	きしわだし 岸和田市 かいづかし 貝塚市 いずみし 和泉市 しまもとちょう 島本町	がつ 4月～5月
おおさか 大阪ぶどう	はびきのし 羽曳野市 かしわらし 柏原市 たいしちょう 太子町	がつ 6月～8月
おおさか 大阪みつば	かいづかし 貝塚市 いずみし 和泉市 さかいし 堺市	がつ 9月～5月
のせ 能勢ぐり	のせちょう 能勢町 とよのちょう 豊能町 みのおし 箕面市	がつ 9月～12月
えびいも	とんだばやし 富田林市	がつ 10月
おおさか 大阪みかん	いずみし 和泉市 きしわだし 岸和田市 ちはやあかさかむら 千早赤阪村	がつ 10月～12月
おおさか 大阪こまつな	さかいし 堺市 きしわだし 岸和田市 やおし 八尾市 ひがしおおさかし 東大阪市	がつ 10月～3月
しゅんぎく	さかいし 堺市 きしわだし 岸和田市 かいづかし 貝塚市	がつ 10月～3月

* 旬とは、魚・野菜・果物などの最も味のよい時期のこと。

(1) 「大阪たけのこ」を作っている市町村はいくつありますか。

(2) 「八尾市」が作っている特産品は若ごぼうと何ですか。

(3) 「えびいも」の旬は何月ですか。

(4) 7月が旬の特産品は何ですか。

(5) 品名に「大阪」がつく果物はいくつありますか。

4(1)

/3

4(2)

/3

4(3)

/3

4(4)

/3

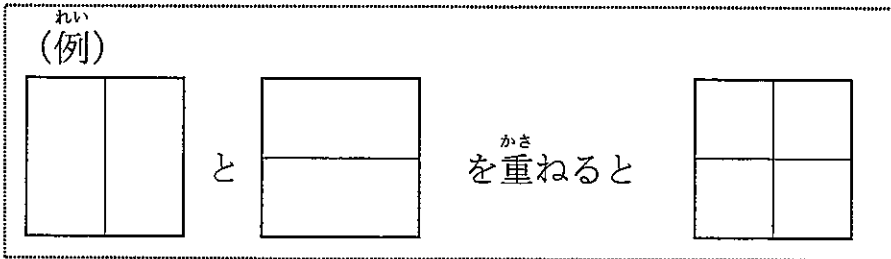
4(5)

/3

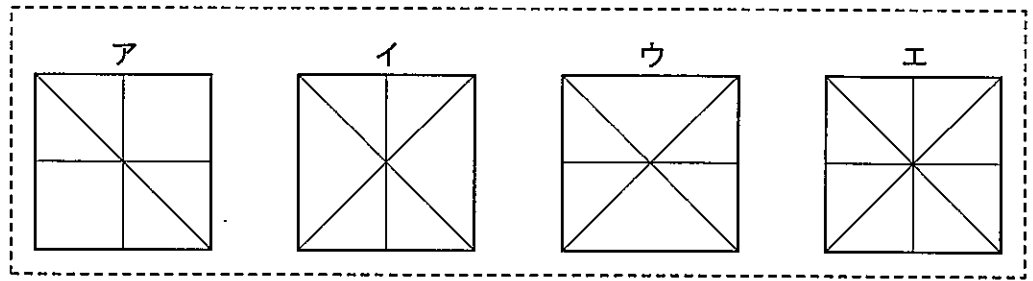
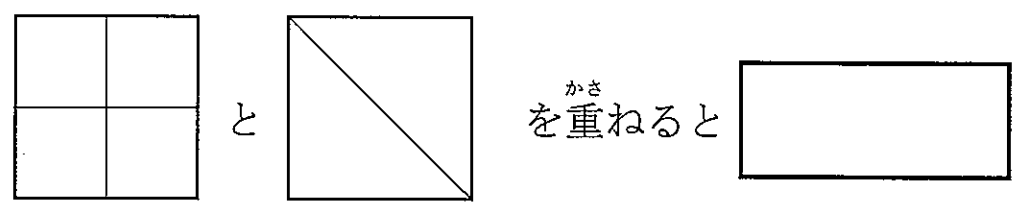
4 小計

/15

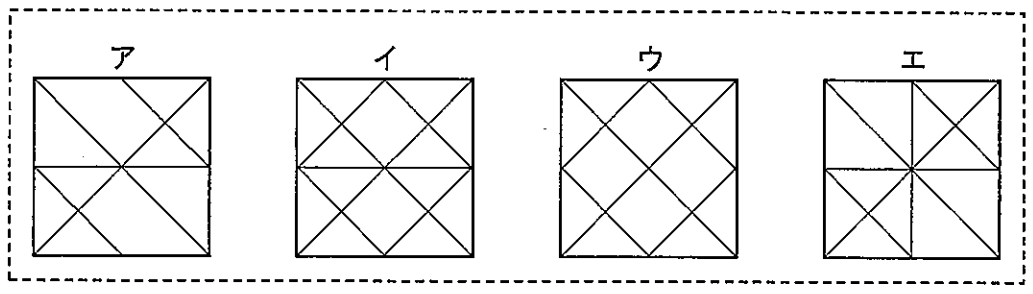
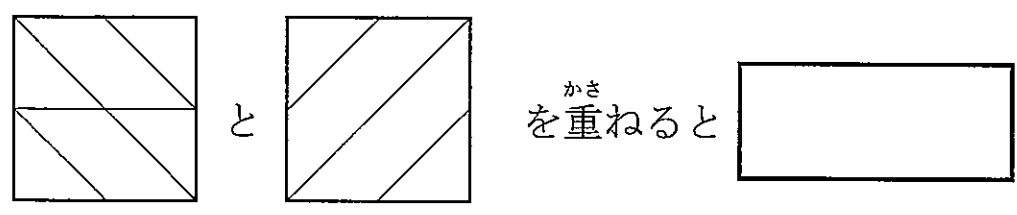
5. 2つの模様を重ねると、どのような模様になりますか。
 (例)を参考にして、(1)、(2)の問いの答えをア～エの中から
 1つずつ選び、記号を の中に書きなさい。



(1)



(2)



5(1)
/2

5(2)
/2

5 小計
/4

6. 夕食^{ゆうしょく}にカレーライス^{かつ}を作ることになりました。(1)～(3)の問いの
 答えを の中^{なか}に書^かきなさい。

(1) 家^{いえ}になかった食^{しょくざい}材^{ざい}をスーパーマーケット^かに買^かいに
 行^いきました。次^{つぎ}の表^{ひょう}の(ア)～(ウ)に入^{はい}る金^{きん}額^{がく}を書^かきなさい。

食品名 ^{しょくひんめい}	単価 ^{たんか}	買った量 ^{か りょう すう} (数)	金額 ^{きんがく}
牛肉 ^{ぎゅうにく}	240円 (100g) ^{えん}	200g	(ア)
玉ねぎ ^{たま}	60円 (1個) ^{えん こ}	2個	120円 ^{えん}
じゃがいも	50円 (1個) ^{えん こ}	2個	100円 ^{えん}
小計金額 (税抜き) ^{しょうけいきんがく ぜいぬ}			700円 ^{えん}
消費税 8% ^{しょうひぜい}			(イ)
合計金額 (税込) ^{ごうけいきんがく ぜいこみ}			756円 ^{えん}
支払った金額 ^{しはら きんがく}			1,000円 ^{えん}
おつり			(ウ)

6(1)(ア)

/3	

(ア) 円

6(1)(イ)

/3	

(イ) 円

6(1)(ウ)

/3	

(ウ) 円

- (2) 次のア～エはカレーの作り方を簡単に示したものです。
正しい順序に並べ替えなさい。

ア 鍋に水を加えて煮込む。

イ 肉・野菜を切る。

ウ 煮込んだ肉・野菜の中にカレールウを入れる。

エ 切った肉・野菜を鍋で炒める。

→	→	→
---	---	---

- (3) カレーライスができるまでに45分かかりました。
17時45分から作り始めて、カレーライスができあがった
時間は何時何分ですか。

時	分
---	---

6(2)	
	/3

6(3)	
	/3

6 小計	
	/15

7. 次の表は「おおさか百貨店」の売り場を各階ごとに示したフロアガイドです。これをみて、(1)～(6)の問いの答えを の中に書きなさい。

<フロアガイド おおさか百貨店>

8階	レストランのフロア	
7階	スポーツファッション・スポーツ用品のフロア	
6階	リビング用品・家具・インテリア用品のフロア	
5階	生活用品・時計・メガネのフロア	
4階	ベビー服・子ども服・おもちゃのフロア	
3階	紳士服・紳士肌着・紳士靴のフロア	
2階	婦人服・婦人肌着・婦人雑貨のフロア	
1階	婦人靴・アクセサリー・化粧品品のフロア	
B1階	食料品のフロア	

(1) バasketボールを買うためには、何階に行けばよいですか。

7(1)
/3

階

(2) 5階では、「生活用品」「時計」以外に何を売っていますか。

7(2)
/3

(3) フロアガイドにある次のマークは、その階に何が
あることを示していますか。

7(3)
/3

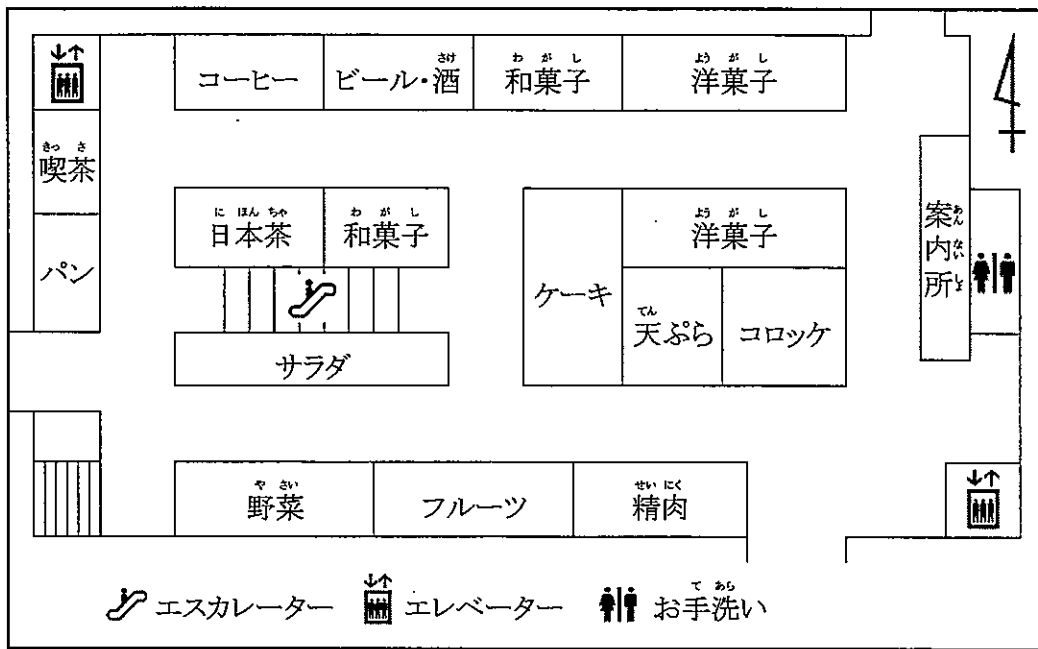


(4) フロアガイドにある次のマークは、「障がいのある人が
使える設備」を示しています。このマークがある階を
すべて書きなさい。

7(4)
/3



つぎ ず かい しょくりょうひん あんないず
 次の図は「B1階」食料品フロアの案内図です。



- (5) 2つあるエレベーターのうち、北側のエレベーターの向かいにあるのは、次のうちのどれですか。1つ選んで()に○を書きなさい。

() 「コーヒー」 () 「和菓子」 () 「お手洗い」

- (6) 案内図を説明する文で、正しくないのはどれですか。ア～エの中から1つ選び、記号を書きなさい。

- ア 「案内所」は「エスカレーター」より東にある。
 イ 「洋菓子」は3カ所ある。
 ウ 「フルーツ」は「野菜」と「精肉」との間にある。
 エ 「野菜」の向かいは「サラダ」である。

[Empty box for answer]

7(5)
/3

7(6)
/3

7 小計
/18

8. 次の表は職場体験実習のスケジュールです。この表をみて、

(1)～(5)の問いの答えを の中に書きなさい。

時間 曜日	9	10	11	12	13	14	15	16	17	場所	実習内容
月										店内フロア	カート回収
火										事務所	パソコン 入力作業
水										店内フロア	清掃
木										店内フロア	商品整理
金										倉庫	在庫確認

(1) 黒い斜線は実習の時間です。

いちばん長い時間、実習するのは
何曜日ですか。

(2) 15時に実習が終了するのは
何曜日ですか。

(3) 月曜日から金曜日まで全部で何時間
実習することになりますか。

(4) 実習先に着いてから着替えや準備に
15分かかります。火曜日は、
何時何分までに実習先に着けば
よいですか。

(5) パソコンの入力の実習です。「報告」と、
ローマ字入力で打つには、どう入力したらよいですか。
ローマ字で書きなさい。

8(1)
/2

8(2)
/2

8(3)
/2

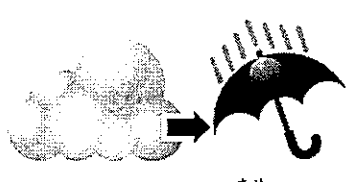
8(4)
/2

8(5)
/2

8 小計
/10

9. 次の図は、ある地域の天気予報をまとめたものです。
 この図をみて、(1)、(2)の問いの答えを の中に
 書きなさい。

<天気予報>

7月6日		
		
くもりのち雨		
きおん 気温	さいてい 最低22℃	さいこう 最高28℃
こうすい 降水 かくりつ 確率	(06-12) 30%	(12-18) 70%

(1) 天気予報の内容について、正しいものをア～エの中から
 1つ選び、記号を書きなさい。

- ア 朝から夕方まで晴れそうである。
- イ 朝は雨で、その後は曇りそうである。
- ウ 朝は曇りで、その後は雨が降りそうである。
- エ 朝は曇りで、その後は晴れそうである。

(2) この天気予報は、何月のものですか。ア～エの英語の中から
 1つ選び、記号を書きなさい。

- ア April
- イ July
- ウ August
- エ September


9(1)	
	/3

9(2)	
	/3

9 小計	
	/6

10. 次の写真は満開に咲いた桜の花です。「桜」をテーマにした文章を横書きで書きなさい。

ただし文字数は50字以上80字以内、「、」や「。」は1文字とします。



ここから書きなさい。



50

80

平成27年度 大阪府立知的障がい高等支援学校職業学科入学者選抜
適性検査(筆答)の解答例及び配点

大問番号	出題の内容	小計	小問番号	配点	解答例	採点基準及び部分点など
1	日常生活で使うことばをひらがなで正しく書く。	8	(1)	2	(お)はようございま(す)	* 全てのマスにひらがなが1字ずつ書いてあるものを採点対象とする。 * (2)は、「なたさま」も正解とする。
			(2)	2	(ど)ちらさま(で)す(か)	
			(3)	2	(も)うしわけ(あ)りませ(ん)	
			(4)	2	(お)さきに(し)つれいしま(す)	
2	カタカナを正しく書く。	6	(1)	2	ピアノ	* 全てのマスにカタカナが1字ずつ書いてあるものを採点対象とする。 * 「ッ」は、他の文字に比べて小さい場合に正解とする。
			(2)	2	ラケット	
			(3)	2	バナナ	
3	日常生活の場面と使うことばを組み合わせる。	8	(1)	2	ウ	* 記号を1つ書いてあるもののみ採点対象とする。
			(2)	2	ク	
			(3)	2	ア	
			(4)	2	オ	
4	表を読み取る。	15	(1)	3	4つ	* ひらがな、カタカナは正解とする。 * 漢数字でもよい。 * (1)は、「つ」はなくてもよい。また、「よつつ」も正解とする。 * (2)、(4)は、「大阪」がなくても正解とする。 * (5)は、「つ」はなくてもよい。また、「ふたつ」も正解とする。
			(2)	3	大阪こまつな	
			(3)	3	10(月)	
			(4)	3	大阪ぶどう	
			(5)	3	2つ	
5	図形の情報を読み取る。	4	(1)	2	ア	記号を一つ書いてあるもののみ採点対象とする。
			(2)	2	イ	
6	表を読み取る。	15	(1)(ア)	3	480(円)	* (1)は、アラビア数字を正解とする。 * (2)は、部分点はなし。 * (3)は、「午後(pm)6時30分」も正解とする。また、漢数字でもよい。
			(1)(イ)	3	56(円)	
			(1)(ウ)	3	244(円)	
			(2)	3	イ(→)エ(→)ア(→)ウ	
			(3)	3	18(時)30(分)	
7	フロアガイドや店内案内図を読み取る。	18	(1)	3	7(階)	* ひらがな、カタカナは正解とする。 * 漢数字でもよい。 * (3)は、「公衆電話」も正解とする。 * (4)は、部分点はなし。ただし、順番は問わない。また、「階」はなくてもよい。 * (5)は、○が2つ以上ある場合は不正解とする。 * (6)は、記号を1つ書いてあるもののみ採点対象とする。
			(2)	3	メガネ	
			(3)	3	電話	
			(4)	3	1階、4階、8階	
			(5)	3	(○)コーヒー	
			(6)	3	イ	
8	スケジュールを読み取る。	10	(1)	2	水(曜日)	* ひらがな、カタカナは正解とする。 * 漢数字でもよい。 * (5)は、「ko」は「co」、「ku」は「cu」「qu」も正解とする。大文字で書かれている場合も正解とする。
			(2)	2	月(曜日)	
			(3)	2	29(時間)	
			(4)	2	9(時)45(分)	
			(5)	2	houkoku	
9	天気予報の情報を読み取る。	6	(1)	3	ウ	* 記号を1つ書いてあるもののみ採点対象とする。
			(2)	3	イ	
10	与えられたテーマについて文章を書く。	10		10		* 10点満点とし、以下の観点で採点する。 ○内容:6点 ○表記:4点
合計		100		100		






てきせいけん さ さぎょう
適性検査 (作業)

けん さ 査 ふうとう し わ さぎょう
「封筒の仕分け作業」

か だい 題 てきせいけん さ さぎょう しじしょ したが あてさき しょうふうとう
【適性検査 (作業) 指示書】に従い、宛先シールを小封筒に
は かみ お しょうふうとう い
貼り、紙を折って小封筒に入れ、ダブルクリップでとめて、
あてさき し し わ だいふうとう い
宛先市ごとに仕分けて、大封筒に入れる。

じ かん 時間 ふん
5分

ぶ 部 ひん 品

かみ 紙		まい 12枚
しょうふうとう 小封筒		まい 12枚
だいふうとう 大封筒		まい 6枚
あてさき 宛先シール		1シート
ダブルクリップ		こ 12個