

| |
|------------------|
| じゅけんばんごう 受験番号 |
| |

| |
|------|
| 合 計 |
| |
| /100 |

れい わ ねん ど
令和2年度

おおさか ふりつ ち てきしょう こうとう し えんがっこうしょくぎょうがっ か
大阪府立知的障がい高等支援学校職業学科

てきせいけん さ もん だ い ひつと う
適性検査問題 (筆答)

ちゅうい じこう
【注意事項】

- 「はじめなさい。」の放送があるまで、問題用紙を開いてはいけません。
- 検査が終わるまで、席を離れてはいけません。気分が悪くなったり、トイレに行きたくなったりしたら、黙って手をあげなさい。
- 床に落ちたものは、試験監督が拾います。自分で拾ってはいけません。
- 問題の内容に関する質問はできません。
- 周りの人の解答を見たり、聞いたりしてはいけません。
- 印刷された文字などが見えにくいときや、ページが抜けているときなどは、黙って手をあげなさい。
- 問題用紙の端の網かけ部分には、何も書いてはいけません。

けんさ せつめい
【検査の説明】

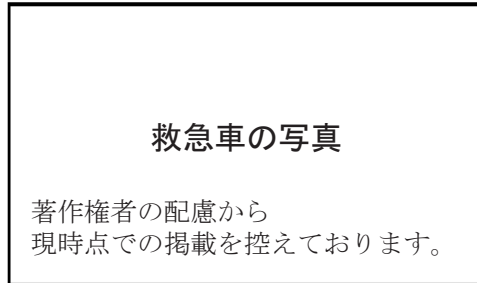
- 検査時間は40分間です。
- 検査は、問題1から問題10まであります。
- 「はじめなさい。」の放送があってから、はじめなさい。
- 検査が終了する5分前に、「あと5分です。」と放送があります。
- 「やめなさい。」の放送があれば、筆記用具を置き、静かに待ちなさい。
- 受験番号の欄に、自分の受験番号を書きなさい。書き終わったら、筆記用具を置き、「はじめなさい。」の放送があるまで、静かに待ちなさい。

1. 次の(1)～(3)の答えを、1字ずつ

| |
|--|
| |
|--|

 の中に書きなさい。

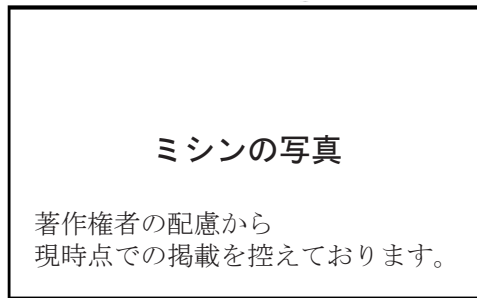
(1) けが^{にん}人や病人^{びょうにん}などを病院^{びょういん}に運ぶ^{はこ}ための、この自動車^{じどうしゃ}の名前^{なまえ}をひらがな^かで書きなさい。



| | | | | | | | |
|--|--|--|--|--|--|--|--|
| | | | | | | | |
|--|--|--|--|--|--|--|--|

| | |
|------|----|
| 1(1) | |
| | /1 |

(2) 布^{ぬの}や革^{かわ}などを縫^ぬい合^あわせるための、この機械^{きかい}の名前^{なまえ}をカタカナ^かで書きなさい。



| | | |
|--|--|--|
| | | |
|--|--|--|

| | |
|------|----|
| 1(2) | |
| | /1 |

(3) 次の①～③の漢字^{かんじ}の読み^よをひらがな^かで書きなさい。

① 手紙

| | | |
|--|--|--|
| | | |
|--|--|--|

| | |
|-------|----|
| 1(3)① | |
| | /2 |

② 調理室

| | | | | | |
|--|--|--|--|--|--|
| | | | | | |
|--|--|--|--|--|--|

| | |
|-------|----|
| 1(3)② | |
| | /2 |

③ 予防接種

| | | | | | | | |
|--|--|--|--|--|--|--|--|
| | | | | | | | |
|--|--|--|--|--|--|--|--|

| | |
|-------|----|
| 1(3)③ | |
| | /2 |

| | |
|------|----|
| 1 小計 | |
| | /8 |

2. 次の (1)、(2) の文と、(3) のことわざの に

当てはまる最も適していることばを、 の中から一つ選び、

() の中に○を書きなさい。

(1) 「今日は午後から雨が降るだろうと聞いた 、
傘を持って出かけることにした。」

() のが () ので

() のに () のは

(2) 「晩ご飯がカレーライスのはきは、いつもおかわりをする。

、今日はおかわりをしなかった。」

() けれども () たとえば

() ところで () なぜなら

(3) 「ちりも 山となる」

() 埋めれば () 捨てれば

() 積みれば () 飛ばせば

2(1)

/2

2(2)

/2

2(3)

/2

2 小計

/6

もんだい つぎ つづ
問題は次のページに続きます。

まい
1枚めくって、
つぎ
次のページにすすみなさい。

3. 次の文章は、ある日のあきこさんの【日記】です。【日記】を
読んで、(1)～(3)の問いに答えなさい。

【日記】

今日は、さくらさんと一緒に動物園に行きました。地下鉄の駅の改札口で午後2時に①待ち合わせをしました。

動物園に着くと、初めに「サバンナエリア」に行きました。残念ながらゾウを見ることはできませんでしたが、キリンとサイとシマウマを見ることができました。

そのあと、「ふれあい広場」に行きました。「ふれあい広場」では、ウサギを見ました。ウサギを触ると、毛がふさふさしていて、気持ちよかったです。

園内には、たくさんの外国人旅行者がいました。私たちが「コアラ館」でコアラを見ているときに、②ある外国人旅行者が英語で話しかけてきました。緊張しましたが、うまく答えられてよかったです。

最後に、「鳥の森」でフクロウを見て、動物園を出ました。

③今日はたくさんの動物を見ました。いままで知らなかった動物もいたので、とても楽しかったです。また今度は、妹と一緒にいきたいです。

- (1) 下線部①について、あきこさんとさくらさんは、どこで待ち合わせをしましたか。【日記】から漢字を含めて9字で抜き出し、
□の中に答えを書きなさい。
なお、漢字のふりがなを書く必要はありません。

| | | | | | | | | | |
|--|--|--|--|--|--|--|--|--|--|
| | | | | | | | | | |
|--|--|--|--|--|--|--|--|--|--|

(2) ^{かせんぶ}下線部②について、ある^{がいこくじんりょこうしゃ}外国人旅行者と、次のような^{つぎ}会話^{かいわ}をしました。**【会話文】**を読んで、**【問い】**に答えなさい。

^{かいわぶん}**【会話文】**

^{がいこくじんりょこうしゃ} 外国人旅行者 : ^{デイス} This ^{ズー} zoo ^{クローズ} closes ^{アット} at ^{ファイブ} five!

^{ホワット} What ^{タイム} time ^{イズ} is ^{イット} it ^{ナウ} now?


^{イット} あきこ : ^{イズ} It ^{フォー} is ^{サーティ} four ^{サーティ} thirty.

^{がいこくじんりょこうしゃ} 外国人旅行者 : ^{サンキュー} Thank you.

^{ちゆう}(注) ^{デイス} this ^{ズー} zoo ^{どうぶつえん} この動物園 ^{クローズ} closes ^し 閉まる

【問い】 ^と あきこさんは、^{がいこくじんりょこうしゃ}外国人旅行者に^{なんじ}何時と^{こた}答えましたか。

あきこさんが^{こた}答えた^{じこく}時刻を^{しめ}示しているものを、 の
中から^{ひと}一つ^{えら}選び、() に^か○を書きなさい。



(3) ^{かせんぶ}下線部③について、^{につぎ}【日記】から、あきこさんがこの^ひ日に
^{なんしゆるい}何種類^{どうぶつ}の動物^みを見たことがわかりますか。 ^{なか}の中に
^{こた}答え^かを書きなさい。

種類

| |
|------|
| 3(2) |
| /3 |

| |
|------|
| 3(3) |
| /3 |

| |
|------|
| 3 小計 |
| /8 |

4. 次の(1)～(3)の□の中には数字を書き、(4)～(6)の□の中には四則計算の記号(+、-、×、÷)を書き、式を完成させなさい。

| | | |
|------|--|--|
| 4(1) | | |
| | | |
| /1 | | |

(1) $21 - 16 = \square$

| | | |
|------|--|--|
| 4(2) | | |
| | | |
| /1 | | |

(2) $8 \times \square = 72$

| | | |
|------|--|--|
| 4(3) | | |
| | | |
| /2 | | |

(3) $90 \div 15 = \square$

| | | |
|------|--|--|
| 4(4) | | |
| | | |
| /2 | | |

(4) $(25 - 7) \square 6 = 3$


| | | |
|------|--|--|
| 4(5) | | |
| | | |
| /2 | | |

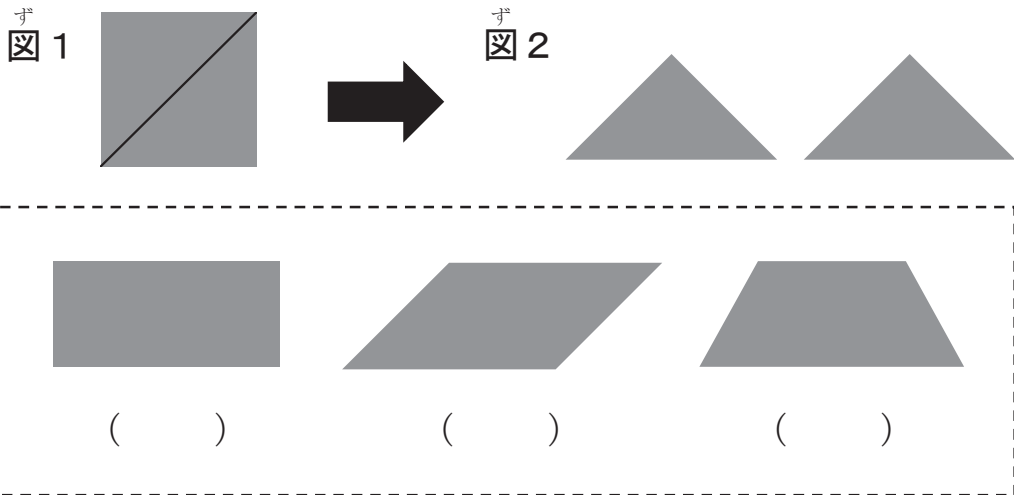
(5) $(12 \square 4) \times 7 = 56$


| | | |
|------|--|--|
| 4(6) | | |
| | | |
| /2 | | |

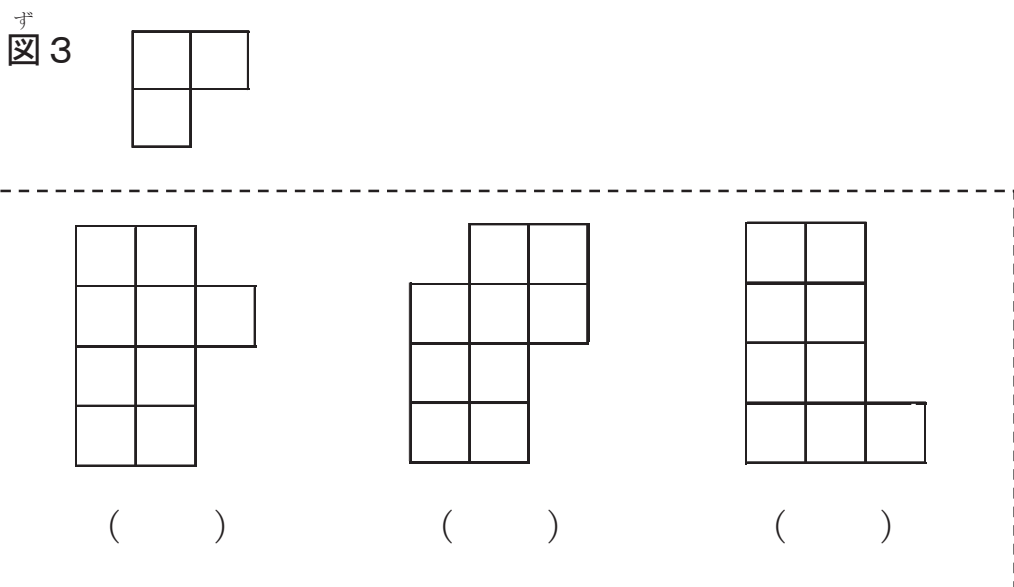
(6) $60 \div (8 \square 4) = 5$

5. 次の (1)、(2) の問いに答えなさい。

- (1) 図1のように正方形を斜めに切って、図2のように三角形を2つ作ります。図2の2つの三角形をぴったり組み合わせて作ることができる図形を、の中から一つ選び、
() の中に○を書きなさい。



- (2) 図3の図形を3つ組み合わせて、図形を作ります。
作ることができない図形を、の中から一つ選び、
() の中に○を書きなさい。



| |
|------|
| 5(1) |
| /4 |

| |
|------|
| 5(2) |
| /4 |

| |
|------|
| 5 小計 |
| /8 |

6. 次の【表】は、2009年から2018年のA市の年平均気温を示しています。この【表】を見て、(1)～(4)の問いに答えなさい。

【表】 A市の年平均気温 (2009年～2018年)

| 年 | 2009 | 2010 | 2011 | 2012 | 2013 | 2014 | 2015 | 2016 | 2017 | 2018 |
|------------|------|------|------|------|------|------|------|------|------|------|
| 気温 (°C) | 17.1 | 17.3 | 16.9 | 16.6 | 17.1 | 16.7 | 17.5 | 17.7 | 16.8 | 17.4 |

* 年平均気温 … 一年間の平均気温

(1) 年平均気温が最も低い年は、何年ですか。 の中に
答えを書きなさい。

| |
|------|
| 6(1) |
| /2 |

 年

(2) 2014年と2016年では、どちらの年平均気温の方が、何°C高い
ですか。 の中に答えを書きなさい。

| |
|------|
| 6(2) |
| /2 |

 年の方が °C高い

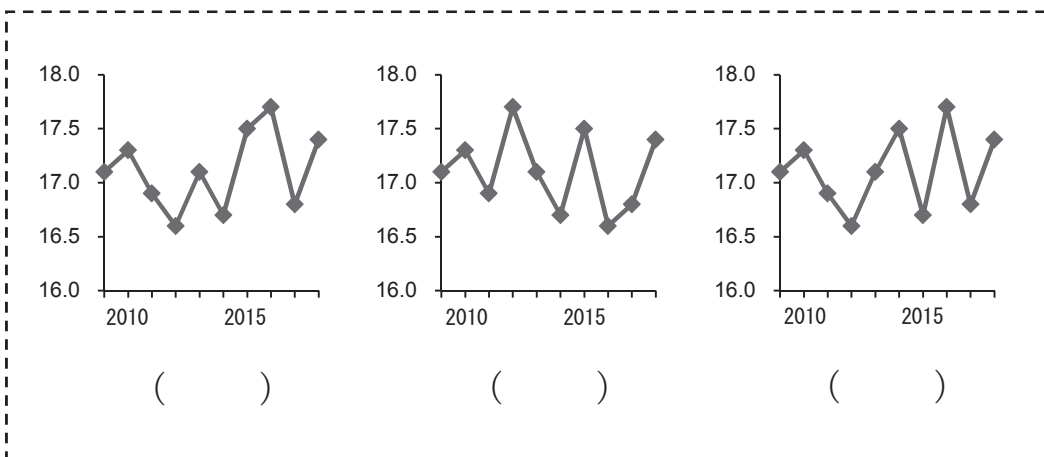
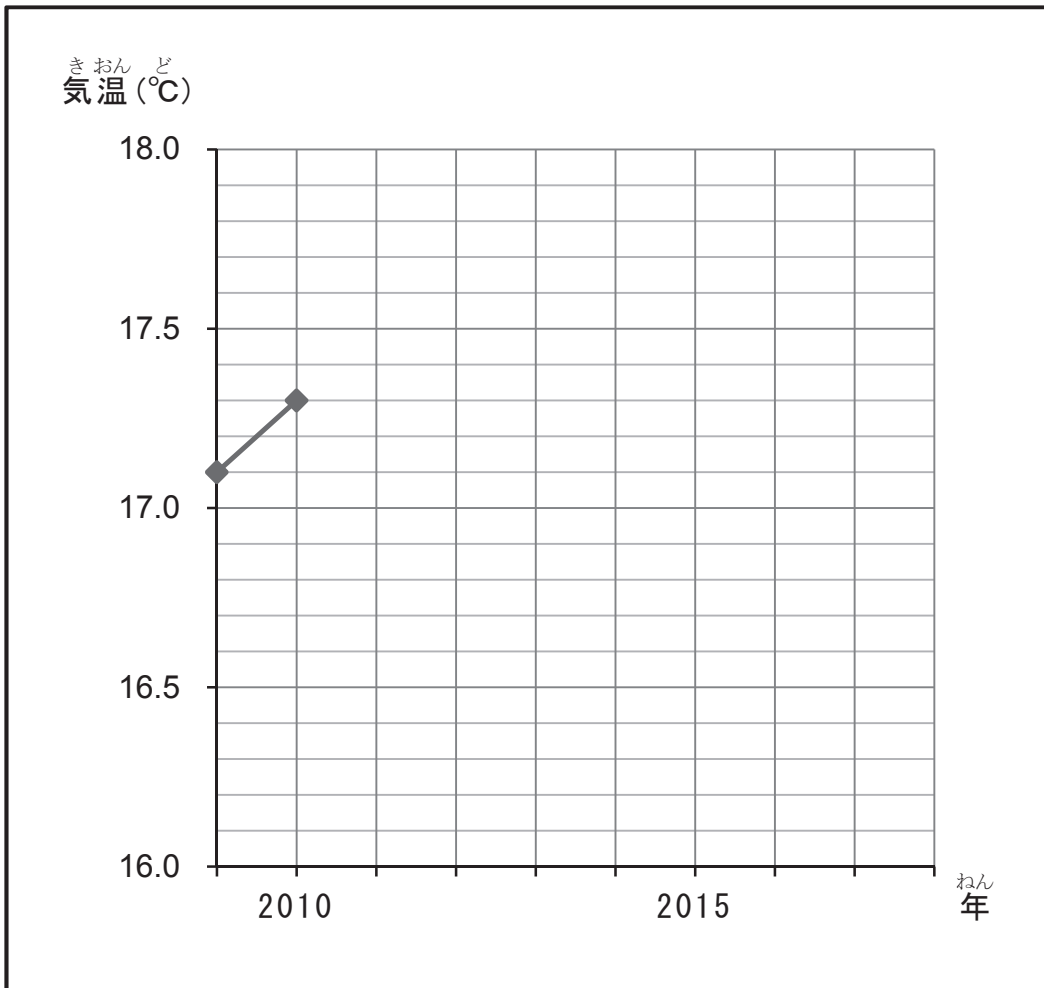
(3) 年平均気温が前年と比べて上がった年は何回ありますか。
 の中に答えを書きなさい。

| |
|------|
| 6(3) |
| /3 |

 回

- (4) この【表】から次の【グラフ】を完成させるとき、
 完成したグラフを表したものとして最も適しているものを、
 あとの の中から一つ選び、() の中に○を書きなさい。

【グラフ】 A市の年平均気温 (2009年～2018年)



7. 次の表は、くみさんが春休みに参加する団体旅行の【旅程表】
 です。あとの(1)、(2)の問いに答えなさい。

【旅程表】

| ひづけ 日付 | じこく 時刻 | ないよう 内容 《 》は移動手段を表します |
|--------------------|----------------------------------------------------------------------------------------|----------------------------------------------------------------------------------------------------------------------------------------------------------------------------------------------------|
| がつ 3月27日 にち (金) | ごぜん 午前 7時45分 じ 8時45分 ふん じ 10時30分 ふん じ 11時50分 ふん ごご 午後 3時15分 ふん | くこうしゅうごう みかさ空港集合 くこうしゅつぱつ みかさ空港出発 ひこうき 《飛行機》 くこうとうちやく やまなみ空港到着 《バス・ロープウェー》 さんちようさんさく ちゅうしょく ぶんかん * みどりやま山頂散策・昼食 (180分間) 《ロープウェー》 おんせんとうちやく みどりやま温泉到着 [ホテル泊] |
| がつ 3月28日 にち (土) | ごぜん 午前 9時30分 ふん じ 11時30分 ふん ごご 午後 4時20分 ふん | しゅつぱつ ホテル出発 《バス》 ぼくじょうけんがく ちゅうしょく ぶんかん * 牧場見学・昼食 (180分間) 《バス》 おんせんとうちやく ゆたに温泉到着 [ホテル泊] |
| がつ 3月29日 にち (日) | ごぜん 午前 9時30分 ふん じ 11時15分 ふん ごご 午後 4時50分 ふん じ 6時30分 ふん | しゅつぱつ ホテル出発 《バス》 すいぞくかんけんがく ちゅうしょく ぶんかん * 水族館見学・昼食 (120分間) 《バス》 くこうしゅつぱつ やまなみ空港出発 ひこうき 《飛行機》 くこうとうちやく かいさん みかさ空港到着、解散 |

(1) 【旅程表】を見て、①～④の問いの答えを の中に
書きなさい。

① くみさんが参加するこの団体旅行は、何泊の予定ですか。

| | |
|--|---|
| | 泊 |
|--|---|

| | |
|-------|----|
| 7(1)① | |
| | /2 |

② 一日目に、みどりやま山頂からみどりやま温泉まで行くとき
の移動手段は何ですか。

| | |
|-------|----|
| 7(1)② | |
| | /2 |

③ 二日目の牧場見学・昼食は、午後何時何分に終わる予定
ですか。

| | | |
|----|---|---|
| 午後 | 時 | 分 |
|----|---|---|

| | |
|-------|----|
| 7(1)③ | |
| | /3 |

④ 三日目に、やまなみ空港を飛行機で出発してからみかさ空港
に到着するまで、何時間何分かかかる予定ですか。

| | |
|----|---|
| 時間 | 分 |
|----|---|

| | |
|-------|----|
| 7(1)④ | |
| | /3 |

(2) くみさんは、火災や地震などのときに逃げ出すための
「非常口」をホテルで確認しようと思います。「非常口」を
表しているものを の中から一つ選び、() の中
に○を書きなさい。

| | | |
|-----------------------------------------------------------------------------------------------------------------|-----------------------------------------------------------------------------------------------------------------|-------------------------------------------------------------------------------------------------------------------|
|  <input type="checkbox"/> |  <input type="checkbox"/> |  <input type="checkbox"/> |
|-----------------------------------------------------------------------------------------------------------------|-----------------------------------------------------------------------------------------------------------------|-------------------------------------------------------------------------------------------------------------------|

| | |
|------|----|
| 7(2) | |
| | /2 |

| | |
|------|-----|
| 7 小計 | |
| | /12 |

8. 次の【料金表】は、大阪からいくつかの地方に荷物を送るとき
の料金を示しています。この【料金表】を見て、(1)～(4)の
問いに答えなさい。

【料金表】(差出地：大阪)

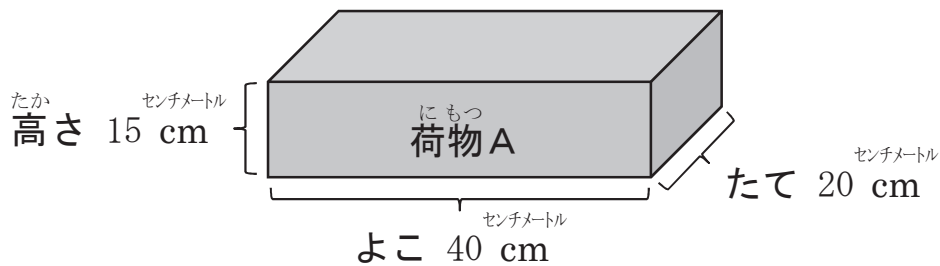
| 荷物 サイズ* | たて・よこ・高さ の合計 | 送り先 | | | | |
|------------|-----------------|-------|-------|-------|-------|-------|
| | | 九州 | 関西 | 関東 | 東北 | 北海道 |
| 60 サイズ | 60 cm 以下 | 950円 | 850円 | 900円 | 1100円 | 1600円 |
| 80 サイズ | 80 cm 以下 | 1150円 | 1050円 | 1100円 | 1300円 | 1800円 |
| 100 サイズ | 100 cm 以下 | 1350円 | 1250円 | 1300円 | 1500円 | 2000円 |
| 120 サイズ | 120 cm 以下 | 1550円 | 1450円 | 1500円 | 1700円 | 2200円 |

(料金は、すべて税込み)

* 荷物サイズに関する説明

荷物サイズは、荷物の3辺(たて・よこ・高さ)の長さの合計で
決まります。例えば、たて+よこ+高さ=90 cmの荷物の場合は、
たて・よこ・高さの合計が100 cm以下に当てはまるので、
荷物サイズは100サイズになります。

- (1) 次の荷物Aの荷物サイズを の中から一つ選び、
() の中に○を書きなさい。



() 60 サイズ () 80 サイズ () 100 サイズ

(2) まさとさんは、120サイズの荷物^{にもつ おおさか}を大阪から北海道^{ほっかいどう}に送^{おく}ることにしました。このときの料金^{りょうきん}はいくらですか。

^{なか こた か}の中に答えを書きなさい。

| |
|---|
| 円 |
|---|

| | |
|------|--|
| 8(2) | |
| /3 | |

(3) まさとさんは、60サイズの荷物^{にもつ おおさか}を大阪から東北^{とうほく}に送^{おく}ることにしました。料金^{りょうきん}を支払^{しはら}うために、1000円札^{えんさつ}を2枚出^{まいだ}した場合^{ばあい}、お釣^つりはいくらですか。 ^{なか こた か}の中に答えを書きなさい。

| |
|---|
| 円 |
|---|

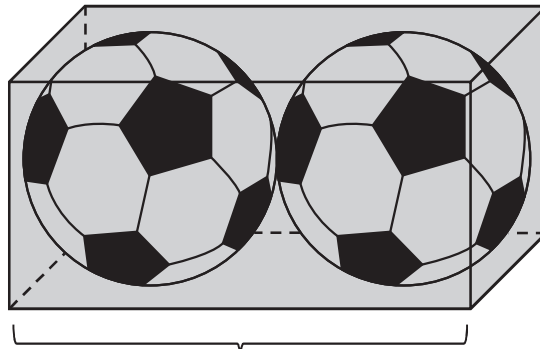
| | |
|------|--|
| 8(3) | |
| /4 | |

(4) まさとさんは、同じ大きさ^{おな おお}のサッカーボールを2個^こ、**【図】**のように箱^{はこ}にぴったり入^いれて、大阪^{おおさか}から九州^{きゅうしゅう}に送^{おく}ることにしました。このときの料金^{りょうきん}はいくらですか。

^{なか こた か}の中に答えを書きなさい。

ただし、箱^{はこ}の厚^{あつ}さは考^{かんが}えないものとします。

^ず
【図】




センチメートル
44 cm

| |
|---|
| 円 |
|---|

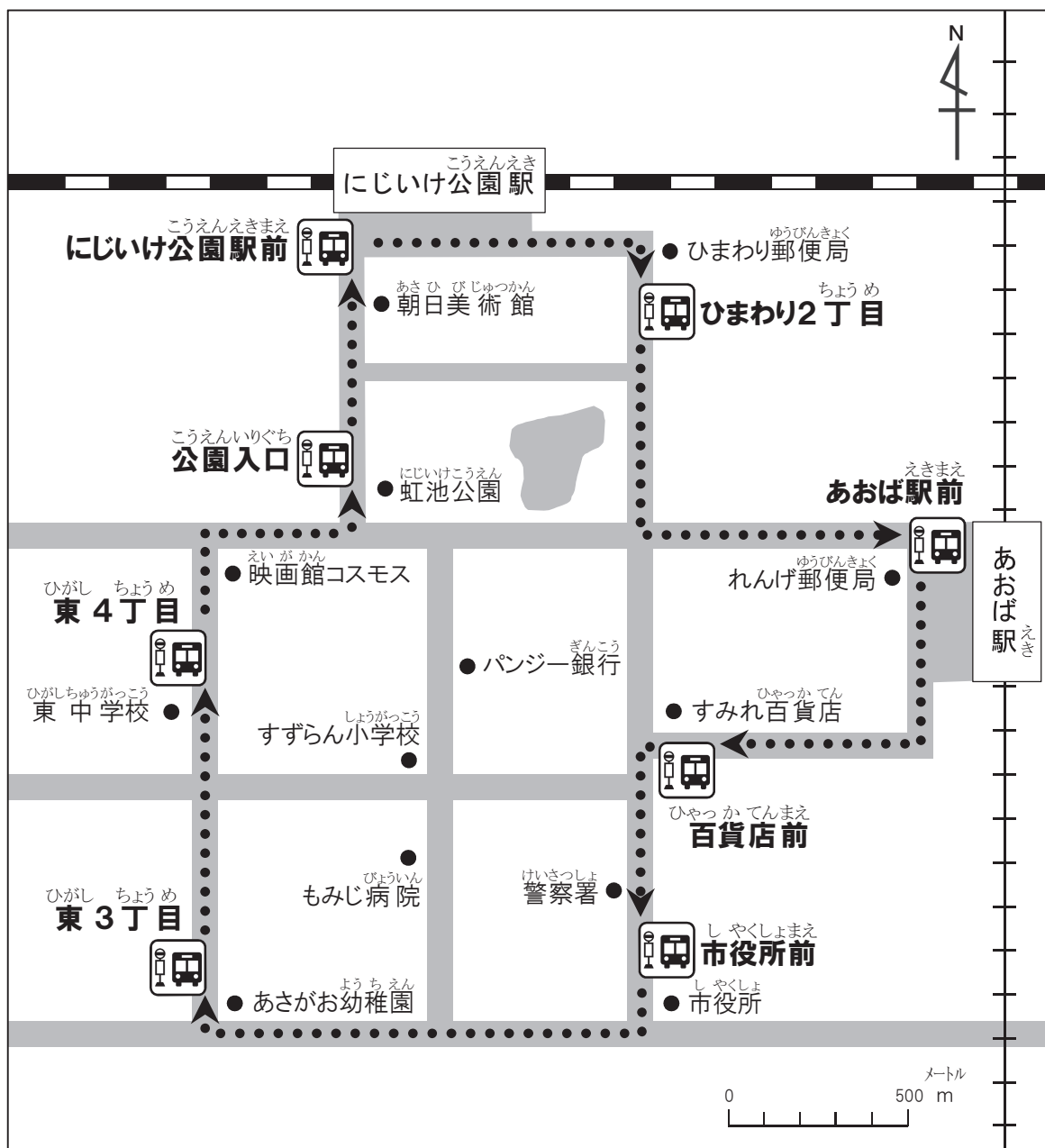
| | |
|------|--|
| 8(4) | |
| /5 | |

| | |
|------|--|
| 8 小計 | |
| /14 | |

9. 次の【地図】を見て、(1)～(4)の問いに答えなさい。

なお、図の中の……➡は、この町を走るバスが通る道と方向を表し、はバス停を表しています。

ちず
【地図】



- (1) れんげ郵便局ゆうびんきょくに最も近いバス停もつと ちかの名前を の中なかに
書きなさい。

| |
|-----|
| バス停 |
|-----|

| | |
|------|--|
| 9(1) | |
| /2 | |

- (2) あさが幼稚園ようちえんから映画館えいがかんコスモスまでの距離きょりは、
1200mです。1200mをkmで表すと、何kmになりますか。
小数点しょうすうてんを使って、答えを の中なかに書きなさい。

| |
|----|
| km |
|----|

| | |
|------|--|
| 9(2) | |
| /3 | |

- (3) すずらん小学校しゅうがっこうの南側みなみがわにあるものを の中なかから一つ
選えらび、() に○を書きなさい。

| | | |
|--------------------------------|------------------------------------|--------------------------------|
| () パンジー銀行 <small>ぎんこう</small> | () 東中学校 <small>ひがしちゅうがっこう</small> | () もみじ病院 <small>びょういん</small> |
|--------------------------------|------------------------------------|--------------------------------|

| | |
|------|--|
| 9(3) | |
| /3 | |

- (4) この【地図】ちずから読み取れる内容として正しいものを、
 の中なかから一つ選えらび、() に○を書きなさい。

| |
|------------------------------------------------------|
| () にじいけ公園駅前バス停は、東3丁目バス停の4つ先のバス停である。 |
| () 百貨店前バス停から市役所前バス停までバスで行くとき、警察署は進行方向に向かって右側に見えてくる。 |
| () あおば駅を通る鉄道は、東西の方向に走っている。 |

| | |
|------|--|
| 9(4) | |
| /4 | |

| | |
|------|--|
| 9 小計 | |
| /12 | |

10. 近年、外国から日本を訪れる人が増えています。

初めて日本に来た外国の人に、あなたが日本や大阪などについて紹介するとしたら、何を紹介したいですか。

あなたが紹介したいものを、次の の中に一つ書きなさい。

「私は、 を紹介したいです。」

また、なぜそのように思ったのか、あなたが考える理由を、80字以上100字以内で書きなさい。

ただし、「、」や「。」は1字とします。

ここから、横書きで書きなさい。



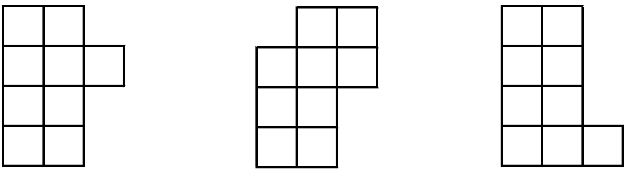
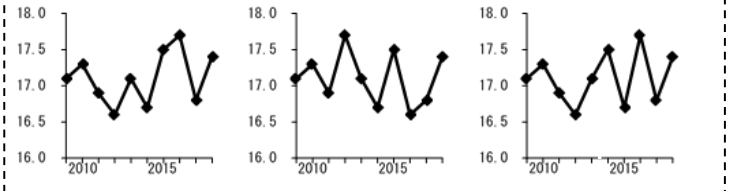

| | | | | | | | | | |
|---|--|--|--|--|--|--|--|--|--|
| ↓ | | | | | | | | | |
| | | | | | | | | | |
| | | | | | | | | | |
| | | | | | | | | | |
| | | | | | | | | | |
| | | | | | | | | | |
| | | | | | | | | | |
| | | | | | | | | | |
| | | | | | | | | | |
| | | | | | | | | | |

80

100

もんだい
問題はここまです。

令和2年度 大阪府立知的障がい高等支援学校職業学科
適性検査問題(筆答)の解答例及び配点

| 大問番号 | 出題の内容 | 小計 | 小問番号 | 配点 | 解答例 | 採点基準及び部分点など |
|------|------------------------------------------------------|-----|------|-----|-----------------------------------------------------------------------------------------------------------------------------|--------------------------------------------------------------------------------------------------|
| 1 | 名称をひらがなやカタカナで正しく書く。 日常生活で使われる簡単な漢字を読む。 | 8 | (1) | 1 | きゅうきゅうしゃ | * 全てのマスにひらがな、カタカナが1字ずつ書いてあるものを採点対象とする。 * (1)「ゆ」「や」、(3)②の「よ」、(3)③の「つ」「ゆ」は、他の文字と比べて小さい場合に正解とする。 |
| | | | (2) | 1 | ミシン | |
| | | | (3)① | 2 | てがみ | |
| | | | (3)② | 2 | ちょうりつ | |
| | | | (3)③ | 2 | よぼうせつしゅ | |
| 2 | 適切な助詞や接続詞を用いて文を完成させる。 日常生活で使われる簡単な慣用句やことわざを完成させる。 | 6 | (1) | 2 | () のが (○) ので () のに () のは | |
| | | | (2) | 2 | (○) けれども () たとえば () ところで () なぜなら | |
| | | | (3) | 2 | () 埋めれば () 捨てれば (○) 積もれば () 飛ばせば | |
| 3 | 文章を読み、内容を順序立てて構成する。 状況に応じた文章を読みとる。 | 8 | (1) | 2 | 地下鉄の駅の改札口 | * (3)はアラビア数字、漢数字を正解とする。 |
| | | | (2) | 3 |  () (○) () | |
| | | | (3) | 3 | 6 (種類) | |
| 4 | 四則計算の意味を理解し、簡単な計算を行う。 | 10 | (1) | 1 | 5 | * (1)～(3)はアラビア数字、漢数字を正解とする。 * (4)～(6)は記号のみを正解とする。 |
| | | | (2) | 1 | 9 | |
| | | | (3) | 2 | 6 | |
| | | | (4) | 2 | ÷ | |
| | | | (5) | 2 | — | |
| | | | (6) | 2 | + | |
| 5 | 示された図形や立体図等から、形の特徴や違い、位置関係をとらえる。 | 8 | (1) | 4 |  () (○) () | |
| | | | (2) | 4 |  () () (○) | |
| 6 | 示された表やグラフなどの特徴や全体の傾向を読み取る。 | 12 | (1) | 2 | 2012 (年) | * (1)～(3)はアラビア数字、漢数字を正解とする。 * (2)は「1(°C高い)」も正解とする。完答で2点とする。 |
| | | | (2) | 2 | 2016 (年の方が) 1.0 (°C高い) | |
| | | | (3) | 3 | 5 (回) | |
| | | | (4) | 5 |  (○) () () | |
| 7 | スケジュール表などの情報を読み取り、予定をたてる。 | 12 | (1)① | 2 | 2 (泊) | * (1)①、(1)③、(1)④はアラビア数字、漢数字を正解とする。 * (1)②はひらがなも正解とする。 |
| | | | (1)② | 2 | ロープウェー | |
| | | | (1)③ | 3 | (午後) 2 (時) 30 (分) | |
| | | | (1)④ | 3 | 1 (時間) 40 (分) | |
| | | | (2) | 2 |  () () (○) | |
| 8 | 示された条件で目的に合わせ、金銭の使い方を考える。 | 14 | (1) | 2 | () 60サイズ (○) 80サイズ () 100サイズ | * (2)～(4)はアラビア数字、漢数字を正解とする。 |
| | | | (2) | 3 | 2200 (円) | |
| | | | (3) | 4 | 900 (円) | |
| | | | (4) | 5 | 1350 (円) | |
| 9 | 地図などから必要と考える情報を読み取り各自の日常生活に照らし合わせ活用を考える。 | 12 | (1) | 2 | あおば駅前 (バス停) | * (1)はひらがなも正解とする。 * (2)はアラビア数字、漢数字を正解とする。 |
| | | | (2) | 3 | 1.2 (km) | |
| | | | (3) | 3 | () パンジー銀行 () 東中学校 (○) もみじ病院 | |
| | | | (4) | 4 | () にじいけ公園駅前バス停は、東3丁目バス停の4つ先のバス停である。 (○) 百貨店前バス停から市役所前バス停までバスで行くとき、警察署は進行方向に向かって右側に見える。 () あおば駅を通る鉄道は、東西の方向に走っている。 | |
| 10 | 示された条件にそって自分の考えや気持ちを文章で表現する。 | 10 | | 10 | | * 10点満点とし、以下の観点で採点する。 ○ 内容: 8点 ○ 文字数: 1点 ○ 文字表記・文法等: 1点 |
| 合計 | | 100 | | 100 | | |

じゅけんばんごう
受験番号

れい わ ねん ど
令和2年度

おおさか ふりつ ち てきしょう こうとう し えんがっこうしょくぎょうがっ か
大阪府立知的障がい高等支援学校職業学科

てきせいけん さ もん だい さぎょう
適性検査問題 (作業)

ちゅうい じこう
【注意事項】

- 机の上に筆記用具を置きなさい。
- 「はじめなさい。」の合図があるまで、問題用紙を開いたり、トレーに置かれた袋をさわったりしてはいけません。
- 検査が終わるまで、席を離れてはいけません。気分が悪くなったり、トイレに行きたくなったりしたら、黙って手をあげなさい。
- 床に落ちたものは、試験監督が拾います。自分で拾ってはいけません。
- 問題の内容に関する質問はできません。
- 印刷された文字などが見えにくいときや、ページが抜けているときなどは、黙って手をあげなさい。

けんさ せつめい
【検査の説明】

- 検査時間は5分間です。
- 検査は、問題1から問題3まであります。問題3では袋の中のものを使います。
- 「はじめなさい。」の合図があってから、はじめなさい。
- 検査が終了する1分前に、「あと1分です。」と合図があります。
- 「やめなさい。」の合図があれば、作業をやめて、試験監督の指示にしたがいなさい。
- 受験番号の欄に、自分の受験番号を書きなさい。書き終わったら、筆記用具を置き、「はじめなさい。」の合図があるまで、静かに待ちなさい。

2. 鉛筆 (またはシャープペンシル) を使い、(1)、(2) について、

(例) のように、■と■をつなぐ線を枠の中に1本引きなさい。

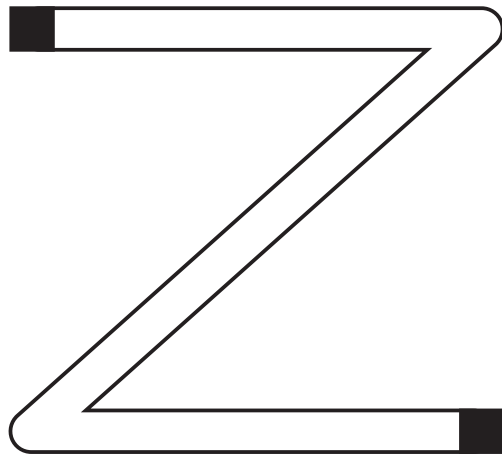
ただし、線が枠に触れたり、枠からはみ出たりしてはいけません。

なお、線を引き直すときは、元の線をきれいに消しなさい。

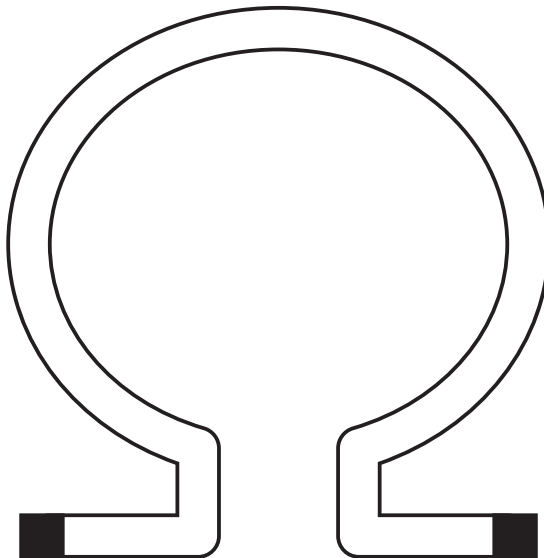
(例)



(1)



(2)




もんだい つぎ つづ
問題は、次のページに続きます。

3. トレーに置かれた袋から、シールが貼られたシートを取り出し、
次の【作業】を行いなさい。

【作業】

下の【解答欄】に示された図形と同じ模様のシールを
シートからはがして、その図形の上に一枚ずつ貼りなさい。

- *シールが枠の線に触れたり、枠からはみ出たりしてはいけません。
- *一度貼ったシールをはがしてはいけません。
- *の模様の向きは問いません。

【解答欄】

