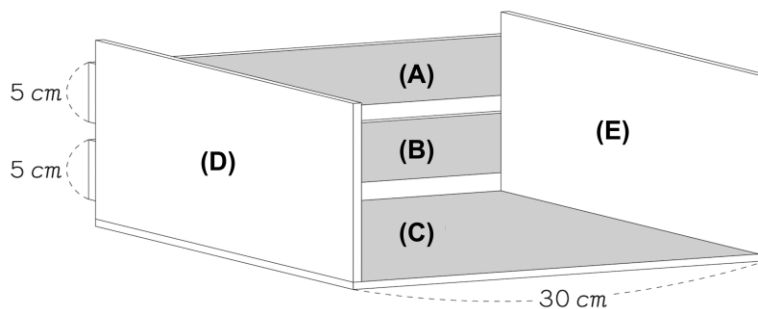


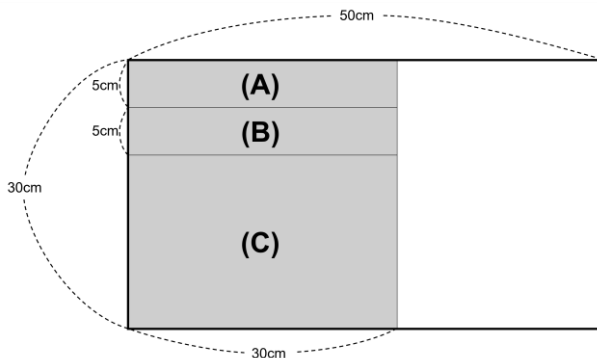
小學 6 年級 數學 2 [圖形]題目

YOSHIO 在思考要做出像下圖一樣的書架。

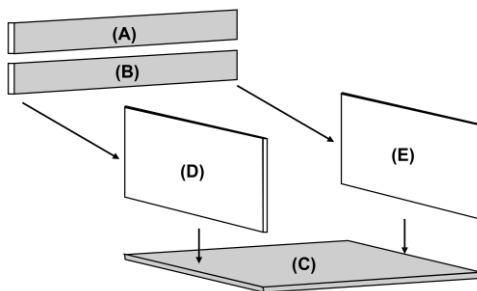


要做出書架使用的是像下圖的木板。這個木板是長 30cm、寬 50cm 的長方形。

長方形 (A)、(B)、(C) 的部分照著下圖左邊畫線的部分切開來製作。木板剩下的部分以盡量不凸出去的方式切開，做出兩個同等的長方形 (D)、(E)。



切開的五塊長方形木板照著下面的方式組裝。



(D) 是怎樣的長方形呢？使用邊長和名詞寫下來。

答案：