





Di bandar yang didiami oleh Manabu terdapat kedai kek. Harga kek gulung, kek keju, kek strawberi dan kek coklat di kedai ini adalah seperti di bawah.

			
Kek gulung 250 yen	Kek keju 300 yen	Kek strawberi 350 yen	Kek Coklat 400 yen

Pada setiap hari Ahad, [kek yang berharga lebih murah dari 320 yen, akan dijual murah dengan harga 200 yen] di kedai ini.

Pada hari Ahad, Manabu telah pergi ke kedai kek itu untuk membeli 5 biji kek. Jumlah harga untuk 5 biji kek yang diinginkan adalah 1500 yen.

Pertama sekali, Manabu telah memilih sebiji kek gulung, sebiji kek strawberi, dan sebiji kek coklat.

Untuk baki lagi 2 biji kek, dari pilihan kek gulung, kek keju, kek strawberi dan kek coklat yang manakah sepatutnya dipilih?

Tuliskan 1 sahaja jawapan yang sesuai.

Jawapan