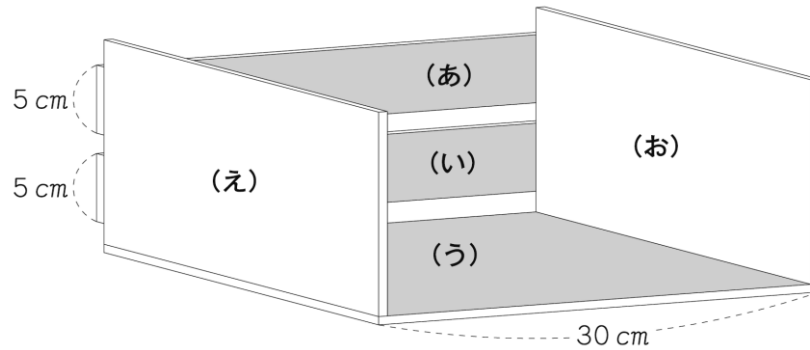




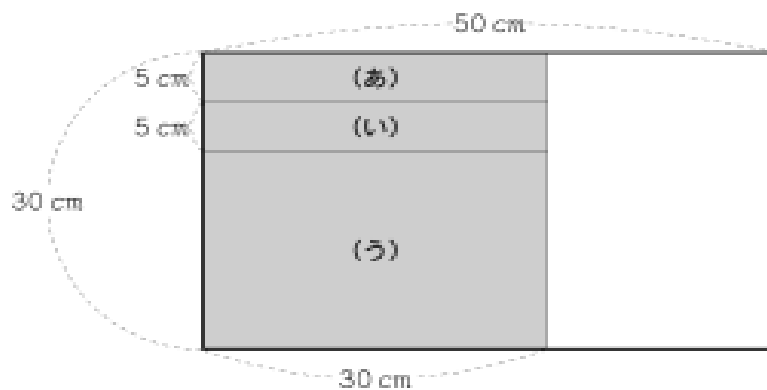
Toán lớp 6 - Bài tập 2

【Bài tập toán đố】 Đề bài

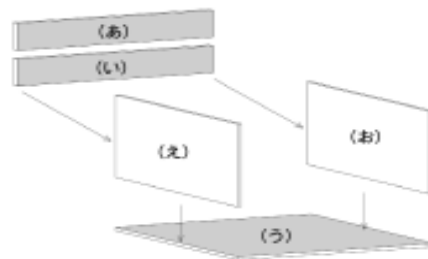
Bạn Yoshio đang suy nghĩ làm một cái giá sách như hình bên dưới.



Để thực hiện, bạn cần 1 tấm gỗ như hình dưới đây, có chiều ngang là 30cm và chiều dọc là 50cm. Bạn sẽ cắt rời các hình chữ nhật tô đậm  ký hiệu (あ), (い), (う), bạn tận dụng phần gỗ thừa màu trắng  còn lại để làm thành 2 tấm gỗ ghép mặt bên ký hiệu là (え) và (お)



Sau khi cắt xong thì bạn được 5 tấm gỗ hình chữ nhật, và bạn lắp như hình sau:



Hỏi: (え) là hình chữ nhật như thế nào? Giải thích bằng từ ngữ và cho biết kích thước các cạnh của hình.

Trả lời: