





【Số và phép tính】 Đề bài

Ở thành phố của bạn Manabu có một cửa hàng bánh. Tại đây, bánh kem cuộn, bánh phô mai, bánh dâu tây, bánh sô cô la có giá như hình dưới đây:

			
Bánh kem cuộn 250 yên	Bánh phô mai 300 yên	Bánh kem dâu 350 yên	Bánh kem sô cô la 400 yên

Ở cửa hàng này, chủ nhật là ngày giảm giá “những loại bánh có giá dưới 320 yên thì sẽ giảm còn 200 yên”.

Bạn Manabu đã đi mua 5 cái bánh vào ngày chủ nhật. Bạn muốn mua sao cho tổng số tiền của 5 cái bánh hết tròn 1.500 yên.

Đầu tiên, bạn Manabu đã chọn 1 cái bánh kem cuộn, 1 cái bánh kem dâu, 1 cái bánh kem sô cô la.

Còn lại 2 cái bánh nữa cần phải mua. Vậy, bạn Manabu có thể chọn bánh nào trong các loại bánh: bánh kem cuộn, bánh phô mai, bánh kem dâu, bánh kem sô cô la?

Em hãy ghi đáp án vào ô.

Đáp án: