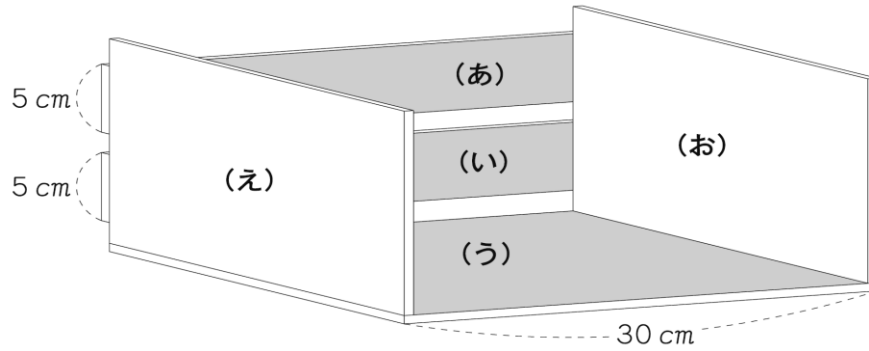




小学6年级算数2

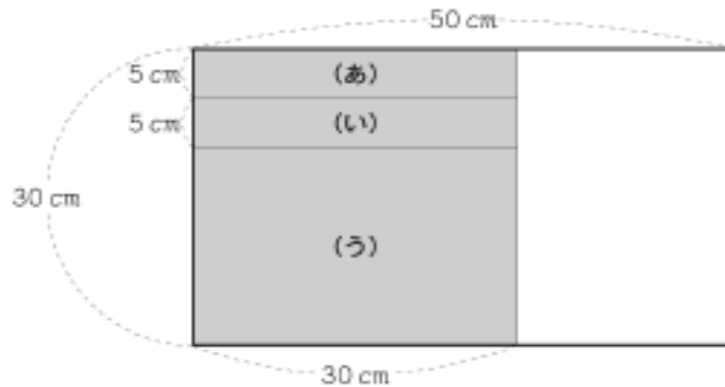
【图形】问题

Yoshio 想要做如下图所示的书架。

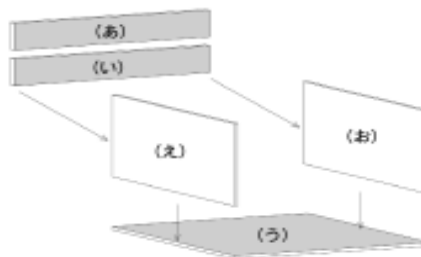


下图所示的这块木板将会被用来做这个书架。这是一块长 30cm，款 50cm 的长方形木板。

长方形左边  的部分会沿着图中的线被切割成(あ)、(い)、(う)这三个部分。接着要把木板剩下的  部分切割成为两个不会长于书架底板的全等长方形(え)、(お)。



切割下来的五个长方形木板会按照下图组装起来。



(え)是一个什么样的长方形呢？请用语言描述一下它各边的长度。

答案