





小学六年级算数 4

【数字和计算】问题

小明同学居住的城市里有一家蛋糕店。这家蛋糕店的年轮蛋糕，芝士蛋糕，草莓蛋糕，巧克力蛋糕的定价如下所示。

			
年轮蛋糕 250 元	芝士蛋糕 300 元	草莓蛋糕 350 元	巧克力蛋糕 400 元

这家蛋糕店，每周日都会有特价活动，「平时定价比 320 元低的蛋糕，一律 200 元」。

有一次周日，小明同学去蛋糕店想买 5 块蛋糕。而且他想要用正好 1500 元买这 5 块蛋糕。

首先，小明同学选择了年轮蛋糕，芝士蛋糕，草莓蛋糕，巧克力蛋糕每一种一块。

那么剩下的两块蛋糕，从年轮蛋糕，芝士蛋糕，草莓蛋糕和巧克力蛋糕中选择哪个比较好呢？

和第一题是一样的思路，请写下你的答案吧。

答