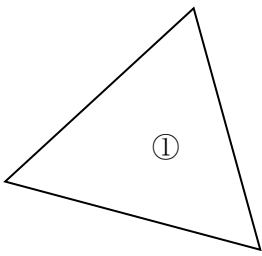


学 年	<h2 style="margin: 0;">三角形と四角形 (2) ①</h2>
2年	

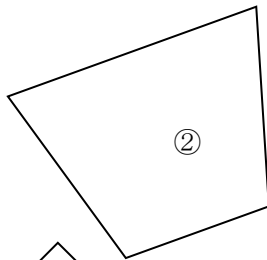
年 ぐみ 名まえ _____

1

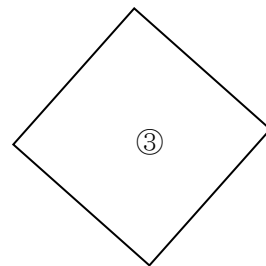
たかしさん、ともこさん、かずおさんが下の形を、2つのなかまにわけました。
2つに分けたほうほうを下の からえらんで記号をかきましょう。



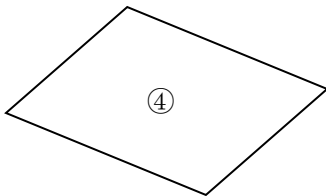
①



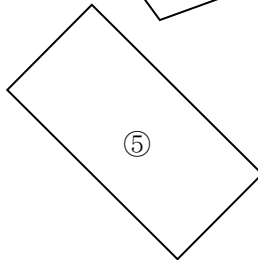
②



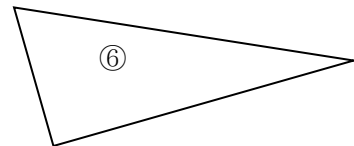
③



④



⑤



⑥

たかしさん

ともこさん

かずおさん



()



()



()

ア 三角形と四角形に分けた。	イ 辺の長さがぜんぶ同じ形とそうでない形
ウ 直角がある形とない形	

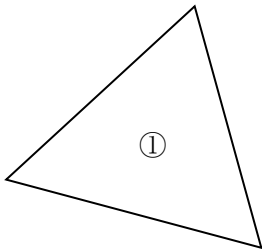
学 年
2 年

三角形と四角形 (2) ①

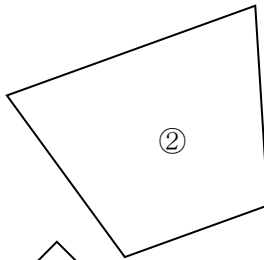
年 くみ 名まえ

1

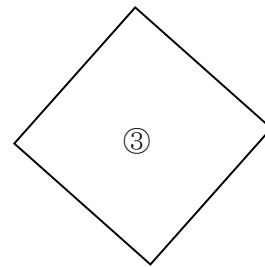
たかしさん、ともこさん、かずおさんが下の形を、2つのなかまにわけました。
2つに分けたほうほうを下の からえらんで記号をかきましょう。



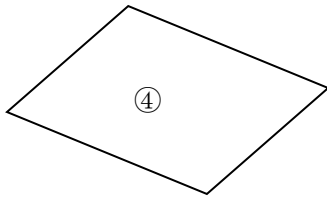
①



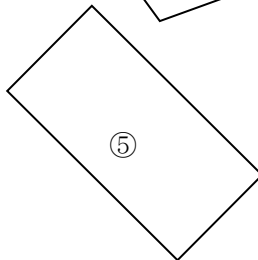
②



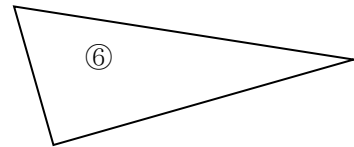
③



④



⑤



⑥

たかしさん

ともこさん

かずおさん



(ア)



(ウ)



(イ)

ア 三角形と四角形に分けた。

イ 辺の長さがぜんぶ同じ形とそうでない形

ウ 直角がある形とない形

学 年

2年

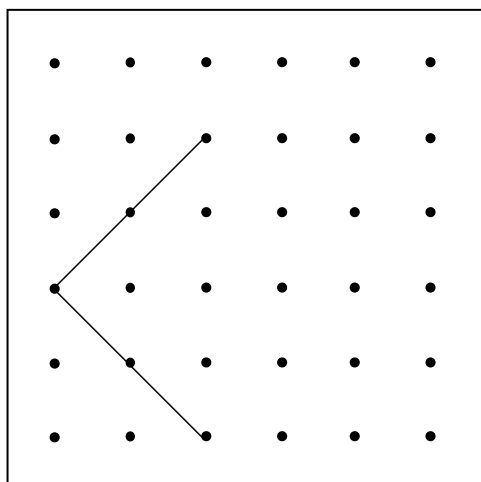
三角形と四角形 (2) ②

年 くみ 名まえ

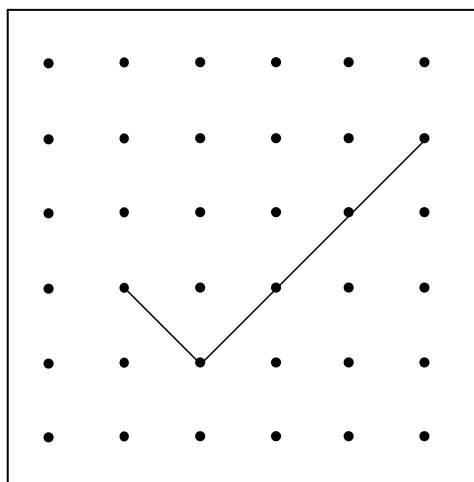
1

2本の直線をかきたして、次の形をかんせいさせましょう。

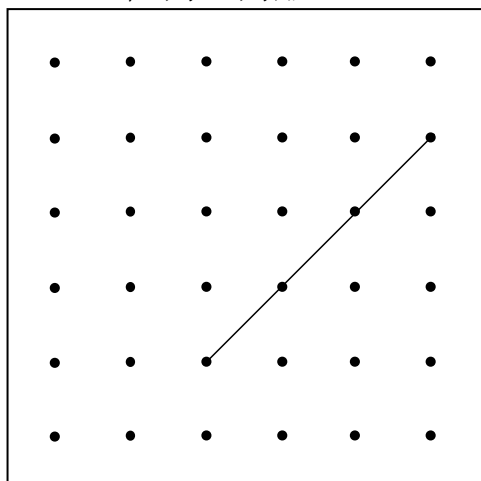
正方形



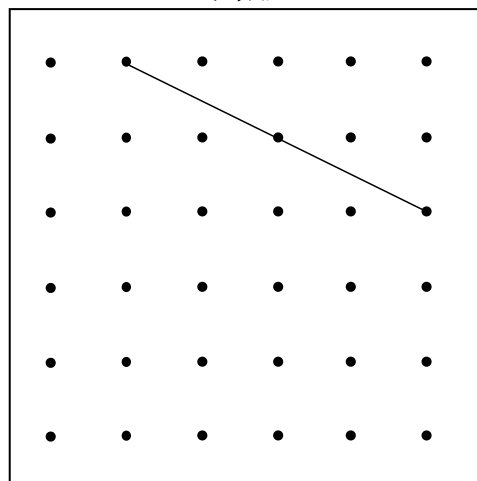
長方形



直角三角形



四角形



学 年

2年

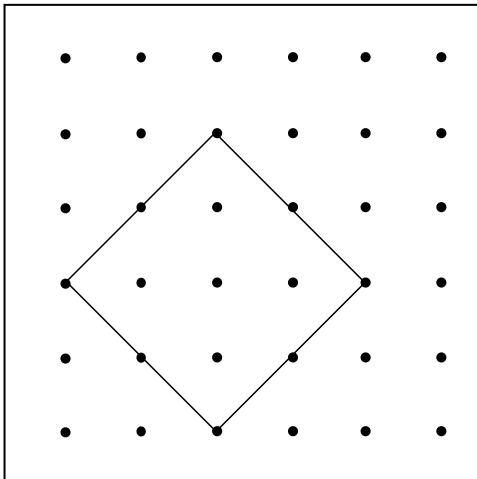
三角形と四角形 (2) ②

年 ぐみ 名まえ

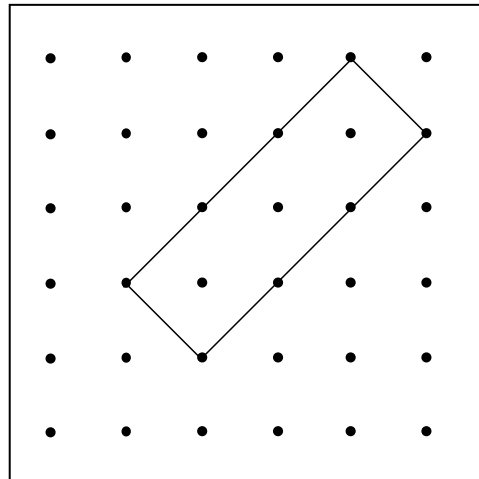
1

2本の直線をかきたして、次の形をかんせいさせましょう。

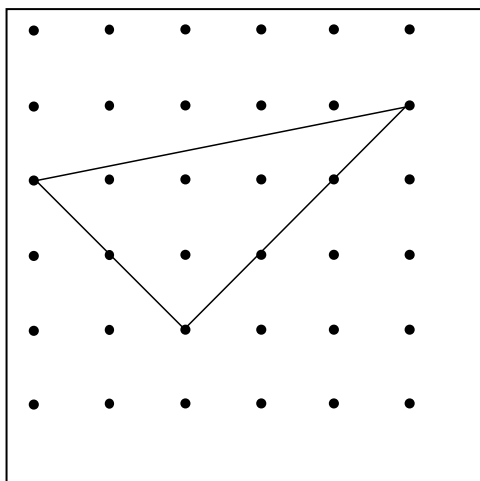
正方形



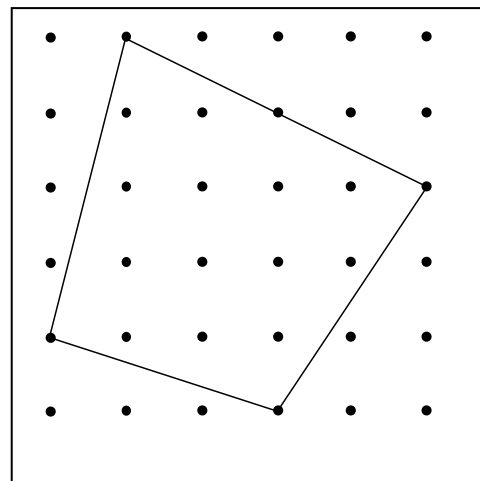
長方形



直角三角形(一例)



四角形(一例)



学 年

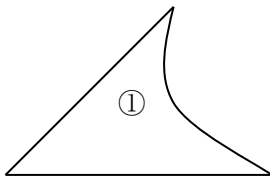
2年

三角形と四角形 (2) ③

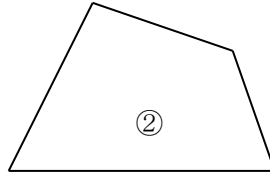
年 くみ 名まえ

1

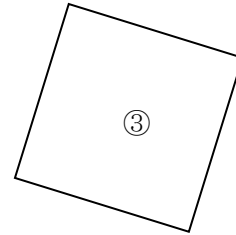
たかしさん、ともこさん、かずおさんが下の形の中から1つについて話しています。どの形の話をしているのでしょうか。記号をかきましょう。




①



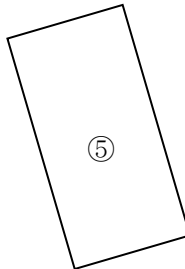
②



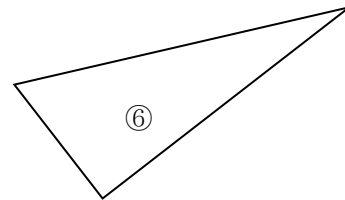
③



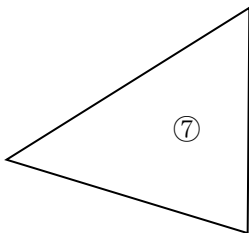
④



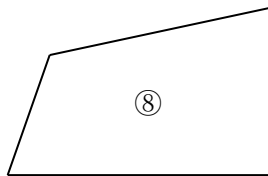
⑤



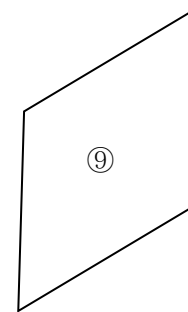
⑥



⑦



⑧



⑨

たかしさん

ともこさん

かずおさん

3本の直線でかこまれています。直角が1つあります。

()

4つのかどがみんな直角です。4つの辺のながさも同じです。

()

4本の辺があります。直角が1つだけあります。

()

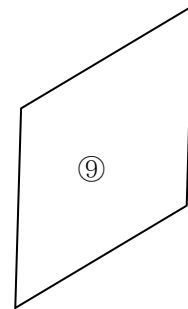
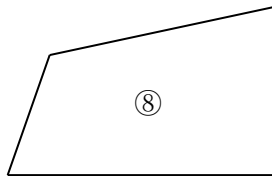
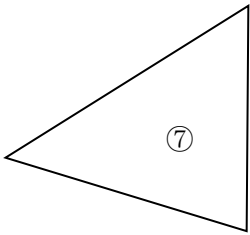
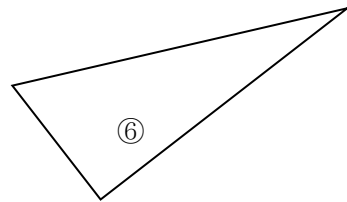
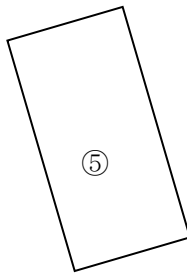


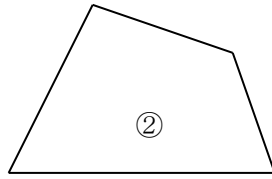
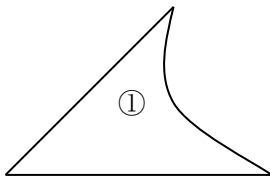
学 年
2年

三角形と四角形 (2) ③

年 くみ 名まえ

1

たかしさん、ともこさん、かずおさんが下の形の中から1つについて話しています。どの形の話をしているのでしょうか。記号をかきましょう。



たかしさん

ともこさん

かずおさん

3本の直線でかこまれています。直角が1つあります。

(⑥)

4つのかどがみんな直角です。辺の長さも同じです。

(③)

4本の辺があります。直角が1つだけあります。

(⑧)