

学 年



2年

長さ (2) ①

年 ぐみ 名まえ

1 りょう君とあつし君の話をきいて、下のもんだいに答えましょう。

りょう 「ぼくのかっている金魚は、
大きいよ。ぼくのえんぴつより
長いんだよ。」



あつし 「ぼくのかっている金魚もけっこう
大きいけど、ぼくのえんぴつよりかは
みじかいから、りょうくんの金魚の
ほうが、大きいね。」

① 2人のお話でおかしいところがあります。

どこが、おかしいか □の中に書きましょう。

(ヒント) 長さをくらべるときは、
もとにする長さを同じにして、くらべないといけな
いよ。
あつしくん と りょうくんのえんぴつの長さ
は同じかな？

がくねん



2年

長さ (2) ①

年 ぐみ 名まえ

- ① りょう君とあつし君の話をきいて、下のもんだいに答えましょう。

りょう 「ぼくのかっている金魚は、
大きいよ。ぼくのえんぴつより
長いんだよ。」



あつし 「ぼくのかっている金魚もけっこう
大きいけど、ぼくのえんぴつよりかは
みじかいから、りょうくんの金魚の
ほうが、大きいね。」

- ① 2人のお話でおかしいところがあります。

どこが、おかしいか □の中に書きましょう。

りょうくんと、あつしくんの
えんぴつの長さは、同じかどうかわからないので、
りょうくんの金魚が大きいかどうかは、わからない。

(ヒント) 長さをくらべるときは、
もとにする長さを同じにして、くらべないといけな
いよ。
あつしくん と りょうくんのえんぴつの長さ
は同じかな？

学 年


2年

長さ (2) ②

年 くみ 名まえ

1 下のカードの たてと よこの 長さを しらべます。
つぎの ほうほうで しらべて けっかを 書きましょう。


① けしごむをつかって



たて ()

よこ ()


② こうさくようしの めもりをつかって



たて ()

よこ ()

③ ものさしを つかって



たて ()

よこ ()

学 年


2年

長さ (2) ②

年 くみ 名まえ

1 下のカードの たてと よこの 長さを しらべます。
つぎの ほうほうで しらべて けっかを 書きましょう。

① けしごむをつかって




わたしは、たてが2こで
よこが4こだったよ。

わたしはたてが1こすこし
で、よこが2こだったよ。




② こうさくようしの めもりをつかって



たて (6こ)

よこ (11こ)

③ ものさしを つかって



たて (6 cm)

よこ (11 cm)

※紙の大きさが長さがかわるので、
おとなのひとに、たしかめてもらいましょう。

学 年

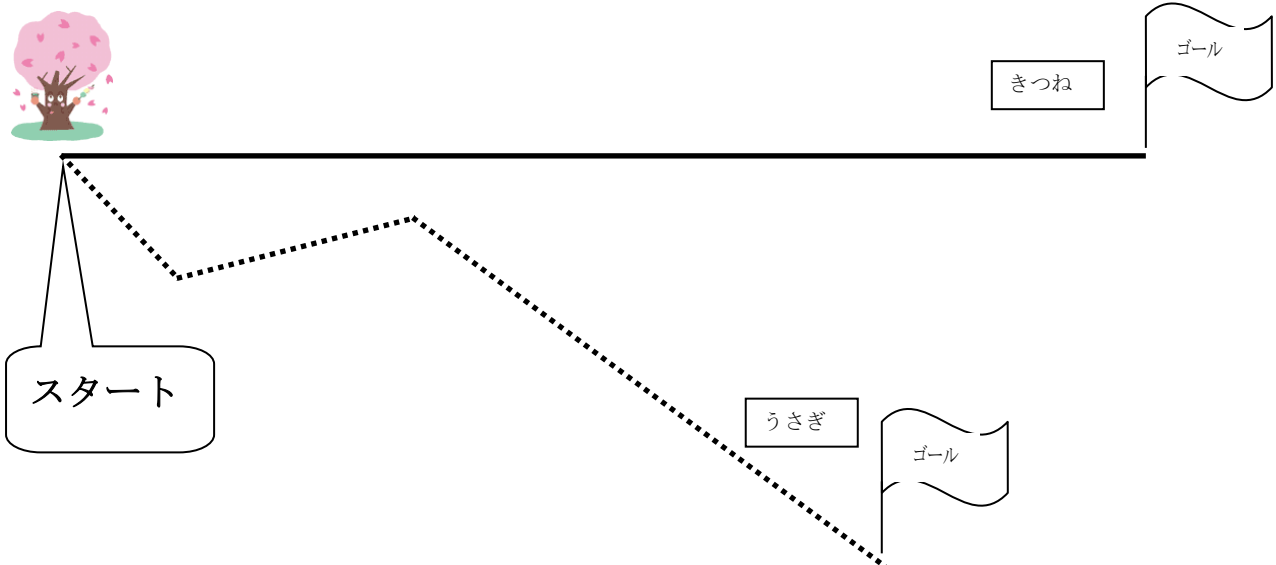
2年

長さ (2) ③

年 くみ 名まえ

1 きつねさんと うさぎさんが 木の下から 下のよう、はしりました。

どちらが たくさん はしたかを かんがえます。



(1) きつねさんと、うさぎさんのはしたあとを見て、どちらがたたくさんはしたとおもいましたか？

()

(2) ものさしをつかわずに、どちらがたたくさんはしたかを しらべる ほうほうを かんがえて、やってみたことをことばで書きましょう。

(3) ものさしで、じっさいのながさをはかって どちらがたたくさんはしたか、しらべましょう。

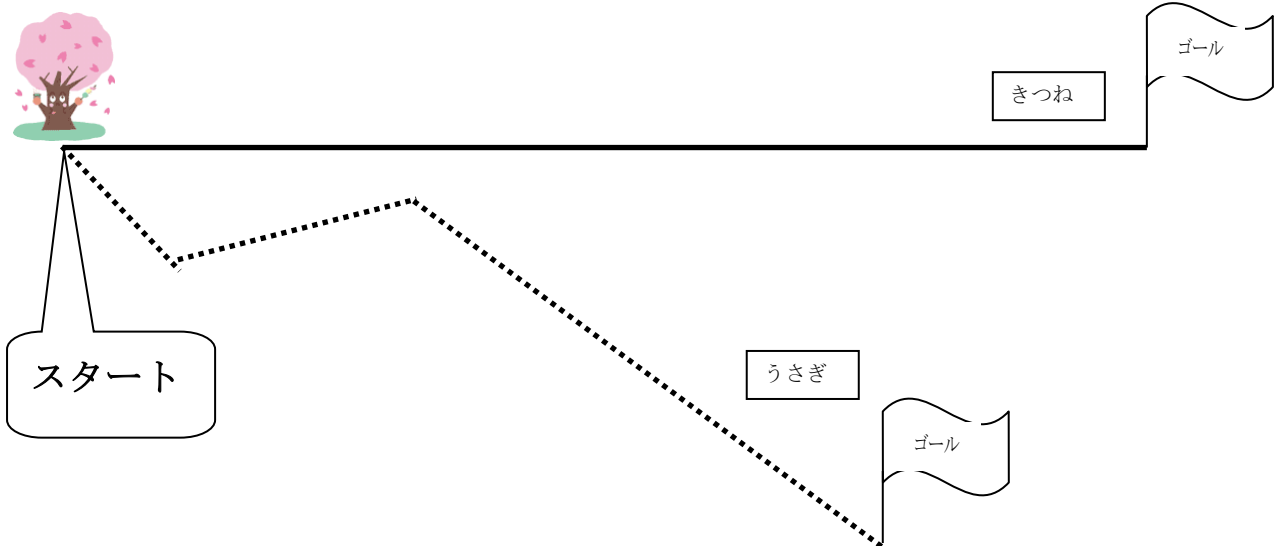
学 年

2年

長さ (2) ③

年 くみ 名まえ

- 1 きつねさんと うさぎさんが 木の下から 下のよう、はしりました。
 どちらが たくさん はしたかを かんがえます。



- (1) きつねさんと、うさぎさんのはしたあとを見て、どちらがたたくさんはしたとおもいましたか？

()

- (2) ものさしをつかわずに、どちらがたたくさんはしたかを しらべる ほうほうを かんがえて、やってみたことをことばで書きましょう。

(れい1) うさぎさんのはしたあとをきって、きつねさんのよこに、まっすぐにならべてみる。

(れい2) けしごむの みじかいほうのいくつ分かで、しらべる。

- (3) ものさしで、じっさいのながさをはかって どちらがたたくさんはしたか、しらべましょう。

おうちの人とたしましょう。

学 年

2年

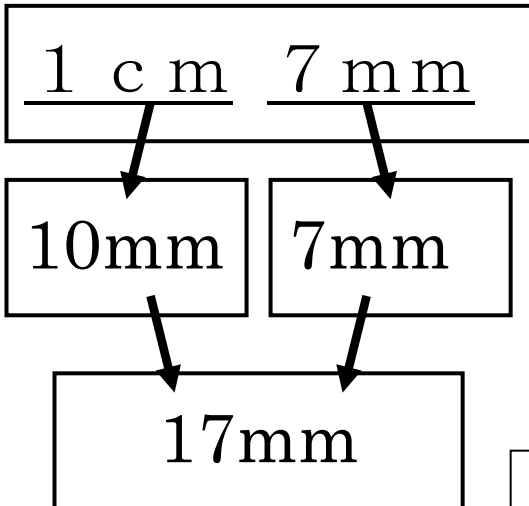
長さ (2) ④

年 くみ 名まえ

① cmをmmになおしましょう。

①

1 cm 7 mmが、何mmかを せつめいします。下の、() にことばを書きましょう。



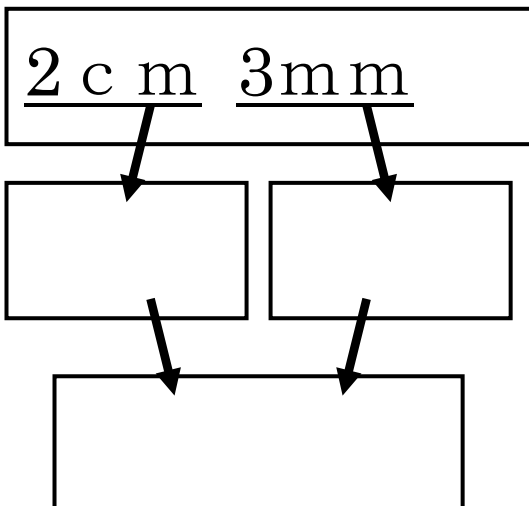
1 cm は () です。
 () と、
 7mm をたすと、
 ()
 になります。

ヒント 10 mm 17mm

ここから
ことばをえらぼう。

②

① を さんこうにして、2 cm 3 mm が何 mm か せつめいしましょう。



学 年

2年

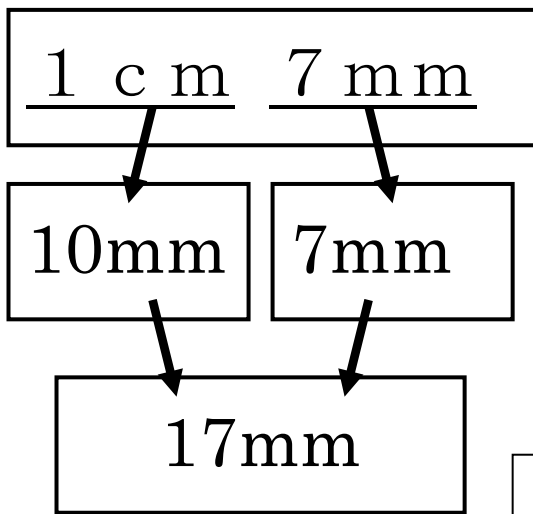
長さ (2) ④

年 くみ 名まえ

1 c mをmmになおしましょう。

①

1 c m 7 mmが、何mmかを せつめします。下の、() にことばを書きましょう。



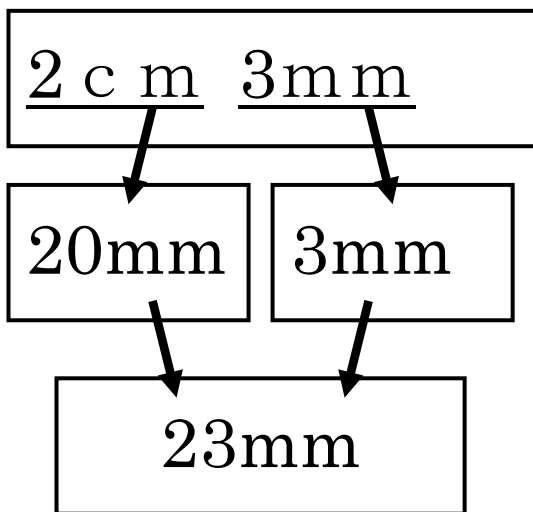
1 c m は (1 0 m m) です。
 (1 0 m m) と、
 7 m m をたすと、
 (1 7 m m)
 になります。

ヒント 1 0 m m 1 7 m m

ここから
ことばをえらぼう。

②

①を さんこう にして、2 c m 3 m m が何 m m か せつめい しましょう。



2 c m は (2 0 m m) です。
 (2 0 m m) と、
 3 m m をたすと、
 (2 3 m m)
 になります。