

がくねん


1ねん


ながさ ①


ねん くみ なまえ

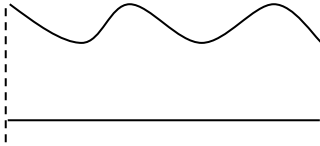
1

(1) どちらが ながいかな。ながい ほうに ○を つけましょう。

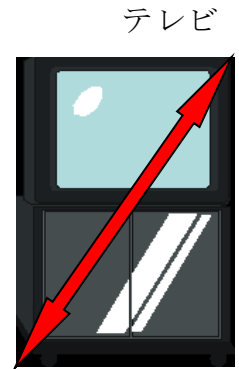


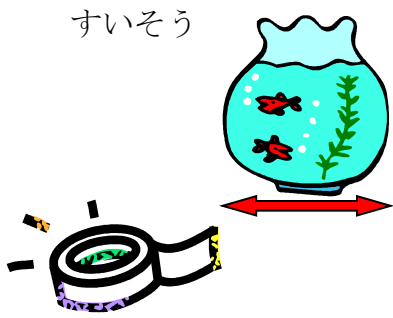
①  ()

 ()


②  たて ()
よこ ()


③  ()
()


2 したの ような いろいろな ものの ながさを かみテープを つかって くらべました。いちばん ながいのは どれですか。




いろいろな ものの ながさ
(かみのテープ)

すいそうの よこ 

テレビの ななめ 

つくえの よこ 

えんぴつけずりの よこ 

()


がくねん


1ねん

ながさ ①

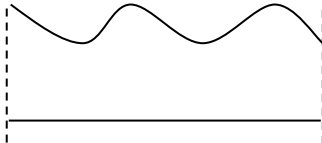

1

(1) どちらが ながいかな。ながい ほうに ○を つけましょう。

①  ()


 (○)

②  たて ()
よこ (○)


③  (○)
 ()

のぼして みたら
どうなるかな・・・

2 したの ような いろいろな ものの ながさを かみテープを つかって くらべまし
た。いちばん ながいのは どれですか。

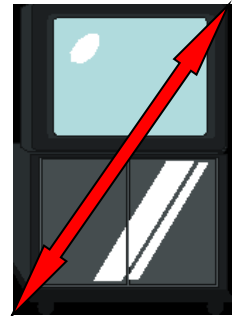


つくえ




えんぴつけずり


テレビ




いろいろな ものの ながさ

(かみのテープ)

すいそうの よこ 

テレビの ななめ 

つくえの よこ 

えんぴつけずりの よこ 

テープを つかって、
ながさを くらべる ことが
ことが できました!

(テレビのななめ)

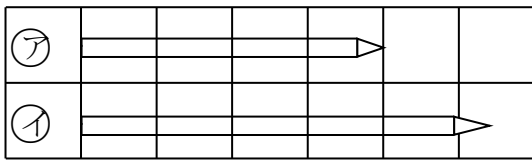
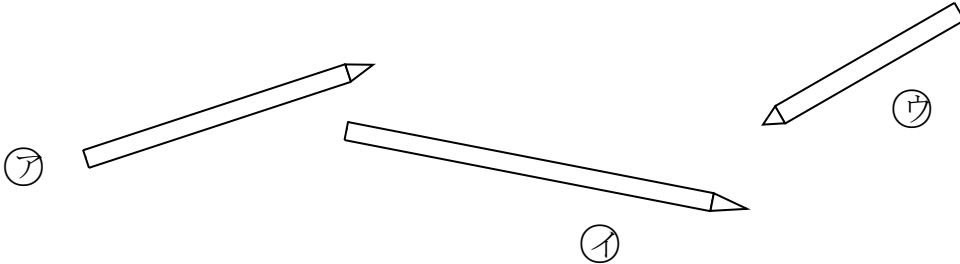
がくねん

1ねん

ながさ ②

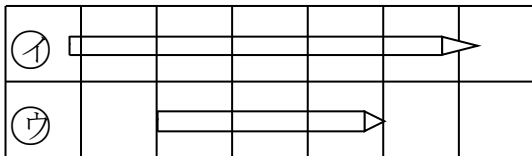
ねん くみ なまえ

1 (1) 3ほんの えんぴつの ながさくらべを します。



① アとイ では、どちらが ながいですか。

()



② イとウ では、どちらが ながいですか。

()

③ アは なんます ぶんの ながさ ですか。 () ます

ウは なんます ぶんの ながさ ですか。 () ます

アは ウの えんぴつより なんますぶん ながいですか。() ます

2 しょうたくんと まさおくんが つくえの たてと よこの ながさくらべを しました。

ただしい くらべかたは どちらでしょう。

まさおくん たては けしごむ 8こぶん。

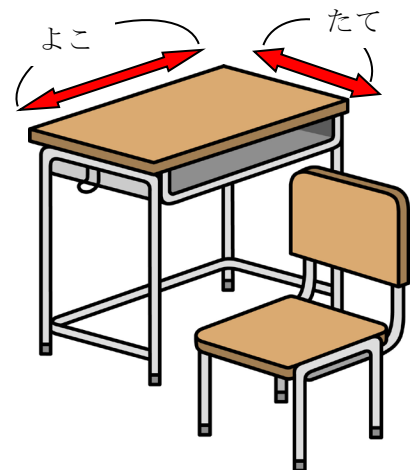
よこは えんぴつ 4ほんぶん。

だから たての ほうが ながいよ。

しょうたくん たては けしごむ 8こぶん。

よこは けしごむ 12こぶん。

だから よこの ほうが ながいよ。



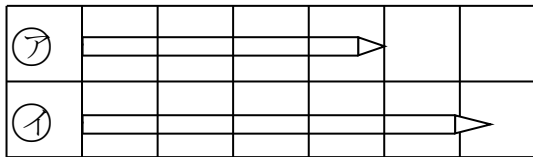
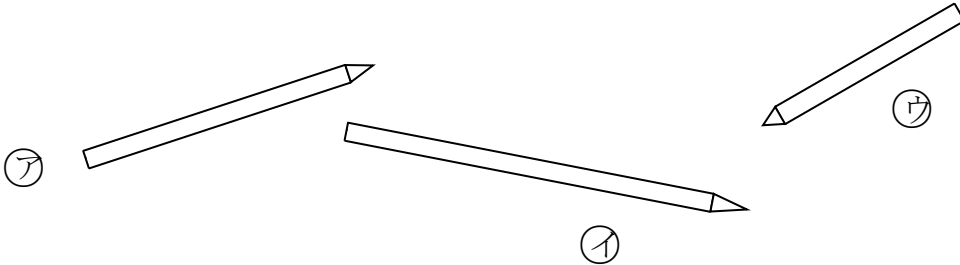
() くん

がくねん

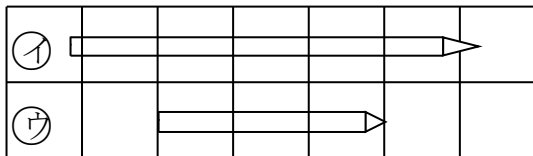
1ねん

ながさ ②

1 (1) 3本の えんぴつの ながさくらべを します。



① AとI では、どちらが ながいですか。
(I)



② IとU では、どちらが ながいですか。
(I)

③ Aは なんます ぶんの ながさ ですか。 (4) ます

Uは なんます ぶんの ながさ ですか。 (3) ます

Aは Uの えんぴつより なんますぶん ながいですか。(1) ます

2 しょうたくんと まさおくんが つくえの たてと よこの ながさくらべを しました。

ただしい くらべかたは どちらでしょう。

おなじ ながさの もの
で くらべるんだね。

まさおくん たては けしごむ 8こぶん。

よこは えんぴつ 4ほんぶん。

だから たての ほうが ながいよ。

しょうたくん たては けしごむ 8こぶん。

よこは けしごむ 12こぶん。

だから よこの ほうが ながいよ。

(しょうた) くん

