

がくねん

1ねん

たしざんとひきざん (2) ①

ねん くみ なまえ

1 なおさんと りょうさんが したの もんだいについて はなしあっています。

さるくんは あさ バナナを 6ぽん たべました。

ひるには 8ぽん たべました。

たべた バナナは なんぽん でしょう。



なおさん 「6ぽん たべて、8ぽん たべて…。たすのかな、ひくのかな。」

りょうさん「ひきざんだよ。だって たべるんだから へる もんだい だよ。」

なおさん 「えっ？ほんと？」

① たべた バナナの かずが わかるように ずに かいてみましょう。

また、どれが あさたべた バナナで、どれが ひるたべた ばななか

わかるように、かんがえてみましょう。

あさは 6ぽん
○○○○○○
ひるは・・・

② たしざん でしょうか、ひきざん でしょうか。あなたの かんがえを かきましょう。

() ざんの もんだいだと おもいます。

③ そう かんがえた わけを かきましょう。

④ ①の ずで あさ たべた バナナを ○で かこみましょう。

⑤ しきに かいて こたえを もとめましょう。

しき ()

こたえ (たべたバナナは、ほん)



こたえが だせた？

②で と こたえたことと、くらべてみよう。

ほんとうに で あっていた？ あっていた・ちがっていた

○を つけてね。

がくねん

1ねん

たしざんとひきざん (2) ①

ねん くみ なまえ

1 なおさんと りょうさんが したの もんだいについて はなしあっています。

さるくんは あさ バナナを 6ぽん たべました。

ひるには 8ぽん たべました。

たべた バナナは なんぽん でしょう。



なおさん 「6ぽん たべて、8ぽん たべて…。たすのかな、ひくのかな。」

りょうさん「ひきざんだよ。だって たべるんだから へる もんだい だよ。」

なおさん 「えっ?ほんと?」

① たべた バナナの かずが わかるように ずに かいてみましょう。

また、どれが あさたべた バナナで、どれが ひるたべた ばななか

わかるように、かんがえてみましょう。

あさは 6ぽん
○○○○○○
ひるは・・・

② たしざん でしょうか、ひきざん でしょうか。あなたの かんがえを かきましょう。

(たし) ざんの もんだいだと おもいます。

③ そう かんがえた わけを かきましょう。

- ・ 食べたバナナは全部で何本かを聞いている問題だから。
- ・ $8 - 6 = 2$ とすると、食べたバナナが 2 本になっておかしいから。

など

④ 「たしざんとひきざん (2) ①-2」の ①の ずで
あさ たべた バナナを で かこみましょう。

⑤ しきに かいて こたえを もとめましょう。

しき ($6 + 8 = 14$)

こたえ (たべたバナナは、14ほん)



こたえが だせた？

②で と こたえたことと、くらべてみよう。

ほんとうに で あっていた？ あっていた・ちがっていた

○を つけてね。

がくねん

1ねん

たしざんとひきざん (2) ②

ねん くみ なまえ

1 どうぶつたちが クッキーを
もらおうと ならんでいます。

さるくんの うしろにも まだ
だれか ならんでいるようですね。



さる「ぼくのうしろは、ライオンさんだよ。ぼくのうしろに まだ 7ひき いるよ。」

さるくんの はなしをきいて したの もんだいに こたえましょう。

① したの ずで さるくんの ○に いろを ぬりましょう。

さるくんは、
まえから
なんばんめかな？



② どうぶつたちは みんなで なんひき いるのでしょうか。ずの つづきを かきましょう。

③ どうぶつは、ぜんぶで なんびき いるのでしょうか。

「まだ 7ひき いるよ。」の
「7」を つかうんだよ！

しき () こたえ (こ)

④ ぞうさんが みんなに くぼろうと、 バナナを 11ぽん もってきてくれました。

バナナは たりるでしょうか。③の こたえを つかって かんがえましょう。



ただしいほうに ○を
つけよう。

こたえ (・たりる)
(・たりない)

⑤ あなたも ④のように 「たりるでしょうか」という もんだいを つくってみましょう。

	りんごを くぼる もんだいに しようかな…

がくねん

1ねん

たしざんとひきざん (2) ②

ねん くみ なまえ

1 どうぶつたちが クッキーを
もらおうと ならんでいます。

さるくんの うしろにも まだ
だれか ならんでいるようですね。

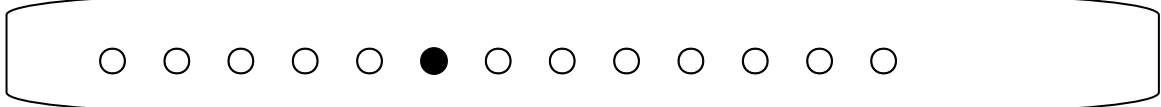


さる「ぼくのうしろは、ライオンさんだよ。ぼくのうしろに まだ 7ひき いるよ。」

さるくんの はなしをきいて したの もんだいに こたえましょう。

① したの ずで さるくんの ○に いろを ぬりましょう。

さるくんは、
まえから
なんばんめかな？



② どうぶつたちは みんなで なんひき いるのでしょうか。ずの つづきを かきましょう。

③ どうぶつは、ぜんぶで なんびき いるのでしょうか。

「まだ 7ひき いるよ。」の
「7」を つかうんだよ！

しき ($6 + 7 = 13$) こたえ (13こ)

④ ぞうさんが みんなに くぼろうと、 バナナを 11ばん もってきてくれました。

バナナは たりるでしょうか。③の こたえを つかって かんがえましょう。



ただしいほうに ○を
つけよう。

こたえ (・たりる)

(・たりない)

⑤ あなたも ④のように「たりるでしょうか」という もんだいを つくってみましょう。

(解答例)

りんごを くぼる
もんだいに しようかな...

ライオンさんがみんなにくぼろうとりんごを15こもってきました。

りんごはたりるでしょうか。

がくねん

1ねん

たしざんとひきざん (2) ③

ねん くみ なまえ

1 おはなしを よんで したの もんだいに こたえましょう。

けんじさんと しゅうさんは サッカーチームに はいっています。

チームの なかまは 16にんです。



2れつにならんで しゃしんを とることに なりました。まえに 7にん ならびます。

うしろの れつには なんにん ならぶことに なりますか。

したのしかくに ずをかいて、かんがえましょう。

こたえは 16より、

おおい? すくない?

ずにかいて かんがえましょう。



〇〇〇・・・
という ふうに
かいてみよう!

しき

うしろは、

にん

がくねん

1ねん

たしざんとひきざん (2) ③

ねん くみ なまえ

1 おはなしを よんで したの もんだいに こたえましょう。

けんじさんと しゅうさんは サッカーチームに はいっています。

チームの なかまは 16にんです。



2れつにならんで しゃしんを とることに なりました。まえに 7にん ならびます。

うしろの れつには なんにん ならぶことに なりますか。

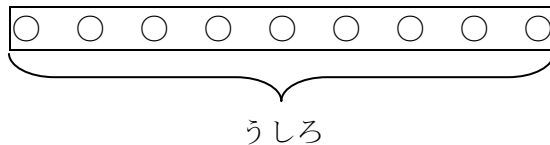
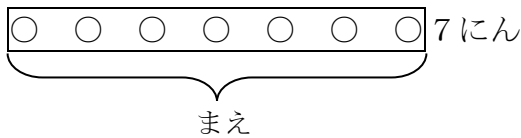
したのしかくに ずをかいて、かんがえましょう。

こたえは 16より、

おおい? すくない?

ずにかいて かんがえましょう。

みんなで 16にん



しき $16 - 7 = 9$

うしろは、

9にん

がくねん

1ねん

たしざんとひきざん (2) ④

ねん くみ なまえ

1 おはなしを よんで したの もんだいに こたえましょう。

けんじさんと しゅうさんは サッカーチームに はいっています。

チームの なかまは 16にんです。



① チームのみんなで まるくなって おひるごはんを たべようとおもいます。

そこで、コーチがいすをもってきてくれましたが、5きやく たりません。

コーチは、いすを なんきやく もってきたのでしょう。

したのしかくに ずをかいて、かんがえましょう。



こたえは 16より、
おおい? すくない?

ず

しき

コーチが もってきたいすは、

きやく



たりないかずだけ、
おおきく まるで
かこむと
わかりやすいよ!

がくねん

1ねん

たしざんとひきざん (2) ④

ねん くみ なまえ

1 おはなしを よんで したの もんだいに こたえましょう。

けんじさんと しゅうさんは サッカーチームに はいっています。

チームの なかまは 16にんです。



① チームのみんなで まるくなって おひるごはんを たべようとおもいます。

そこで、コーチがいすをもってきてくれましたが、5きやく たりません。

コーチは、いすを なんきやく もってきたのでしょ。

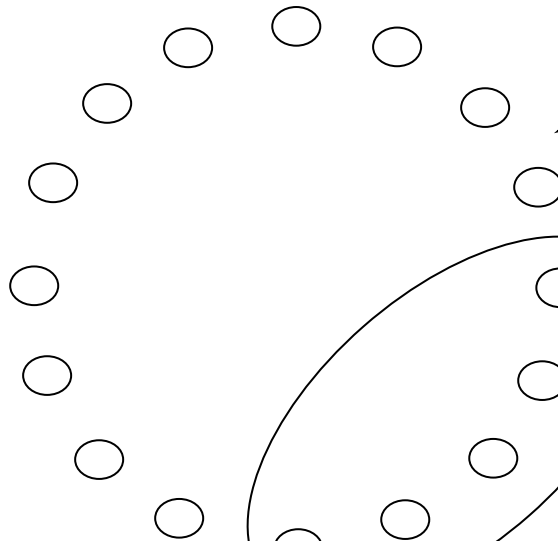
したのしかくに ずをかいて、かんがえましょう。



こたえは 16より、

おおい? すくない?

ず



○○○○○○○○○○○○○○

○ ○ ○ ○ ○ ○

10のたばで、かんがえてもいいですね。

5きやく
たりないということは、
5にん、すわれないと
いうことだから…

しき

16 - 5 = 11

コーチが もってきたいすは、

11 きやく

がくねん

1ねん

たしざんとひきざん (2) ⑤

ねん くみ なまえ

1 おはなしを よんで したの もんだいに こたえましょう。

けんじさんと しゅうさんは サッカーチームに はいっています。

チームの なかまは 16にんです。



② チームのみんなに、コーチから おにぎりを くばってもらいました。

おおめに かってあったので 3こあまりました。

おにぎりは、なんこ かってあったのでしょうか。

したのしかくに かぞえやすい ずをかいて、かんがえましょう。



あまったおにぎりは
いろを かえて
かいてみよう！
○○○○●●

こたえは 16より、
おおい？ すくない？

ず

しき

かってあった おにぎりは、

こ

がくねん

1ねん

たしざんとひきざん (2) ⑤

ねん くみ なまえ

1 おはなしを よんで したの もんだいに こたえましょう。

けんじさんと しゅうさんは サッカーチームに はいっています。
チームの なかまは 16にんです。



② チームのみんなに、コーチから おにぎりを くばってもらいました。

おおめに かってあったので 3こあまりました。

おにぎりは、なんこ かってあったのでしょうか。

したのしかくに かぞえやすいずをかいて、かんがえましょう。

こたえは 16より、

おおい? すくない?

ず

○○○○○○○○○○

○○○○○○●●●

あまった 3こ

しき

$$16 + 3 = 19$$

かってあった おにぎりは、 19 こ