


がくねん
1ねん



たしざん (3) ①

ねん くみ なまえ

1 えをみて こたえが 10より おおきく なる おはなしを 2つ つくりましょう。



りんごは ふくろに はいっ
ていたり はこに はいっ
ていたり しているね。




がくねん
1ねん

たしざん (3) ①

ねん くみ なまえ

1 えをみて こたえが 10より おおきく なる おはなしを 2つ つくりましょう。



りんごは ふくろに はいっ
ていたり はこに はいっ
ていたり しているね。

例) アサガオが 8ぽん、ひまわりが 5ぽん あります。はなは
あわせて なんぽんでしょう。


ふくろに りんごが 5こ、みかんが 6こ はいっています。くだものは あわせて
なんこ あるでしょう。

りんごが ふくろに 5こ、はこに 4こ、おさらには 3こ あります。ぜんぶで
なんこ あるでしょう。

など

3くちの たしざんの おはなしも
つくれます。

おなじ しゅるいの
もので たすことが
できます。



がくねん

1ねん

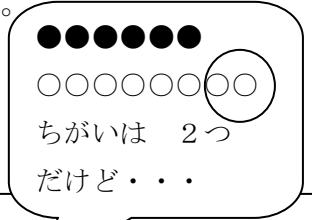
たしざん (3) ②

ねん くみ なまえ

1 くりあがりの たしざんの おはなしに なるように なおしましょう。


(1) なおす ところに せんを ひいて したに かきなおしましょう。

(2) なおしたら しきを かいて けいさんを しましょう。



① あかい はなが 6ほん、 しろい はなが 8ほん あります。

ちがいは なんぼんでしょう。



しき)

こたえ _____

② えんぴつが 7ほん あります。 あたらしく 2ほん かいました。

えんぴつは ぜんぶで なんぼんに なりましたか。

しき)

こたえ _____

③ こうえんで 9にんの こどもが おにごっこを しています。 4にん かえりました。

こどもは なんにんに なりましたか。

しき)

こたえ _____

がくねん

1ねん

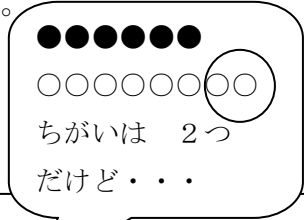
たしざん (3) ②

ねん くみ なまえ

1 くりあがりの たしざんの おはなしに なるように なおしましょう。

(1) なおす ところに せんを ひいて したに かきなおしましょう。

(2) なおしたら しきを かいて けいさんを しましょう。




① あかい はなが 6ほん、 しろい はなが 8ほん あります。

ちがいは なんぼんでしょう。

あわせて

ぜんぶで など

しき) $6 + 8 = 14$



こたえ 14 ほん

② 例) えんぴつが 7ほん あります。 あたらしく 2ほん かいました。

えんぴつは ぜんぶで なんぼんに なりましたか。

くりあがりがあるように すうじを かえましょう。 どちらをかえても いいです。

しき) 例) $7 + 5 = 12$

こたえ 12 ほん

③ こうえんで 9にんの こどもが おにごっこを しています。 4にん かえりました。

ふえました

こどもは なんにんに なりましたか。

きました など

しき) $9 + 4 = 13$

こたえ 13 にん

がくねん
1ねん

たしざん (3) ③


ねん くみ なまえ

1 1ぱんと 2はんで ボールすくいゲームを しました。

1ぱんは しろ(○)を 3こ、
あか(●)を 8こ すくいました。

2はんは しろ(○)を 5こ、
あか(●)を 7こ すくいました。

まず まるで
かこんでみよう。



1ぱん

○○○
●●●●●●●●

2はん

○○○○○
●●●●●●●

れい) 1ぱんの ボールは なんこでしょう。

1ぱん ○○○ ●●●●●●●●	2はん ○○○○○ ●●●●●●●
------------------------	-------------------------

しき 3 + 8 = 11

こたえ 11こ

① 2はんの ボールは なんこでしょう。

1ぱん ○○○	2はん ○○○○○
●●●●●●●●	●●●●●●●

しき

こたえ

② 1ぱんと 2ぱんを あわせて、
しろは なんこでしょう。

1ぱん ○○○	2はん ○○○○○
●●●●●●●●	●●●●●●●

しき

こたえ

③ 1ぱんと 2ぱんを あわせて、
あかは なんこでしょう。

1ぱん ○○○	2はん ○○○○○
●●●●●●●●	●●●●●●●

しき

こたえ

がくねん
1ねん

たしざん (3) ③

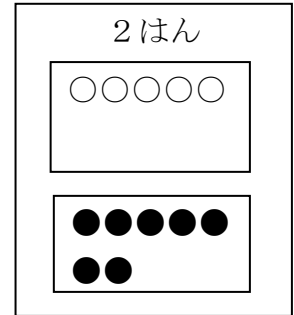
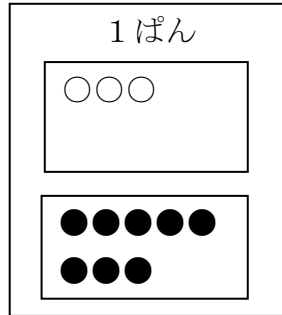

ねん くみ なまえ

1 1ぱんと 2はんで ボールすくいゲームを しました。

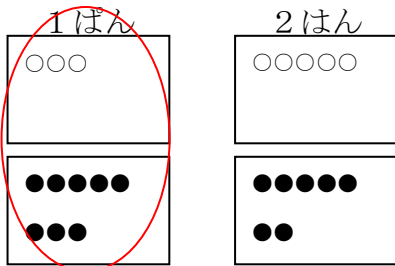
1ぱんは しろ(○)を 3こ、
あか(●)を 8こ すくいました。

2はんは しろ(○)を 5こ、
あか(●)を 7こ すくいました。

まず まるで
かこんでみよう。



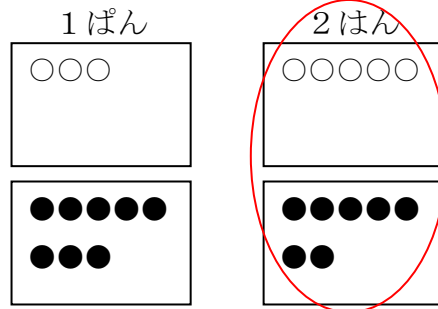
れい) 1ぱんの ボールは なんこでしょう。



しき $3 + 8 = 11$

こたえ 11 こ

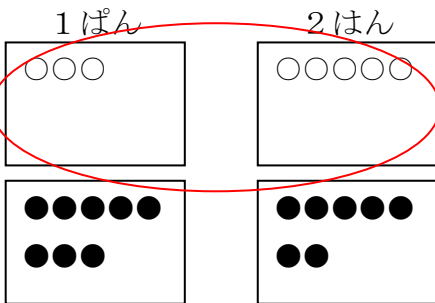
① 2はんの ボールは なんこでしょう。



しき $5 + 7 = 12$

こたえ 12 こ

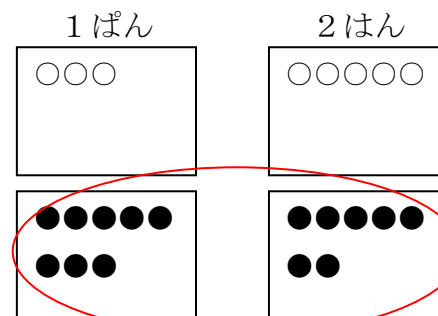
② 1ぱんと 2ぱんを あわせて、
しろは なんこでしょう。



しき $3 + 5 = 8$

こたえ 8 こ

③ 1ぱんと 2ぱんを あわせて、
あかは なんこでしょう。



しき $8 + 7 = 15$

こたえ 15 こ

がくねん

1ねん

たしざん (3) ④

ねん くみ なまえ

- 1 しきが $8+5$ になる もんだいを えらんで □に ○を かきましょう。
 ならない ものには ×を かきましょう。

①

じゅんぺいさんは おりがみを 8まいもっています。しゅんすけさんから 5まい もらいました。じゅんぺいさんは ぜんぶで なんまい おりがみをもっているでしょう。

②

きょうしつに しろの チョークが 8ぼん、きいろの チョークが 5ぼん あります。ちがいは なんぼんでしょう。

③

なかにわに あかい チューリップが 5ぼん きいろい チューリップが 8ぼん さいています。チューリップは あわせて なんぼん さいているでしょう。

④

なつきさんは えんぴつを 8ぼん けしごむを 3つ もっています。きょう えんぴつを 5ぼん かいしました。なつきさんの えんぴつは なんぼんに なりましたか。

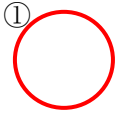
- 2 1で ×を かいした わけを かきましょう。

がくねん
 1ねん

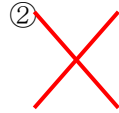
たしざん (3) ④

ねん くみ なまえ


- 1 しきが $8+5$ になる もんだいを えらんで □に ○を かきましょう。
 ならない ものには ×を かきましょう。



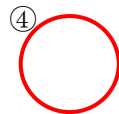
じゅんぺいさんは おりがみを 8まいもっています。しゅんすけさんから 5まい もらいました。じゅんぺいさんは ぜんぶで なんまい おりがみをもっているでしょう。



きょうしつに しろの チョークが 8ぼん、きいろの チョークが 5ぼん あります。ちがいは なんぼんでしょう。



なかにわに あかい チューリップが 5ぼん きいろい チューリップが 8ぼん さいています。チューリップは あわせて なんぼん さいているでしょう。



えんぴつとは べつな
 ので きをつけよう。

なつきさんは えんぴつを 8ぼん けしごむを 3つ もっています。きょう えんぴつを 5ぼん かいしました。なつきさんの えんぴつは なんぼんになりましたか。

- 2 1で ×を かいだ わけを かきましょう。

例)

- ・ ちがいは なんぼん でしょうだと ひきざんになるから。
- ・ ちがいは $8-5$ で 3ぼん になるから。

など