

令和 4 年度中学生チャレンジテスト

第 2 学年 社会

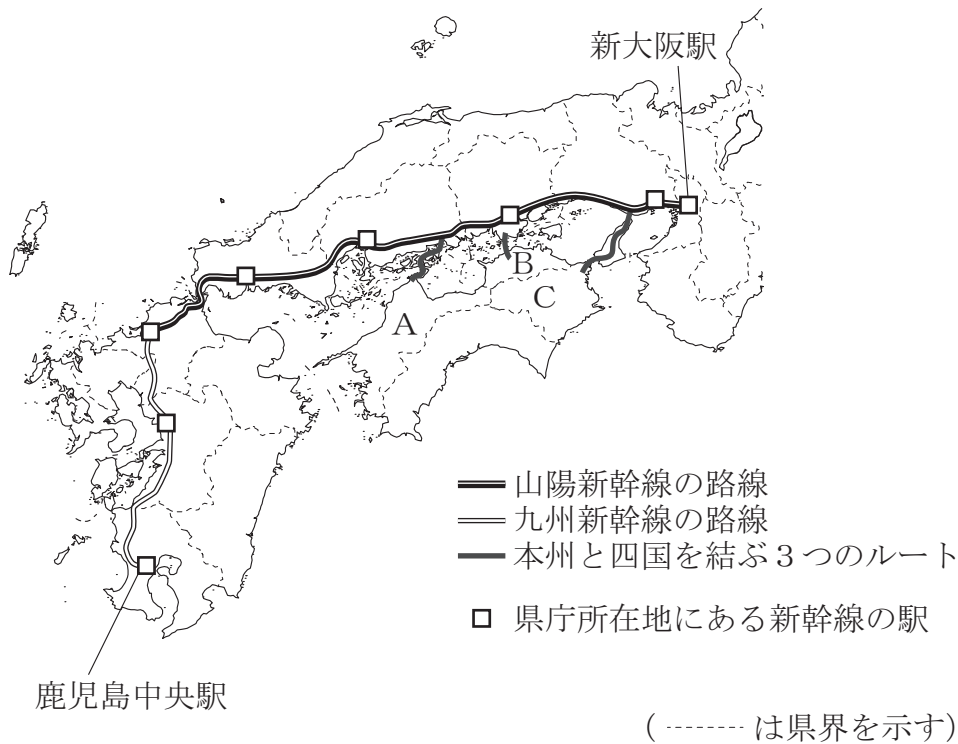
注 意

- 1 テスト問題は、1 ページから 37 ページまであります。先生の合図があるまで、問題冊子を開かないでください。
- 2 社会の問題 4、5 は選択問題です。^{せんたく} **4 A** **5 A** または **4 B** **5 B** の中から先生に指示された問題に解答してください。**4 A** **5 A** は 23 ページから 29 ページまで、**4 B** **5 B** は 31 ページから 37 ページまでです。
- 3 解答はすべて解答用紙⑤（社会）に記入してください。
- 4 解答は、HB または B の黒鉛筆（^{えんぴつ} シャープペンシルも可）を使い、濃く、はっきりと書いてください。また、消すときは消しゴムできれいに消してください。
- 5 解答を選択肢から選ぶ問題は、^{せんたくし} 解答用紙のマーク欄を黒く塗りつぶしてください。
- 6 解答を記述する問題は、指示された解答欄に記入してください。また、解答欄からはみ出さないように書いてください。
- 7 解答用紙は、オモテ、ウラがあります。
- 8 解答用紙の〔生徒記入欄〕に、組、出席番号を記入し、マーク欄を黒く塗りつぶしてください。
- 9 テスト実施時間は、^{じっし} 45 分です。

問題は、次のページから始まります。

- 1 大阪府に住んでいるいぶきさんは、四国に住んでいるいとこのれいさんとともに祖母が住んでいる鹿児島県へ行きました。いぶきさんは新大阪駅から新幹線を利用し、れいさんと岡山駅で合流して鹿児島中央駅へ向かいました。図1は、山陽新幹線の路線と九州新幹線の路線と本州と四国を結ぶ3つのルートを示した地図です。あとの問いに答えなさい。

図1



- (1) いぶきさんが利用した山陽新幹線と九州新幹線は、新大阪駅を出発し鹿児島中央駅に至るまでに、【通る順番】で示した8つの県庁所在地を順に通ります。【通る順番】中の(X) ~ (Z)に入る県庁所在地の正しい組み合わせを、あとのア~エから1つ選びなさい。

【通る順番】

大阪市 → 神戸市 → 岡山市 → (X) → (Y) → 福岡市
 → (Z) → 鹿児島市

- | | | | |
|---|-------|-------|-------|
| ア | X-広島市 | Y-山口市 | Z-大分市 |
| イ | X-広島市 | Y-山口市 | Z-熊本市 |
| ウ | X-山口市 | Y-広島市 | Z-大分市 |
| エ | X-山口市 | Y-広島市 | Z-熊本市 |

(2) れいさんは、岡山駅でいぶきさんと合流するために、本州と四国を結ぶ3つのルートの中の1つを利用しました。次の問いに答えなさい。

① 図1中のA～Cの3県は、本州と四国を結ぶ3つのルートでそれぞれ本州と結ばれています。A～Cの3県について、県名と県庁所在地名が異なっている県の組み合わせとして適しているものを、次のア～ウから1つ選びなさい。

ア AとB イ BとC ウ AとC

② 次のア～エのうち、図1中の本州と四国を結ぶ3つのルートに関することについて述べた文として、内容が誤っているものを1つ選びなさい。

ア 神戸なると－鳴門あわじしまルートは、淡路島を通る。

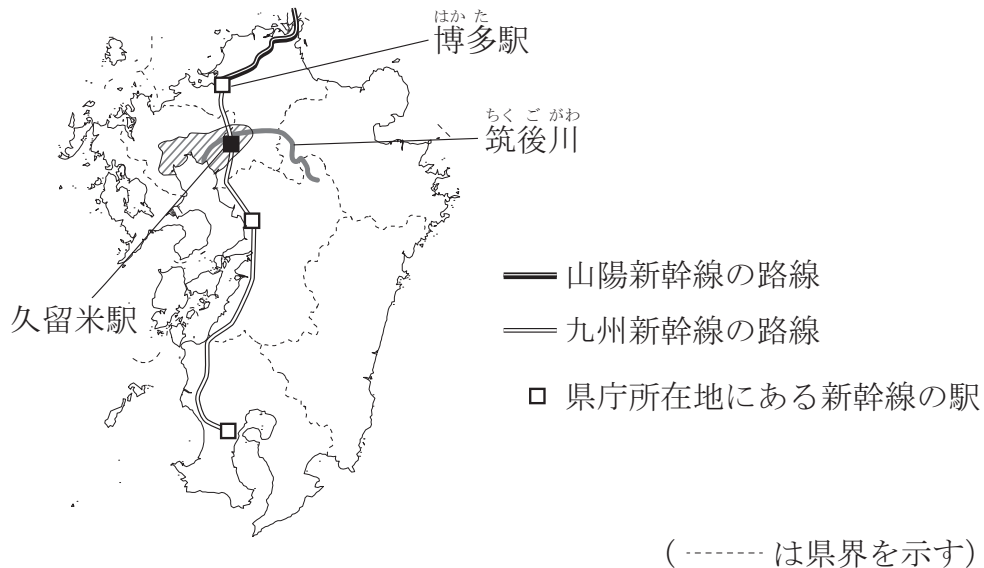
イ 瀬戸せと大橋がある児島こじま－坂出さかいでルートは、本州と四国を結ぶ3つのルートのうち、最初に開通した。

ウ 尾道おのみち－今治いまばりルートは、本州と四国を結ぶ3つのルートのうち、最も西に位置している。


エ 本州と四国を結ぶ3つのルートのいずれのルートにも鉄道は通っていない。

- (3) 2人が乗車する新幹線が久留米駅くろめ付近を走行中、窓の外には田畑の景色が広がっていました。久留米駅付近の地域において、どのような農業が行われているのか気になったれいさんは、九州北部の農業について調べました。図2は九州の地図で、【メモ】はれいさんが調べたことをもとにつくったものです。あとの問いに答えなさい。

図2



【メモ】

図2中の  で示したあたりに広がる㉞ [ア 筑紫平野 イ 宮崎平野] には、㉞ [ウ 有明海 エ 玄界灘 オ 日向灘] にそそぐ筑後川が流れており、この平野では、稲作が終わった後、米以外の農作物（小麦、大麦など）の栽培が行われている。

- ① 【メモ】中の㉞ [], ㉞ [] から適しているものをそれぞれ1つずつ選びなさい。
- ② 【メモ】中の下線部㉞のように、1年間のうち異なる時期に同じ場所で2つの異なる農作物を連続して栽培することは何と呼ばれていますか。漢字3字で書きなさい。

(4) 2人が到着した鹿児島中央駅には、九州地方の農業や世界遺産に関するポスターやパンフレットがありました。そこで、2人は九州地方の農業や世界遺産に関することについて調べました。次の問いに答えなさい。

① 九州地方の農業を調べたれいさんは、2021年における農産物の収穫量や家畜の飼養頭数について、収穫量や飼養頭数が多い上位2県が九州地方の県であるものを表にまとめました。【れいさんがつくった表の一部】中のDに当たる県として最も適しているものを、あとのア～エから1つ選びなさい。

【れいさんがつくった表の一部】

県	D	鹿児島県
農産物・家畜		
きゅうり（収穫量）	1位	—
豚（飼養頭数）	2位	1位

（『データでみる県勢 2022』などにより作成）

ア 大分県 イ 熊本県 ウ 宮崎県 エ 沖縄県

② 九州地方の世界遺産を調べたいぶきさんは、図3中のPの島には1993年に世界遺産（世界自然遺産）に登録された地域があることを知りました。図3中のPの島の名前を書きなさい。

図3



（----- は県界を示す）

- (5) 鹿児島県への訪問を終えて大阪府に帰りたいぶきさんは、九州新幹線の2011年の全面開通によって新大阪駅から鹿児島中央駅まで鉄道で4時間以内で行けるようになったことを知りました。そこで、九州新幹線の全面開通によってどのような変化が起こったかを調べる中で、次の表をつくりました。表は、2010年と2015年における東京都、愛知県、大阪府、福岡県のそれぞれの都府県から鹿児島県への移動で利用された*交通機関別の利用者数の割合を示したものです。あとのア～エのうち、表から読み取れる内容として誤っているものを1つ選びなさい。

*交通機関：ここでは、都道府県を越える移動で利用された交通機関のことで、複数の交通機関が利用された場合は、そのうちの主な交通機関を1つ取り上げている。

表 2010年と2015年における東京都、愛知県、大阪府、福岡県のそれぞれの都府県から鹿児島県への移動で利用された交通機関別の利用者数の割合

年	2010年				2015年			
交通機関 出発地	航空機	鉄道	船	バス・ 自動車等	航空機	鉄道	船	バス・ 自動車等
東京都	94.3%	5.3%	—	0.4%	98.6%	0.9%	0.2%	0.3%
愛知県	77.0%	21.3%	0.6%	1.1%	95.4%	4.0%	—	0.6%
大阪府	75.1%	17.2%	4.0%	3.7%	62.6%	22.6%	1.9%	12.9%
福岡県	3.4%	45.0%	0.0%	51.6%	1.7%	41.7%	0.1%	56.5%

※0.0%は0.05%未満。—は該^が当数なし。

(国土交通省の資料により作成)

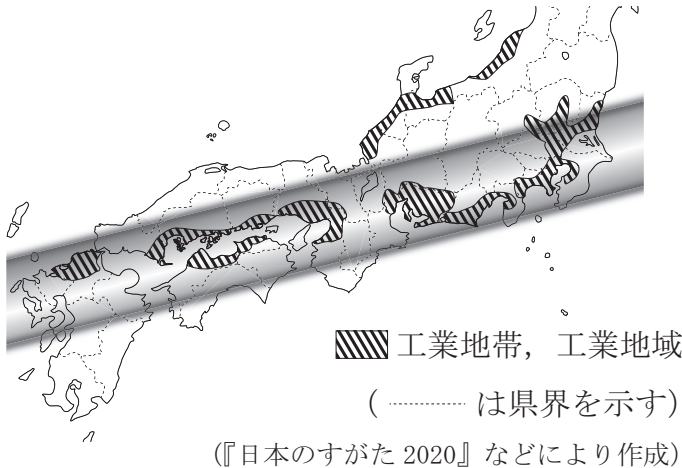
- ア 東京都から鹿児島県への移動で航空機を利用した人の割合は、2010年と2015年のいずれの年においても90%以上である。
- イ 愛知県から鹿児島県への移動で鉄道を利用した人の割合は、2015年は2010年に比べて小さくなっており、愛知県から鹿児島県への移動で航空機を利用した人の割合は、2015年は2010年に比べて大きくなっている。
- ウ 大阪府から鹿児島県への移動で航空機を利用した人の割合は、2015年は2010年に比べて小さくなっており、大阪府から鹿児島県への移動で鉄道を利用した人の割合と船を利用した人の割合とバス・自動車等を利用した人の割合は、いずれも、2015年は2010年に比べて大きくなっている。
- エ 福岡県から鹿児島県への移動で鉄道を利用した人の割合とバス・自動車等を利用した人の割合との合計は、2010年と2015年のいずれの年においても95%以上である。

問題は、次のページに続きます。

2 このはるさんのクラスでは、日本のさまざまな産業の特色を調べました。次の問いに答えなさい。

(1) このはるさんは、大阪湾などの臨海部^{わん}に製鉄所などの工場が集まっていることに興味をもち、日本の工業について調べました。図1は、日本の工業地帯、工業地域の分布を示したものです。あとの問いに答えなさい。

図1




① 図1中の で示された帯状の地域について、次の問いに答えなさい。

(i) 図1中の で示された帯状の地域は、いくつもの工業地帯、工業地域があり、工業が盛んな地域です。関東地方から東海地方、近畿地方中部、瀬戸内地方、九州地方北部にかけての工業が盛んなこの地域は何と呼ばれていますか。書きなさい。

(ii) 図2は、図1中の で示された帯状の地域にある阪神工業地帯、瀬戸内工業地域、北九州工業地帯(地域)の2019年における製造品出荷額とその内訳を示しており、図2中のA~Cはいずれかの工業地帯、工業地域に当たります。A~Cに当たる工業地帯、工業地域の組み合わせとして適しているものを、あとのア~カから1つ選びなさい。

図2 阪神工業地帯、瀬戸内工業地域、北九州工業地帯(地域)の製造品出荷額とその内訳(2019年)



(経済産業省の資料により作成)

- ア A 阪神工業地帯 B 瀬戸内工業地域 C 北九州工業地帯（地域）
- イ A 阪神工業地帯 B 北九州工業地帯（地域） C 瀬戸内工業地域
- ウ A 瀬戸内工業地域 B 北九州工業地帯（地域） C 阪神工業地帯
- エ A 瀬戸内工業地域 B 阪神工業地帯 C 北九州工業地帯（地域）
- オ A 北九州工業地帯（地域） B 阪神工業地帯 C 瀬戸内工業地域
- カ A 北九州工業地帯（地域） B 瀬戸内工業地域 C 阪神工業地帯

② こはるさんは、日本の工業の発展に関することについて調べました。次の問いに答えなさい。

(i) 近代における日本の工業の発展に影響を与えた八幡製鉄所は、1901年2月に鉄鋼の生産を始めました。図3は八幡製鉄所と筑豊炭田の位置、図4は中国のターイエ鉄山の位置、表1は八幡製鉄所の1901年における鉄鉱石と石炭の入荷先および入荷量をそれぞれ示したものです。八幡製鉄所が図3で示した位置にある利点について、図3、図4、表1から読み取れる内容をもとに、20字以上、40字以内で書きなさい。

図3

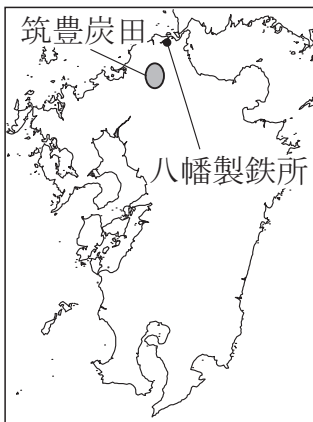


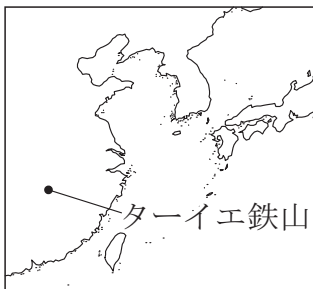
表1 八幡製鉄所の1901年における鉄鉱石と石炭の入荷先および入荷量（万t）

	輸入		国内
	ターイエ鉄山	その他	
鉄鉱石	7.0	0.3	2.6

	輸入	国内	
		筑豊炭田	その他
石炭	0	9.9	4.3

（八幡製鉄所の資料により作成）

図4



- (ii) 日本は石炭，原油（石油），鉄鉱石などの鉱産資源を輸入に頼ってきました。
 表2は，2019年における日本の石炭，原油（石油），鉄鉱石の輸入額の多い上位3か国と輸入額合計に占める割合を示したものです。表2中のD～Fに当たる鉱産資源の組み合わせとして最も適しているものを，あとのア～カから1つ選びなさい。

表2 日本の石炭，原油（石油），鉄鉱石の輸入額の多い上位3か国と輸入額合計に占める割合（2019年）

順位	D		E		F	
	鉱産資源		鉱産資源		鉱産資源	
1位	サウジアラビア	36%	オーストラリア	59%	オーストラリア	57%
2位	アラブ首長国連邦	30%	インドネシア	15%	ブラジル	26%
3位	カタール	9%	ロシア	11%	カナダ	6%
	その他	25%	その他	15%	その他	11%

（『データブック・オブ・ザ・ワールド2021』により作成）

- | | | | | | | |
|---|---|--------|---|--------|---|--------|
| ア | D | 石炭 | E | 原油（石油） | F | 鉄鉱石 |
| イ | D | 石炭 | E | 鉄鉱石 | F | 原油（石油） |
| ウ | D | 原油（石油） | E | 石炭 | F | 鉄鉱石 |
| エ | D | 原油（石油） | E | 鉄鉱石 | F | 石炭 |
| オ | D | 鉄鉱石 | E | 石炭 | F | 原油（石油） |
| カ | D | 鉄鉱石 | E | 原油（石油） | F | 石炭 |

- ③ こはるさんは、工業を支えるエネルギーに関することについて調べました。図5は、ある発電方式（発電方法）による発電所の位置を●で示した地図です。あとのア～ウのうち、図5中の●で示した位置にある発電所に共通する発電方式（発電方法）として最も適しているものを1つ選びなさい。

図5

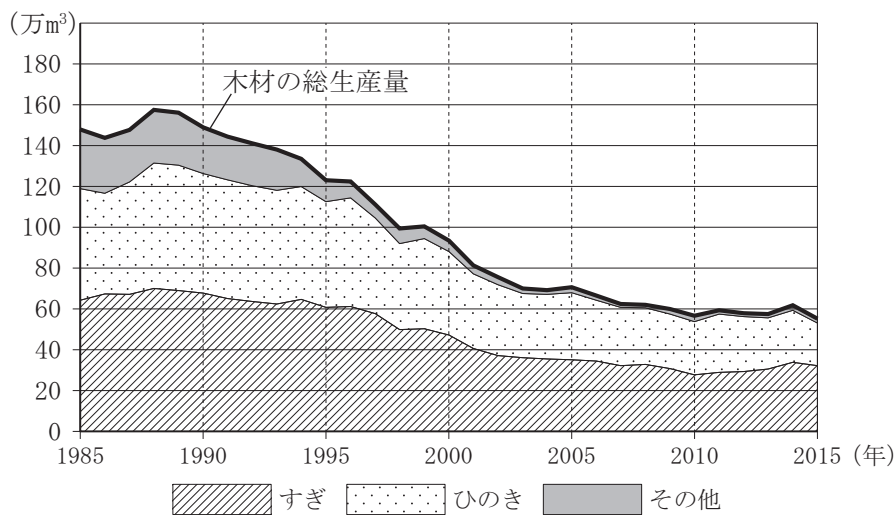


- ア 水力発電 イ 火力発電 ウ 原子力発電

(2) りょうさんは、奈良県の吉野町の中学校で、紀伊山地で産出される地元産木材を使った机を生徒が使用する取り組みが行われていることを知り、紀伊山地で盛んな林業について調べました。次の問いに答えなさい。

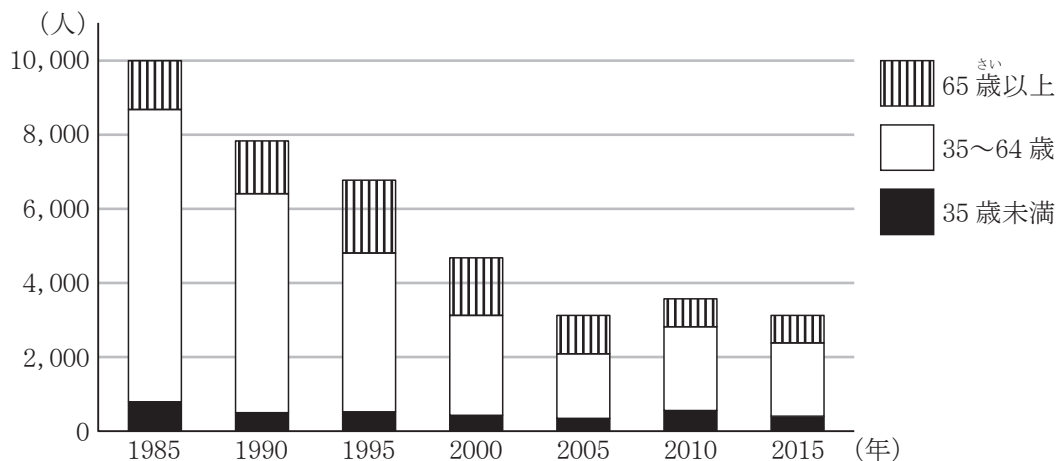
- ① 三重県と奈良県と和歌山県の3県（以下、「3県」とする）にまたがる紀伊山地では林業が盛んで、吉野すぎや尾鷲ひのきなどが有名です。図6は「3県」における木材の総生産量とそのうちのすぎとひのきの生産量の推移を、図7は「3県」における林業従事者数と年齢構成の推移をそれぞれ示したものです。図8は、日本における木材の総生産量と林業従事者数の推移を示したものです。あとのア～エのうち、図6、図7、図8から読み取れる内容として誤っているものを1つ選びなさい。

図6 「3県」における木材の総生産量とそのうちのすぎとひのきの生産量の推移



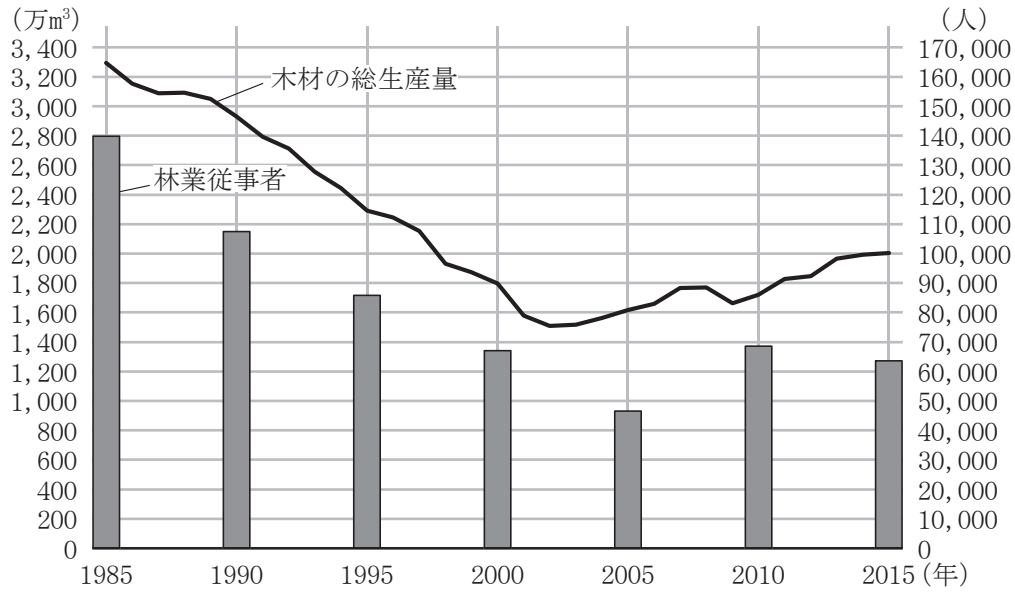
(農林水産省の資料により作成)

図7 「3県」における林業従事者数と年齢構成の推移



(平成27年国勢調査などにより作成)

図8 日本における木材の総生産量と林業従事者数の推移



(農林水産省の資料などにより作成)

ア 「3 県」における木材の総生産量については、2015 年は1985 年の半分以下になっており、2015 年と1985 年のいずれの年においてもすぎが全体の30%以上を占めている。

イ 「3 県」における35 歳～64 歳の林業従事者数については、2015 年は1985 年と比べて4,000 人以上少ない。

ウ 「3 県」における木材の総生産量が日本における木材の総生産量に占める割合については、2015 年は2005 年と比べて小さい。

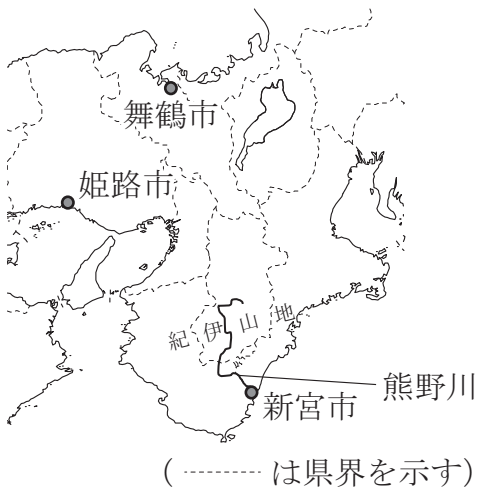
エ 「3 県」における林業従事者数と日本における林業従事者数については、いずれも2015 年は2000 年と比べて少なく、「3 県」における木材の総生産量と日本における木材の総生産量についても、いずれも2015 年は2000 年と比べて少ない。

② 森林を育て、森林から木を切り出す林業は、日本において、次のア～ウのどれに分類されますか。適しているものを1つ選びなさい。

- ア 第1次産業 イ 第2次産業 ウ 第3次産業

③ 紀伊山地の木材の輸送は、かつては熊野川などの河川に頼っており、図9中の新宮市の熊野川河口周辺には現在でも製材所が集まっています。あとのア～ウは、図9中の舞鶴市、姫路市、新宮市のいずれかの雨温図です。新宮市の雨温図に当たるものをア～ウから1つ選びなさい。また、そのように判断した理由を、新宮市が位置する近畿地方南部の気候に影響を与える風と、影響を与える風が夏に(梅雨から秋にかけて)日本海、太平洋いずれの海から吹くのかかわかるように、あとの条件に従って書きなさい。

図9

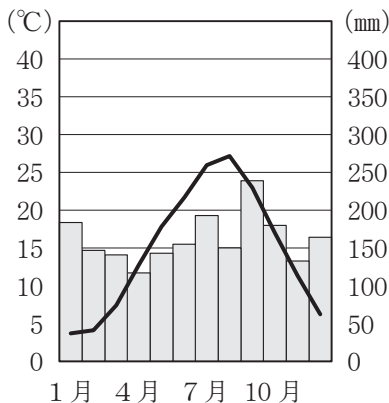


条件1 風の名前を漢字3字で書くこと。

条件2 「新宮市は、」に続けて、20字以上、45字以内で書くこと。

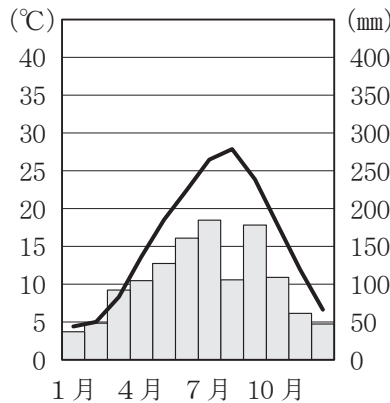
ア

年平均気温 14.8℃
年降水量 1941mm



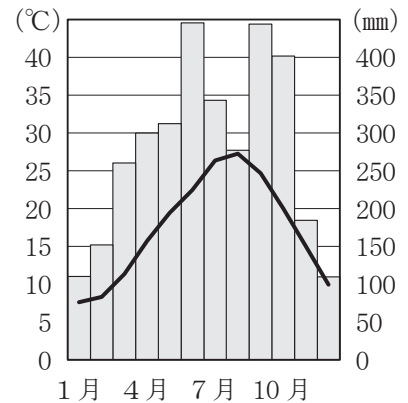
イ

年平均気温 15.6℃
年降水量 1255mm



ウ

年平均気温 17.3℃
年降水量 3333mm




(気象庁のWebページの資料により作成)

問題は、次のページに続きます。

3 あみさんのクラスでは、班ごとに、インターネットや図書館を利用したり実際に史跡しせきなどを訪れたりして、江戸時代えどの歴史に関することについて調べました。次の問いに答えなさい。

(1) 1班は、大阪市にある住吉公園すみよしに、江戸時代の俳人である松尾芭蕉まつお ばしゅうの句が彫りつけられた石碑せきひがあることを知り、松尾芭蕉に関することについて調べました。【メモ1】は、1班のりくさんが調べたことをもとにつくったものです。あとの問いに答えなさい。

【メモ1】

<p>○伊賀国<small>いがのくに</small>（現在の三重県西部）に生まれる。</p> <p>○<u>元禄文化</u><small>げんろく</small>を代表する人物の1人である。</p> <p>○代表作の『おくのほそ道』には、江戸を出発し東北地方や北陸地方などをまわり大垣<small>おおがき</small>（現在の岐阜県）に到着<small>ちやく</small>するまでの旅の記録と、各地で詠んだ句が記されている。</p> <p>○1694年に大阪で生涯<small>しょうがい</small>を閉じる。</p>	
	<p>住吉公園にある松尾芭蕉の句が彫りつけられた石碑</p>

① 【メモ1】中の下線部④について述べた次の文章中の① [], ② [] から適しているものをそれぞれ1つずつ選びなさい。

元禄文化は、社会の安定と都市の繁栄はんえいなどを背景に経済力を高めた町人などの力によって① [**ア** 上方 **イ** 江戸] を中心に栄えた文化です。松尾芭蕉以外に元禄文化を代表する人物として、浮世草子うきよざうしと呼ばれる小説を書いた井原西鶴いはらさいかくや、義理と人情などを題材にした人形浄瑠璃にんぎょうじょうりの脚本きゃくほん（台本）の作者である② [**ウ** 曲亭きょくてい（滝沢）馬琴 **エ** 近松門左衛門ちかまつもんざえもん] などがあげられます。

- ② 1班のあみさんは、【メモ1】中の下線部㉔が現代語に訳された本を読み、印象に残った部分を書き出しました。【メモ2】は、あみさんが書き出したものです。あとの問いに答えなさい。

【メモ2】

著作権者への配慮から掲載を控えております。

(『奥の細道を読む』により作成)

- (i) 【メモ2】中の下線部㉕に関して、あみさんとりくさんが話をしています。【会話文1】中の㉔ [], ㉕ [] から適しているものをそれぞれ1つずつ選びなさい。

【会話文1】

あみさん：白河しらかわの関は、奈良時代から平安時代へいあんにかけて、人や物資の往来を取りしめるなどの役割を果たしていた施設しせつで、現在の福島県にあったよ。

りくさん：白河の関があったと考えられている場所には関跡せきあとの石碑が建てられているんだよね。

あみさん：そうだよ。その石碑は、㉔ [**ア** 享保きょうほうの改革 **イ** 寛政かんせいの改革] を行った松平定信まつだいらさだのぶが建てたよ。

りくさん：そうなんだね。松平定信は㉕ [**ウ** 天明てんめい **エ** 文政ぶんせい] という年号(元号)の時に起こったききんのころに老中となり、幕府の政治改革たざさに携わったよね。

- (ii) 【メモ2】中の下線部㉖さどに書かれている佐渡さどとは、佐渡島さどがしまのことです。佐渡島に関することについて述べた次の文章中の(e)に入る適切な語を漢字1字で書きなさい。

佐渡島には、日本海から瀬戸内海せとないかいを経て大阪に至る(e)廻りまわ航路の寄港地として栄えた港があります。(e)廻り航路は江戸時代に開かれた航路の一つで、東北地方などの米や特産物を運ぶ船が利用していました。

- (2) 2班は、江戸時代の宿場に関することについて調べ、西日本の大名などが利用した、茨木市にある郡山宿本陣を訪れました。【メモ3】は、2班のくみさんが調べたことをもとにつくったものです。あとの問いに答えなさい。

【メモ3】

- 宿場は宿駅とも呼ばれる。
- 主な宿場に設けられた本陣は、江戸時代に、大名らが休憩や宿泊のために利用した施設である。
- 京都と西国とを結ぶ西国街道にあった郡山宿に位置する郡山宿本陣は、江戸時代の建物が残る国の史跡である。
- 郡山宿本陣の宿泊者台帳（宿帳）には、大名の名前などが記録されている。



郡山宿本陣

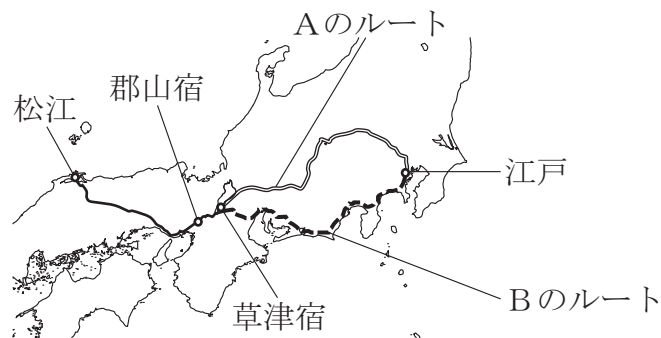
- ① 【メモ3】中の下線部④について述べた次の文章中の（ f ）に入る適切な語を書きなさい。

江戸時代の大名は、親藩、譜代大名、外様大名に区別されました。また、親藩のうち、尾張徳川家、紀伊徳川家、（ f ）徳川家は御三家と呼ばれました。

- ② くみさんが、【メモ3】中の下線部④に関することについてさらに調べると、参勤交代において、松江藩の大名らが休憩や宿泊のために郡山宿本陣を利用していたことがわかりました。松江藩の参勤交代に関することについて、次の問いに答えなさい。

- (i) 図1は、松江から江戸に向かう松江藩の大名行列が通行したルートを示したものです。松江藩の大名らは、郡山宿本陣などで休憩や宿泊をした後、草津宿からは図1中のAのルートやBのルートを通り江戸に到着しました。あとのア～エのうち、図1中のAのルートを通して江戸と京都とを結ぶ街道の名前として最も適しているものを1つ選びなさい。

図1



- | | |
|--------------|--------------|
| ア 奥州道中（奥州街道） | イ 甲州道中（甲州街道） |
| ウ 東海道 | エ 中山道 |

- (ii) 表は、1839年における松江藩の支出内訳と支出金額を示したもので、表をもとにくみさんとれおさんが話をしています。【会話文2】中の（g）、（h）に入ることばの組み合わせとして最も適しているものを、あとのア～エから1つ選びなさい。

表 1839年における松江藩の支出内訳と支出金額

支出内訳	支出金額（*両）
家臣の*俸禄費用 ^{ほうろく}	65,525
領地での費用	43,482
江戸での費用	38,781
領地から江戸までの道中費用	3,998
その他の費用	3,802
支出合計	155,588

*両：江戸時代の貨幣^{かへい}単位のこと。 *俸禄：給料のこと。
 『一目でわかる江戸時代』により作成

【会話文2】

くみさん：参勤交代の制度は、大名に対して、新しい城づくりを禁止することなどを規定した（g）という法令の中に定められたよね。

れおさん：そうだよ。1635年に参勤交代の制度が整えられ、多くの大名は領地と江戸を行き来することになったよ。

くみさん：大名にとって、領地から江戸までの道中費用や江戸での費用がかかるため、経済的な負担が大きかったと考えられるね。

れおさん：表においては、江戸での費用は松江藩の1年間の支出合計の（h）以上になっているよ。松江藩にとって、江戸での費用は経済的な負担が大きかったんだね。

くみさん：一方で、松江藩など全国の大名らの出費は、各地の宿場町だけでなく江戸の経済発展に大きな効果をもたらしたと考えられるよ。

- | | | | | |
|---|---|------------------------------|---|------|
| ア | g | 公事方御定書 ^{くじかたおさだめがき} | h | 3分の1 |
| イ | g | 公事方御定書 | h | 5分の1 |
| ウ | g | 武家諸法度 ^{ぶけしよはつと} | h | 3分の1 |
| エ | g | 武家諸法度 | h | 5分の1 |

- (3) 3班では、江戸時代の朝鮮通信使に関することについて調べる中で、朝鮮通信使が宿舎として利用したといわれている寺院が大阪市にあることが話題になり、3班は、津村別院と難波別院を訪れました。【メモ4】は、3班のなおさんが朝鮮通信使について調べたことをもとにつくったものです。あとの問いに答えなさい。

【メモ4】

- 朝鮮国王によって日本に派遣された外交使節団で、江戸時代には將軍の代替わりの時などに派遣された。
- 徳川家光が將軍の時には複数回派遣された。
- 江戸幕府を開いた徳川家康がまつられている日光東照宮を訪れたこともある。
- 江戸時代に描かれた浮世絵には、朝鮮通信使が描かれた作品がある。



津村別院



難波別院

- ① 次のA～Cは、【メモ4】中の下線部㉓が江戸幕府の3代將軍であった時に起こったできごとについて述べた文です。A～Cをできごとが起こった順に並べかえると、どのような順序になりますか。あとのア～カから正しいものを1つ選びなさい。

- A ポルトガル船の来航が禁止される。
- B 島原・天草一揆が起こる。
- C スペイン船の来航が禁止される。

- ア A → B → C
- イ A → C → B
- ウ B → A → C
- エ B → C → A
- オ C → A → B
- カ C → B → A

② 【メモ4】 中の下線部㉔について述べた次のXとYの文を読み，その正誤の正しい組み合わせを，あとのア～エから1つ選びなさい。

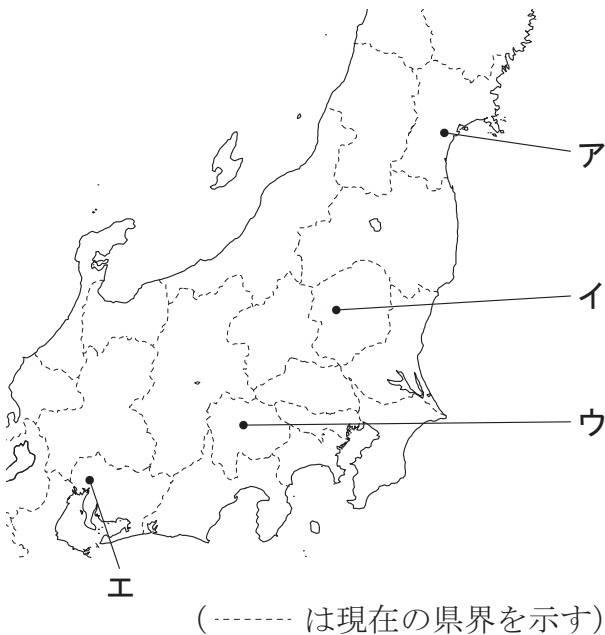
X 徳川家康は，征夷大將軍に任じられた後，関ヶ原の戦いで石田三成を破った。

Y 徳川家康は，江戸幕府を開いた後，豊臣氏を滅ぼした。

- | | | |
|---|---------|---------|
| ア | Xは正しい | Yは正しい |
| イ | Xは正しい | Yは誤っている |
| ウ | Xは誤っている | Yは正しい |
| エ | Xは誤っている | Yは誤っている |

③ 【メモ4】 中の下線部㉕は1999年に世界文化遺産に登録されました。図2中のア～エのうち，下線部㉕の位置として最も適しているものを1つ選びなさい。

図2



④ 【メモ4】 中の下線部㉖に関して，化政文化を代表する浮世絵師の1人で，多くの浮世絵による風景画を描いた人物として最も適しているものを，次のア～エから1つ選びなさい。

- | | | | | | | | |
|---|--------------------------------|---|-----------------------------------|---|--------------------------------|---|---------------------------------|
| ア | 尾形光琳
<small>おがたこうりん</small> | イ | 俵屋宗達
<small>たわら や そうたつ</small> | ウ | 菱川師宣
<small>ひしかわものぶ</small> | エ | 葛飾北斎
<small>かつしかほくさい</small> |
|---|--------------------------------|---|-----------------------------------|---|--------------------------------|---|---------------------------------|

- (4) 4班は、江戸時代の天文学や望遠鏡に関することについて調べようと、江戸時代に望遠鏡を作った岩橋善兵衛のことなどを紹介している、貝塚市にある善兵衛ランドという施設を訪れました。【メモ5】は、4班のれんさんが善兵衛ランドで調べたことをもとにつくったものです。あとの問いに答えなさい。

【メモ5】

○1613年に、イギリス人が徳川家康に望遠鏡を贈ったという記録がある。

○天体観測を行ったといわれている徳川吉宗は、キリスト教に関係のない漢訳洋書の輸入を認め、西洋の天文学を導入して、当時使用していた暦を改めることなどをめざした。

○岩橋善兵衛の作った望遠鏡を使った人物の1人である（ i ）は、日本各地を測量し正確な日本地図を作成した。



善兵衛ランド

- ① 次のア～エのうち、【メモ5】中の（ i ）に入る人物として最も適しているものを1つ選びなさい。

ア 伊能忠敬

イ 杉田玄白

ウ 前野良沢

エ 本居宣長

- ② 【メモ5】中の下線部③は8代将軍徳川吉宗が幕府の政治改革の中で行った政策の1つです。次のア～エのうち、徳川吉宗が行った幕府の政治改革について述べた文として内容が誤っているものを1つ選びなさい。

ア 倹約（質素・倹約）をすすめた。

イ 旗本や御家人の借金を帳消しにした。

ウ 新田開発をすすめた。

エ 目安箱を設置した。

次のページからは^{せんたく}選択問題となります。

A問題を選択した学校の生徒は、23 ページ～29 ページ
にある **4 A** **5 A** を解答してください。

B問題を選択した学校の生徒は、31 ページ～37 ページ
にある **4 B** **5 B** を解答してください。

4 A 東京の人口について取り上げたニュース記事を読んだげんさんは、東京大都市圏^{けん}に関することを調べました。次の問いに答えなさい。

- (1) げんさんは、東京大都市圏がある関東平野について調べました。【メモ】は、げんさんが関東平野について調べたことをもとにつくったものです。あとのア～エのうち、【メモ】中の (a)、(b) に入る語の組み合わせとして最も適しているものを1つ選びなさい。

【メモ】

関東平野は日本最大の平野であり、関東平野には多くの人々が生活している。関東平野には、(a) や荒川^{あらかわ}などの川沿いにできた低地や、台地が広がっている。台地は、富士山^{ふじさん}などの火山灰^{たいせき}が堆積してできた (b) と呼ばれる赤土でおおわれている。

- ア a 利根川^{とねがわ} b 関東ローム イ a 利根川 b カルデラ
ウ a 信濃川^{しなのがわ} b カルデラ エ a 信濃川 b 関東ローム

- (2) げんさんは、東京大都市圏においてヒートアイランド現象が起こっていることを知りました。ヒートアイランド現象について書かれた次の文について、あとのア～エのうち、文中の (c) に入ることばとして最も適しているものを1つ選びなさい。

ヒートアイランド現象とは、都市化^{えいきょう}の影響などにより都市周辺部に比べて都市中心部の (c) 現象のことで、(c) 地点が島のように分布することからヒートアイランド現象と呼ばれています。

- ア 標高が高くなる
イ 気温が高くなる
ウ 出生率が高くなる
エ 地価が高くなる

問題は、次のページに続きます。

- (3) げんさんは、東京大都市圏^{けん}における人口移動や人口集中について調べました。表 1 は東京都、神奈川県、千葉県、埼玉県の昼間人口と夜間人口を、表 2 は東京 23 区、横浜市^{よこはま}、千葉市、さいたま市の昼間人口と夜間人口を、それぞれ示したものです。【会話文】は、表 1 と表 2 をもとに話をしているげんさんと同じクラスのなみさんの会話の一部です。あとの問いに答えなさい。

表 1 東京都、神奈川県、千葉県、埼玉県の昼間人口と夜間人口（2015 年）

	東京都	神奈川県	千葉県	埼玉県
昼間人口（人）	15,920,405	8,322,926	5,582,241	6,456,452
夜間人口（人）	13,515,271	9,126,214	6,222,666	7,266,534

（平成 27 年国勢調査により作成）

表 2 東京 23 区、横浜市、千葉市、さいたま市の昼間人口と夜間人口（2015 年）

	東京 23 区	横浜市	千葉市	さいたま市
昼間人口（人）	12,033,592	3,416,060	951,528	1,175,579
夜間人口（人）	9,272,740	3,724,844	971,882	1,263,979

（平成 27 年国勢調査により作成）

【会話文】

げんさん：東京には国会議事堂や最高裁判所や多くの中央官庁などがあることから、東京は日本の政治の中心地といわれているよね。

なみさん：それだけでなく、東京には企業^{きぎょう}の本社や銀行の本店なども多くあることから、東京は日本の経済の中心地ともいわれているよ。また、東京には大学や博物館などの文化施設^{しせつ}も多くあるよ。

げんさん：東京に都市機能などが集中しているから、東京周辺の県から東京へ通勤や通学をする人も多いんだよね。

なみさん：そうだよ。だから表 1 のように東京都は夜間人口より昼間人口の方が④ [ア 200 イ 300] 万人以上多いんだよ。

げんさん：本当だね。表 2 のように東京 23 区も夜間人口より昼間人口の方が多いいね。

なみさん：その一方で、東京周辺の県の県庁所在地は夜間人口より昼間人口の方が少ないね。

げんさん：県庁所在地はどこも夜間人口より昼間人口の方が多くなると思ったけれど、東京大都市圏ではそうではないみたいだね。

なみさん：表2から、横浜市、千葉市、さいたま市はいずれの市も夜間人口より昼間人口の方が少ないことがわかるね。つまり、市内から市外へ通勤や通学をする人の方が、市外から市内へ通勤や通学をする人よりも㉔〔ウ 多い エ 少ない〕と考えられるね。

げんさん：そうだね。表2から、特に、㉕〔オ 横浜市 カ 千葉市 キ さいたま市〕は夜間人口より昼間人口の方が30万人以上少ないことがわかるね。ところで、表1、表2は8年ほど前の数値だけれど、現在の東京大都市圏における人口移動はどうなっているんだろう。

なみさん：気になるね。それに、大阪大都市圏についても、大阪市、神戸市、京都市、奈良市などの夜間人口と昼間人口を比べてみたいね。

- ① 【会話文】中の下線部について、東京に集中する都市機能を分散させることなどを目的として、新都心などが建設されたり開発されたりしました。表3は、新都心などがある県を示したものです。表3中の（ X ）に入る県の名前を書きなさい。

表3 新都心などがある県

新都心など	県
さいたま新都心	埼玉県
<small>つくば</small> 筑波研究学園都市	（ X ） 県
<small>まくはり</small> 幕張新都心	千葉県
みなとみらい21	神奈川県

- ② 【会話文】中の㉔〔 〕～㉕〔 〕から適しているものをそれぞれ1つずつ選びなさい。

5A ^{さかい}堺市の商店街へ買い物に出かけたゆみさんは、商店街にあるマンホールのふたに地図が描か^{えが}れていることに気づき、後日、その地図について調べました。【メモ1】は、ゆみさんが調べたことをもとにつくったものです。あとの問いに答えなさい。



【メモ1】

- 堺市のマンホールのふたには、ルイス＝ティセラが作ったと考えられる日本の地図が描かれているものがある。
- ルイス＝ティセラは、イエズス会の一員である。
- 1595年に刊行された『世界の舞台』という地図帳には、ルイス＝ティセラが作った地図が収録されており、その地図の中で堺は Sacay と示されている。

(1) 次の文章は、【メモ1】中の下線部㉔が創立された16世紀におけるキリスト教に関することについて述べたものです。あとのア～エのうち、文章中の（ a ）、（ b ）に入る語の組み合わせとして最も適しているものを1つ選びなさい。

ヨーロッパでは、免罪符（贖宥状）^{めんざいふ しょくゆうじょう}を売り出した（ a ）を批判した人々によって1517年から宗教改革が始まりました。宗教改革が始まった後、ザビエルらによって創立されたイエズス会は（ b ）の勢力の回復などをめざしてアジアなどへの布教を開始しました。

- | | | | | |
|---|---|-------|---|---------|
| ア | a | ローマ教皇 | b | カトリック教会 |
| イ | a | ローマ教皇 | b | プロテスタント |
| ウ | a | ルター | b | カトリック教会 |
| エ | a | ルター | b | プロテスタント |

(2) ゆみさんは、【メモ1】中の下線部㉕における、中世から近世にかけての様子に関することについて、さらに調べました。【メモ2】は、ゆみさんが調べたことをもとにつくったものです。あとの問いに答えなさい。

【メモ2】

- ザビエルが1550年に堺を訪れた。
- 安土桃山時代に堺で茶の湯を学んだ今井宗久は、鉄砲の製造に関わった。
- 織田信長は堺に多額の軍用金を要求し、その後、堺の自治権を奪った。

- ① 【メモ2】 中の下線部㉓について述べた次の文章中の (c), (d) に入る語の組み合わせとして最も適しているものを, あとのア～エから1つ選びなさい。

鉄砲は, 1543 年に (c) に流れ着いた船に乗っていた (d) 人によって日本に伝えられたといわれています。その後, 鉄砲作りの技術が各地に伝わり, 鉄砲は堺や国友くにともなどで盛さかんに生産されました。

- ア c 長崎 d スペイン
イ c 長崎 d ポルトガル
ウ c 種子島たねがしま d スペイン
エ c 種子島 d ポルトガル

- ② 【メモ2】 中の下線部㉔に関することについて, 次の問いに答えなさい。

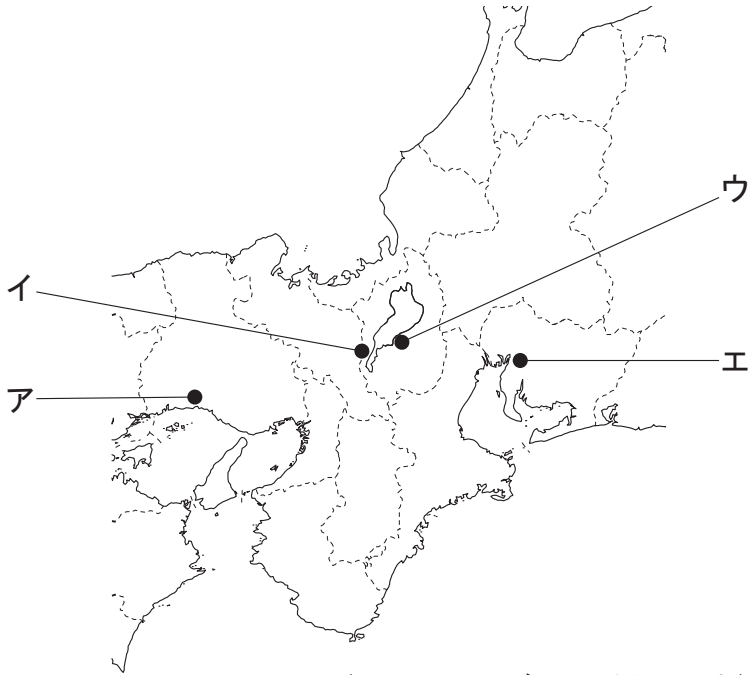
- (i) 次のX～Zは, 【メモ2】 中の下線部㉔が行ったことについて述べた文です。X～Zを下線部㉔が行った順に並べかえると, どのような順序になりますか。あとのア～カから正しいものを1つ選びなさい。

- X 室町幕府むろまちを滅ぼす。ほろ
Y 長篠ながしのの戦いで武田氏たけだ (武田勝頼かつより) を破る。
Z 桶狭間おけはざまの戦いで今川義元いまがわよしもとを破る。

- ア X → Y → Z
イ X → Z → Y
ウ Y → X → Z
エ Y → Z → X
オ Z → X → Y
カ Z → Y → X

- (ii) 【メモ2】 中の下線部②の織田信長は、堺などの自治都市だけでなく、比叡山延暦寺や一向一揆などの仏教勢力に対しても厳しい態度で臨みました。図中のア～エのうち、比叡山延暦寺の位置として最も適しているものを1つ選びなさい。

図



(----- は現在の県界を示す)

A問題は、これで終わりです。

B問題を^{せんたく}選択した学校の生徒は、31 ページ～37 ページ
にある **4 B** **5 B** を解答してください。

4B はるとさんとかりんさんの通う学校は、松江市にある松江城の近くにあります。2人のクラスでは、校区周辺の地域の特色を調べるために班ごとに地域調査を行うことになりました。表は、はるとさんの班とかりんさんの班が地域調査を行うにあたって立てた計画の概要を示したものです。あとの問いに答えなさい。

表

	はるとさんの班	かりんさんの班
テーマ設定	松江市内の道路交通にはどのような課題があるだろうか？	観光地としての松江市の魅力と課題
調査方法	野外観察、文献調査	野外観察、聞き取り調査、文献調査
	考察と分析、発表準備、クラス全体に発表	

(1) 表中の下線部について、はるとさんの班は、2つのルートに分かれて松江駅から松江城へ向かい、松江城周辺の道路交通の様子などを観察することにしました。図1は、はるとさんが野外観察に使うためにつくった地図です。図1中の1～5の●は観察を行う地点を、——と……は松江駅から松江城へ向かう2つのルートをそれぞれ示しています。また、図1中にはルート周辺にある主な施設なども示されています。図2は、図1をつくる時に参考とした、松江市の一部を表した2万5千分の1の地形図です。あとの問いに答えなさい。

図1

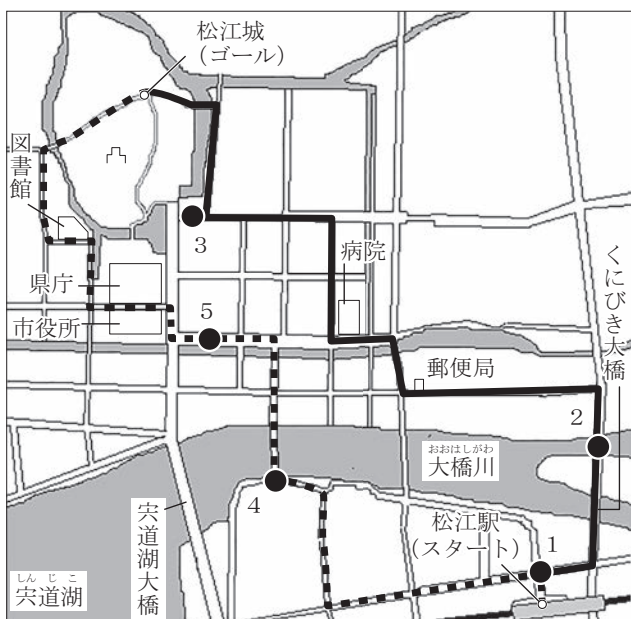
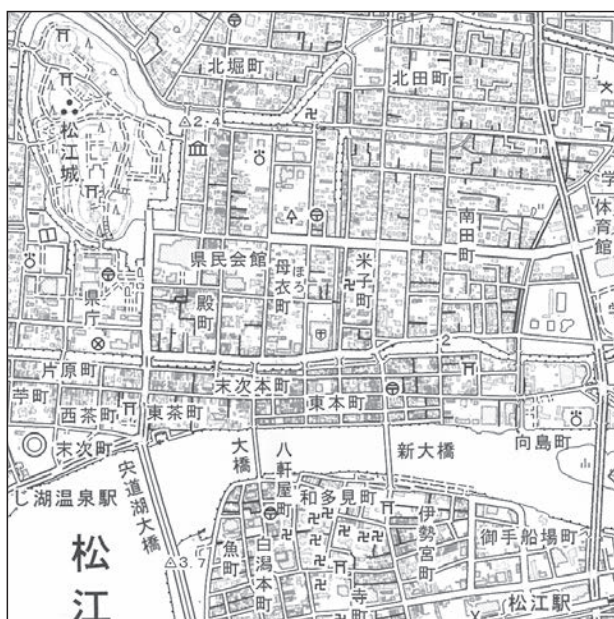


図2



(1 : 25,000 地形図「松江」2016年発行により作成)

- ① はるとさんが**図2**をもとに**図1**に示した次の**ア～エ**の施設のうち、**図1**と**図2**とで示されている位置が異なり、**図2**では松江駅から松江城へ向かう2つのルート*のいずれにも面していない施設を1つ選びなさい。*

ア 市役所 **イ** 図書館 **ウ** 病院 **エ** 郵便局

- ② **図2**について、地形図を発行している国の機関の名前を**漢字5字**で書きなさい。

(2) 表中の調査方法について、次の問いに答えなさい。

- ① はるとさんの班とかりんさんの班は、野外観察などを行ってから、調べたり確かめたりしたい疑問について話し合い、それぞれの班で表にまとめました。**【各班の疑問】**はその表の一部で、A～Dの4つの疑問が示されています。また、**【各班の資料】**中の㉞～㉟の資料は、はるとさんの班とかりんさんの班が、**【各班の疑問】**中のA～Dのいずれかに対して調査したことをもとにつくったもので、数値や内容は文献調査と聞き取り調査をもとにしてつくられています。あとの問いに答えなさい。

【各班の疑問】

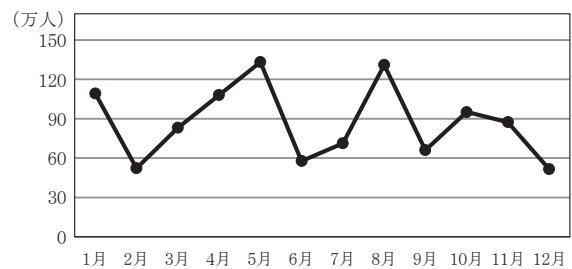
はるとさんの班		かりんさんの班	
A	自動車が渋滞しやすいのは、松江市内中心部のどのあたりだろうか。	C	松江城や松江城周辺の観光地としてのよさは何だろうか。
B	交通の便がよくなったり、渋滞の解消につながったりする道路整備はどのように進んできたのだろうか。	D	松江市を訪れる観光客が多いのはどの季節だろうか。

【各班の資料】

㉞ 松江市周辺の道路に関する年表

1972年	宍道湖大橋の完成
1981年	くにびき大橋の開通
2002年	宍道湖大橋の4車線化
2013年	松江だんだん道路の全線開通 (大橋川の南北に分かれた松江市内の移動時間短縮)

㉟ 松江市を訪れた観光客数 (2019年)



㊱ 図1中の地点1～5の*交通量

地点	自動車 (台)	自転車 (台)	歩行者 (人)
1	9,964	473	3,969
2	29,004	2,039	1,268
3	11,226	649	1,199
4	3,155	1,309	1,040
5	10,339	150	406

㊲ 松江城に来た観光客の主な感想

- ・天守閣など歴史を感じられるところがたくさんあった。
- ・国宝松江城を含めた地域の景観や保存状態がよかった。
- ・街が整備されていて、城が見える遊歩道がよかった。

*交通量：ある平日の午前7時～午後7時の交通量

(松江市の資料などにより作成)

問い 【各班の資料】中の㉠～㉤は【各班の疑問】中のA～Dのいずれに対してつくられたものですか。次のア～エのうち、【各班の疑問】中のA～Dとそれに対する【各班の資料】中の㉠～㉤の組み合わせとして、最も適しているものを1つ選びなさい。

- | | | | | |
|---|-----|-----|-----|-----|
| ア | A-㉠ | B-㉡ | C-㉢ | D-㉤ |
| イ | A-㉡ | B-㉢ | C-㉤ | D-㉠ |
| ウ | A-㉢ | B-㉣ | C-㉠ | D-㉤ |
| エ | A-㉣ | B-㉠ | C-㉤ | D-㉡ |

② かりんさんの班は、観光地としての松江市に関する考察を深めるために、さまざまな資料をつくりました。次のXとYは、かりんさんが資料をつくるためにどのような調査を行ったのかを示したものです。XとYそれぞれにおいて、かりんさんが行った調査によって収集した情報で、作成する資料をつくることができるかできないか、あとのア～エから1つ選びなさい。ただし、それぞれの作成する資料をつくるために、行った調査以外に他の調査は行わなかったものとします。

X

作成する資料

松江市の地図上に、松江市を訪れた観光客の訪問先をいくつか示した図

行った調査

松江市を訪れた複数の観光客に聞き取り調査を行い、松江市を訪れた観光客が松江市内のどこを訪問したのかについて情報を収集した。

Y

作成する資料

2000年から2019年までににおける松江市を訪れた観光客数の推移がわかるグラフ

行った調査

松江市のWebページで文献調査を行い、松江市内のすべての駅における2000年から2019年までの利用者数について情報を収集した。

- | | | | | |
|---|---|-----------|---|-----------|
| ア | X | つくることができる | Y | つくることができる |
| イ | X | つくることができる | Y | つくることできない |
| ウ | X | つくることできない | Y | つくることができる |
| エ | X | つくることできない | Y | つくることできない |

5 B 大阪府に住むけいさんとしほさんは、京都市に住む友人の家に行きました。2人が電車で大阪から京都に向かっていると、線路沿いに「国史跡楠葉台場跡」と書かれた看板がありました。この史跡に興味をもった2人は、まず台場に関することについて調べ、その後に楠葉台場についても調べました。



【メモ】は、2人が調べたことをもとにつくったものです。あとの問いに答えなさい。

【メモ】

○台場に関することについて

- ・台場とは大砲が置かれた砲台のことである。
- ・18世紀後半からロシア、イギリス、アメリカなどの外国船が日本の沿岸に現れるようになると、江戸幕府や藩によって多くの台場が造営された。
- ・幕末には日本各地に約1000か所の台場があったといわれている。

○楠葉台場について

- ・江戸幕府が造営した台場で、勝海舟が造営にかかわり、1865年に完成した。
- ・外国からの脅威や、尊王攘夷派の活動から京都を防衛するために造営された。
- ・戊辰戦争が始まった後に新政府軍の支配下に置かれた。

(1) 【メモ】中の下線部②の状況に対して江戸幕府がとった対応について、けいさんとしほさんが話をしています。あとのア～エのうち、【会話文】中の(a), (b)に入る語の組み合わせとして最も適しているものを1つ選びなさい。

【会話文】

けいさん：ロシア、イギリス、アメリカなどの外国船が18世紀後半から日本の沿岸に現れるようになったことを警戒した幕府は、1825年に異国船打払令を出して外国船を打ち払う方針を示したよね。

しほさん：そうだね。実際に幕府は、現在の神奈川県横須賀市にあった平根山台場の大砲を使って、1837年に浦賀沖に現れたアメリカ船を打ち払ったよ。

けいさん：1838年に著書の中で幕府の方針を批判し、のちに蛮社の獄で処罰されたのが(a)だね。

しほさん：(a)以外にも渡辺崋山らも処罰されたよ。

けいさん：そうだったね。でも、その後幕府は、(b)があつた影響^{えいきょう}などもあり、ロシア、イギリス、アメリカなどの外国船を打ち払うのではなく、燃料や水や食料^{あた}などを与えて退去させるようにしたね。

- ア a 高野長英^{たかの ちやうえい} b インド大反乱
イ a 高野長英 b アヘン戦争
ウ a 間宮林蔵^{まみやりんぞう} b インド大反乱
エ a 間宮林蔵 b アヘン戦争

- (2) 【メモ】中の下線部④に関して、長州藩は実際に攘夷^{ちやうしゅう}を実行しました。長州藩について述べた次の文章中の(c)、(d)に入る語の組み合わせとして最も適しているものを、あとのア～エから1つ選びなさい。

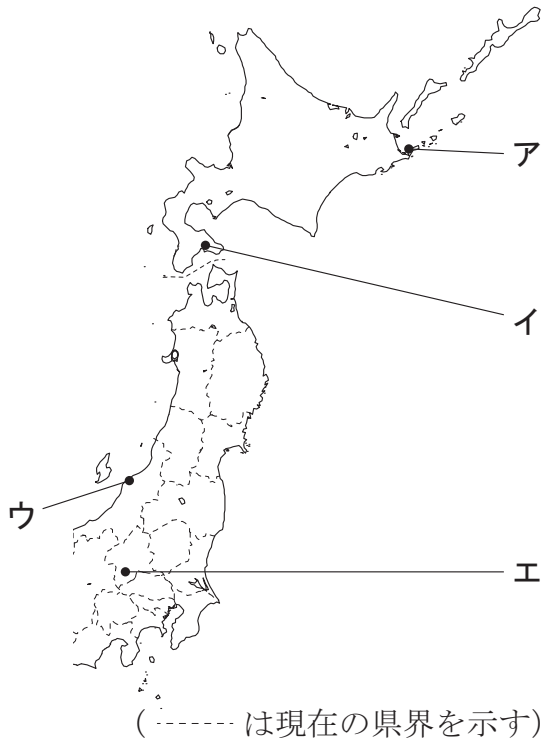
1863年、長州藩は外国船を打ち払うという攘夷を実行しました。しかし、その翌年、長州藩はイギリス、フランス、アメリカ、(c)の攻撃^{こうげき}を受け、下関砲台^{しもせき}はこれら4か国の支配下に置かれました。攘夷が困難なことを悟った長州藩は攘夷から開国に考えを変え始め、長州藩の(d)らが長州藩の実権をにぎりました。

- ア c ドイツ d 大隈重信^{おおくましげのぶ}
イ c ドイツ d 木戸孝允^{きどたかよし}
ウ c オランダ d 大隈重信
エ c オランダ d 木戸孝允

(3) 【メモ】 中の下線部②の戊辰戦争ぼしんに関することについて、次の問いに答えなさい。

① 戊辰戦争は、鳥羽・伏見とぼ ふしみの戦いに始まり、五稜郭ごりょうかく付近で行われた五稜郭の戦いで終結しました。図中のア～エのうち、五稜郭の位置として最も適しているものを1つ選びなさい。

図



② 次のX～Zは、戊辰戦争中やその前後に起こったできごとについて述べた文です。X～Zをできごとが起こった順に並べかえると、どのような順序になりますか。あとのア～カから正しいものを1つ選びなさい。

X 五箇条の御誓文ご かにょう ごせいもんが発せられる。

Y 廃藩置県はいはん ちけんが行われる。

Z 王政復古の太号令おうせいふく こが発せられる。

ア X → Y → Z

イ X → Z → Y

ウ Y → X → Z

エ Y → Z → X

オ Z → X → Y

カ Z → Y → X