

令和 2 年度中学生チャレンジテスト

第 3 学年 社会

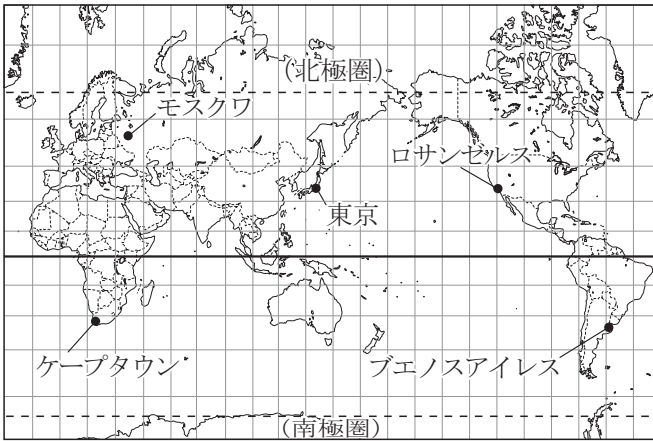
注 意

- 1 調査問題は、1 ページから 30 ページまであります。先生の合図があるまで、調査問題を開かないでください。
- 2 解答はすべて解答用紙⑤（社会）に記入してください。
- 3 解答は、HBまたはBの黒鉛筆（シャープペンシルも可）を使い、濃く、はっきりと書いてください。また、消す時は消しゴムできれいに消してください。
- 4 解答を選択肢から選ぶ問題は、解答用紙のマーク欄を黒く塗りつぶしてください。
- 5 解答を記述する問題は、指示された解答欄に記入してください。
また、解答欄からはみ出さないように書いてください。
- 6 解答用紙は、オモテ、ウラがあります。
- 7 解答用紙の〔生徒記入欄〕に、組、出席番号を記入し、マーク欄を黒く塗りつぶしてください。
- 8 調査時間は 45 分です。

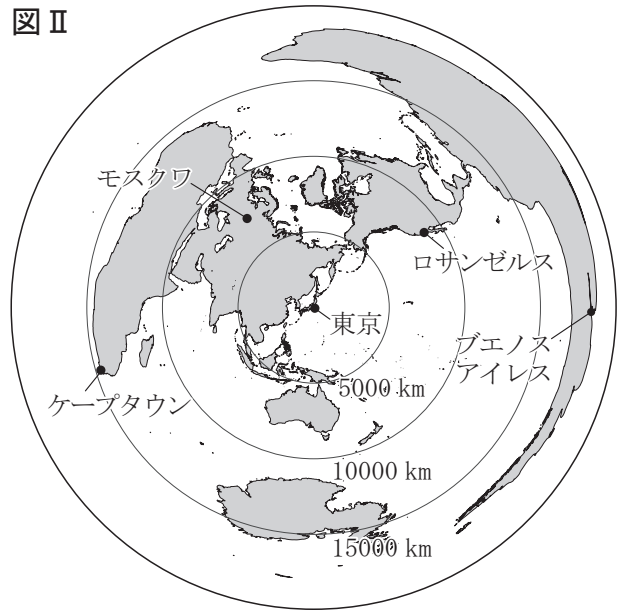
問題は、次のページから始まります。

1 図Ⅰは緯線と経線が直角に交わった世界地図、図Ⅱは中心の東京からの距離と方位が正しい世界地図、図Ⅲは面積が正しい世界地図です。図Ⅰ～図Ⅲを見て、あとの問いに答えなさい。

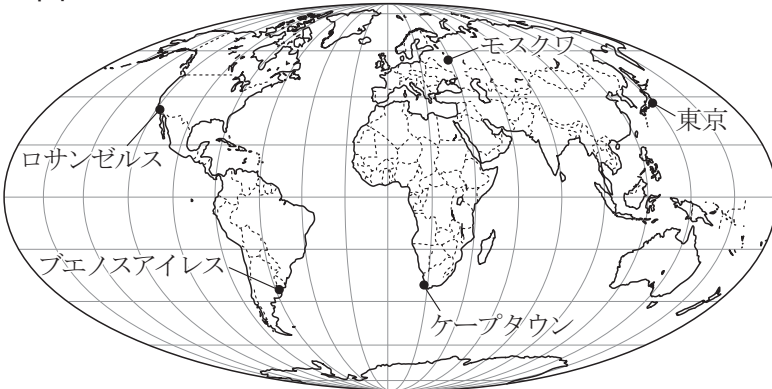
図Ⅰ



図Ⅱ



図Ⅲ



(..... は国界を示す)

(1) 次の文章中の (a), (b) に入る語の組み合わせとして最も適しているものを、あとのア～エから1つ選びなさい。

モスクワ、ケープタウン、ロサンゼルス、ブエノスアイレスの4つの都市のうち、東京のほぼ真東にある都市は (a) であり、東京からの距離が最も近い都市は (b) である。

- | | | | | |
|---|---|----------|---|--------|
| ア | a | ロサンゼルス | b | モスクワ |
| イ | a | ロサンゼルス | b | ロサンゼルス |
| ウ | a | ブエノスアイレス | b | モスクワ |
| エ | a | ブエノスアイレス | b | ロサンゼルス |

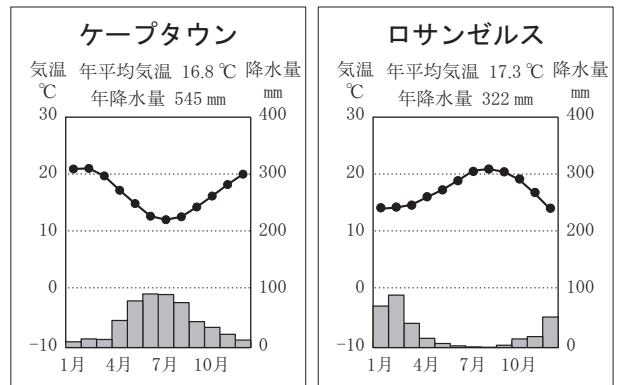
(2) 次のア～エのうち、図Ⅲの利用方法として最も適しているものを1つ選びなさい。

- ア 国や島の正しい形をとらえる。
- イ 航空機の最短ルートを知る。
- ウ 世界の人口分布や農作物の生産分布を表す。
- エ 2つの都市の時差を求める。

(3) 図Ⅳはケープタウンとロサンゼルス^{ロサンゼルス}の雨温図であり、2つの都市には同じ気候の特徴がみられます。

この気候の特徴がみられる地域で行われる農業として最も適しているものを、次のア～エから1つ選びなさい。

図Ⅳ



- ア 大農園でコーヒーやさとうきび^{さいまい}の栽培が行われている。
- イ 乾燥に強い、ぶどうやオレンジ^{さか}の栽培が盛んである。
- ウ 短い草の草原^{いなさく}が広がり、広大な牧場で牛や羊が放牧されている。
- エ 低地では稲作^{いなさく}が盛んであり、山の斜面には茶畑^{さか}が広がっている。


(4) 北極圏では夏には白夜^{びやくや}の現象が見られ、昼の時間が1年で最も長くなる夏至^{げし}のころには、1日中太陽が沈まない日もあります。表Ⅰは、2019年の夏至の日である6月22日の東京、モスクワ、ロサンゼルス^{ロサンゼルス}の、日の出時刻と日の入り時刻を調べたものです。モスクワに当たるものをX、Yから1つ選びなさい。また、そのように判断した理由を、図Ⅰを参考にして30字以上、40字以内で書きなさい。

表Ⅰ

都市	日の出時刻	日の入り時刻
東京	4 : 26	19 : 00
X	3 : 45	21 : 18
Y	5 : 43	20 : 08

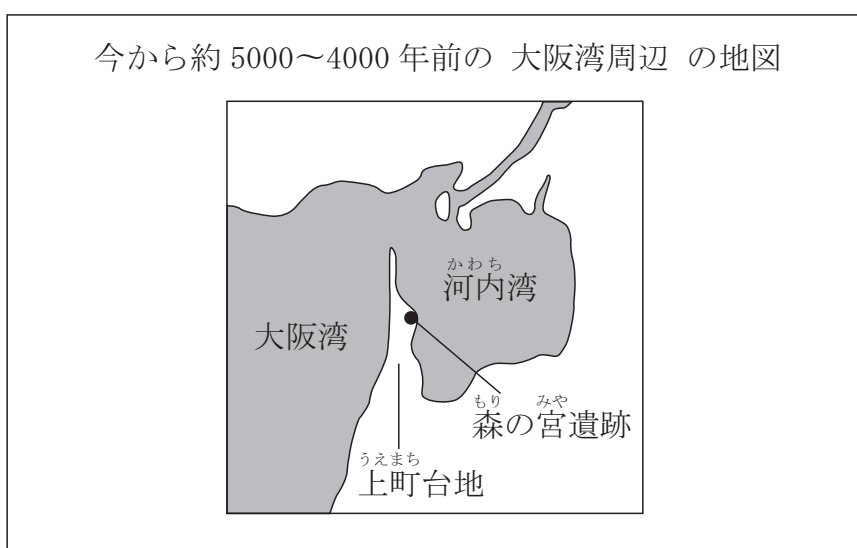
※時刻はいずれも現地時間である。
(国立天文台 Web ページにより作成)

2 のりこさんのクラスでは、班ごとに大阪の歴史について調べ、スライドをつかって授業で発表することになりました。あとの問いに答えなさい。



(1) 1班は、今から約5000～4000年前の大阪について調べ、スライドIを説明する発表原稿をあとのようにまとめました。【スライドIの発表原稿】中の(a), (b)に入ることばの組み合わせとして最も適しているものを、あとのア～エから1つ選びなさい。

スライドI



(『大阪府史』などにより作成)

【スライドIの発表原稿】

スライドは今から約5000～4000年前の大阪湾周辺の地図です。半島のように突き出した上町台地に森の宮遺跡（現在の大阪市中心部）があり、その東側には河内湾と呼ばれる内海が広がっていました。このころ日本は(a)時代で、この時代を代表する遺跡として、(b)遺跡があげられます。


- | | | | | |
|---|---|----|---|----------|
| ア | a | 縄文 | b | 佐賀県の吉野ヶ里 |
| イ | a | 縄文 | b | 青森県の三内丸山 |
| ウ | a | 弥生 | b | 佐賀県の吉野ヶ里 |
| エ | a | 弥生 | b | 青森県の三内丸山 |

- (2) 2班は、大阪にある四天王寺^{してんのうじ}について調べ、スライドⅡを説明する発表原稿をどのようにまとめました。【スライドⅡの発表原稿】中の (c)、(d) に入ることばの組み合わせとして最も適しているものを、あとのア～エから1つ選びなさい。

スライドⅡ

てんのうじ
大阪市天王寺区にある四天王寺

・ しょうとくたいし
聖徳太子が建てたと言われる。



< 聖徳太子の系図 >

```

    graph TD
      A[蘇我氏の娘] --- B[欽明天皇]
      A --- C[用明天皇]
      A --- D[推古天皇]
      E[穴穂部間人皇女] --- F[聖徳太子]
      E --- G[用明天皇]
  
```

※縦の上下線 (|) は親子関係，横の左右線 (—) は兄弟姉妹関係，横の二重線 (=) は夫婦関係を表す。

【スライドⅡの発表原稿】

四天王寺（現在の大阪市天王寺区）を建てたと言われる聖徳太子は、スライド中の (c) 天皇が即位すると、摂政^{せつしやう}となって政治に参加し、天皇 (大王^{おおきみ}) を中心とする政治制度を蘇我氏とともに整えようとしてしました。7世紀初めには、家がらにとらわれず、個人の才能によって、役人として取り立てる (d) を定めました。

- | | | |
|---|------|----------------------------|
| ア | c 推古 | d 冠位十二階 ^{かんい} の制度 |
| イ | c 推古 | d 十七条の憲法 |
| ウ | c 用明 | d 冠位十二階の制度 |
| エ | c 用明 | d 十七条の憲法 |

- (3) 3班は、大阪おおさかにつくられた難波宮なに わのみやについて調べました。スライドⅢ中の写真は難波宮跡で、3班はスライドⅢを説明する発表原稿をあとのようにまとめました。【スライドⅢの発表原稿】を読んで、あとの問いに答えなさい。

スライドⅢ



【スライドⅢの発表原稿】

難波宮には前期難波宮と後期難波宮がありました。前期難波宮は7世紀中ごろ㉠につくられましたが、686年に火災ぜんしょうで全焼したと『日本書紀』には書かれています。その全焼した前期難波宮の再建に着手したのが聖武天皇しょうむです。再建された難波宮は後期難波宮と呼ばれています。㉡

(大阪歴史博物館 『原寸大復元後期難波宮大極殿だいくてん』などにより作成)

- ① 【スライドⅢの発表原稿】中の下線部㉠の時期に起こったできごとについて述べた次の文章中の (e) に入る適切なことばを書きなさい。

中大兄皇子なかのおおえのおうじと中臣鎌足なかとみのかまたり (後の藤原鎌足ふじわらのかまたり) らは、聖徳太子しょうとくたいしの死後、権力をふるっていた蘇我氏そがを倒し、政治の改革を始めました。この改革は (e) と呼ばれています。

- ② 次の文章は、【スライドⅢの発表原稿】中の下線部⑧のころの文化について述べたものです。文章中の（ f ）に入る語として最も適しているものを、あとのア～エから1つ選びなさい。

聖武天皇のころに最も栄えた国際色豊かな文化は、（ f ）文化と呼ばれています。東大寺の正倉院にある宝物の中には、シルクロードなどを通して、アジア各地から伝わったと考えられるものもあります。

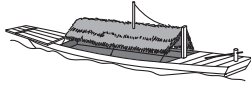
ア ^{てんびょう}天平 イ 化政 ウ 国風 エ ^{あすか}飛鳥

- (4) 4班は、重要な交通路としての淀川^{よどがわ}について調べました。あとの問いに答えなさい。


スライドⅣ

重要な交通路としての淀川

- ・平安時代…土佐（高知県）の国司の任を終えた紀貫之^{きのつらゆき}も、帰京する時に利用したとされている。^あ
- ・江戸時代…旅客専用の三十石船が登場した。
- ・明治時代…蒸気機関を備えた外輪船が導入された。^い



三十石船



外輪船

- ① スライドⅣ中の下線部^あの人物が淀川を利用したと言われているのは、10世紀のことです。10世紀に起こったできごととして最も適しているものを、次のア～エから1つ選びなさい。

- ア ^{かんごう} 勘合貿易が始まった。
- イ ^{ごせいばいしきもく} 御成敗式目が制定された。
- ウ ^{たいらのまさかど} 平将門の乱や^{ふじわらのすみとも} 藤原純友の乱が起こった。
- エ ^{たいらのきよもり} 平清盛が^{だいじょうだいじん} 太政大臣になった。

- ② 次の【スライドⅣの発表原稿】は、4班がスライドⅣを説明するためにまとめたものの一部です。下線部^いの時代の淀川について述べた【スライドⅣの発表原稿】中の（ g ）に入る国名を書きなさい。

【スライドⅣの発表原稿】

明治政府は、主要河川^{かせん}の整備を進めるために外国から土木技師を招きました。淀川の修築工事には、（ g ）のヨハネス＝デ＝レーケらに関わりました。（ g ）は1641年に江戸幕府によって平戸^{ひらど}の商館を長崎^{ながさき}の出島に移された国で、鎖国^{さこく}中にも日本との貿易を認められていました。

（大阪市立博物館 『歴史のなかの淀川』により作成）

問題は、次のページに続きます。

- (5) 5班は、大阪の城について調べました。スライドV中の写真は千早城跡の石碑と大阪城の天守閣の写真です。5班はスライドVを説明する発表原稿をあとのようにまとめました。【スライドVの発表原稿】を読んで、あとの問いに答えなさい。

スライドV

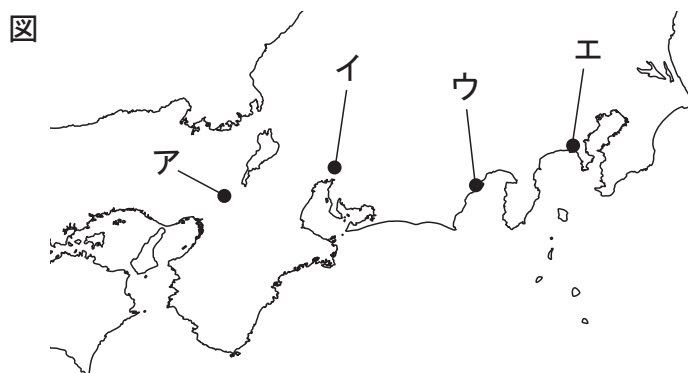


【スライドVの発表原稿】

スライドV中の千早城跡の石碑は南河内郡千早赤阪村にあります。このあたりにあったと考えられる千早城は楠木正成によって築かれました。楠木正成はこの城にこもり、鎌倉幕府が召集した幕府軍と戦ったと伝えられています。

スライドV中の大阪城の天守閣は1931年に再建されたもので、大阪市中央区にあります。現在見られる大手門などの建造物の中には江戸時代につくられたものもあります。

- ① 【スライドVの発表原稿】中の下線部◎は、源頼朝が開きました。図中のア～エのうち、鎌倉幕府が開かれた位置として最も適しているものを1つ選びなさい。



- ② 5班は、【スライドVの発表原稿】中の下線部⑩に関して、よりくわしく説明するためにさらに調べ、メモをつくりました。メモを見ながら話し合っている、みえさんとのりこさんの会話文を読み、(h), (i)に入る語の組み合わせとして適しているものを、あとのア～エから1つ選びなさい。

メモ

- ・豊臣秀吉とよとみひでよしは1583年に大阪城の築城を開始した。
- ・大阪城は1615年に徳川軍とくがわの攻撃を受け焼失しょうしつした。
- ・江戸幕府は1620年に大阪城の再建を開始した。
- ・1868年に始まった戊辰戦争ぼしんの際に、大阪城のほとんどが焼失した。

みえさん : 最初に豊臣氏によって築かれた大阪城はとても豪華ごうかな造りだったらしいよ。その大阪城は1615年の大阪夏の陣で焼失したんだよ。

のりこさん : 江戸幕府は、すっかり焼けてしまった大阪城を、2代将軍徳川秀忠ひでただと3代将軍 (h) の時代に再建したんだよ。

みえさん : でも、その大阪城も戊辰戦争の時にまた焼失したんだね。

のりこさん : 戊辰戦争って、(i) で始まった戦争だったよね。

みえさん : 大阪城を通して歴史の流れを感じとることができるね。

- | | | | | |
|---|---|--------------------------|---|-----------------------------|
| ア | h | 徳川綱吉 <small>つなよし</small> | i | 鳥羽・伏見 <small>とぼ ふしみ</small> |
| イ | h | 徳川綱吉 | i | 五稜郭 <small>ごりょうかく</small> |
| ウ | h | 徳川家光 <small>いえみつ</small> | i | 鳥羽・伏見 |
| エ | h | 徳川家光 | i | 五稜郭 |

- ③ 【スライドVの発表原稿】中の下線部⑪の時代におこった次のA～Cのできごとを、年代の古いものから順に並べた場合の正しい組み合わせを、あとのア～カから1つ選びなさい。

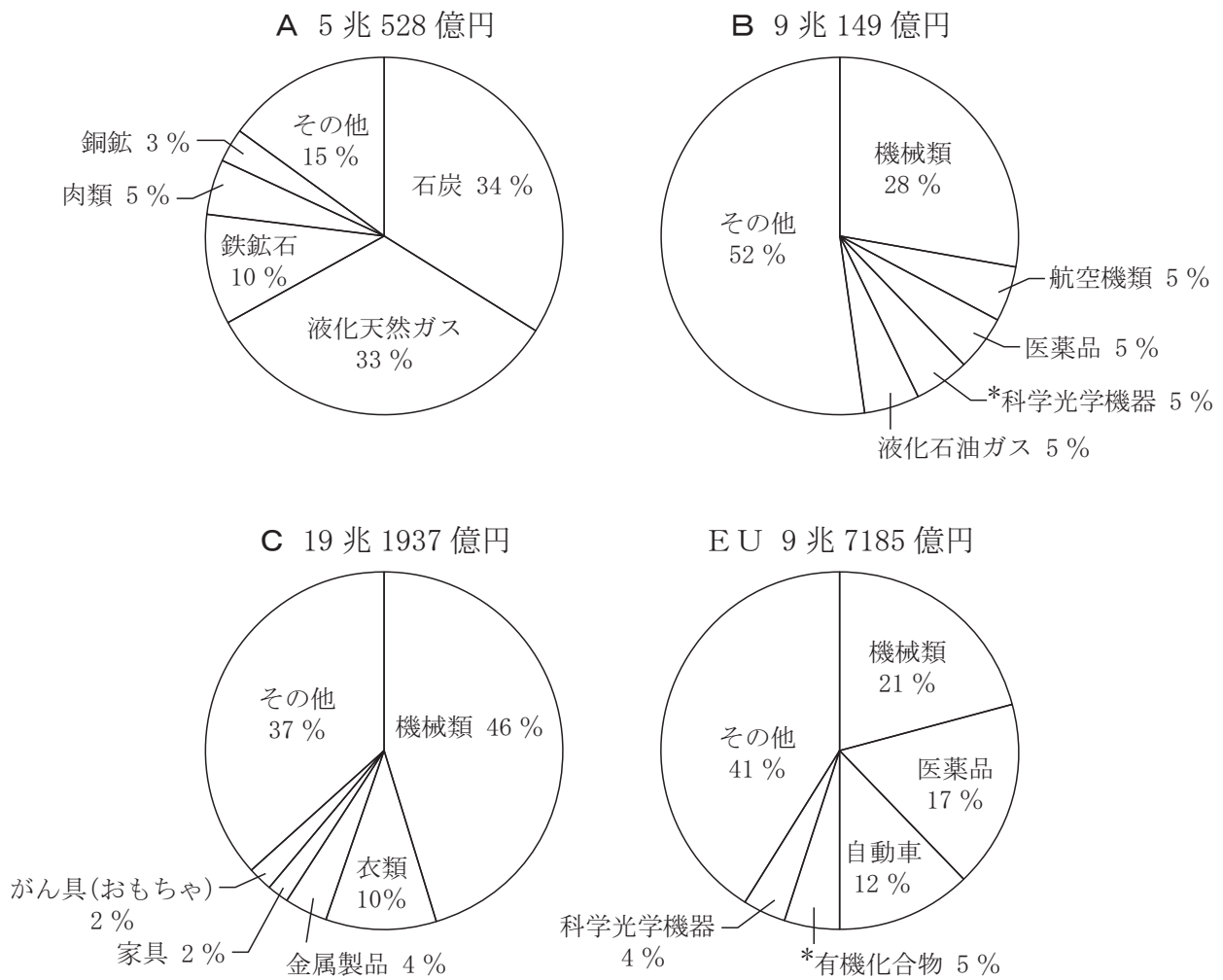
- A 薩長同盟さつちようが結ばれる。
- B 大政奉還たいせいほうかんがおこなわれる。
- C 安政の大獄あんせい たいごくがおこる。

- | | | | |
|---|-----------|---|-----------|
| ア | A → B → C | イ | A → C → B |
| ウ | B → A → C | エ | B → C → A |
| オ | C → A → B | カ | C → B → A |

3 みつるさんのクラスでは、日本の貿易相手国とその貿易品について調べることになりました。あとの問いに答えなさい。

(1) みつるさんは、日本の主な貿易相手国である中国、アメリカ合衆国、オーストラリアおよびEU（ヨーロッパ連合）からの輸入品を調べ、図Iを作成しました。図IのA～Cは、中国、アメリカ合衆国、オーストラリアのいずれかです。

図I 日本の主な貿易相手国およびEUからの輸入額とその内訳（2018年）



*科学光学機器：カメラやレンズ，医療用機器など。

*有機化合物：炭素を含む化合物。日用品や工業製品，医薬品の素材となる。

※輸入額の割合は，四捨五入の関係で内訳の合計が100%にならない場合がある。

(『日本国勢図会 2019/20』により作成)

① 図 I の A～C に当たる国の正しい組み合わせを、次のア～カから 1 つ選びなさい。

- | | | | |
|---|-----------|-----------|-----------|
| ア | A 中国 | B アメリカ合衆国 | C オーストラリア |
| イ | A 中国 | B オーストラリア | C アメリカ合衆国 |
| ウ | A アメリカ合衆国 | B 中国 | C オーストラリア |
| エ | A アメリカ合衆国 | B オーストラリア | C 中国 |
| オ | A オーストラリア | B 中国 | C アメリカ合衆国 |
| カ | A オーストラリア | B アメリカ合衆国 | C 中国 |

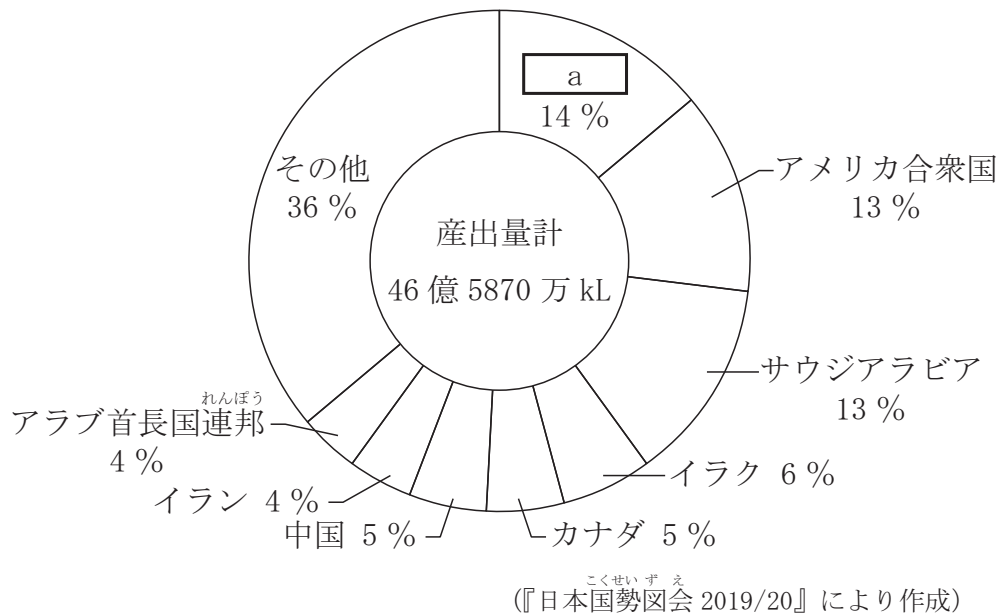
② 中国、アメリカ合衆国、オーストラリア、EU について述べた次のア～エの文のうち、内容が誤っているものを 1 つ選びなさい。

- ア 中国は、経済特区を設けて外国企業を誘致し工業化を進め、今では「世界の工場」と呼ばれている。
- イ アメリカ合衆国の先端技術産業が盛んな、北緯 37 度付近より南の地帯はサンベルトと呼ばれている。
- ウ オーストラリアはかつてはイギリスが最大の貿易相手国であったが、現在は日本が最大の貿易相手国である。
- エ EU の共通通貨はユーロであるが、EU の加盟国の中で導入していない国もある。

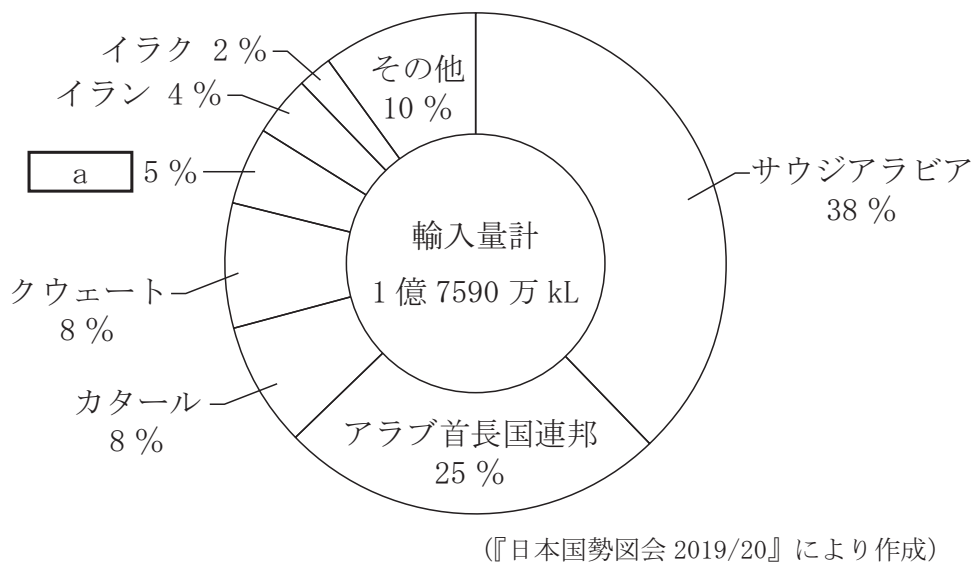
(2) たかしさんとえみさんは、日本の原油の輸入について調べました。図Ⅱは原油の国別産出量を、図Ⅲは日本の原油輸入先を示したものです。

図Ⅱ、図Ⅲを見ながら話し合っている、たかしさんとえみさんの【会話文】を読んで、あとの問いに答えなさい。なお、図Ⅱ、図Ⅲの a は、あとの【会話文】中の a と同じ国を表します。

図Ⅱ 原油の国別産出量（2018年）



図Ⅲ 日本の原油輸入先（2018年）



【会話文】

えみさん : 世界有数の産油国である は、主にヨーロッパに原油を輸出しているけど、日本にも原油を輸出しているね。

たかしさん : 日本は、 と共同でシベリアの資源開発をして、この国から原油の輸入をすすめているそうだよ。

えみさん : 日本の原油輸入先をみると、その多くは 湾に面している西アジアの国だね。

たかしさん : その西アジアでは、 教が広く信仰されているね。

えみさん : 教では、豚肉を食べることやお酒を飲むことが禁止されているね。

① 会話文中の に入る国名を書きなさい。

② 次のア～エのうち、【会話文】中の , に入る語の組み合わせとして適しているものを1つ選びなさい。

- | | | | | |
|---|---|------|---|-------|
| ア | b | ペルシア | c | イスラム |
| イ | b | ペルシア | c | ヒンドゥー |
| ウ | b | ベンガル | c | イスラム |
| エ | b | ベンガル | c | ヒンドゥー |

(3) りくさんの班は、日本と東南アジアの国々との貿易について調べました。表 I は、インドネシア、タイ、ベトナム、マレーシアの、2001 年と 2018 年の日本への輸出額と輸出額の上位 5 品目の内訳を示したものです。

表 I 東南アジア 4 か国の日本への輸出額および輸出額上位 5 品目の内訳

国名	年	輸出額	日本への輸出額上位 5 品目				
インドネシア	2001 年	18,056 億円	液化天然ガス 27 %	原油 12 %	機械類 11 %	魚介類 6 %	合板 6 %
	2018 年	23,789 億円	石炭 15 %	液化天然ガス 12 %	機械類 11 %	銅鉱 7 %	衣類 5 %
タイ	2001 年	12,604 億円	機械類 37 %	魚介類 10 %	肉類 4 %	天然ゴム 3 %	家具 3 %
	2018 年	27,707 億円	機械類 38 %	肉類 8 %	プラスチック 5 %	魚介類 4 %	自動車部品 4 %
ベトナム	2001 年	3,167 億円	衣類 21 %	魚介類 18 %	原油 17 %	機械類 14 %	家具 5 %
	2018 年	23,352 億円	機械類 30 %	衣類 20 %	はきもの 5 %	魚介類 5 %	家具 4 %
マレーシア	2001 年	15,613 億円	機械類 55 %	液化天然ガス 25 %	合板 5 %	木材 4 %	原油 3 %
	2018 年	20,910 億円	機械類 31 %	液化天然ガス 29 %	合板 3 %	プラスチック 3 %	衣類 2 %

(『日本国勢図会』^{こくせいずえ}により作成)

- ① 表 I の 4 か国のうち、2018 年の日本への輸出額が最も多い国を、図 IV の A～D から 1 つ選びなさい。

図 IV



(..... は国界を示す)

- ② 表 I の 4 か国の日本への輸出額と輸出品の変化について述べた次のア～エの文のうち、表 I から読み取れる内容として誤っているものを 1 つ選びなさい。

ア 2018 年のインドネシアの日本への輸出品をみると、輸出額の 30 %以上が鉱産資源である。

イ タイの日本への肉類の輸出額をみると、2001 年に比べて 2018 年は 4 倍以上になった。

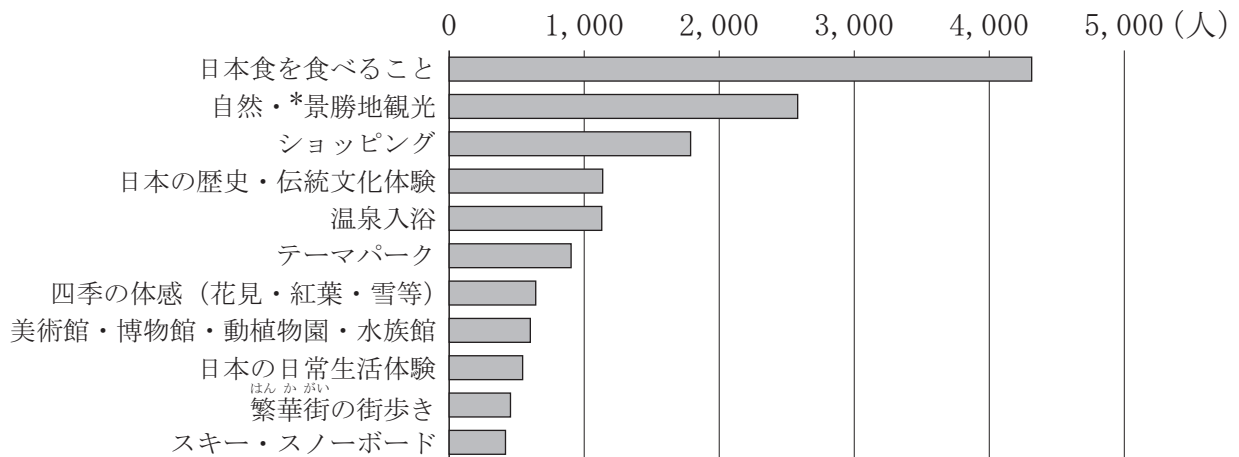
ウ 4 か国のうち、日本への 2018 年の輸出額が 2001 年に比べて最も増加した国はベトナムである。

エ マレーシアの日本への機械類の輸出額は、2001 年に比べて 2018 年は増加している。

4 図 I は、日本へ観光目的で訪れた外国人（訪日外国人）にとつたアンケートの「訪日前に最も期待していたこと」の結果であり、表 I はその結果を地域別に上位 5 位まで示したものです。

まもるさんのクラスの社会科の授業では、図 I、表 I のアンケート結果から、気になる項目について調べることになりました。あとの問いに答えなさい。

図 I 訪日前に最も期待していたこと【全回答】(2018年)



*景勝地：景色や風景が良い場所

(観光庁の資料により作成)

表 I 訪日前に最も期待していたこと【地域別の 1 位～5 位】(2018 年)

地域	回答数	1 位	2 位	3 位	4 位	5 位
東アジア	8,336 人	日本食を食べること 24%	自然・景勝地観光 18%	ショッピング 15%	温泉入浴 10%	テーマパーク 7%
東南アジア	2,646 人	日本食を食べること 27%	自然・景勝地観光 18%	ショッピング 15%	テーマパーク 7%	四季の体感 (花見・紅葉・雪等) 6%
ヨーロッパ	1,478 人	日本食を食べること 31%	日本の歴史・伝統文化 体験 16%	自然・景勝地観光 14%	日本の日常生活体験 7%	美術館・博物館・動植 物園・水族館 4%
北アメリカ	2,360 人	日本食を食べること 35%	日本の歴史・伝統文化 体験 15%	自然・景勝地観光 11%	日本の日常生活体験 6%	温泉入浴 4%
オセアニア	615 人	日本食を食べること 25%	スキー・スノーボード 15%	日本の歴史・伝統文化 体験 14%	自然・景勝地観光 10%	四季の体感 (花見・紅葉・雪等) 5%

※地域：回答者の国籍等を以下のとおり地域別に分けたもの

東アジア：中国、韓国、台湾、香港

東南アジア：タイ、マレーシア、インドネシア、フィリピン、ベトナム、シンガポール

ヨーロッパ：イギリス、フランス、ドイツ、イタリア、スペイン、ロシア

北アメリカ：アメリカ合衆国、カナダ

オセアニア：オーストラリア

(観光庁の資料により作成)

- (1) まもるさんとかなえさんは、**図 I**、**表 I**を見て気づいたことを話し合いました。次の会話文中の (A)、(B) に入ることばの組み合わせとして最も適しているものを、あとの**ア**～**エ**から選びなさい。

まもるさん：**図 I**をみると、日本を訪れる外国人は、日本食を食べることや日本の自然・景勝地観光を楽しみにしている人が多いんだね。

かなえさん：**表 I**で地域別にみると、その2つは共通しているけれど、地域によって違いもあるよ。

まもるさん：アジアの人たちはショッピングに期待する人が多いけど、アジア以外の地域の人たちは、(A)に興味があるようだね。

かなえさん：スキーやスノーボードに期待するオーストラリアの人が多いのは、オーストラリアと日本は(B)だから、自分の国が暑いときに日本に来てスキーやスノーボードを楽しむのだろうね。

まもるさん：今後は、より多くの外国人が日本に来るだろうから、私たちが外国人と接する機会も多くなるかもしれないね。

- | | |
|---|--|
| <p>ア A テーマパーク</p> <p>イ A テーマパーク</p> <p>ウ A 日本の歴史・伝統文化体験</p> <p>エ A 日本の歴史・伝統文化体験</p> | <p>B <small>いど</small>緯度が同じ</p> <p>B 季節が逆</p> <p>B 緯度が同じ</p> <p>B 季節が逆</p> |
|---|--|

- (2) まもるさんは、日本の自然・景勝地観光に興味をもつ訪日外国人が多いので、日本の世界自然遺産について調べました。**表 II**は日本で世界自然遺産に登録されている4か所についてまとめたものです。

表 II中の(C)は、じゅれい樹齢数千年のじょうもんすぎ縄文杉をはじめ、多様で豊かな自然が残されていることが評価され、世界自然遺産に登録されました。(C)に入る地名を次の**ア**～**エ**から1つ選びなさい。

表 II 日本の世界自然遺産

登録年	登録名	所在地
1993年	(C)	<small>かごしま</small> 鹿児島県
1993年	<small>しらかみ</small> 白神山地	青森県, 秋田県
2005年	<small>しれとこ</small> 知床	北海道
2011年	<small>おがさわら</small> 小笠原諸島	東京都

- | | | | |
|--|---|--|---|
| <p>ア <small>やくしま</small>屋久島</p> | <p>イ <small>たねがしま</small>種子島</p> | <p>ウ <small>さくらじま</small>桜島</p> | <p>エ <small>みやこじま</small>宮古島</p> |
|--|---|--|---|

- (3) 日本の歴史に興味がある訪日外国人が多いことから、かなえさんは日本の世界文化遺産とその所在地について調べました。表Ⅲは、かなえさんが選んだ日本の世界文化遺産の5か所です。

表Ⅲ 日本の世界文化遺産の5か所

登録年	登録名	所在地
1993年	姫路城 <small>ひめじじょう</small>	兵庫県 <small>ひょうご</small>
1994年	古都京都の文化財（京都市 <small>うじ</small> 、宇治市 <small>うじ</small> 、大津市 <small>おおつ</small> ）	京都府 <small>しが</small> 、滋賀県 <small>しが</small>
1995年	白川郷 <small>しらかわごう</small> 、五箇山の合掌造り集落 <small>ごかやま がっしょうづく</small>	岐阜県 <small>ぎふ</small> 、富山県 <small>とやま</small>
2013年	富士山 — 信仰の対象と芸術の源泉 <small>げんせん</small> —	静岡県 <small>しずおか</small> 、山梨県 <small>やまなし</small>
2016年	ル・コルビュジエの建築作品 — 近代建築運動への顕著な貢献 <small>げんちよ こうけん</small> —	東京都

- ① かなえさんは、古都京都の文化財のうち、慈照寺銀閣じしょうじぎんかく、天龍寺てんりゅうじ、平等院鳳凰堂びやうどういんほうおうどう、清水寺きよみずでらについて調べ、ア～エのカードをつくりました。カード中の下線部の人物がそれぞれ活躍した時期の古いものから順にカードを並べた場合、3番目になるカードをア～エから1つ選びなさい。

ア

慈照寺銀閣は、足利義政によって建てられました。



イ

天龍寺は、亡くなった醍醐天皇のために建立されました。



ウ

平等院鳳凰堂は、藤原頼通によって建てられました。




エ

清水寺は、坂上田村麻呂が建立に深くかかわりました。




- ② かなえさんは、外国人観光客に人気がある清水寺周辺での町づくりについて調べる中で、京都市がさまざまな環境の整備をおこなっていることを知りました。かなえさんがみつけた次の資料Ⅰ、資料Ⅱは、古くからの町屋の建物が残っている八坂通と産寧坂の整備による変化の様子を示したものです。ここでおこなわれた整備の目的は何だと考えられますか。資料Ⅰと資料Ⅱに共通する変化からわかる整備内容にふれて、20字以上、40字以内で書きなさい。


資料Ⅰ 八坂通の整備による変化



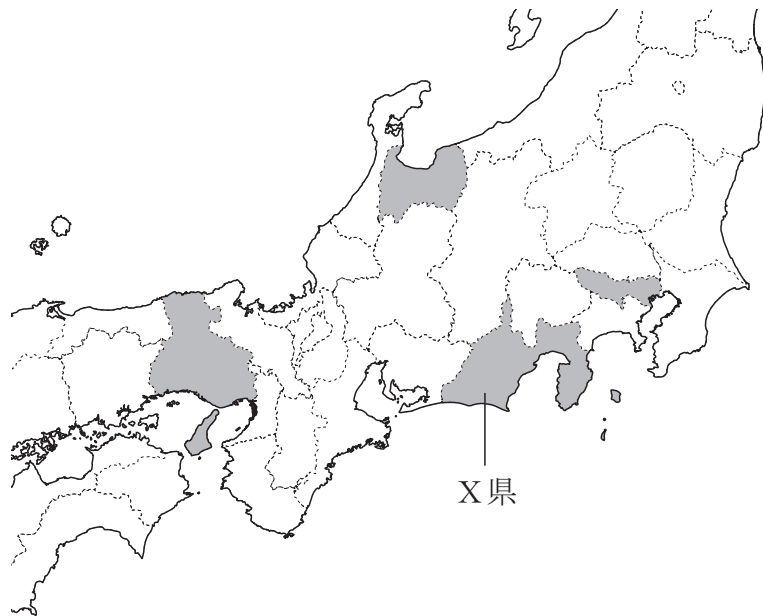
資料Ⅱ 産寧坂の整備による変化



(京都市の Web ページなどにより作成)

- ③ かなえさんは、選んだ世界文化遺産の所在地のうち、図Ⅱ中の  で示した4都県について、人口密度と工業の特色を調べ、表Ⅳにまとめました。
- 図Ⅱ中のX県に当たるものを、表Ⅳ中のア～エから選びなさい。

図Ⅱ 日本の世界文化遺産のある4都県



(----- は県界を示す)

表Ⅳ 4都県の人口密度と工業の特色 (2017年)

		ア	イ	ウ	エ
人口密度 (人/km ²)		6255.3	655.1	472.6	248.6
製造品出荷額 (億円)		79,116	157,988	169,119	38,912
製造品出荷額の 上位3品目	1	*輸送用機械	化学	輸送用機械	化学
	2	印刷	鉄鋼	電気機械	*生産用機械
	3	*電気機械	食料品	化学	金属製品

*輸送用機械：自動車，オートバイや船など。

*電気機械：住宅用や業務用の電気製品など。

*生産用機械：建設現場や工場などで使う機械など。

(『データで見る県勢 2020年版』により作成)

問題は、次のページに続きます。

(4) まきさんとりょうさんは、日本食に興味をもつ訪日外国人が多いことから、日本食の中でも特に伝統的な日本の食文化である和食について調べました。

和食について調べると、和食は、「ご飯」と「一汁三菜（汁物と三種類のおかず）」が基本的な献立であり、主菜はおもに魚料理、副菜は煮炊きした野菜や豆腐、味付けに味噌やしょうゆ、塩が使われることがわかりました。

まきさんは米、野菜、大豆について、りょうさんは魚介類について調べました。



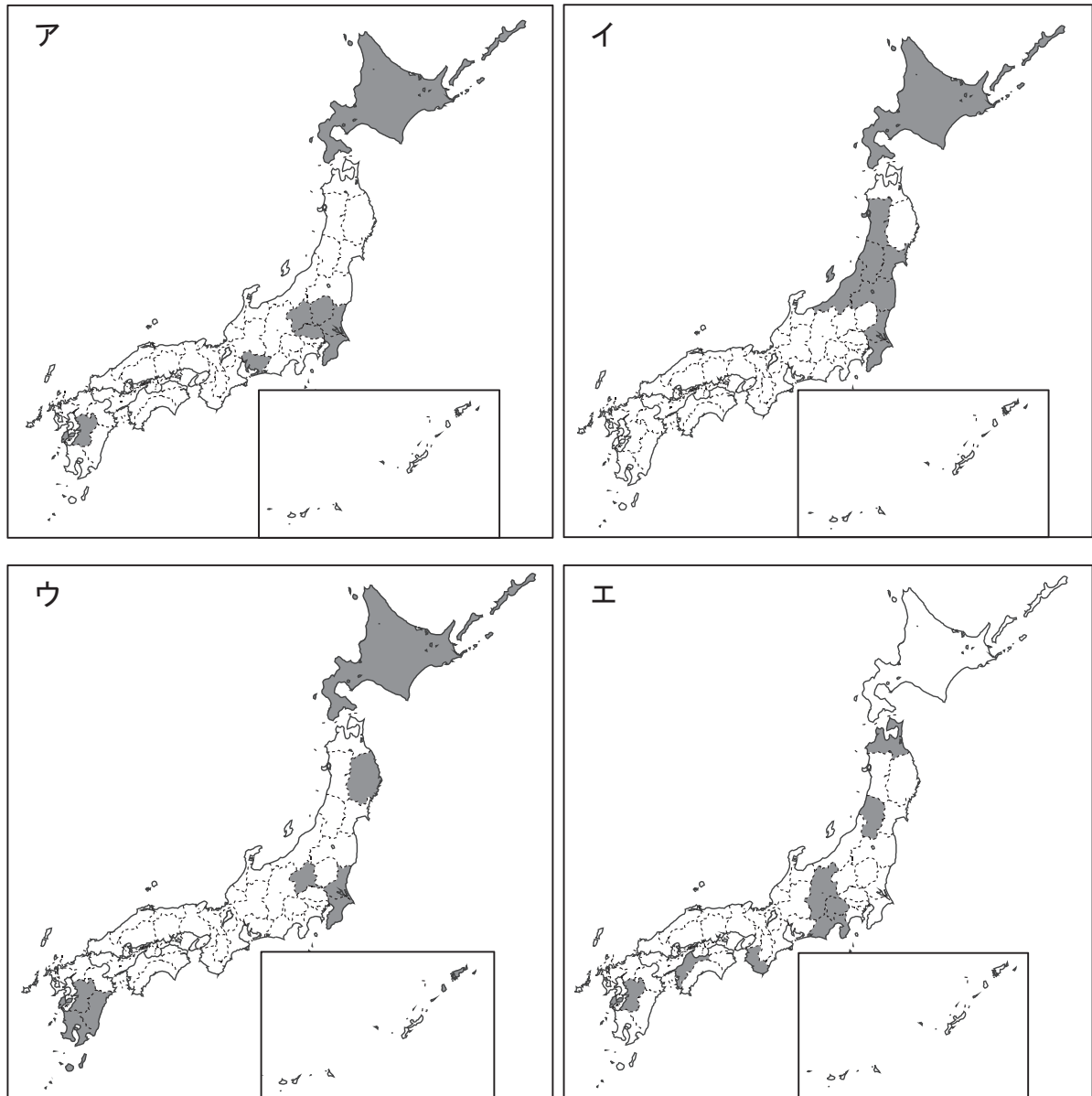
① まきさんは、豆腐や味噌、しょうゆなどの原料である大豆の生産地を調べ、2017年は北海道の音更町が日本国内最大の生産地であったことを知りました。さらに調べると、音更町や近隣の地域では、じゃがいもや小麦、豆類、野菜などが大規模に栽培されており、この地域が北海道の代表的な畑作地帯であることがわかりました。

図Ⅲ中のア～エのうち、まきさんが調べたことからわかる音更町の位置として最も適しているものを1つ選びなさい。



- ② 図Ⅳのア～エは、2017年における米、野菜、果実、畜産^{ちくさん}の産出額が多い上位8都道府県を ■ で示したものです。野菜の産出額が多い都道府県を示す地図を、図Ⅳのア～エから1つ選びなさい。

図Ⅳ 米、野菜、果実、畜産の産出額上位8都道府県（2017年）

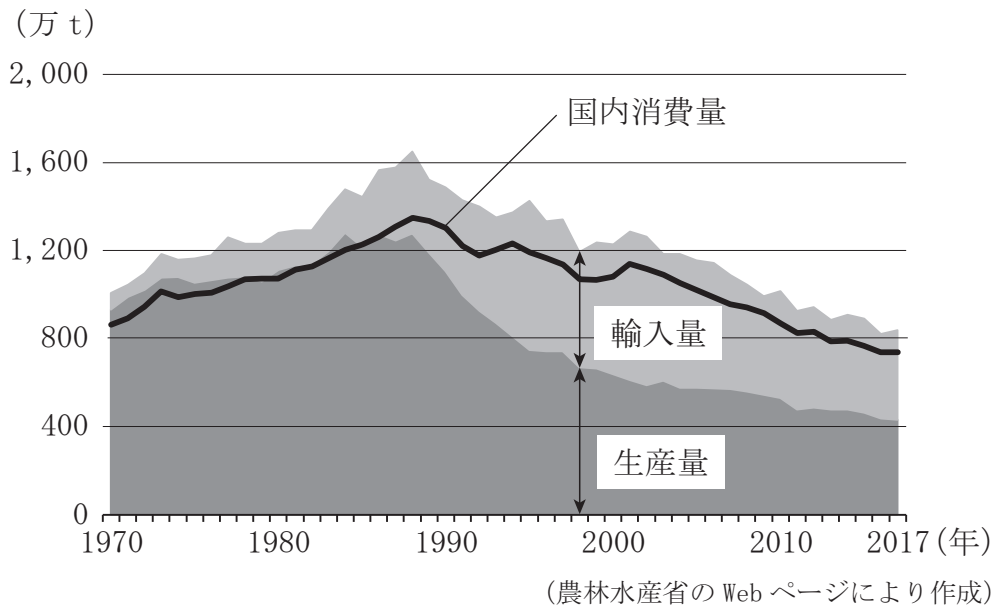


(----- は県界を示す)

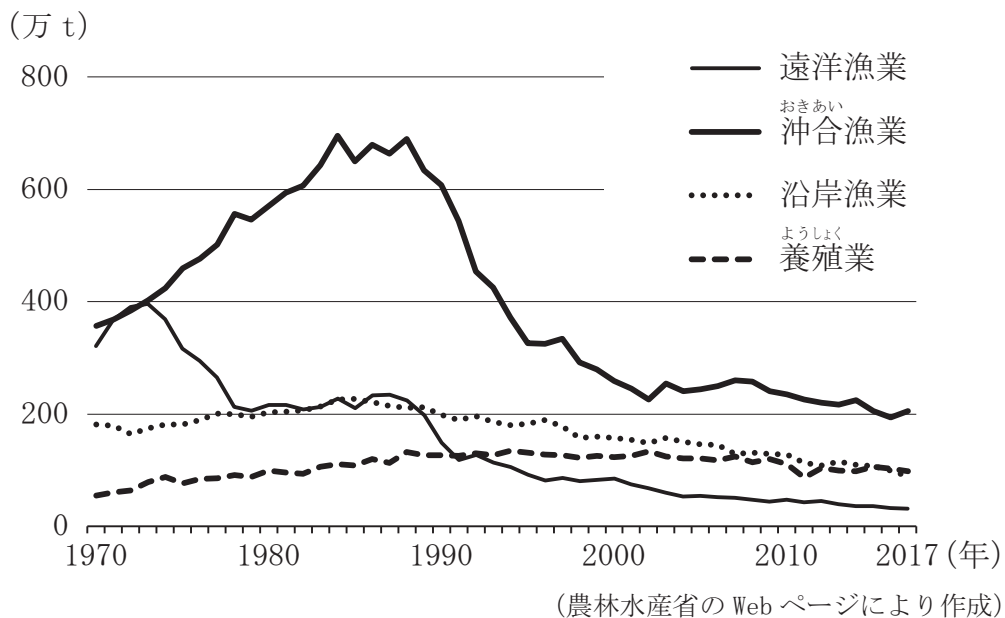
(『データで見る県勢 2020年版』により作成)

③ りょうさんは、主菜の食材である魚介類の生産について調べました。図Vは、1970年から2017年の魚介類の生産量、輸入量、国内消費量の推移を、図VIは漁業種類別生産量の推移を示したものです。

図V 魚介類の生産量、輸入量、国内消費量の推移



図VI 漁業種類別生産量の推移



次の文章は、りょうさんが図V、図VIから考察した内容をまとめたものです。文章中の（ a ）～（ c ）に入ることばの組み合わせとして最も適しているものを、あとのア～カから1つ選びなさい。

日本の魚介類の輸入量は1970年代半ばから増加しました。このころから200海里^{はいたてき}排他的経済水域の考え方を取り入れる国が増え、日本の漁船が自由に操業^{そうぎょう}できる海域が減ったこともあり、（ a ）漁業の生産量は減少していきます。

また、日本近海での漁業も1990年ごろを境に生産量が減少し、2017年現在の魚介類の生産量は、最も多いときに比べると約（ b ）になっています。一方、魚介類の輸入量をみると、1990年ごろから大きく増加しており、2017年の魚介類の*自給率は、約（ c ）%となっています。

私たちの食生活は、魚介類と野菜をおかずとした和食から、新しい日本食にかわってきているため、1990年ごろから魚介類の国内消費量はしだいに減少しています。

*自給率：国内消費量のうち、生産量の^し占める割合。

- | | | | |
|---|------|--------|------|
| ア | a 沖合 | b 2分の1 | c 45 |
| イ | a 遠洋 | b 3分の1 | c 45 |
| ウ | a 沖合 | b 2分の1 | c 55 |
| エ | a 遠洋 | b 3分の1 | c 55 |
| オ | a 沖合 | b 3分の1 | c 55 |
| カ | a 遠洋 | b 2分の1 | c 45 |

- ④ 日本の魚介類の生産量が減少した原因の1つに、とりすぎによる漁業資源の減少があるといわれています。そこで、卵からふ化させて稚魚、稚貝をある程度まで育てて放流することで漁業資源を増やし、魚や貝が成長してからとる漁業が行われています。この漁業は何と呼ばれていますか。書きなさい。

- 5 みかさんのクラスでは、日本と外国との関わりについての歴史を調べることになりました。そこで、みかさんは興味をもったできごとを【カード1】～【カード6】に書き出しました。あとの問いに答えなさい。

【カード1】

239年
やまたいこく ひみこ
邪馬台国の女王卑弥呼が（ a ）
に使いを送る。

【カード2】

894年
ちやうてい すがわらのみちざね
朝廷は、菅原道真の提案を認め、
けんとうし
遣唐使を停止する。

【カード3】

1274年、1281年
元軍が2度にわたり日本に襲来する
げんこう
(元寇)。

【カード4】

1549年
イエズス会の宣教師フランシスコ＝
ザビエルが日本にキリスト教を伝える。

【カード5】

1825年
えど
江戸幕府が異国船（外国船）打払令
うちはらい
を出す。

【カード6】

1854年
江戸幕府が、アメリカの東インド艦
かん
隊司令長官ペリーと交渉し、日米和
たい こうしやう
親条約を結ぶ。

- (1) 次のア～エのうち、【カード1】中の（ a ）に入る適切な語を1つ選びなさい。


ア 殷 いん イ 秦 しん ウ 魏 ぎ エ 隋 ずい

(2) 【カード2】について、遣唐使が停止されたあと、唐の文化をもとにした日本の風土や生活に合った文化が発達しました。この文化が栄えていたころに書かれた作品を、次のア～エから1つ選びなさい。

ア 万葉集 イ 枕草子^{まくらのそうし} ウ お伽草子^{とぎぞうし} エ 徒然草^{つれづれぐさ}

(3) 次の【メモ】は、【カード3】について、みかさんが元寇に関するできごとの経緯^{けいゐ}をまとめたものです。あとの問いに答えなさい。

【メモ】



- ・フビライ=ハンは日本を従えようと使者を送ったが、鎌倉幕府^{かまくら}の執権(b)がこれを拒否した。
- ・文永^{ぶんえい}の役^{えき}が起こった。
- ・元の再度^{しんこう}の侵攻に備え、石の防壁^{ぼうへき}(防塁、石塁、石築地^{いしついじ})を築いた。
- ・弘安^{こうあん}の役が起こった。
- ・鎌倉幕府は(c)を出して、御家人^{ごけにん}の生活を救おうとした。
- ・鎌倉幕府が滅亡した。

① 【メモ】中の(b)に入る人物の名を、次のア～エから1つ選びなさい。

ア 北条政子^{ほうじょうまさこ} イ 北条時宗^{ときむね} ウ 北条泰時^{やすとき} エ 北条時政^{ときまさ}

② 【メモ】中の(c)には、鎌倉幕府が御家人たちを借金などから救うために出した法令が入ります。【メモ】中の(c)に入る適切な語を書きなさい。

- (4) 【カード4】について、みかさんは、16世紀の日本におけるキリスト教に関するできごとを調べました。16世紀の日本におけるキリスト教に関するできごとについて、次のAとBの文を読み、その正誤の正しい組み合わせを、あとのア～エから1つ選びなさい。

A ローマ教皇のもとに派遣された天正遣欧少年使節（天正遣欧使節）の4人は、日本人の海外からの帰国が禁じられたため、日本に帰国できなかった。

B キリスト教の教会が長崎で領地を得ていたことなどから、豊臣秀吉はキリスト教の宣教師の国外追放を命じた。

- ア Aは正しい Bは正しい
イ Aは正しい Bは誤っている
ウ Aは誤っている Bは正しい
エ Aは誤っている Bは誤っている

- (5) 【カード5】について、みかさんは、1825年に江戸幕府が出した異国船（外国船）打払令の一部を要約した史料Ⅰと、1842年に江戸幕府が出した法令の一部を要約した史料Ⅱをみつけました。史料Ⅰと史料Ⅱと比べると、江戸幕府の外国船への対応が変わったことが分かります。この変更に影響を与えたと考えられる、1825年から1842年までの間に外国で起こったできごととして最も適しているものを、あとのア～エから1つ選びなさい。

史料Ⅰ

イギリスに限らず、南蛮・西洋はご禁制のキリスト教の国であるから、どこの海辺の村でも、外国船が近寄ってきたのを見たら、その場所にいた人々で必ずひたすら打ち払い、……

（『御触書天保集成』により作成）

史料Ⅱ

……外国船が来たら、よくようすを見て、食料、燃料、水等が不足し帰航が難しいようであれば、必要な品を与えて、帰航するよう申しさとし、上陸させてはならない。……

（『徳川禁令考』により作成）

- ア ルネサンス イ 宗教改革 ウ ピューリタン革命 エ アヘン戦争

(6) 【カード6】について、みかさんはこの条約で開いた港の位置を確認するため、地図で調べました。日本が日米和親条約で開いた港は2港あり、そのうちの1港は下田です。もう1港の位置を、図のア～エから1つ選びなさい。

