

SC1

あなたの性別をお知らせください。

- 1 男性
- 2 女性

次へ

0 50 100(%)

SC2

あなたの年齢をお知らせください。

| | 歳

次へ

0 50 100(%)

SC3

あなたのお住まい(都道府県)をお知らせください。

--- ▼

次へ

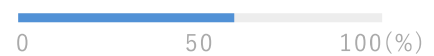


SC4

あなたのお住まいの市町村をお知らせください。

- | 大阪市域 | 南部大阪地域 |
|-------------------------------|--------------------------------|
| 1 <input type="radio"/> 大阪市 | 22 <input type="radio"/> 堺市 |
| 北部大阪地域 | 23 <input type="radio"/> 岸和田市 |
| 2 <input type="radio"/> 豊中市 | 24 <input type="radio"/> 泉大津市 |
| 3 <input type="radio"/> 池田市 | 25 <input type="radio"/> 貝塚市 |
| 4 <input type="radio"/> 吹田市 | 26 <input type="radio"/> 泉佐野市 |
| 5 <input type="radio"/> 高槻市 | 27 <input type="radio"/> 富田林市 |
| 6 <input type="radio"/> 茨木市 | 28 <input type="radio"/> 河内長野市 |
| 7 <input type="radio"/> 箕面市 | 29 <input type="radio"/> 松原市 |
| 8 <input type="radio"/> 摂津市 | 30 <input type="radio"/> 和泉市 |
| 9 <input type="radio"/> 島本町 | 31 <input type="radio"/> 羽曳野市 |
| 10 <input type="radio"/> 豊能町 | 32 <input type="radio"/> 高石市 |
| 11 <input type="radio"/> 能勢町 | 33 <input type="radio"/> 藤井寺市 |
| 東部大阪地域 | 34 <input type="radio"/> 泉南市 |
| 12 <input type="radio"/> 守口市 | 35 <input type="radio"/> 大阪狭山市 |
| 13 <input type="radio"/> 枚方市 | 36 <input type="radio"/> 阪南市 |
| 14 <input type="radio"/> 八尾市 | 37 <input type="radio"/> 忠岡町 |
| 15 <input type="radio"/> 寝屋川市 | 38 <input type="radio"/> 熊取町 |
| 16 <input type="radio"/> 大東市 | 39 <input type="radio"/> 田尻町 |
| 17 <input type="radio"/> 柏原市 | 40 <input type="radio"/> 岬町 |
| 18 <input type="radio"/> 門真市 | 41 <input type="radio"/> 太子町 |
| 19 <input type="radio"/> 東大阪市 | 42 <input type="radio"/> 河南町 |
| 20 <input type="radio"/> 四條畷市 | 43 <input type="radio"/> 千早赤阪村 |
| 21 <input type="radio"/> 交野市 | |

次へ



SC5

あなたの職業をお知らせください。

- 1 会社役員・団体役員
- 2 会社員(正規雇用)
- 3 会社員(派遣・契約など非正規雇用)
- 4 公務員・団体職員
- 5 パート・アルバイト
- 6 自営業・自由業
- 7 農林水産業
- 8 家内労働・在宅ワーカー
- 9 専業主婦・専業主夫
- 10 無職
- 11 学生
- 12 その他

次へ



次に、道路標識に関する質問です。

Q9

あなたは、自動二輪車(原付含む)又は自動車の運転免許を取得していますか。

- 1 取得している
- 2 取得していない
- 3 今は取得していないが、過去に取得していたことがある

次へ

0 50 100(%)

Q10

運転免許取得歴はどのくらいですか。

- 1 10年以上
- 2 5年以上10年未満
- 3 4年以上5年未満
- 4 3年以上4年未満
- 5 2年以上3年未満
- 6 1年以上2年未満
- 7 1年未満

次へ

0 50 100(%)



Q11

自動二輪車(原付含む)、自動車の運転頻度はどのくらいですか。
免許を取得している方は、最近の頻度を、過去に取得していたことがある方は、取得していた当時の最も運転していた時期の頻度をお答えください。

- 1 毎日
- 2 週5~6日
- 3 週3~4日
- 4 週1~2日
- 5 月に1~3日
- 6 月に1日未満
- 7 1年以上運転していない

次へ

0 50 100(%)

Q12

自動二輪車(原付含む)又は自動車の運転中、歩行中の交通ルールやマナーについてお答えください。(それぞれひとつずつ)



守る

ときどき守る

ほとんど守らない

1 運転中	1	<input type="radio"/>	2	<input type="radio"/>	3	<input type="radio"/>
2 歩行中	1	<input type="radio"/>	2	<input type="radio"/>	3	<input type="radio"/>

次へ

0 50 100(%)

Q13

自動二輪車(原付含む)又は自動車を運転中に、交通違反をして警察官に取締りを受けたことがありますか。

- 1 ない
- 2 1,2回ある
- 3 3,4回ある
- 4 5回以上ある

次へ

0 50 100(%)



Q14

次の写真をご覧ください。

道路にある細かい白色の点線は、減速を促す路面標示です。

これについて、お答えください。



- 1 見たことがあり、意味も知っている
- 2 見たことはあるが、意味は知らない
- 3 見たことはなく、意味も知らない

次へ

0 50 100(%)

Q15

次の写真をご覧ください。

(A)白色の「十」の路面表示や(B)「十」の警戒標識は、交差点への注意を促すものです。

これについて、お答えください。(それぞれひとつずつ)



(A)



(B)



見たことがあり意味も知っている

見たことはあるが意味は知らない

見たことはなく意味も知らない

1	A	1	<input type="radio"/>	2	<input type="radio"/>	3	<input type="radio"/>
2	B	1	<input type="radio"/>	2	<input type="radio"/>	3	<input type="radio"/>


次へ



Q16

減速を促す路面標示や看板について、次の3枚の写真をご覧ください。

- (A)の写真 路面標示「細かい白色の点線」
- (B)の写真 看板「速度落とせ」
- (C)の写真 路面標示「速度落せ」



Q16_1

A～Cの路面標示や看板の運転中の認識のしやすさについて、最も認識しやすいものから順にそれぞれの順番をお答えください。(それぞれひとつずつ)

↓	1	2	3
	1番	2番	3番
A	1 ○	1 ○	1 ○
B	2 ○	2 ○	2 ○
C	3 ○	3 ○	3 ○

Q16_2

A～Cの路面標示や看板を認識したときのあなたの普段の行動について、お答えください。(それぞれひとつずつ)

(現在免許を保有していない人は、保有していたときの行動でお答えください)

→	速度に注意して運転している		速度に注意せず運転している		そもそも標識等の意味をしらなかった	
	1	2	3	4	5	6
1 A	1 ○	2 ○	3 ○	4 ○	5 ○	6 ○
2 B	1 ○	2 ○	3 ○	4 ○	5 ○	6 ○
3 C	1 ○	2 ○	3 ○	4 ○	5 ○	6 ○

次へ



Q17

交差点への注意を促す路面標示や標識について、次の3枚の写真をご覧ください。

- (A)の写真 路面標示「+」の交差点マーク
- (B)の写真 警戒標識「+」
- (C)の写真 路面標示「交差点注意」



Q17_1

A～Cの路面標示や看板の運転中の認識のしやすさについて、最も認識しやすいものから順にそれぞれの順番をお答えください。(それぞれひとつずつ)

	1		2		3	
	1番		2番		3番	
A	1	<input type="radio"/>	1	<input type="radio"/>	1	<input type="radio"/>
B	2	<input type="radio"/>	2	<input type="radio"/>	2	<input type="radio"/>
C	3	<input type="radio"/>	3	<input type="radio"/>	3	<input type="radio"/>

Q17_2

A～Cの路面標示や標識を認識したときのあなたの普段の行動について、お答えください。(それぞれひとつずつ)


	交差点に注意して行動している		交差点に注意せず行動している		そもそも標識等の意味をしらなかった	
	1		2		3	
1 A	1	<input type="radio"/>	2	<input type="radio"/>	3	<input type="radio"/>
2 B	1	<input type="radio"/>	2	<input type="radio"/>	3	<input type="radio"/>
3 C	1	<input type="radio"/>	2	<input type="radio"/>	3	<input type="radio"/>

次へ

Q18

交差点付近に設置されている注意看板や路面標示について、次の3枚の写真をご覧ください。

- (A)の写真 「自転車止まれ」の看板
- (B)の写真 足形マークがある「とまれ」の路面標示
- (C)の写真 「歩行者止まれ」の看板



Q18_1

A～Cの看板や路面標示の歩行中の認識のしやすさについて、最も認識しやすいものから順にそれぞれの順番をお答えください。(それぞれひとつずつ)

	1		2		3	
	1番		2番		3番	
A	1	<input type="radio"/>	1	<input type="radio"/>	1	<input type="radio"/>
B	2	<input type="radio"/>	2	<input type="radio"/>	2	<input type="radio"/>
C	3	<input type="radio"/>	3	<input type="radio"/>	3	<input type="radio"/>

Q18_2

歩行中にA～Cの看板や路面標示を認識したときのあなたの普段の行動について、お答えください。(それぞれひとつずつ)

		車や自転車に注意して歩行している		車や自転車に注意せず歩行している		どちらともいえない	
		1		2		3	
1	A	1	<input type="radio"/>	2	<input type="radio"/>	3	<input type="radio"/>
2	B	1	<input type="radio"/>	2	<input type="radio"/>	3	<input type="radio"/>
3	C	1	<input type="radio"/>	2	<input type="radio"/>	3	<input type="radio"/>


次へ



Q19

横断歩道付近に設置されている注意看板について、次の3枚の写真をご覧ください。

- (A)の看板 「横断者に注意」
- (B)の看板 「左折車に注意」
- (C)の看板 「事故多し注意」



Q19_1

歩行中にA～Cの看板を認識したときのあなたの普段の行動について、お答えください。
(それぞれひとつずつ)



注意して歩行している 注意せず歩行している どちらともいえない

1	A	1	<input type="radio"/>	2	<input type="radio"/>	3	<input type="radio"/>
2	B	1	<input type="radio"/>	2	<input type="radio"/>	3	<input type="radio"/>
3	C	1	<input type="radio"/>	2	<input type="radio"/>	3	<input type="radio"/>

次へ



次の2枚の写真をご覧ください。
 あなたは、道路の向こう側にある駅に行こうとしています。電車の時間に遅れそうで急いでいます。後少し歩けば、信号機(横断歩道)のある交差点があります。



(A) 目の前の道路が片側一車線道路



(B) 目の前の道路が片側二車線道路

Q20

この状況の時、どのように道路を渡りますか。あてはまるものをお答えください。

(それぞれひとつずつ)



1	2	3
交差点まで歩き、信号が変わるのを待ってから横断歩道を渡る	交差点(横断歩道)まで行かず、信号が変われば道路を渡る	車が走行していても、渡れそうなら、急いで渡る

1	A	1	<input type="radio"/>	2	<input type="radio"/>	3	<input type="radio"/>
2	B	1	<input type="radio"/>	2	<input type="radio"/>	3	<input type="radio"/>

次へ



Q21

歩行中に道路を横断したいと思った時に、道路に以下の条件があった場合、横断をやめようと思う影響度をお答えください。(それぞれひとつずつ)

(1)歩道柵



(2)ポール



(3)U字ポール



(4)規制標識



(5)看板



小	←	影響度	→	大
1	2	3	4	5

1 歩道に歩道柵がある【写真(1)】	1	2	3	4	5
2 道路中央にポールが続いて立っている【写真(2)】	1	2	3	4	5
3 道路中央にU字ポールが立っていて、実質封鎖されている【写真(3)】	1	2	3	4	5
4 「横断禁止」と書かれた規制標識がある【写真(4)】	1	2	3	4	5
5 「危険!!渡るな」と書かれた看板がある【写真(5)】	1	2	3	4	5
6 道路が片側二車線である	1	2	3	4	5
7 道路が片側三車線である	1	2	3	4	5

送信

