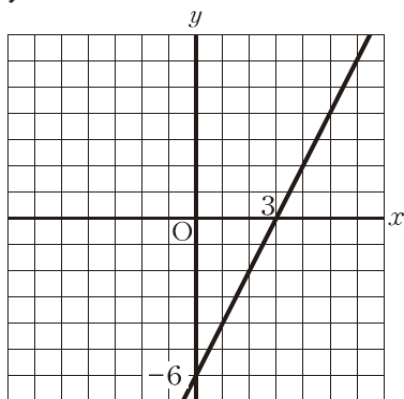


力だめしミニプリント 数学【関数】⑦

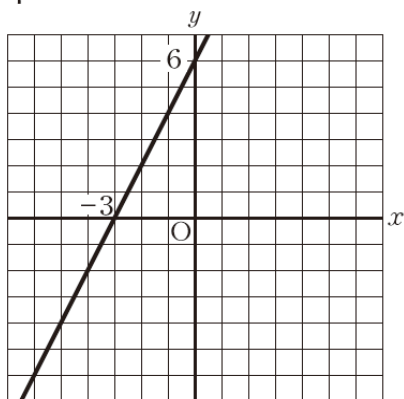
| | | | |
|---|---|---|----|
| 年 | 組 | 番 | 名前 |
|---|---|---|----|

1 二元一次方程式 $2x + y = 6$ の解を座標とする点の全体を表すグラフを、下の **ア** から **エ** の中から 1 つ選びなさい。

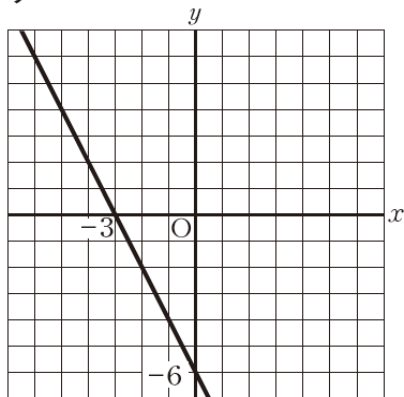
ア



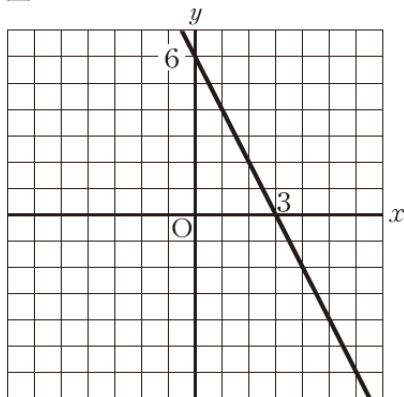
イ



ウ



エ

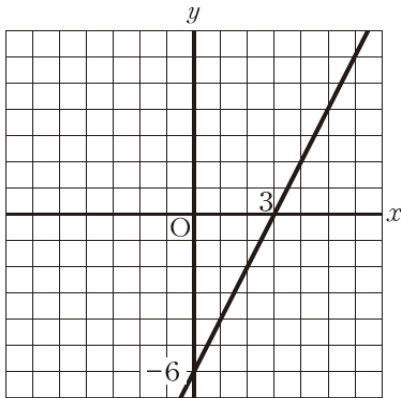


力だめしミニプリント 数学【関数】⑦

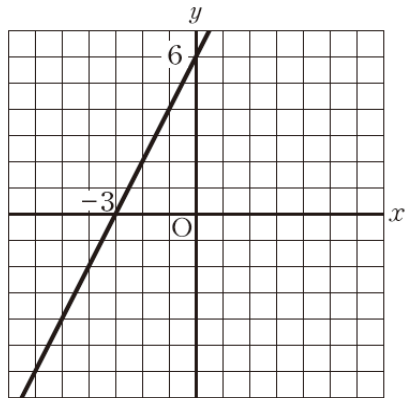
| | | | | |
|---|---|---|----|------------|
| 年 | 組 | 番 | 名前 | 解 答 |
|---|---|---|----|------------|

1 二元一次方程式 $2x + y = 6$ の解を座標とする点の全体を表すグラフを、下の **ア** から **エ** の中から 1 つ選びなさい。

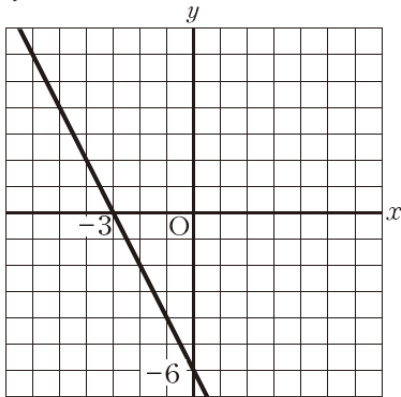
ア



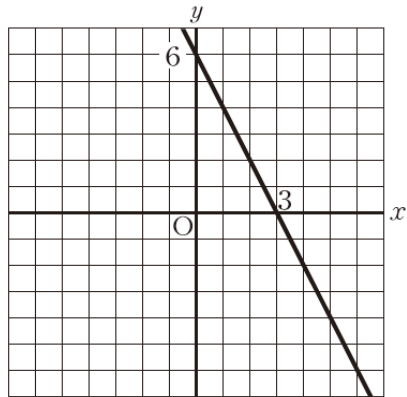
イ



ウ



エ



エ