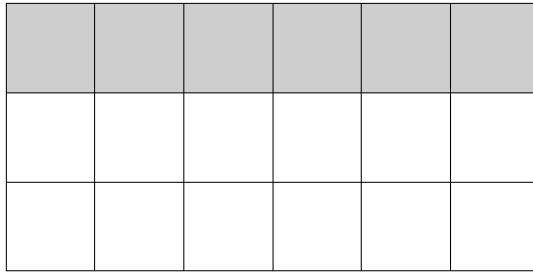


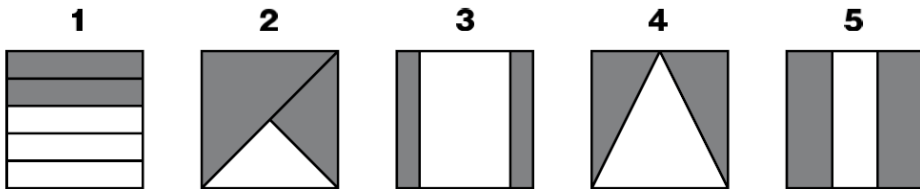
	年		組		番	名 前	
--	---	--	---	--	---	--------	--

1 この長方形の黒い部分を表す分数を、下の1から4までの中から1つ選んで、その番号を書きましょう。



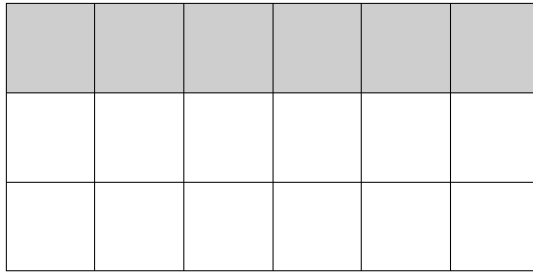
- 1 $\frac{1}{4}$ 2 $\frac{1}{3}$ 3 $\frac{6}{12}$ 4 $\frac{2}{3}$

2 次の正方形のうち、 $\frac{2}{3}$ が黒くぬられているのは、どれですか。下の1から5までの中から1つ選んで、その番号を書きましょう。



	年		組		番	名 前	解 答
--	---	--	---	--	---	--------	------------

1 この長方形の黒い部分を表す分数を，下の1から4までの中から1つ選んで，その番号を書きましょう。

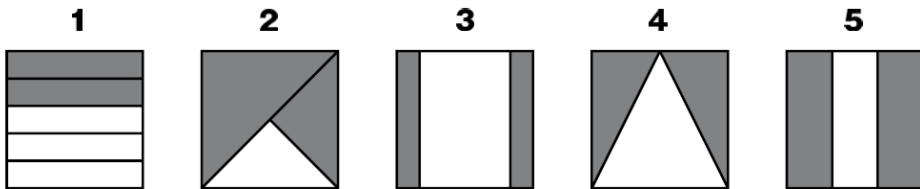


- 1 $\frac{1}{4}$ 2 $\frac{1}{3}$ 3 $\frac{6}{12}$ 4 $\frac{2}{3}$

2

H22 全国A3 小学校5年

2 次の正方形のうち， $\frac{2}{3}$ が黒くぬられているのは，どれですか。下の1から5までの中から1つ選んで，その番号を書きましょう。



5

H19 全国A2 小学校4年