



32 雨水のゆくえと地面のようす

1. 雨水のようすについて、次の文の（ ）にあてはまることばをかきましょう。

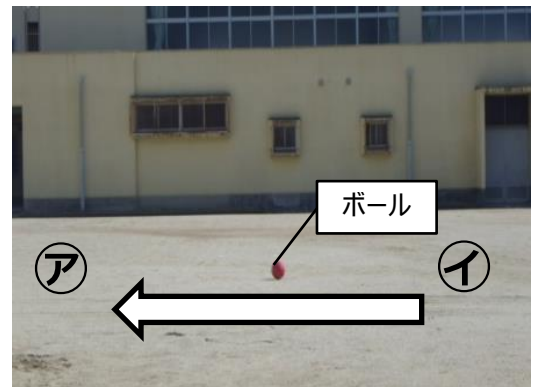
- ・地面にふった雨水は、（ ）い）場所から（ ）い）場所へと流れていきます。
- ・雨水が集まる場所では、地面に（ ）ができることがあります。

2. 下の表は、「水のしみこみ方」と「土のつぶの大きさ」についてまとめたものです。あてはまることばを右のア～オから1つずつ選び、（ ）に記号でかきましょう。

	小石 	砂 	ア. おそい イ. はやい ウ. 同じ エ. 大きい オ. 小さい
つぶの大きさ	()	()	
水がしみこむ 速さ	()	()	

3. 右の写真のように、運動場にボールを置いたところ、ボールは^{やじるし}矢印の方向へとゆっくり転がっていきました。

雨がふったとき、雨水は㊦から㊧、または㊧から㊦の、どちらの方向に流れていきますか。当てはまる記号をかきましょう。また、選んだ理由もかきましょう。





記号	から	理由	
----	----	----	--

32 雨水のゆくえと地面のようす

1. 雨水のようすについて、次の文の（ ）にあてはまることばをかきましょう。

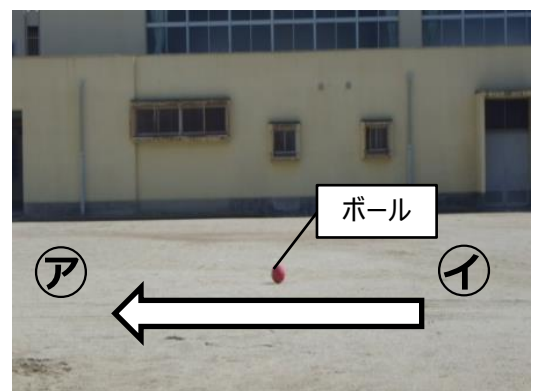
- ・地面にふった雨水は、（ **高** い）場所から（ **ひくい**）場所へと流れていきます。
- ・雨水が集まる場所では、地面に（ **水たまり** ）ができることがあります。

2. 下の表は、「水のしみこみ方」と「土のつぶの大きさ」についてまとめたものです。あてはまることばを右のア～オから1つずつ選び、（ ）に記号をかきましょう。

	小石 	砂 	ア. おそい イ. はやい ウ. 同じ エ. 大きい オ. 小さい
つぶの大きさ	（ エ ）	（ オ ）	
水がしみこむ 速さ	（ イ ）	（ ア ）	

3. 右の写真のように、運動場にボールを置いたところ、ボールは^{やじるし}矢印の方向へとゆっくり転がっていきました。

雨がふったとき、雨水は㉞から㉟、または㉟から㉞の、どちらの方向に流れていきますか。当てはまる記号をかきましょう。また、選んだ理由もかきましょう。



記号	㉟ から ㉞	理由	ボールの転がるようすから、㉞の地面の方がひくいことがわかり、ひくい方に雨水が流れるから。
----	--------	----	--