

# 1 風やゴムの働き

はたら

1. 風やゴムのはたらきについて答えましょう。

(1) つぎの①～④は、風、ゴムのどちらにあてはまりますか。  
番号を下の  の中にかきましょう。

①ふくろでうけると、手ごたえをかんじる。

②のばすと、手ごたえをかんじる。

③ねじると、もとにもどろうとするせいしつがある。

④ものをうごかすはたらきがある。


風	<input type="checkbox"/>	ゴム	<input type="checkbox"/>	風と ゴム	<input type="checkbox"/>
---	--------------------------	----	--------------------------	----------	--------------------------

(2) 風やゴムの力をつかって、下のようなじっけんをしました。  
より遠くにすすむ方をえらび、( ) に○をつけましょう。

①風をうけて走る車

( ) 「ほ」に強い風をあてる


( ) 「ほ」に弱い風をあてる



②ゴムでうごく車

( ) ゴムを少しのばす

( ) ゴムを大きくのばす



2. つぎのうち、風の力をりようしているものに○、そうでないものに×を ( ) の中にかきましょう。

( ) 風車      ( ) 凧たこ      ( ) 水車

( ) わゴムでっぼう      ( ) こいのぼり

# 1 風やゴムの働はたらき

1. 風やゴムのはたらきについて答えましょう。

(1) つぎの①～④は、風，ゴムのどちらにあてはまりますか。番号を下の  の中にかきましよう。


- ①ふくろでうけると，手ごたえをかんじる。
- ②のばすと，手ごたえをかんじる。
- ③ねじると，もとにもどろうとするせいしつがある。
- ④ものをうごかすはたらきがある。

風	①	ゴム	② ③	風と ゴム	④
---	---	----	-----	----------	---

(2) 風やゴムの力をつかって，下のようなじっけんをしました。より遠くにすすむ方をえらび，( ) に○をつけましよう。


①風をうけて走る車

- (○) 「ほ」に強い風をあてる
- ( ) 「ほ」に弱い風をあてる



②ゴムでうごく車

- ( ) ゴムを少しのばす
- (○) ゴムを大きくのばす



2. つぎのうち，風の力をりようしているものに○，そうでないものに×を ( ) の中にかきましよう。

- (○) 風車      (○) 凧たこ      (×) 水車
- (×) わゴムでっぼう      (○) こいのぼり