

令和 5 年度中学生チャレンジテスト

第 2 学年 社会

注 意

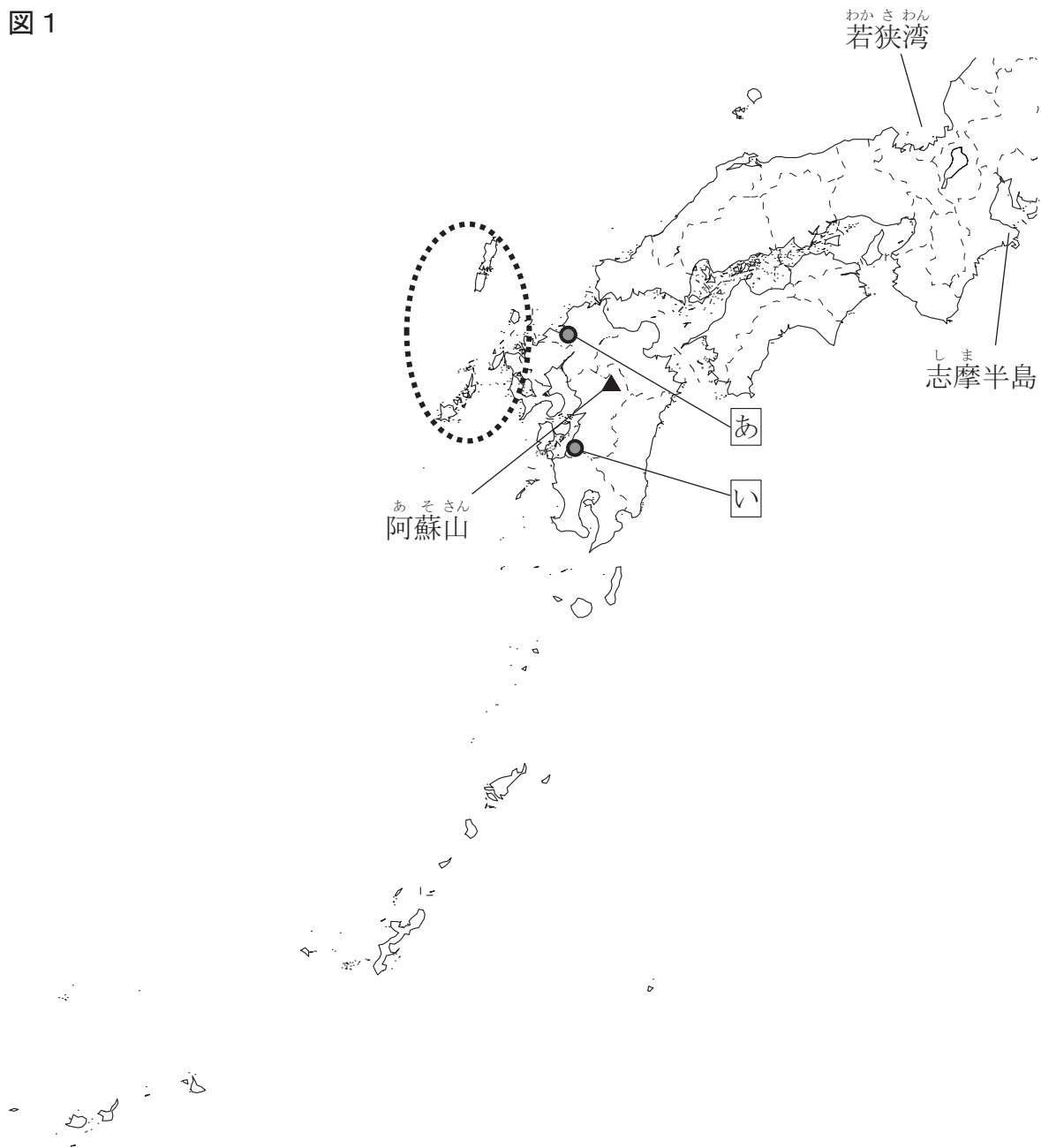
- 1 テスト問題は、1 ページから 39 ページまであります。先生の合図があるまで、問題冊子を開かないでください。
- 2 社会の問題 4、5 は選択問題です。^{せんたく}4 A 5 A または 4 B 5 B の中から先生に指示された問題に解答してください。4 A 5 A は 25 ページから 31 ページまで、4 B 5 B は 33 ページから 39 ページまでです。
- 3 解答はすべて解答用紙⑤（社会）に記入してください。
- 4 解答は、HB または B の黒鉛筆^{えんぴつ}（シャープペンシルも可）を使い、濃く、はっきりと書いてください。また、消すときは消しゴムできれいに消してください。
- 5 解答を選択肢から選ぶ問題は、解答用紙のマーク欄を黒く塗りつぶしてください。^{せんたくし}
- 6 解答を記述する問題は、指示された解答欄に記入してください。また、解答欄からはみ出さないように書いてください。^{らん}
- 7 解答用紙は、オモテ、ウラがあります。
- 8 解答用紙の〔生徒記入欄〕に、組、出席番号を記入し、マーク欄を黒く塗りつぶしてください。^ぬ
- 9 テスト実施時間は、45 分です。^{じっし}

問題は、次のページから始まります。

※ 問題文に訂正があったため、当該の箇所(34ページ **4B** (2)②【**メモ**】)を訂正しています。

- 1 かえでさんの班は、西日本の自然と人々の生活について調べました。図1は、かえでさんの班が調べた場所などを示したものです。あとの問いに答えなさい。

図1



(-----は現在の県界を示す)

- (1) かえでさんは、九州地方の自然と産業に関することについて調べました。次の問いに答えなさい。

- ① 【メモ1】は、かえでさんが九州地方の自然に関することについて調べたことをもとにつくったものです。あとの問いに答えなさい。

【メモ1】

- 九州地方は、九州北部の近海を流れる①〔ア 親潮（千島海流）イ 対馬海流〕と九州南部の近海を流れる黒潮（日本海流）の2つの海流の影響により、冬でも比較的温暖である。
- 阿蘇山には、火山活動によってできた大きなくぼ地である②〔ウ カルデラ エ フォッサマグナ〕がみられる。
- 南西諸島は、(c) 礁などの美しい自然を生かした観光業が盛んである。しかし近年は、開発などの影響により(c) が死滅（白化）するなどの被害を受けている。
- 図1中の③で囲んだ九州地方の北西部には、熊野灘に面した志摩半島の一部や、若狭湾沿岸と同じく、海岸線が複雑に入り組んだ(d) 海岸がみられる。

(i) 【メモ1】中の①〔 〕、②〔 〕から適しているものをそれぞれ1つずつ選びなさい。

(ii) 【メモ1】中の(c)に入る適切な語を書きなさい。

(iii) 【メモ1】中の(d)に入る適切な語をカタカナ3字で書きなさい。

- ② かえでさんは、過去に深刻な公害が発生し、現在は環境保全の取り組みを積極的に進めている九州地方の都市について調べたことをまとめました。【まとめ】中で説明している都市名と、図1中におけるその都市の位置の組み合わせとして最も適しているものを、あとのア～エから1つ選びなさい。なお、図1中の④、⑤は福岡市と水俣市のいずれかの位置を示しています。

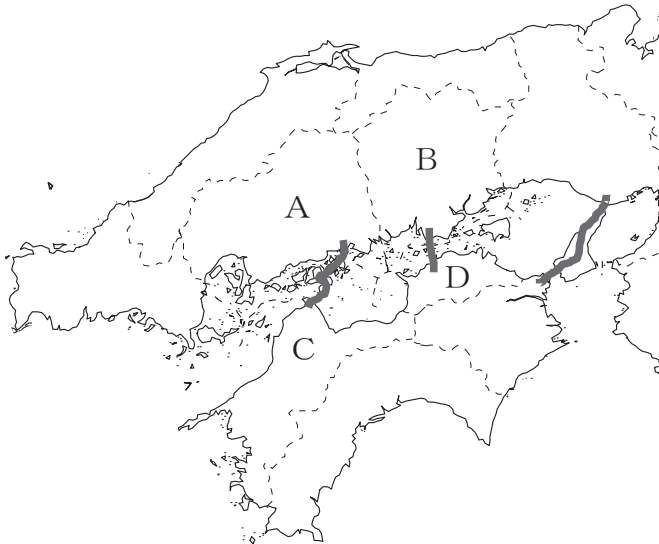
【まとめ】

この都市では、化学工場から海に排出されたメチル水銀（有機水銀）で汚染された魚介類を、人々が長い間たくさん食べたことが原因で深刻な公害病が発生した。その後この都市では、被害者の救済やきれいな海を取り戻すための取り組みが始められた。さらにこの都市は1992年には環境モデル都市づくり宣言を行い、公害病の教訓をもとに環境保全の取り組みを積極的に進めている。

- | | | | | | |
|---|---------|------------------------------|---|---------|------------------------------|
| ア | 都市名－福岡市 | 位置－ <input type="checkbox"/> | イ | 都市名－福岡市 | 位置－ <input type="checkbox"/> |
| ウ | 都市名－水俣市 | 位置－ <input type="checkbox"/> | エ | 都市名－水俣市 | 位置－ <input type="checkbox"/> |

(2) ゆつきさんは、中国・四国地方の人やものの移動に関することについて調べました。図2は、本州と四国を結ぶ3つのルートを示した地図です。あとの問いに答えなさい。

図2



—— 本州と四国を結ぶ3つのルート
 (-----は現在の県界を示す)

① 図2中のA～Dに当たる県の組み合わせとして最も適しているものを、次のア～エから1つ選びなさい。

- | | | | | | | | | |
|---|---|-----|---|-----|---|-----|---|-----|
| ア | A | 広島県 | B | 岡山県 | C | 香川県 | D | 愛媛県 |
| イ | A | 広島県 | B | 岡山県 | C | 愛媛県 | D | 香川県 |
| ウ | A | 岡山県 | B | 広島県 | C | 香川県 | D | 愛媛県 |
| エ | A | 岡山県 | B | 広島県 | C | 愛媛県 | D | 香川県 |

② 図2中の本州と四国を結ぶ3つのルートのうち、最も西側にあるルートとして適しているものを、次のア～ウから1つ選びなさい。

- | | | | | | | | | | | | |
|---|---------------------------|----------------------------|-----|---|--------------------------|---------------------------|-----|---|--------------------------|----------------------------|-----|
| ア | <small>おのみち</small>
尾道 | <small>いまばり</small>
—今治 | ルート | イ | <small>こうべ</small>
神戸 | <small>なると</small>
—鳴門 | ルート | ウ | <small>こじま</small>
児島 | <small>さかいで</small>
—坂出 | ルート |
|---|---------------------------|----------------------------|-----|---|--------------------------|---------------------------|-----|---|--------------------------|----------------------------|-----|

- ③ ゆつきさんは、大阪府と四国地方の4県（以下、4県とする）との間のものの移動について興味をもち、大阪府と4県それぞれとの間で輸送された貨物量と輸送手段について調べました。表1は、2020年における大阪府から4県各県に輸送された貨物量と輸送手段を、表2は、2020年における4県各県から大阪府に輸送された貨物量と輸送手段をそれぞれ示したものです。あとのア～エのうち、表1、表2から読み取れる内容として誤っているものを1つ選びなさい。

表1 大阪府から4県各県に輸送された貨物量と輸送手段（2020年）

(万 t)

		香川県着	愛媛県着	徳島県着	高知県着	4県合計
大阪府発	貨物量	132	155	37	47	371
	鉄道	0	1	0	0	1
	海上輸送	61	100	15	29	205
	自動車	71	54	22	18	165

※0は5,000 t 未満。

(国土交通省の資料により作成)

表2 4県各県から大阪府に輸送された貨物量と輸送手段（2020年）

(万 t)

		香川県発	愛媛県発	徳島県発	高知県発	4県合計
大阪府着	貨物量	74	233	71	27	405
	鉄道	0	0	0	0	0
	海上輸送	32	170	27	15	244
	自動車	42	63	44	12	161

※0は5,000 t 未満。

(国土交通省の資料により作成)

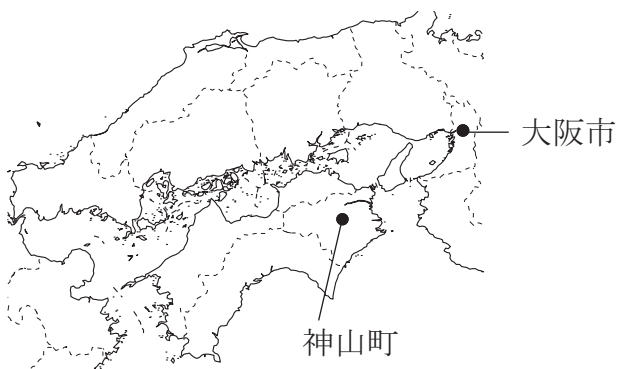
- ア 大阪府から4県各県に輸送された貨物量の4県合計と、4県各県から大阪府に輸送された貨物量の4県合計とを比べると、4県各県から大阪府に輸送された貨物量の4県合計の方が多い。
- イ 香川県と徳島県については、大阪府から輸送された貨物量においても、大阪府に輸送された貨物量においても、自動車によって輸送された貨物量が最も多い。
- ウ 愛媛県と高知県については、大阪府から輸送された貨物量においても、大阪府に輸送された貨物量においても、海上輸送が貨物量のうち50%以上の割合を占めている。
- エ 愛媛県については、大阪府から4県各県に輸送された貨物量においても、4県各県から大阪府に輸送された貨物量においても最も多く、かつ貨物量が4県合計の50%以上の割合を占めている。

(3) ようたさんは、地域活性化の取り組みに力を入れている徳島県かみやまの神山町の人口に関することを調べました。【メモ2】は、ようたさんが調べたことをまとめたものです。図3は、神山町と大阪市の位置を、図4は、2020年における神山町と大阪市の人口ピラミッドをそれぞれ示したものです。あとの問いに答えなさい。

【メモ2】

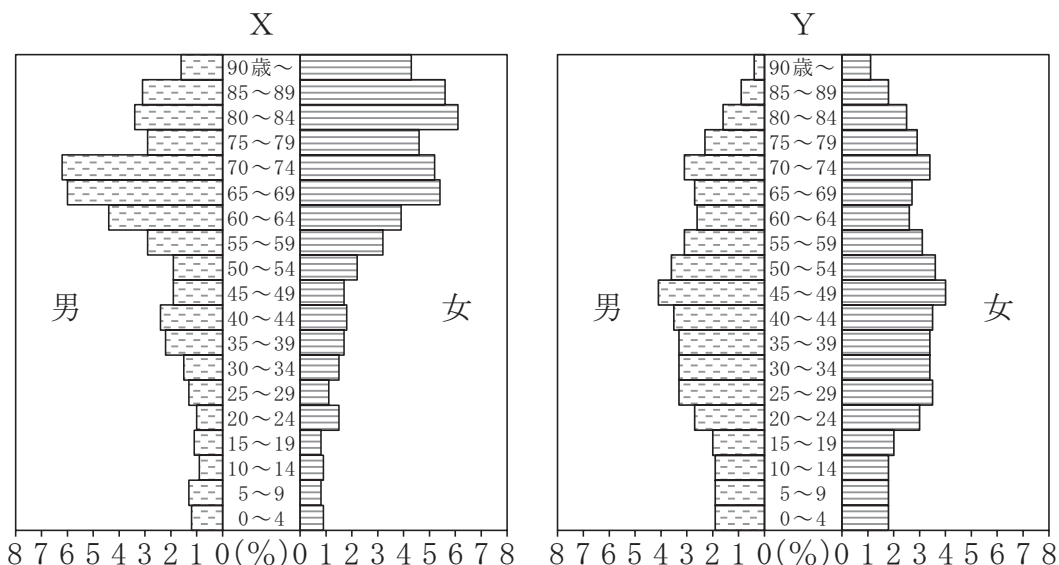
- 神山町では、人口が著しく減少し、地域社会の維持が難しくなる（e）が進行している。また、神山町では大阪市などの大都市と比べて高齢化が進んでいる。
- 神山町では、インターネットの高速回線を整備して企業などを誘致したり、神山町への移住支援事業を行ったりしている。

図3



(-----は現在の県界を示す)

図4 神山町と大阪市の人口ピラミッド（2020年）



(2020年国勢調査により作成)

問い【メモ2】中の（ e ）に入る語と、図4中のX、Yのうち、神山町の人口ピラミッドに当たるものの組み合わせとして適しているものを、次のア～エから1つ選びなさい。

- | | | |
|---|----------------------|-----------|
| ア | e－過密化 | 人口ピラミッド－X |
| イ | e－過密化 | 人口ピラミッド－Y |
| ウ | e－過疎 ^{かそ} 化 | 人口ピラミッド－X |
| エ | e－過疎化 | 人口ピラミッド－Y |

- (4) だいさんは、兵庫県ではスキー場やゴルフ場などのレジャーに関連する産業が盛んであることに興味をもち、兵庫県のスキー場に関することについて調べました。だいさんは、スキー場に関することを調べる中で、兵庫県のスキー場の多くが県の北部にあることを知りました。図5は、スキー場が多くある地域および兔和野高原と明石市のそれぞれの位置を、図6は、兔和野高原と明石市の雨温図をそれぞれ示したものです。あとの問いに答えなさい。

図5

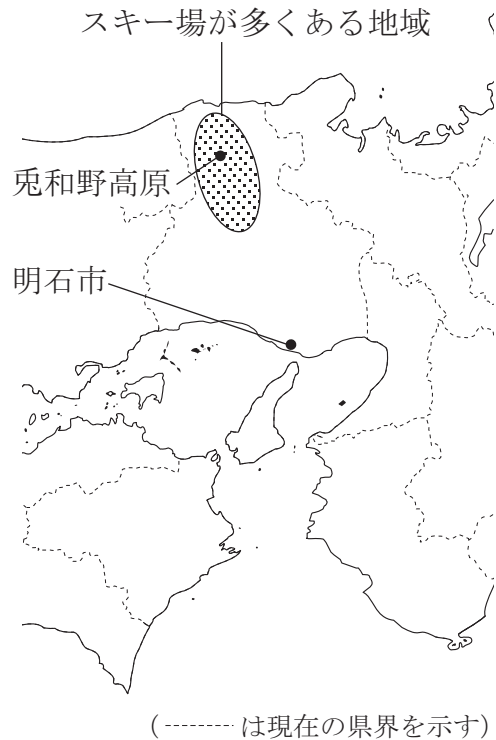
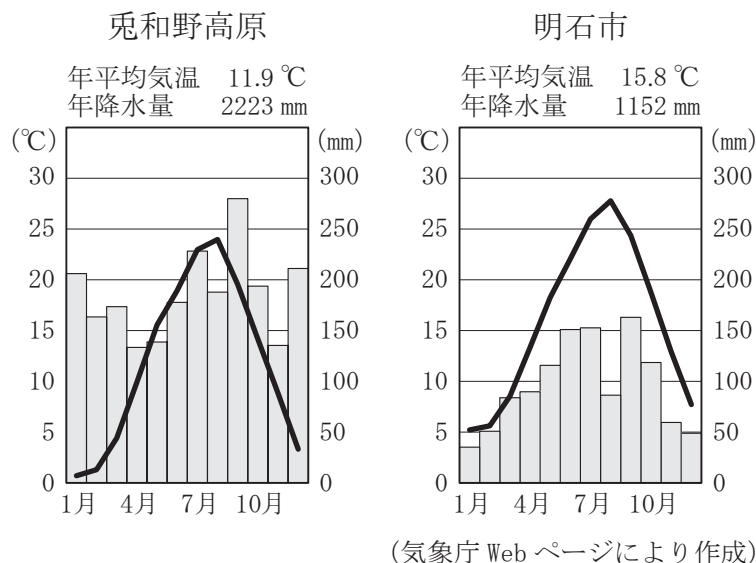


図6 兔和野高原と明石市の雨温図



問い 兵庫県のスキー場の多くが県の北部にある理由を、図5、図6から読み取れることをもとに次の条件に従って書きなさい。

条件1 兵庫県北部の気候に影響^{えいきょう}を与える^{あた}漢字3字の風の名前を用いて書くこと。

条件2 条件1の風が冬に日本海、太平洋いずれの海から吹く^ふのかがわかるように書くこと。

条件3 40字以内で書くこと。

2 りおさんのクラスでは、近畿地方の産業や人の移動について調べました。次の問いに答えなさい。

(1) りおさんは、近畿地方の産業について調べました。次の問いに答えなさい。

① りおさんは、阪神工業地帯に関することについて調べました。【メモ】は、りおさんが調べたことをもとにつくったものです。あとの問いに答えなさい。

【メモ】

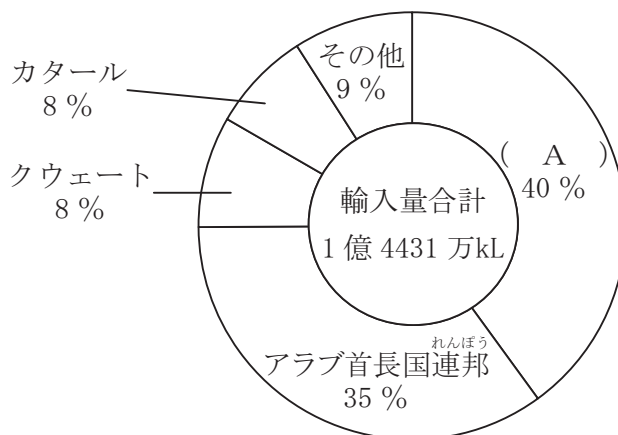
- ・日本が高度経済成長期であった1960年代に、臨海部で重化学工業、内陸部で電気機械工業などが発展した。
- ・1980年代以降、日本を除くアジア州の国々の製品との競争などにより生産が減少し、工場の移転や閉鎖が相次ぎ、臨海部では再開発が進んだ。
- ・独自の高い技術力をもつ中小企業が多い。

(i) 重化学工業や電気機械工業などの工業や建設業は、日本において、次のア～ウのうちどれに分類されますか。適しているものを1つ選びなさい。

ア 第1次産業 イ 第2次産業 ウ 第3次産業

(ii) 日本の工業で使用される鉱産資源は、ほとんどを海外からの輸入に頼っています。図1は、2021年における日本の原油（石油）の輸入量合計とその国別の内訳を示したものです。あとのア～エのうち、図1中の（ A ）に入る国として最も適しているものを1つ選びなさい。

図1 日本の原油（石油）の輸入量合計とその国別の内訳（2021年）

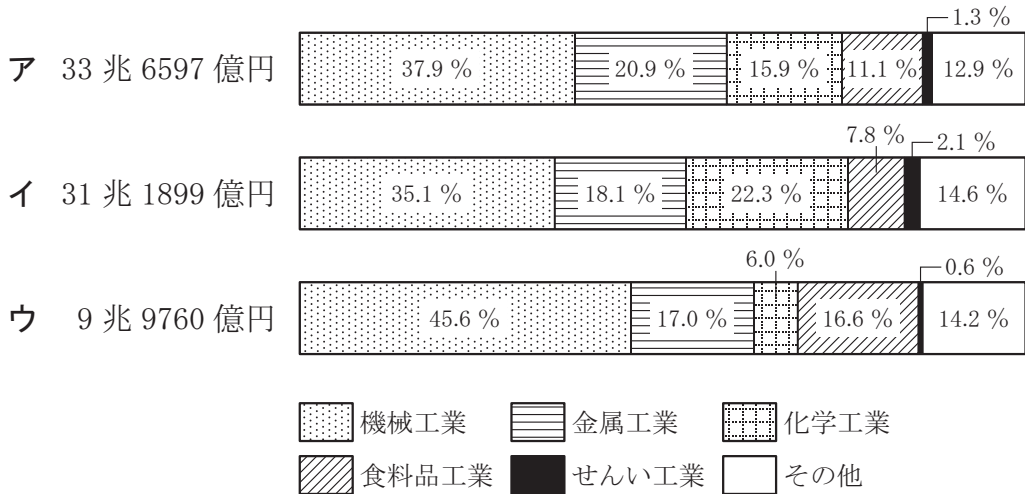


(『データブック オブ・ザ・ワールド 2023』により作成)

ア 中国 イ オーストラリア ウ サウジアラビア エ ブラジル

- (iii) りおさんは、阪神工業地帯の特徴を知るために、他の工業地帯、工業地域と比較しました。図2は、2019年における阪神工業地帯、瀬戸内工業地域、北九州工業地帯（地域）の製造品出荷額とその内訳をそれぞれ示したものです。図2中のア～ウのうち、阪神工業地帯に当たるものとして最も適しているものを1つ選びなさい。

図2 阪神工業地帯、瀬戸内工業地域、北九州工業地帯（地域）の製造品出荷額とその内訳（2019年）



(『日本国勢図会 2022/23』により作成)

- (iv) りおさんは、生活や産業を支える電力について調べました。表1は、2021年度における大阪府、兵庫県、奈良県、和歌山県の発電量とその内訳および*電力需要実績を示したものです。大阪府に当たるものを、表1中のア～エから1つ選びなさい。

*電力需要実績：それぞれの府県で使われた電力の量のこと。

表1 大阪府、兵庫県、奈良県、和歌山県の発電量とその内訳および電力需要実績（2021年度）

	発電量 (億Wh)				電力需要実績
	発電量	水力発電所	火力発電所	その他	
ア	384,469	10,425	366,013	8,031	365,433
イ	189,035	9	187,334	1,693	535,703
ウ	35,513	5,466	24,543	5,503	58,597
エ	11,533	10,476	—	1,057	66,483

※—は該当なし。

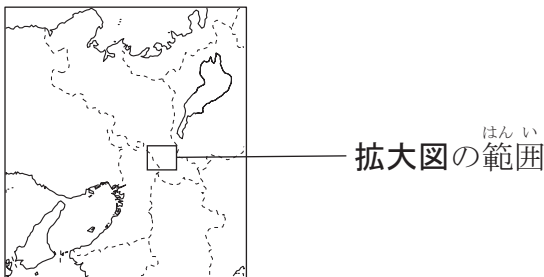
※その他には、原子力発電所、新エネルギー等発電所（風力発電、太陽光発電、地熱発電）などを含む。

(経済産業省の資料により作成)

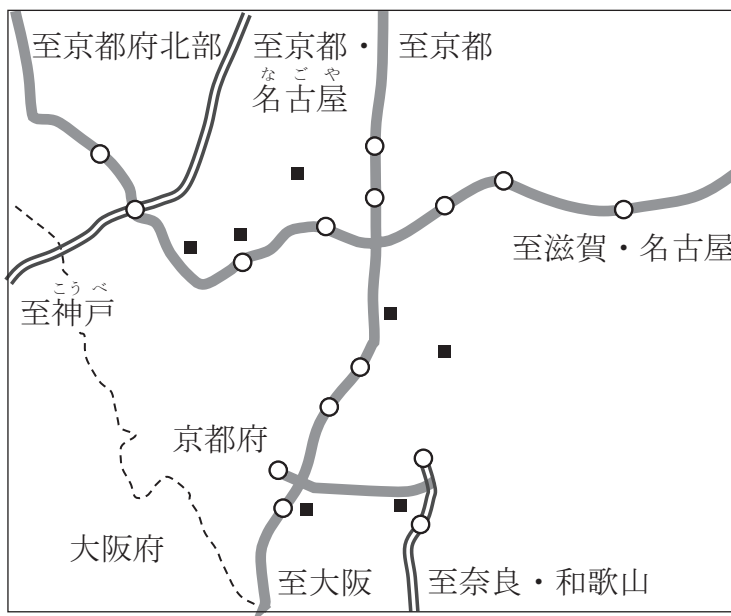
② しょうさんは、近年ネットショッピング（インターネットを利用して商品を購入すること）の利用が広がっていることを知り、品物が購入者などに届くしくみに興味をもちました。そこで物流に関することについて調べました。図3は、近畿地方の一部の地図で、拡大図は、図3中の□で囲んだ部分を拡大した地図に京都府の南部にある2016年以降に開設された（建設中を含む）7か所の*物流センターの位置と高速道路を示した地図です。【会話文】は、拡大図をもとにしょうさんとりおさんがこの地域の物流センターの立地の特徴について話し合ったものです。あとの問いに答えなさい。

*物流センター：貨物の積みかえ、仕分け、保管などを行う施設のこと。

図3



拡大図



■ 2016年以降に開設された物流センター（建設中を含む）
 のべゆか
 （延床面積1万m²以上）

== 高速道路(2000年以前開通)

— 高速道路(2001年以降開通)

○ 高速道路の出入口

※拡大図の情報は2023年8月時点のものを示したものである。

(----- は現在の県界を示す)

【会話文】

しょうさん：先日、インターネットで注文したら翌日には品物が届いたよ。
商品が早く届いて便利だね。

りおさん：そうだね。注文した品物が早く届くのは、最近大きな物流センターが建設されていることと関係あるのかな。

しょうさん：物流センターは、商品を各地から運び入れて保管したり、注文が入ったらすぐに配送したりするといった役割を担っているよね。**拡大図**は、京都府の南部にある2016年以降に建設された物流センターの位置を示したものだよ。

りおさん：たくさん建設されているんだね。物流センターが建設されている場所には共通する特徴があるのかな。

しょうさん：**拡大図**中の物流センターは、場所にあるということがわかるね。だから貨物の輸送に便利なんだよね。

りおさん：なるほど。貨物の輸送手段から物流センターの立地の特徴を考えると、工業団地の立地の特徴と同じだと言えるね。

問い **拡大図**中に示された物流センターの立地の特徴について、**拡大図**と【会話文】から読み取れることにふれて、【会話文】中のに入る適切なことばを、次の条件に従って書きなさい。

条件1 物流に必要な貨物の輸送手段を書き、その輸送手段と物流センターの立地の特徴との関係がわかるように書くこと。

条件2 35字以内で書くこと。

(2) げんきさんは、近畿^{きんき}地方の人の移動について興味をもちました。そこで、三重県を除く近畿地方の県庁所在地における通勤や通学による人の移動がどのように変化したのかを調べ、*夜間人口と*昼間人口について30年前と比較しました。表2は、1990年と2020年における^{おおつ}大津市、京都市、^{こうべ}大阪市、神戸市、奈良市、和歌山市(以下、6市とする)の夜間人口と昼間人口および*昼夜間人口比率を示したものです。あとのア～エのうち、表2から読み取れる内容として誤っているものを1つ選びなさい。

*夜間人口：その地域に住んでいる人口のこと。

*昼間人口：夜間人口から、通勤・通学で他地域に流出した人口を除き、通勤・通学で他地域から流入した人口を加えたものこと。

*昼夜間人口比率：夜間人口100人当たりの昼間人口の割合のこと。100を越えると昼間人口が夜間人口より多いことを示す。

表2 6市の夜間人口と昼間人口および昼夜間人口比率

	1990年			2020年		
	夜間人口 (千人)	昼間人口 (千人)	昼夜間 人口比率 (%)	夜間人口 (千人)	昼間人口 (千人)	昼夜間 人口比率 (%)
大津市	259	249	96.0	345	313	90.8
京都市	1,454	1,605	110.4	1,464	1,586	108.4
大阪市	2,604	3,800	146.0	2,752	3,535	128.4
神戸市	1,467	1,518	103.5	1,525	1,561	102.3
奈良市	349	313	89.8	355	336	94.7
和歌山市	396	409	103.2	357	370	103.7

(国勢調査により作成)

ア 1990年と2020年における6市の夜間人口を比べると、和歌山市以外の5市は増加しており、その5市のうち1990年と2020年との夜間人口の差が最も大きいのは大阪市である。

イ 1990年と2020年における6市の昼夜間人口比率を比べると、1990年においても2020年においても夜間人口が昼間人口より多いのは大津市と奈良市で、大津市の昼夜間人口比率は1990年が2020年よりも高くなっている。

ウ 大阪市の夜間人口は、2020年は1990年より10万人以上増加しており、大阪市の昼夜間人口比率は、2020年は1990年より低くなっている。

エ 2020年において、大阪市の夜間人口は京都市と神戸市の夜間人口の合計よりも20万人以上少ない一方、大阪市の昼間人口は京都市と神戸市の昼間人口の合計よりも45万人以上多い。

問題は、次のページに続きます。

3 さやさんのクラスでは、江戸時代の歴史に関することについて調べることになりました。次の問いに答えなさい。

- (1) 1班は、徳川氏が豊臣氏を滅ぼした大阪の陣に関することについて調べました。【メモ1】は、1班のれんさんが調べたことをもとにつくったものです。あとの問いに答えなさい。

【メモ1】

○大阪の陣は、1614年と1615年に起こった二度にわたる戦いである。

○1614年に起こった冬の陣について

- ・ 関ヶ原の戦いで石田三成に勝利し、
① 江戸幕府を開いた徳川（ a ）は、茶臼山
② 付近（現在の大阪市天王寺区）に本陣をお
き、豊臣氏側と戦った。



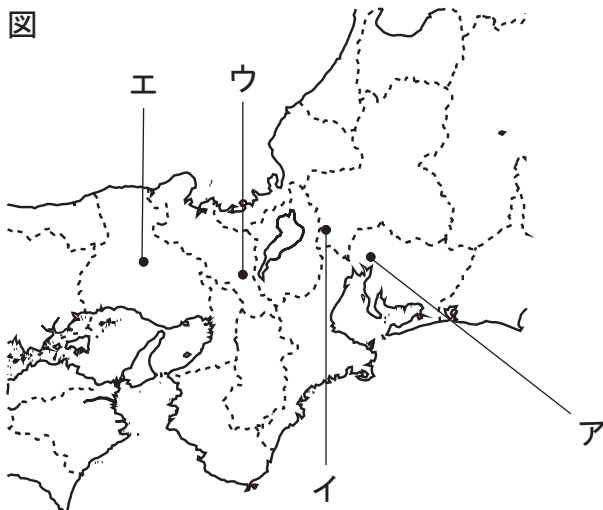
茶臼山

○1615年に起こった夏の陣について

- ・ 樫井付近（現在の泉佐野市と泉南市の境界付近）での戦いや各地の戦いで
相次いで勝利した徳川氏側は、豊臣秀吉によって築かれた 大阪城 を攻め
落としました。

① 【メモ1】中の（ a ）に入る人名を書きなさい。

② 図中のア～エのうち、【メモ1】中の下線部①が起きた場所として最も適しているものを1つ選びなさい。



(----- は現在の県界を示す)

③ 【メモ1】 中の下線部④に関することについて、次の問いに答えなさい。

- (i) あとのア～エのうち、江戸幕府による大名や朝廷ちやうていの統制に関する次の文章中の (b)、(c) に入る語の組み合わせとして最も適しているものを1つ選びなさい。

江戸幕府は、1615年に (b) を初めて制定し、大名が新たに城をつくることなどを禁じました。また、江戸幕府は (c) を置いて朝廷を監視かんしし、朝廷を統制する法令を制定しました。

- | | | | | |
|---|---|-----------------------------------|---|---------------------------------|
| ア | b | 公事方御定書 <small>くじかた おさだめがき</small> | c | 京都所司代 <small>きやうと しよしだい</small> |
| イ | b | 公事方御定書 | c | 勘定奉行 <small>かんじやう ぶぎやう</small> |
| ウ | b | 武家諸法度 <small>ぶけしよはつと</small> | c | 京都所司代 |
| エ | b | 武家諸法度 | c | 勘定奉行 |

- (ii) 次のX～Zは、江戸幕府の政治に関するできごとについて述べた文です。X～Zをできごとが起こった順に並べかえると、どのような順序になりますか。あとのア～カから正しいものを1つ選びなさい。

- X 田沼意次たぬまおきつぐが老中の時に、株仲間をつくることが奨励しょうれいされた。
Y 松平定信まつだいらさだのぶが老中の時に、出版物の内容が厳しく統制された。
Z 徳川綱吉とくがわつなよしが征夷大將軍せいゐたいしやうぐんの時に、貨幣かへいの質が落とされ発行量が増やされた。

- ア X → Y → Z
イ X → Z → Y
ウ Y → X → Z
エ Y → Z → X
オ Z → X → Y
カ Z → Y → X

- ④ 【メモ1】 中の下線部③の大阪城は、江戸幕府によって再建されました。再建された大阪城を初めて訪れた征夷大將軍が徳川家光だと知ったれんさんは、徳川家光が征夷大將軍に任じられていた期間に起こったできごとを次の年表にまとめました。年表中の（ d ）、（ e ）、（ f ）に入る語の組み合わせとして最も適しているものを、あとのア～エから1つ選びなさい。

年表

年	できごと
1624	（ d ） 船の来航が禁止される
1635	日本人の海外渡航と海外からの帰国が禁止される
1637	しまばら あまくさいつき 島原・天草一揆が起こる
1639	（ e ） 船の来航が禁止される
1641	オランダ商館が（ f ） の出島に移される

ア	d	ポルトガル	e	スペイン	f	平戸
イ	d	ポルトガル	e	スペイン	f	長崎
ウ	d	スペイン	e	ポルトガル	f	平戸
エ	d	スペイン	e	ポルトガル	f	長崎

問題は、次のページに続きます。

(2) 2班は、江戸時代に出版された書物について図書館で調べました。次の問いに答えなさい。

① 2班のさやさんは、図書館で『東海道中膝栗毛』が現代語に訳された本を読みました。【メモ2】は、さやさんが読んだ本の一部を書き出したものです。あとの問いに答えなさい。

【メモ2】

著作権者への配慮から掲載を控えております。

(『ストーリーで楽しむ日本の古典9 東海道中膝栗毛』により作成)

(i) 【メモ2】中の下線部㉔は人工の川で、江戸時代の商人である河村瑞賢によってつくられました。安治川をつくった河村瑞賢について述べた次の文章中の(g)に入る適切な語を漢字1字で書きなさい。

河村瑞賢が整備した航路の1つに、日本海に面した酒田(現在の山形県酒田市付近)から日本海を北上し、*津軽海峡を^{つがるかいきょう}通^つって太平洋に向かい、太平洋を南下して江戸に至る(g)^{まわ}廻り航路があります。

*津軽海峡: 北海道と本州を^{へだ}隔てる海峡のこと。

(ii) 【メモ2】中の下線部㉕には、人形浄瑠璃^{にんぎょうじゅうり}などが公演された劇場がありました。次のア～エのうち、元禄文化^{げんろく}を代表する人物の1人で、人形浄瑠璃の脚本(台本)^{きゃくほん}を著^あした人物として最も適しているものを1つ選びなさい。

ア 近松門左衛門^{ちかまつもんざ えもん}

イ 小林一茶^{こばやいつ さ}

ウ 喜多川歌麿^{き た がわうたまろ}

エ 歌川(安藤)広重^{うたがわ あんどう ひろしげ}

- ② 2班のりくさんは、『^{せつめいしょずえ}撰津名所図会』について調べました。【メモ3】は、りくさんが調べたことをもとにつくったものです。あとの問いに答えなさい。

【メモ3】

・^{せつつのくに}撰津国（現在の大阪府の一部と兵庫県の一部）各地の名所、祭礼、特産物などを^{しょうかい}絵図や文章で紹介している書物である。

・^{なにわのつ}難波津に着岸した^{りゅうきゅう}琉球王国からの^{えが}使節などが描かれている。

- (i) 【メモ3】中の下線部④に関する事について述べた次の文章中の（ h ）、（ i ）、（ j ）に入る語の組み合わせとして最も適しているものを、あとのア～エから1つ選びなさい。

琉球王国は、17世紀初めに（ h ）^{はん}藩に^{せいふく}征服（支配）されました。その一方、琉球王国は、中国の（ i ）や、（ i ）に次いで17世紀前半に成立した（ j ）にも^{ちようこう}朝貢していました。

- | | | | | | | |
|---|---|--------------------|---|-----------------|---|-----------------|
| ア | h | ^{さつま} 薩摩 | i | ^{みん} 明 | j | ^{しん} 清 |
| イ | h | 薩摩 | i | 清 | j | 明 |
| ウ | h | ^{まつまえ} 松前 | i | 明 | j | 清 |
| エ | h | 松前 | i | 清 | j | 明 |

- (ii) りくさんが、【メモ3】中の下線部④に関する事について、さらに調べたところ、江戸時代に『琉球八景』という^{うきよえ}浮世絵が描かれていたことがわかりました。【メモ4】は、りくさんが調べたことをもとにつくったものです。あとのア～エのうち、【メモ4】中の（ k ）、（ l ）に入る語の組み合わせとして最も適しているものを1つ選びなさい。

【メモ4】

・『琉球八景』は、（ k ）を中心に^{かせい}化政文化が栄えていたころに描かれた。

・『琉球八景』を描いたのは、化政文化を代表する浮世絵師の1人で、^{すぐ}優れた風景画を残した（ l ）である。

- | | | | | |
|---|---|--------------------|---|--------------------------|
| ア | k | 江戸 | l | ^{ひしかわもろのぶ} 菱川師宣 |
| イ | k | 江戸 | l | ^{かつしかほくさい} 葛飾北斎 |
| ウ | k | ^{かみがた} 上方 | l | 菱川師宣 |
| エ | k | 上方 | l | 葛飾北斎 |


- (3) 3班は、江戸時代の大阪が商業都市として発展したことを知り、江戸時代の大阪の経済に関することについて調べました。【メモ5】は、3班のあゆさんとげんさんが調べたことをもとにつくったものです。あとの問いに答えなさい。

【メモ5】

・大阪は、物流の拠点としてにぎわい、中之島（現在の大阪市北区）などには諸藩の蔵屋敷が置かれた。

・中之島周辺にあった堂島米市場は、徳川吉宗が将軍に任じられていた時に江戸幕府によって公認された。

・浮世草子と呼ばれる小説を著した（ m ）は、『日本永代蔵』の中で中之島周辺の繁栄を描いた。（ m ）は、元禄文化を代表する人物の1人である。



堂島米市場跡の碑

- ① 【メモ5】中の（ m ）に入る人名として最も適しているものを、次のア～エから1つ選びなさい。

ア 十返舎一九 イ 滝沢（曲亭）馬琴 ウ 井原西鶴 エ 与謝蕪村

- ② 【メモ5】中の下線部㊦に関して、あゆさんは国内各地から大阪へ運び込まれた品目について調べ、表にまとめました。表は、1714年に国内各地から大阪へ運び込まれた品目とその金額を示したものです。表を見ながら、あゆさんとげんさんが話をしています。あとのア～エのうち、【会話文】中の（ n ）、（ o ）に入る数や語の組み合わせとして最も適しているものを1つ選びなさい。

表 1714年に国内各地から大阪へ運び込まれた品目とその金額

品目	金額（*両）
米	583,055
菜種	400,698
材木	367,872
干鰯	253,718
その他	2,488,391
総額	4,093,734

*両：江戸時代の貨幣単位のこと。

（『大阪市史』により作成）

【会話文】

あゆさん：国内各地から大阪に運び込まれた品目を調べ、金額の多い上位4品目を表にまとめたよ。

げんさん：金額が最も多かったのが米なんだね。

あゆさん：そうだよ。表をもとに計算してみると、上位4品目の金額の合計は、総額の約（ n ）%だということがわかるね。調べていてわかったんだけど、表中の米には諸藩の年貢米ねんぐまいは含まれていないよ。

げんさん：ということは、表中の米は商人が米を生産した農民から買ったものなのかな。

あゆさん：そうかもしれないね。

げんさん：ところで、あゆさん、表中の干鰯は、いわしなどからつくられた肥料のことだね。

あゆさん：そうだよ。江戸時代にいわしの漁が盛さかんだった場所は、現在の（ o ）に位置する九十九里浜くじゅうくりはまだったね。

げんさん：そうだったね。干鰯は大阪近郊で盛さかんに栽培さいばいされていた綿花などの商品作物の肥料として利用されていたのかな。調べてみようよ。

- ア n 40 o 千葉県
イ n 40 o 高知県
ウ n 60 o 千葉県
エ n 60 o 高知県

- ③ 【メモ5】 中の下線部㉔について述べた次のXとYの文を読み、その正誤の正しい組み合わせを、あとのア～エから1つ選びなさい。

X 徳川吉宗は、旗本ごけにんや御家人の生活難を救うために借金を帳消しにした。

Y 徳川吉宗は、生類憐しょうるいあわれみの令（政策）に従わなかった人々を厳しよばつしく処罰した。

- ア Xは正しい Yは正しい
イ Xは正しい Yは誤っている
ウ Xは誤っている Yは正しい
エ Xは誤っている Yは誤っている

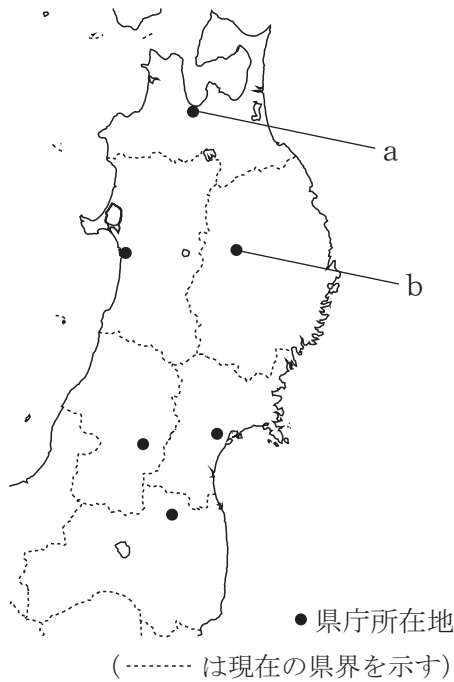
次のページ（25 ページ）からは^{せんたく}選択問題となります。

A問題を選択した学校の生徒は、25 ページ～31 ページ
にある **4 A** **5 A** を解答してください。

B問題を選択した学校の生徒は、33 ページ～39 ページ
にある **4 B** **5 B** を解答してください。

4 A 東北地方の祭りに興味があるけいさんとあおさんは、「東北^{きずな}絆まつり」に関するこ
とについて調べました。図1は、東北地方の地図で、「東北^{かいさい}絆まつり」が開催された東
北地方6県の県庁所在地の位置を示したものです。【会話文】を読んであとの問いに答
えなさい。

図1



【会話文】

けいさん：「東北^{ひがしにほんだいにんざい}絆まつり」は、東日本大震災からのさらなる復興とその先の未来
へ向けて前進するために始まり、祭りの開催を通じて東北の勇氣と未来
への希望を発信してきたんだよね。

あおさん：東北地方各県の県庁所在地で行われている6つの祭りを1か所に集結
させて行うものだね。

けいさん：そうだよ。2023年の開催で、各都市でそれぞれ1回ずつ開催されたこ
とになったんだよ。これからもたくさんの人が集まって盛り上がるとい
いね。

あおさん：そうだね。日本各地の祭りには、豊作を祈り、収穫に感謝するという農
業の営みに関係するものが多いみたいだよ。

けいさん：だから、^{さか}農業が盛んな東北地方でも祭りが大切にされてきたのかもしれ
ないね。

あおさん：東北地方は農業が盛んだけど、雪が積もる冬は農作業をすることが難し
そうだね。

けいさん：そうですね。冬は、家の中でできる仕事をする事が多く、中には工芸品などをつくる事があったみたいだよ。

あおさん：なるほど。だから東北地方には有名な③伝統的工芸品があるんだね。

(1) 【会話文】 中の下線部③について、次のア～エのうち、図1中の a、b の位置にある都市名の組み合わせとして最も適しているものを1つ選びなさい。

- | | | | | | | | | | |
|---|---|-----|---|---------------------|---|---|-----|---|-----|
| ア | a | 青森市 | b | ^{もりおか} 盛岡市 | イ | a | 秋田市 | b | 盛岡市 |
| ウ | a | 青森市 | b | 福島市 | エ | a | 秋田市 | b | 福島市 |

(2) 【会話文】 中の下線部④に関して、けいさんは東北地方の農業に関する事を調べました。【メモ】は、けいさんが調べた事をもとにつくったものです。あとの問いに答えなさい。

【メモ】

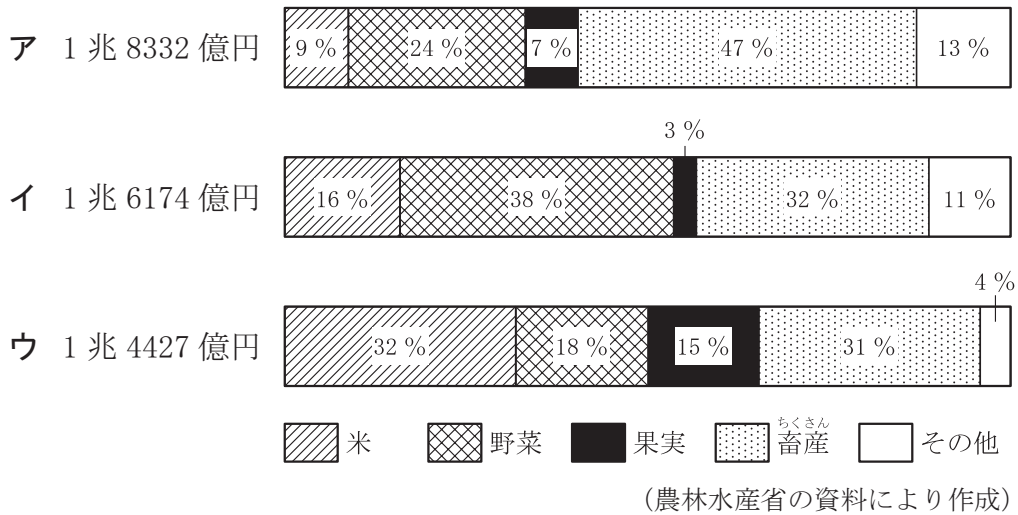
東北地方では農業が盛んだが、(c) 側で吹く「やませ」と呼ばれる (d) の影響があるところでは、年によっては農作物の収穫量が減ることがある。東北地方では厳しい気候条件のもと、さまざまな工夫をしながら農業を発展させてきた。

① 次のア～エのうち、【メモ】中の (c)、(d) に入る語の組み合わせとして最も適しているものを1つ選びなさい。

- | | | | | |
|---|---|-----|---|------|
| ア | c | 日本海 | d | 暖かい風 |
| イ | c | 日本海 | d | 冷たい風 |
| ウ | c | 太平洋 | d | 暖かい風 |
| エ | c | 太平洋 | d | 冷たい風 |

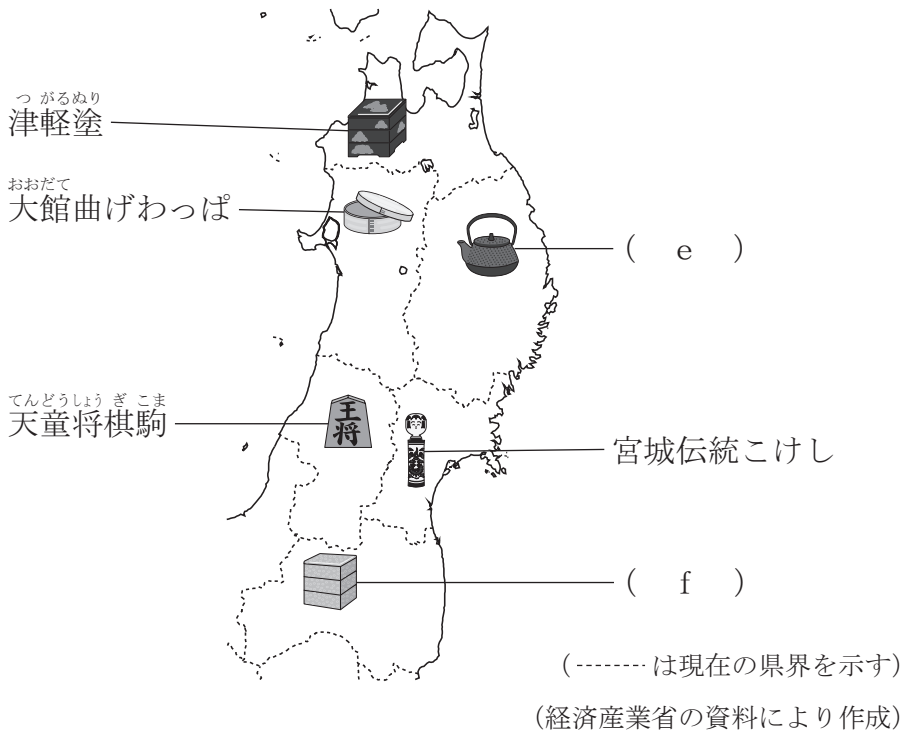
② けいさんは、東北地方における農業の特色について調べました。図2は、けいさんが東北地方と他の地方の農業の特色について比較するために調べ、作成したもので、2020年における東北地方、関東地方、九州地方の農業産出額とその内訳をそれぞれ示したものです。図2中のア～ウのうち、東北地方に当たるものとして最も適しているものを1つ選びなさい。

図2 東北地方、関東地方、九州地方の農業産出額とその内訳（2020年）



(3) 【会話文】 中の下線部②の伝統的工芸品について、あおさんは東北地方の伝統的工芸品に関することを調べました。図3は、あおさんが調べたことをまとめた東北地方各県の主な伝統的工芸品を示したものです。あとのア～エのうち、図3中の(e)、(f)に入る語の組み合わせとして最も適しているものを1つ選びなさい。

図3 東北地方各県の主な伝統的工芸品



- | | | | | |
|---|---|--------------------------|---|------------------------|
| ア | e | <small>なんぶ</small> 南部鉄器 | f | <small>わじま</small> 輪島塗 |
| イ | e | 南部鉄器 | f | <small>あいづ</small> 会津塗 |
| ウ | e | <small>たかおか</small> 高岡銅器 | f | 輪島塗 |
| エ | e | 高岡銅器 | f | 会津塗 |

5 A ゆみさんとけんさんは、大阪府茨木市にあるキリシタン遺物史料館を訪れました。史料館を訪れた後に2人が話をしています。【会話文】を読んで、あとの問いに答えなさい。



【会話文】

ゆみさん：イエズス会宣教師、ザビエルの肖像画は、キリシタン遺物史料館の近くの民家で見つかったんだね。

けんさん：1920年に見つかったと説明文に書かれていたね。

ゆみさん：そうだね。ザビエルは、大航海時代に開拓された航路などを利用してインドを訪れ、インドなどで布教を行った後に日本に来たよ。

けんさん：ザビエルは、(a) の勢力を回復することなどをめざしてインドや日本に来たんだね。

ゆみさん：そうだよ。ザビエルは、1549年に鹿児島に上陸し、当時、鹿児島周辺を治めていた大名の許可を得て、キリスト教の布教を行ったよ。その後、ザビエルは山口、堺、京都などを訪れ、1551年に日本を去ったよ。

けんさん：ザビエルは約2年間日本に滞在していたことになるね。ザビエルが日本を去った後も、宣教師が日本にやってきたよね。日本に来た宣教師が、民衆のための学校や病院などをつくって布教を行ったことなどもあり、日本国内で信者が増えたようだね。

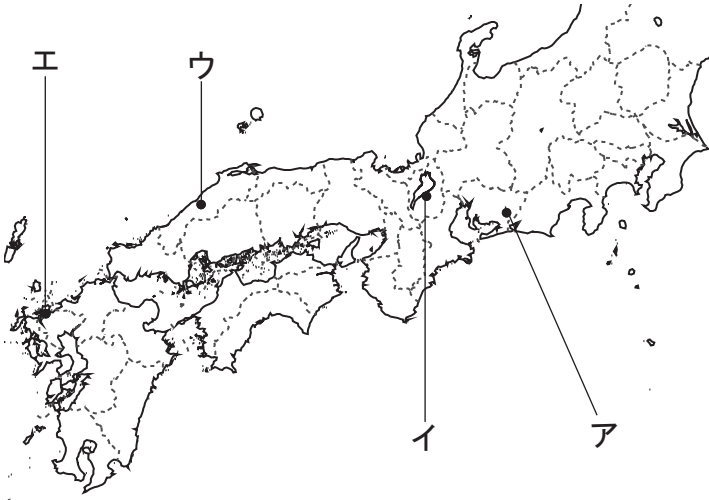
ゆみさん：そうだよ。でも、(b) は、九州の島津氏を従えた後に宣教師を追放する命令を出したよね。

(1) 次のア～エのうち、【会話文】中の (a)、(b) に入る語の組み合わせとして最も適しているものを1つ選びなさい。

- | | | | | |
|---|---|---------|---|------|
| ア | a | カトリック教会 | b | 織田信長 |
| イ | a | カトリック教会 | b | 豊臣秀吉 |
| ウ | a | プロテスタント | b | 織田信長 |
| エ | a | プロテスタント | b | 豊臣秀吉 |

- (2) 【会話文】 中の下線部㉔は、イエズス会創立者の1人であるロドリゲスという人物に宛てた手紙の中で、スペイン人が日本のことを「銀の島」と呼んでいると書いています。図中のア～エのうち、銀を産出した石見銀山の場所として最も適しているものを1つ選びなさい。

図



(----- は現在の県界を示す)

- (3) 【会話文】 中の下線部㉕に関することについて、次の問いに答えなさい。

- ① 次のX～Zは、大航海時代に起こったできごとについて述べた文です。X～Zをできごとが起こった順に並べかえると、どのような順序になりますか。あとのア～カから正しいものを1つ選びなさい。

X バスコ＝ダ＝ガマが、アフリカ南端をまわるインドへの航路を初めて開いた。

Y コロンブスが、アメリカ大陸付近の島に初めて到達した。

Z マゼランの船隊が、世界一周を達成した。

ア X → Y → Z

イ X → Z → Y

ウ Y → X → Z

エ Y → Z → X

オ Z → X → Y

カ Z → Y → X

- ② 次の文章は、大航海時代にアメリカ大陸などへ進出したヨーロッパの国について述べたものです。あとのア～エのうち、文章中の（ c ）、（ d ）に入る語の組み合わせとして最も適しているものを1つ選びなさい。

（ c ）は、アメリカ大陸の植民地化を進め、アステカ王国（^{ていこく}帝国）を滅^{ほろ}ぼしました。また、（ c ）はアステカ王国（帝国）を滅ぼした後に、アメリカ大陸にあった（ d ）帝国も滅ぼしました。

- | | | | | |
|---|---|-------|---|------|
| ア | c | スペイン | d | インカ |
| イ | c | スペイン | d | オスマン |
| ウ | c | ポルトガル | d | インカ |
| エ | c | ポルトガル | d | オスマン |

A問題は、これで終わりです。

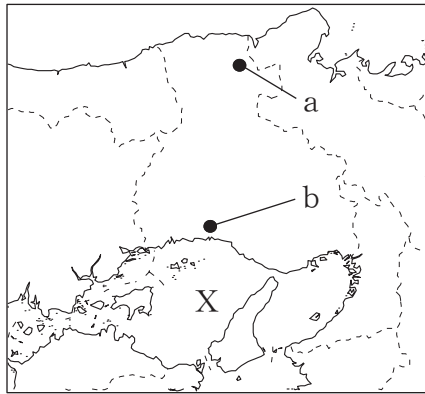
次のページ（33 ページ）からはB問題となります。

B問題を^{せんたく}選択した学校の生徒は、33 ページ～39 ページ
にある **4 B** **5 B** を解答してください。

4 B うたさんが通う学校は兵庫県姫路市ひめじにあります。うたさんのクラスでは姫路の特色について考えるために地域調査を行うことになりました。あとの問いに答えなさい。

(1) 図1は、兵庫県周辺の地図です。あとのア～エのうち、図1中のXの海の名前と姫路市の位置の組み合わせとして最も適しているものを1つ選びなさい。

図1

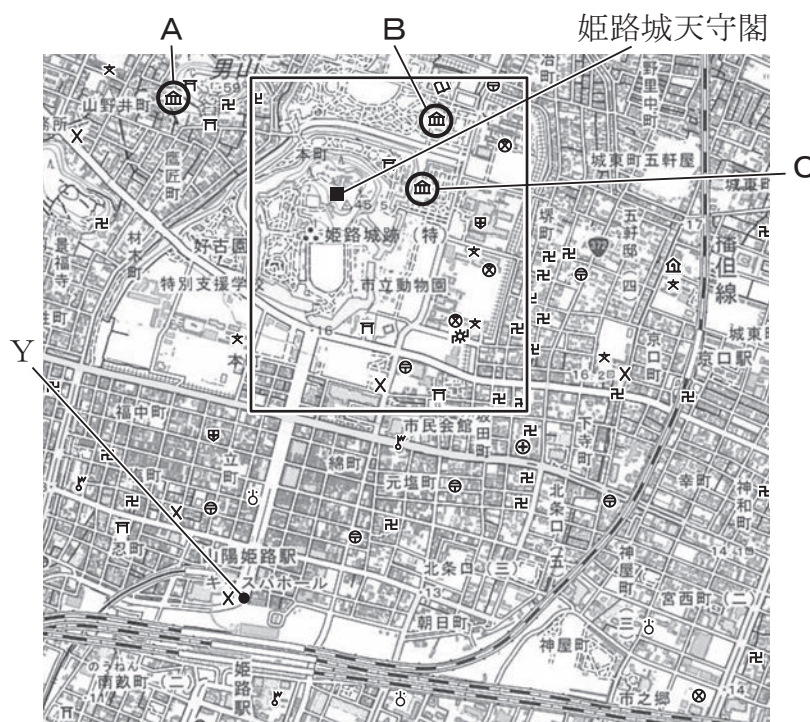


(----- は現在の県界を示す)

- | | | | | | |
|---|--------|--------|---|--------|--------|
| ア | X—有明海 | 姫路市— a | イ | X—有明海 | 姫路市— b |
| ウ | X—瀬戸内海 | 姫路市— a | エ | X—瀬戸内海 | 姫路市— b |

(2) うたさんの班は、姫路城周辺を調査するために地形図を使うことにしました。図2は、姫路市の一部を表した2万5千分の1の地形図です。あとの問いに答えなさい。

図2



(地形図は上が北である。国土地理院 1 : 25,000 地形図「姫路北部」2015年発行、「姫路南部」2018年発行により作成)

- ① 図2から読み取れる内容として、次のア～エのうち、図2中の の範囲にないものを1つ選びなさい。

ア 市役所 イ 寺院 ウ 図書館 エ 郵便局

- ② うたさんの班は、姫路城周辺の野外観察を行いました。【メモ】は、うたさんの班が野外観察で通ったルートについて、図2を用いて他の班に伝えるために書いたものです。図2中のA～Cのうち、うたさんの班が見学した施設として最も適しているものを1つ選びなさい。

【メモ】

- ・まず図2中の姫路駅の前にあるYを出発地にして、広い道を姫路城天守閣の方向に約900m直進した。
- ・次にその道が突き当たったところで姫路城天守閣を正面に見て右に曲がり、進行方向の左側に神社を見て約250m直進すると交差点に出たので左に曲がった。
- ・市立動物園と学校との間の道を少し進んだところで、北西の方向に見えた姫路城天守閣の写真を撮った。写真を撮った後、約500m進んだところにある病院の前で止まり、通ってきた道をはさんで病院の向かい側にある施設を見学した。

(3) うたさんの班では、姫路^{ひめじ}の特色について考えるために、姫路の観光や工業に関する
ことについて調査することにしました。調査する内容について話し合った後、班
のメンバーそれぞれが調査を行いました。【調査内容】のP～Sは、それぞれが調査
した内容を示しており、【調査結果】の㉠～㉤は、それぞれが行った調査の結果を示
しています。あとの問いに答えなさい。

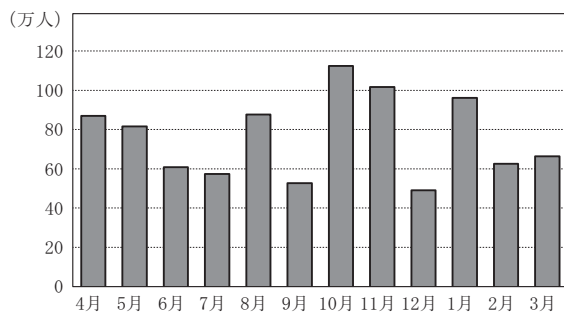
【調査内容】

P	姫路市で観光客に人気のある場所はどこだろうか	Q	姫路市で生産される有名な特産品は何だろうか
R	姫路市 ^{おとず} を訪れる観光客が多いのはどの季節だろうか	S	姫路市における工業生産の内訳はどのように変化してきたのだろうか

【調査結果】

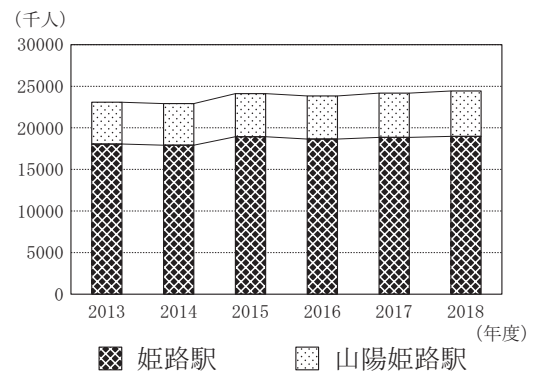
㉠ 姫路市を訪れた観光客の人数

(2018 年度)



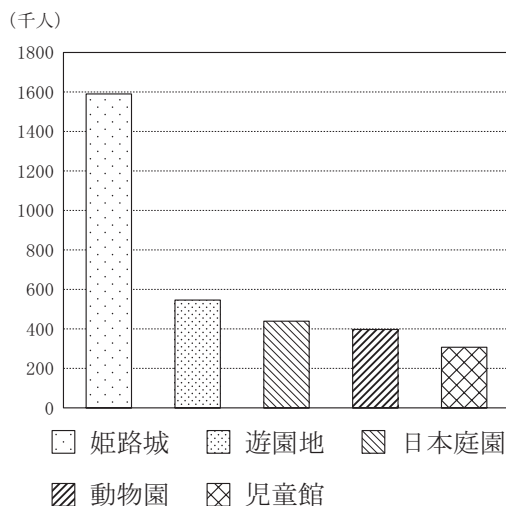
㉡ 姫路駅と山陽姫路駅の乗車人数の移

り変わり



㉢ 姫路市にある施設^{しせつ}を訪れた観光客

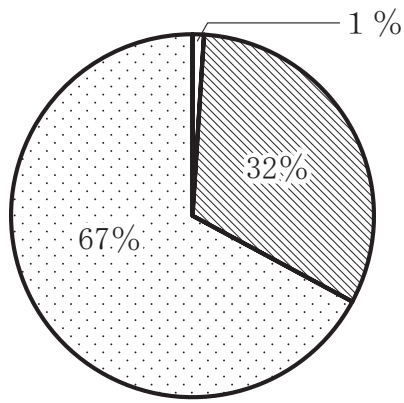
の人数 (上位 5 位) (2018 年度)



㉣ 姫路市の地場産業

- ・姫路市特産の牛革^{かわ}白なめし革を用いて独特の工法で作られた革細工は、伝統工芸品として有名である。
- ・金属加工が有名で、国産鎖^{くさり}の 60 %以上が姫路市で造られている。
- ・姫路市で作られる神崎瓦^{かんざきから}と呼ばれる瓦は有名で、その瓦は、姫路城の「昭和の大改修」^{しやうわ}「平成の大改修」^{へいせい}で使われている。

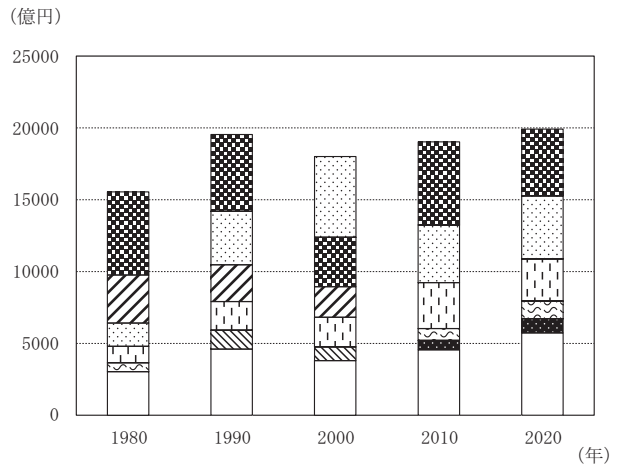
⑧ 姫路市の産業別人口割合
(2020年度)



合計 238,930人

□ 第1次産業 ▨ 第2次産業 ▤ 第3次産業

⑨ 姫路市の産業別製造品出荷額の移り変わり (上位5位) (「姫路の工業」により作成)



■ 鉄鋼 ▨ 石油・石炭 ▤ 電気機械 ▧ 化学
 ▩ 食料 ▪ 一般機械 ■ 金属 □ その他

(姫路市の資料などにより作成)

問い 【調査結果】中の⑧～⑨は、【調査内容】中のP～Sのいずれに対してつくられたものですか。次のア～カのうち、【調査内容】中のP～Sとそれに対する【調査結果】中の⑧～⑨の組み合わせとして、最も適しているものを1つ選びなさい。

- | | | | | |
|---|-----|-----|-----|-----|
| ア | P-⑧ | Q-⑨ | R-⑩ | S-⑪ |
| イ | P-⑧ | Q-⑩ | R-⑫ | S-⑬ |
| ウ | P-⑫ | Q-⑬ | R-⑭ | S-⑮ |
| エ | P-⑫ | Q-⑬ | R-⑧ | S-⑨ |
| オ | P-⑭ | Q-⑩ | R-⑫ | S-⑨ |
| カ | P-⑭ | Q-⑨ | R-⑧ | S-⑬ |

5B ^{とくがわいえもち}徳川家茂が幕末に大阪を訪れていたことを知ったしほさんとりんさんは、徳川家茂に関することについて調べました。【メモ】は、2人が調べたことをもとにつくったものです。あとの問いに答えなさい。



徳川家茂

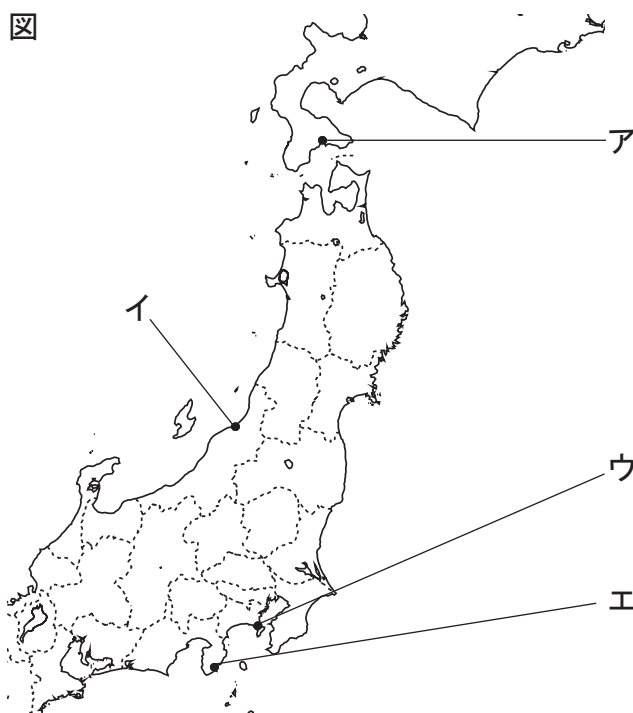
【メモ】

- 1846年に生まれた。
- 1858年に征夷大將軍に任じられた。
- 江戸幕府とアメリカとの間で結ばれた^あ日米修好通商条約の*批准書に署名、押印した。
- 江戸幕府と長州藩との戦いで幕府側の苦戦の報告が相次ぐ中、病気のため1866年に^い大阪城で生涯を閉じた。

*批准書：条約に対する国家の^{かくにん}確認、同意を示す文書のこと。

(1) 【メモ】中の下線部^あが結ばれた時のアメリカ側の代表は、アメリカ総領事ハリスです。ハリスに関することについて、次の問いに答えなさい。

① ハリスは1856年に^{しもだ}下田に来航しました。下田は日米和親条約で開港された港のうちの1つです。図中のア～エのうち、下田の場所として最も適しているものを1つ選びなさい。



(----- は現在の県界を示す)

- ② ハリスが帰国する前年の1861年にアメリカでは南北戦争が始まりました。あとのア～エのうち、南北戦争に関することについて述べた次の文章中の（ a ）、（ b ）に入る語の組み合わせとして最も適しているものを1つ選びなさい。

南北戦争は奴隷制度や貿易に関する政策をめぐる対立などから1861年に始まり、1865年に（ a ）の勝利で終わった内戦です。南北戦争中には（ b ）大統領が、奴隷解放宣言を出したり、「government of the people, by the people, for the people」という言葉を使った演説を行ったりしました。

※ 「government of the people, by the people, for the people」：「人民の、人民による、人民のための政治」という意味。

- ア a 北部 b ワシントン
 イ a 北部 b リンカン（リンカーン）
 ウ a 南部 b ワシントン
 エ a 南部 b リンカン（リンカーン）

- (2) 【メモ】中の下線部㉔に関して、次のX～Zは、徳川家茂が生涯を閉じるまでの間に起こったできごとについて述べた文です。X～Zをできごとが起こった順に並べかえると、どのような順序になりますか。あとのア～カから正しいものを1つ選びなさい。

- X しものせきほうだい 下関砲台がイギリス、フランス、アメリカ、オランダの艦隊に占領された。
 Y あんせい たいごく よし だしょういん しょぼつ 安政の大獄で吉田松陰が処罰された。
 Z さつちよう 薩長同盟が結ばれた。

- ア X → Y → Z
 イ X → Z → Y
 ウ Y → X → Z
 エ Y → Z → X
 オ Z → X → Y
 カ Z → Y → X

- (3) 【メモ】をつくった後、しほさんとりんさんが話をしています。あとのア～エのうち、【会話文】中の（ c ）、（ d ）に入る語の組み合わせとして最も適しているものを1つ選びなさい。

【会話文】

しほさん：^{とくがわいえもち}徳川家茂が^{せいゐたいしやうぐん}征夷大將軍に任じられた1858年は、日米修好通商条約が結ばれた年だね。

りんさん：そうだよ。条約が結ばれて^{よこはま}横浜（神奈川）港などで正式に貿易が始まったよ。1860年代半ばの貿易品に関する資料によると、日本から多くの（ c ）などが輸出され、毛織物などが輸入されていたよね。

しほさん：ところで、りんさん、日米修好通商条約は日本にとって不利な不平等条約だったよね。日本は他の国とも同じような内容の条約を結んだよね。

りんさん：そうだよ。明治時代になると、政府は、幕末に結ばれた不平等条約の改正のための^{こうしやう}交渉をすることなどを目的として使節団を^{はけん}派遣したよ。

しほさん：^{くげ}公家出身の（ d ）を代表とする使節団のことだね。

りんさん：1871年に派遣されたその使節団は、留学生なども含めると総勢100名を超える使節団だよ。その使節団のことをくわしく調べてみようよ。

- | | | | | |
|---|---|-------------------|---|---------------------------|
| ア | c | ^{きいと} 生糸 | d | ^{いわくらともみ} 岩倉具視 |
| イ | c | 生糸 | d | ^{おおくほとしみち} 大久保利通 |
| ウ | c | 綿織物 | d | 岩倉具視 |
| エ | c | 綿織物 | d | 大久保利通 |