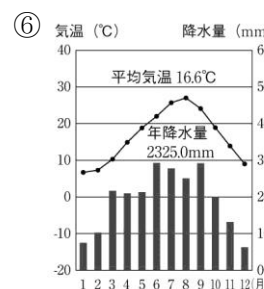
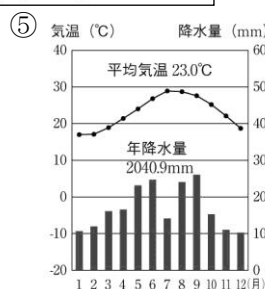
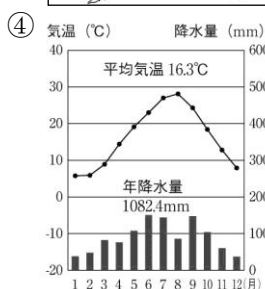
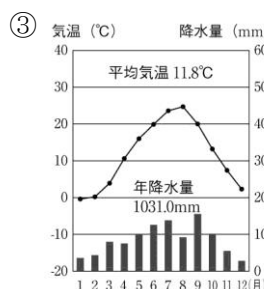
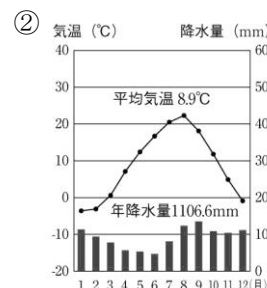
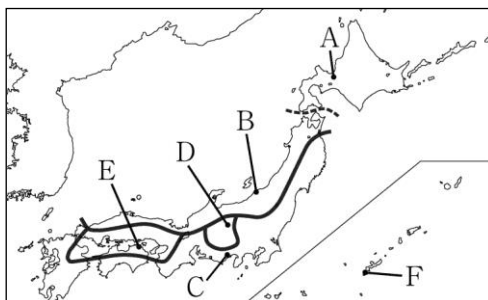
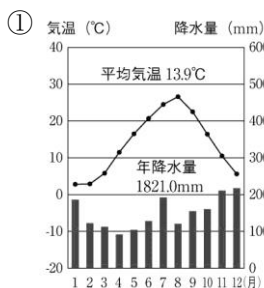


<h1 style="font-size: 2em;">7</h1>	<h2 style="font-size: 1.5em;">世界から見た日本①</h2>	年 組 番	技 能 /10 問
		名前	知 識・理 解 /4 問

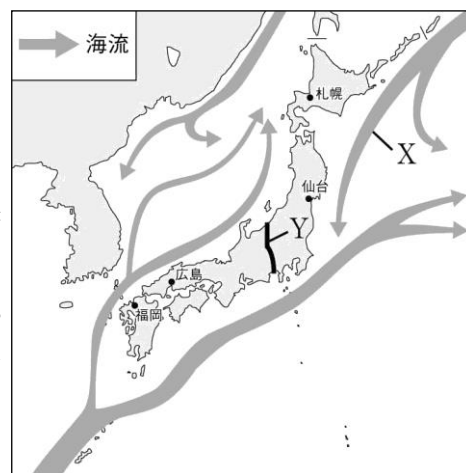
技 1 ◆資料チェック>>> 次の資料を見て、地図中のA～Fの地点にあてはまる雨温図を①～⑥から選びなさい。



A () B () C () D () E () F ()

技 2 ◆地図チェック>>> 次の地図を見て、問いに答えなさい。

- Xで示した海流を何といいますか。 ()
- Xの海流は暖流ですか、それとも寒流ですか。 ()
- Yを境として日本列島は東日本と西日本とに分けられます。この地溝帯を何といいますか。 ()
- 地図中に●で示した、札幌、仙台、広島、福岡は、政府の出先機関や企業の支社などが置かれ、その地方における政治・経済の中心になっています。このような都市を何といいますか。 ()



知 3 ◆重要語句チェック>>> 次の問いに答えなさい。

- 世界には大きな造山帯が2つあります。1つはアルプス・ヒマラヤ造山帯です。もう1つの造山帯は何といいますか。 ()
- 日本海の南部から東シナ海にかけて広がる、深さが約200mまでの平らな海底を何といいますか。 ()
- 日本列島の大部分が属している、ユーラシア大陸の東岸に見られる温帯の気候を何といいますか。 ()
- 出生率の低下と、平均寿命の伸びにより日本はどのような社会となっていますか。 ()