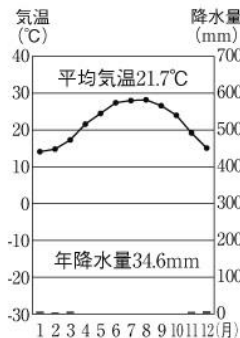
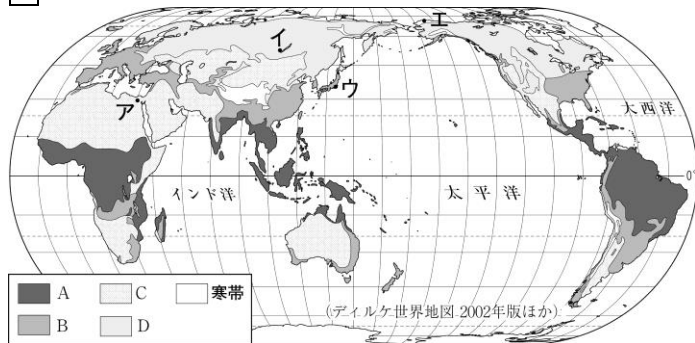


<b>2</b>	<b>世界の人々の暮らし②／ アジア州</b>	年 組 番	(技) 能 / 9 問
		名前	(知) 知識・理解 / 1 問

**1 資料を見て、問いに答えなさい。**



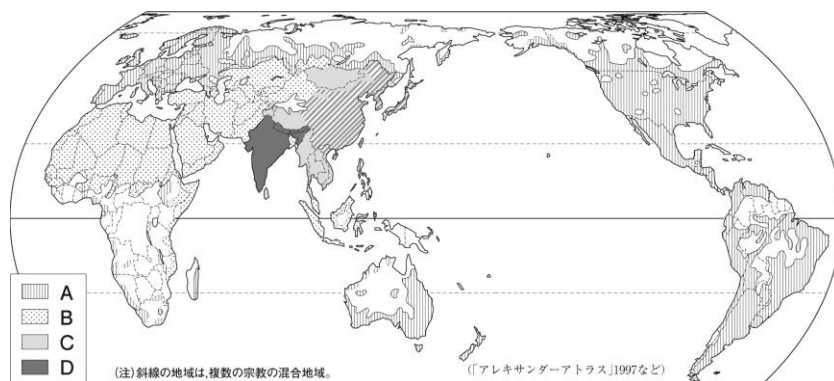
タイのバンコク周辺で見られる住居

- (技) (1) 右上の気温と降水量をあらわしたグラフにあてはまる都市を、地図中のア～エから1つ選び、記号で答えなさい。また、その都市がふくまれる気候帯を次から選びなさい。都市( ) 気候帯( )  
〔 熱帯 温帯 乾燥帯 冷帯(亜寒帯) 寒帯 〕
- (技) (2) 写真のような家が見られる地域の気候帯を地図中のA～Dから1つ選び、記号で答えなさい。( )

**2 写真や地図を見て、問いに答えなさい。**

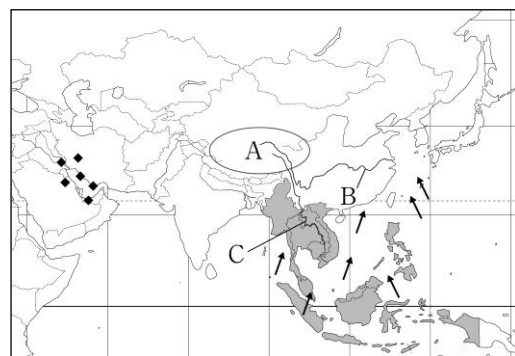
- (技) (1) 世界で最も信者が多いキリスト教の分布にあてはまるものを、A～Dから1つ選び、記号で答えなさい。( )

- (技) (2) 写真のような民族衣装は、どの宗教を信仰する女性が身に付けていますか。宗教名を答えなさい。



**3 地図を見て、問いに答えなさい。**

- (技) (1) ヒマラヤ山脈の北に広がる、地図中の A の高原を何といいますか。( )
- (技) (2) A の高原から流れ出ている、B, C の河川を次からそれぞれ選びなさい。  
B ( ) C ( )  
〔 メコン川 インダス川 黄河 長江 〕



- (技) (3) 地図中の → は、季節によって風向が異なる風を示しています。この風を何といいますか。( )
- (技) (4) 中国南部の沿岸地域にある経済特区は、何を受け入れるために設けられましたか。( )
- (技) (5) 地図中に ■ で示した東南アジア 10 か国が加盟している東南アジア諸国連合の略称を、アルファベットで答えなさい。( )
- (技) (6) 地図中に ◆ で示した地域でおもに産出する鉱産資源を、次から1つ選びなさい。( )  
〔 石炭 ポーキサイト 鉄鉱石 原油 〕