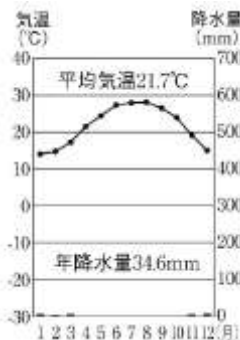
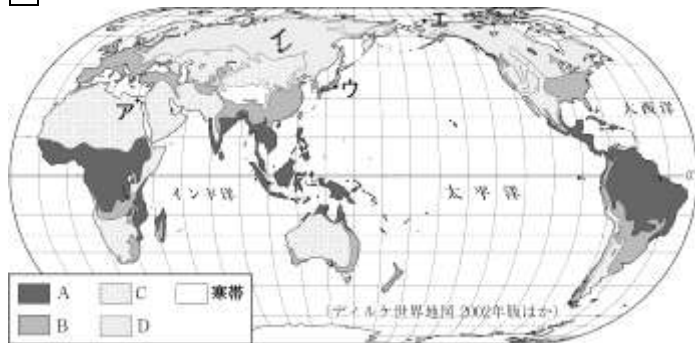


| | | | |
|----------|-----------------------------|-------|------------|
| 2 | 世界の人々の暮らし②／ アジア州 | 年 組 番 | 技 能 /9 問 |
| | | 名前 | 知識・理解 /1 問 |

1 資料を見て、問いに答えなさい。



タイのバンコク周辺で見られる住居

- 問(1) 右上の気温と降水量をあらわしたグラフにあてはまる都市を、地図中のア～エから1つ選び、記号で答えなさい。また、その都市がふくまれる気候帯を次から選びなさい。都市() 気候帯()
 [熱帯 温帯 乾燥帯 冷帯(亜寒帯) 寒帯]
- 問(2) 写真のような家が見られる地域の気候帯を地図中のA～Dから1つ選び、記号で答えなさい。()

2 写真や地図を見て、問いに答えなさい。

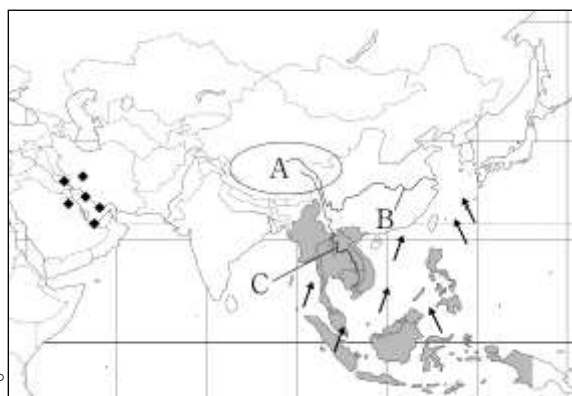
- 問(1) 世界で最も信者が多いキリスト教の分布にあてはまるものを、A～Dから1つ選び、記号で答えなさい。()

- 問(2) 写真のような民族衣装は、どの宗教を信仰する女性が身に付けていますか。宗教名を答えなさい。()



3 地図を見て、問いに答えなさい。

- 問(1) ヒマラヤ山脈の北に広がる、地図中の A の高原を何といいますが。()
- 問(2) A の高原から流れ出ている、B, C の河川を次からそれぞれ選びなさい。
 B () C ()
 [メコン川 インダス川 黄河 長江]



- 問(3) 地図中の → は、季節によって風向が異なる風を示しています。()
- 問(4) 中国南部の沿岸地域にある経済特区は、何を受け入れるために設けられましたか。()
- 問(5) 地図中に ■ で示した東南アジア 10 か国が加盟している東南アジア諸国連合の略称を、アルファベットで答えなさい。()
- 問(6) 地図中に ◆ で示した地域でおもに産出する鉱産資源を、次から1つ選びなさい。()
 [石炭 ポーキサイト 鉄鉱石 原油]