

# 平成 29 年度中学生チャレンジテスト

## 第 3 学年 社会

### 注 意

- 1 調査問題は、1 ページから 16 ページまであります。先生の合図があるまで、調査問題を開かないでください。
- 2 解答はすべて解答用紙⑤（社会）に記入してください。
- 3 解答は、HBまたはBの黒鉛筆（シャープペンシルも可）を使い、濃く、はっきりと書いてください。また、消す時は消しゴムできれいに消してください。
- 4 解答を選択肢から選ぶ問題は、解答用紙のマーク欄を黒く塗りつぶしてください。
- 5 解答を記述する問題は、指示された解答欄に記入してください。  
また、解答欄からはみ出さないように書いてください。
- 6 解答用紙は、オモテ、ウラがあります。
- 7 解答用紙の〔生徒記入欄〕に、組、出席番号、男女を記入し、マーク欄を黒く塗りつぶしてください。
- 8 調査時間は 45 分です。

下に、生徒アンケートが 2 問あります。先生の指示に従って、調査開始前に取り組んでください。アンケートの回答は解答用紙のアンケート欄のマーク欄を黒く塗りつぶしてください。

#### アンケート

次のアンケートを読んで、当てはまるものを一つずつ選びなさい。

当てはまる	どちらかといえば、当てはまる	どちらかといえば、当てはまらない	当てはまらない
-------	----------------	------------------	---------

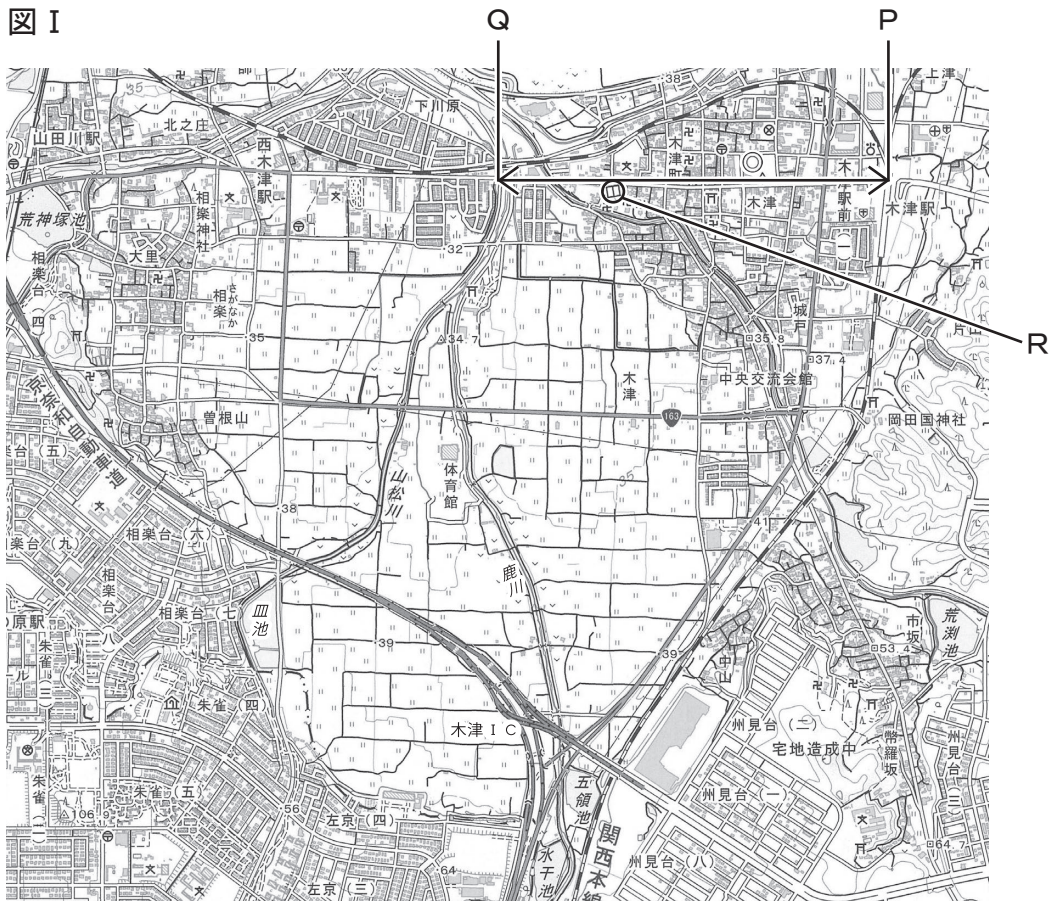
- (1) 社会の授業の内容はよく分かる。…………… ① — ② — ③ — ④
- (2) 社会の授業で目的に応じて資料 …………… ① — ② — ③ — ④  
を読み、自分の考えを話したり、  
書いたりしている。



問題は、次のページから始まります。

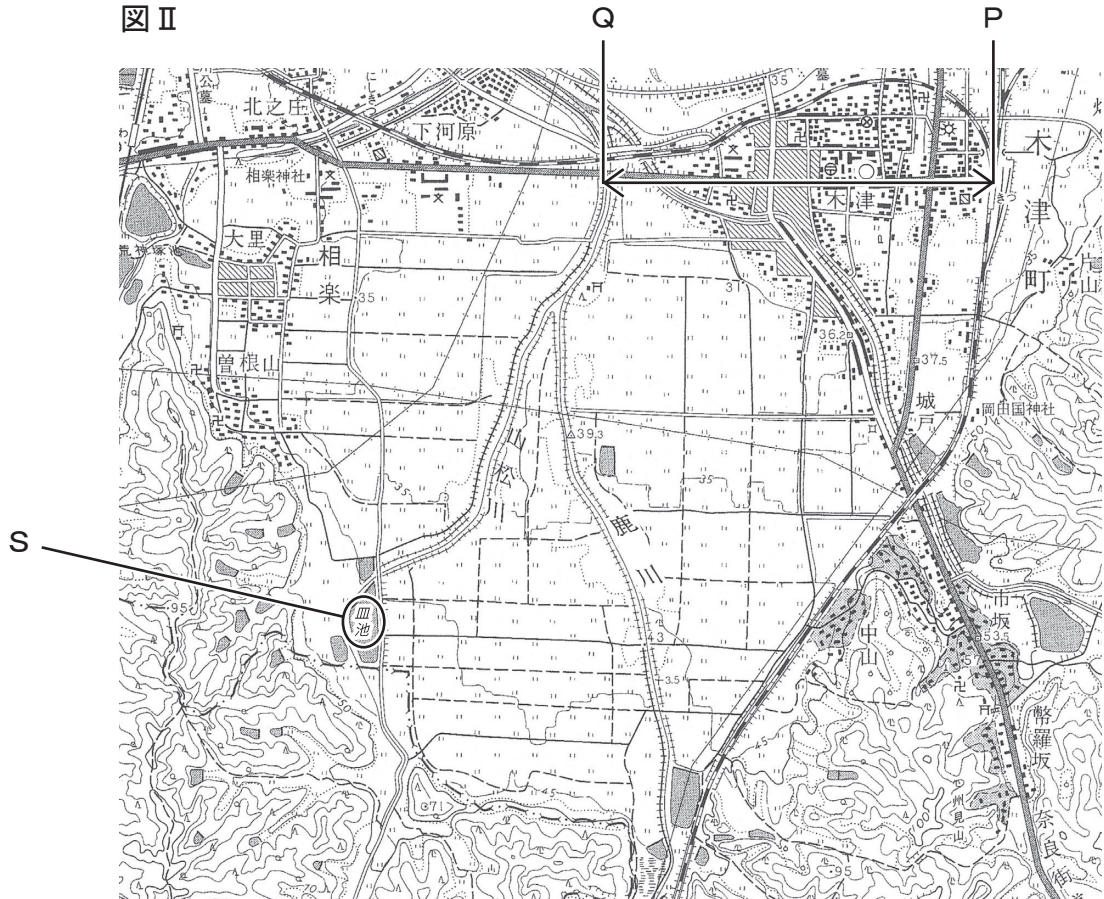
1

図 I



(地形図は上が北である。国土地理院発行 1 : 25,000 「奈良」 2015 年発行 より作成)

図 II




(地形図は上が北である。国土地理院発行 1 : 25,000 「奈良」 1969 年発行 より作成)

さつきさんは、京都府木津川市<sup>きつがわし</sup>周辺の地域の調査をしようと考え、新旧の地形図を用意しました。左の図Ⅰ、図Ⅱは、それぞれ2015（平成27）年と1969（昭和44）年に発行された、同じ範囲<sup>はんい</sup>の地域を示した2万5千分の1の地形図です。あとの問いに答えなさい。

- (1) 図Ⅰと図Ⅱにおいて、P点からQ点までの長さは、地形図上で約5cmです。実際の距離<sup>きょり</sup>はおよそ何mですか。次のア～エから一つ選びなさい。

ア 250 m      イ 500 m      ウ 1,250 m      エ 2,500 m

- (2) 図ⅠのRで示した地図記号  で表している施設<sup>しせつ</sup>は何ですか。次のア～エから適切なものを一つ選びなさい。

ア 老人ホーム      イ 博物館      ウ 図書館      エ 病院

- (3) 図Ⅰと図Ⅱとを比較<sup>ひかく</sup>して読み取れる内容として正しいものを、次のア～エから一つ選びなさい。

ア 図ⅡのP点からQ点の道路沿いにある町役場は、図Ⅰでは、消防署になっている。

イ 図Ⅰと図Ⅱにおいて、鹿川<sup>しかがわ</sup>は、北から南へ流れている。

ウ 図Ⅰで京奈和自動車道木津IC<sup>きつ</sup>（インターチェンジ）がある場所に、図Ⅱでは工場がある。

エ 図ⅡのSで示した皿池<sup>さらいけ</sup>の西側の針葉樹林や広葉樹林がある場所に、図Ⅰでは住宅地が広がっている。

- (4) 地域の調査をするときには、野外観察や聞き取り調査などを行います。次のア～エのうち、誤っているものを一つ選びなさい。

ア 野外観察をする場合には、調査する道順を書き入れた地図を意味するハザードマップを作成しておく。


イ 聞き取り調査をする場合は、聞き取りをする相手に対しての質問事項<sup>じこう</sup>を前もってまとめておく。

ウ 野外観察や聞き取り調査では、ノートや地図などに記録をとっておく。

エ 地域の調査には、野外観察と聞き取り調査のほかに、文献<sup>ぶんげん</sup>や統計資料による調査がある。

- 2 社会科の宿題で、写真1と写真2だけが印刷されたプリントが配られ、「写真の内容」と「2枚の写真に共通すること」について、調べておくことになりました。次の会話文は調べたことについて、Aさんたちの班で話し合った内容です。会話文を読んで、あとの問いに答えなさい。

### 写真1



Aさん 「これは、金印だ。」

Bさん 「江戸時代に博多湾の志賀島から出土した金製の印のことね。」

Cさん 「写真では大きく見えるけど、調べてみると印をおす四角形の部分は一円玉くらいの大きさだよ。ただ、重さは500円玉15枚分くらいで結構重いんだ。」

Dさん 「印をおす部分には5つの文字が刻まれていて、漢の委の奴の国王と読むと言われているわ。委は倭で、日本のことね。」

Bさん 「中国の歴史書には、1世紀の半ばに、倭にある奴の王が送ってきた使いに、後漢の皇帝が金印を授けたとあり、その金印と考えられているのね。

Aさん 「その時から2,000年近くたっているんだ。すごいな。でも、なぜ、遠く離れている中国まで行って、奴の国王とある金印をもらってきたのかな？」

Bさん 「中国の先進的な文物を手に入れ、中国の皇帝の力をもって、自分の国の力を他の地域の王に示したかったのかしら。」

- (1) 次のア～エのうち、下線部①のできごとが起こった弥生時代に関して説明したものとして、内容が誤っているものを一つ選びなさい。

- ア 九州にある吉野ヶ里遺跡は、弥生時代の代表的な遺跡の一つである。
- イ 弥生土器が使われ、高床倉庫には収穫物がたくわえられた。
- ウ 中国の歴史書には、倭には100余りの国があったと記されている。
- エ 大陸から伝えられた鉄器はおもに祭りのために使われ、青銅器は武器や工具として使われた。

- (2) 次の文中の（ I ）に入る適切な語を、あとのア～エから一つ選びなさい。

3世紀に邪馬台国の女王卑弥呼が中国に使いを送ったことが、中国の（ I ）の歴史書に書かれている。これは、会話文中の下線部②と同じ目的であったと考えられる。

- ア 魏      イ 隋      ウ 唐      エ 宋（北宋）

## 写真2



Dさん 「この写真は、京都にある銀閣ぎんかくよね。」

Cさん 「正しくは、慈照寺じしやうじの中の観音殿かんのんでんという建物で、一般いっぱんに銀閣と呼ばれているんだ。」

Bさん 「室町時代むろまちに室町幕府八代将軍（あ）が造営し、江戸時代③の修理を経て、大正時代たいしやうに解体修理がおこなわれているということよ。」

Cさん 「寺院の部屋の様式を武士の住まいに取り入れているのが特徴なんだ。」

Aさん 「ところで、金印と銀閣の共通することについては考えてきたかい。」

Dさん 「たぶん、両方とも国宝であるということではないかしら。」

Aさん 「そうか。なるほど。でも、銀閣が国宝なのに、室町幕府三代将軍（い）が造営した金閣ぎんかくはなぜ国宝でないんだろう。次の授業での班の発表までに調べておこうよ。」

(3) （あ）と（い）に入る人物の組み合わせを、次のア～オから一つ選びなさい。

- |   |                          |                        |      |                        |
|---|--------------------------|------------------------|------|------------------------|
| ア | あー足利 <small>あしかが</small> | 義政 <small>よしまさ</small> | いー足利 | 義満 <small>よしみつ</small> |
| イ | あー足利                     | 義満                     | いー足利 | 義政                     |
| ウ | あー足利                     | 尊氏 <small>たかうじ</small> | いー足利 | 義政                     |
| エ | あー足利                     | 義満                     | いー足利 | 尊氏                     |
| オ | あー足利                     | 尊氏                     | いー足利 | 義満                     |

(4) 次のア～エのうち、下線部③の文化について説明したものとして、内容が正しいものを一つ選びなさい。

- ア 狂言きやうげんが世阿弥ぜあみによって大成され、狂言の合間のうには能が演じられた。
- イ 雪舟せつしゆに代表される浮世絵うきよえが盛んさかになった。
- ウ 和歌の上の句かみと下の句しもをよみつないでいく連歌れんがが人々のあいだに広まった。
- エ 鴨長明かもちやうめいが書いた絵入りの物語である『徒然草つれづれぐさ』が人々に楽しまれた。

Aさんたちの班は、国宝について、さらに調べてレポートにまとめました。班でつくった次のレポートを読んで、あとの問いに答えなさい。

### 【国宝とは？】

「世界文化の見地から価値の高いもので、たぐいない国民の宝」が国宝と定められている。

この「国宝」という考え方を主張したのは、明治時代<sup>めいじ</sup>に來日し、日本美術に大きな役割を果たしたフェノロサであった。彼は、現存する世界最古の木造建築と言われている寺院<sup>㉞</sup>で、現在国宝となっている仏像を見出している。

### 【国宝の件数は？】

2017（平成 29）年の時点で、美術工芸品と建造物をあわせて 1,101 件が国宝に指定されている。金印<sup>きんかく</sup>は美術工芸品で、銀閣<sup>ぎんかく</sup>は建造物である。

ここで件数となっているのは、例えば、鎌倉時代<sup>かまくら</sup>に作られた絵画の「法然上人<sup>ほうねんしょうにん</sup>絵傳<sup>えでん</sup>」<sup>㉟</sup> 48 巻を 1 件として数えているからである。

### 【さまざまな時代の国宝】

さまざまな時代のものが国宝に指定されている。例えば、「源氏物語絵巻<sup>げんじものがたりえまき</sup>」は平安時代<sup>へいあん</sup>、姫路城<sup>ひめじじょう</sup>は安土桃山時代<sup>あづちももやま</sup>のものである。<sup>㊱</sup>

明治時代の建造物として、2014（平成 26）年に、旧富岡製糸場<sup>とみおかせいしじょう</sup> 3 棟が指定されている。<sup>㊲</sup>

### 【銀閣と金閣の違いから】

班で国宝である銀閣について話し合ったときに、なぜ金閣は国宝になっていないのかという疑問が出た。調べてみたところ金閣は 1950（昭和 25）年<sup>しょうわ</sup>に焼失していて、現在のものは新しく復元されたものであるからということだった。国宝はもちろん、貴重な文化財を失うことなくこれからも大切に保存し、私たちの歴史をしっかりと後世に伝えていくことは重要なことである。

(5) 下線部<sup>㉞</sup>の寺院の名前を、次のア～エから一つ選びなさい。

ア 延暦寺<sup>えんりやくじ</sup>      イ 東大寺<sup>とうだいじ</sup>      ウ 法隆寺<sup>ほうりゅうじ</sup>      エ 金剛峯寺<sup>こんごうぶじ</sup>

(6) 下線部<sup>㉟</sup>の人物は、「南無阿弥陀仏<sup>なむあみだぶつ</sup>」と念仏<sup>ねんぶつ</sup>を唱えることが、極楽<sup>ごくらく</sup>に生まれ変わることができる方法であると説きました。この人物の開いた宗派の名前を、次のア～エから一つ選びなさい。

ア 禪宗<sup>ぜんしゅう</sup>      イ 日蓮宗<sup>にちれんしゅう</sup>      ウ 浄土真宗<sup>じょうどしんしゅう</sup>      エ 浄土宗<sup>じょうどしゅう</sup>



- (7) 下線部㉓において、唐風とうふうの文化を基礎きそに、わが国独自の文化げんが生まれました。『源氏物語じものがたり』や『古今和歌集こきんわかしゅう』などに代表されるこの文化の名前を、次のア～エから一つ選びなさい。

ア 飛鳥文化あすか      イ 国風文化こくふう      ウ 天平文化てんびょう      エ 元禄文化げんろく

- (8) 下線部㉔の時代のできごとを説明している文を、次のア～エから一つ選びなさい。

ア 幕府ばくふは武家諸法度ぶけしよほつとを定めて、大名だいみょうを厳しく統制した。  
 イ 刀狩かたながりと検地けんちによって、武士ひやくしゅうと百姓を区別する兵農分離がすすめられた。  
 ウ 後醍醐天皇ごだいごにより、天皇中心の政治がすすめられた。  
 エ 藤原道長ふじわらのみちながや藤原頼通ふじわらのよりみちにより、摂関政治せつかんせいじが行われた。

- (9) 下線部㉕に関して、明治時代たいしゅうから大正時代のわが国の産業についての次の文章を読んで、あとの問いに答えなさい。

明治維新めいじいしん以降、産業おこを興して日本を近代化するという殖産興業しょくさんこうぎょうは、明治政府の中心的な課題であった。その一環として、1872（明治5）年、明治政府は当時の主要な輸出品であった（ a ）の増産や品質向上のために、群馬県に富岡製糸場をつくった。

わが国の産業は、こうした繊維工業せんいを中心とした軽工業が主体であったが、1901（明治34）年に官営やはたせいてつじょの八幡製鉄所が北九州で操業を開始した。その後、1914（大正3）年から始まり4年余り続いた（ b ）により、ヨーロッパからの工業製品の輸入がとどこおり、国内製品への代替が進んだことが、重化学工業が発展する要因の一つとなった。

- ① （ a ）に入る適切な語を、次のア～エから一つ選びなさい。

ア 毛織物      イ 麻あさ      ウ 生糸きいと      エ 綿織物

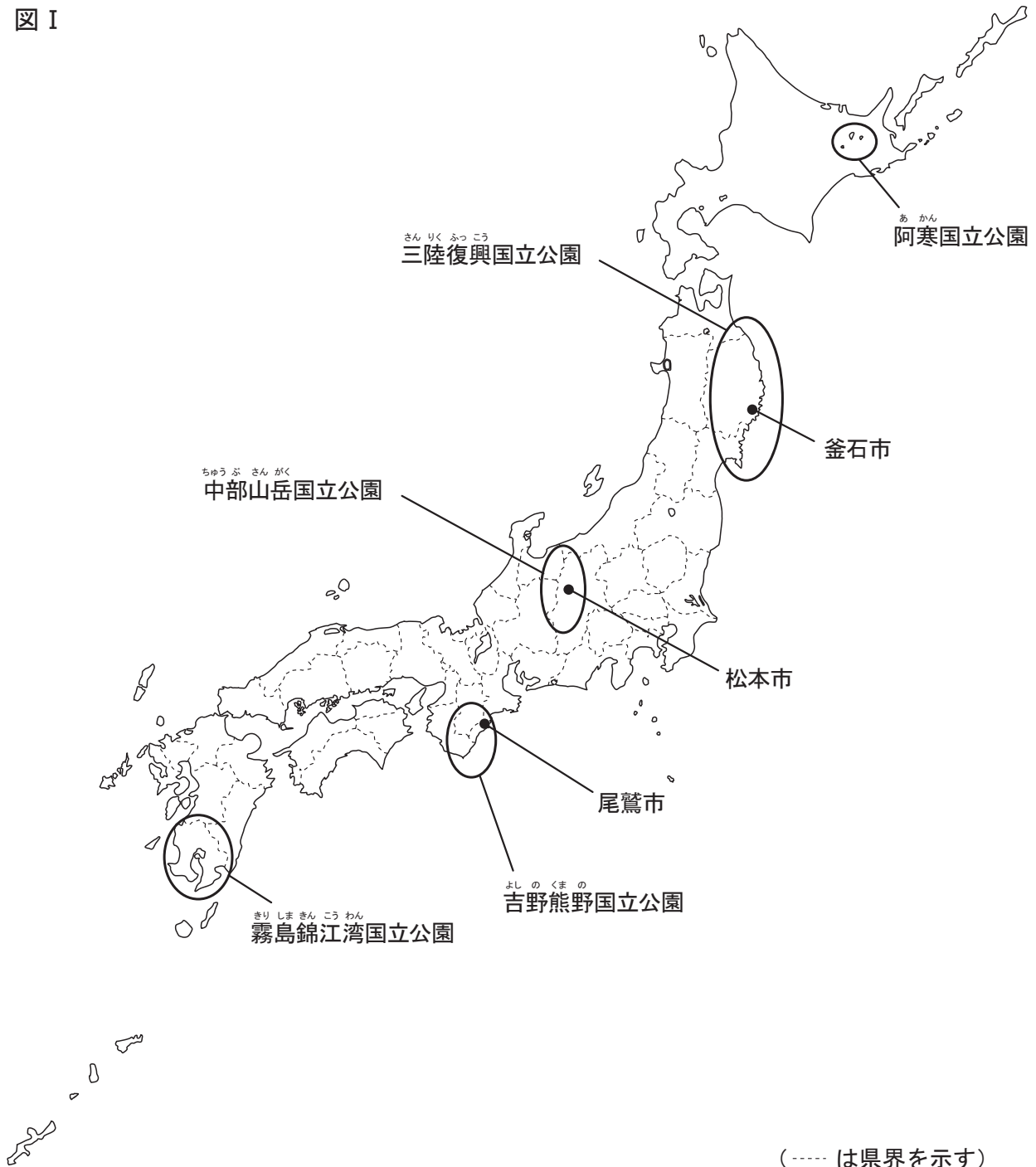
- ② 文章中の下線部の1901年は何世紀に当たりますか。数字を書きなさい。

- ③ （ b ）に入る適切な語を、次のア～エから一つ選びなさい。

ア アヘン戦争      イ 辛亥革命しんがいかくめい  
 ウ 第一次世界大戦      エ ロシア革命

3 まさきさんは、日本の国立公園について調べました。図 I は、まさきさんが取り上げた国立公園のおおよその範囲と釜石市、松本市、尾鷲市の位置を日本地図に示したものです。あとの問いに答えなさい。

図 I



(1) 次の①、②の文は、図 I 中のいずれかの国立公園を紹介したものです。①と②の国立公園に当たるものを、あとのア～オからそれぞれ一つずつ選びなさい。

① この国立公園の北部は、大小 20 以上の火山が連なっている。南部は今も噴煙をあげ、地域のシンボルとなっている桜島を中心として、シラス台地など特色ある地形や景観でよく知られている。

② この国立公園は冷帯（亜寒帯）にあり、大部分は針葉樹林を中心とする天然林におおわれ、貴重な自然環境が残されている。摩周湖・屈斜路湖などの湖が分布している。

ア 阿寒国立公園

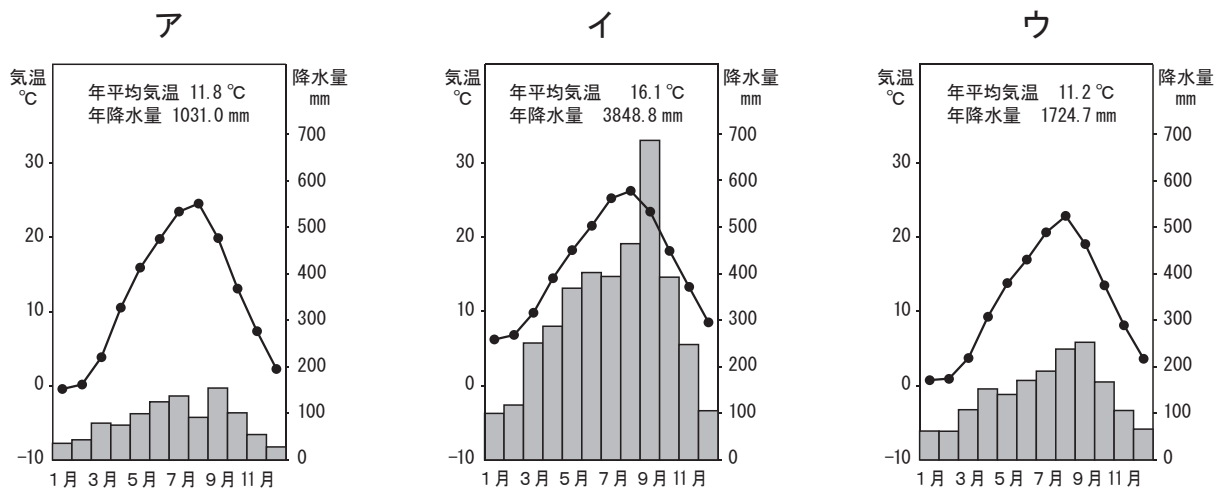
イ 三陸復興国立公園

ウ 中部山岳国立公園

エ 吉野熊野国立公園

オ 霧島錦江湾国立公園

(2) 次のア～ウは、図 I 中の釜石市、松本市、尾鷲市のいずれかの雨温図です。ア～ウから、尾鷲市に当たるものを一つ選びなさい。



気象庁の資料により作成

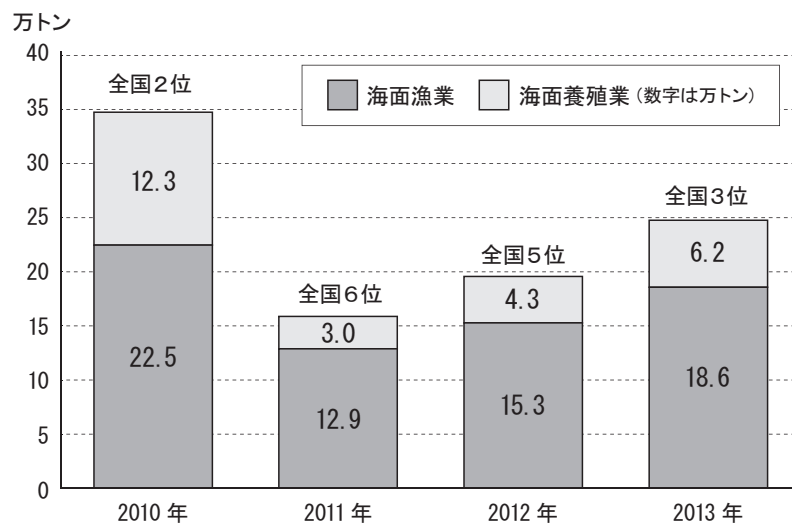
(3) 図 I 中の尾鷲市は、尾鷲ヒノキの林業などでその名をよく知られています。この尾鷲市のある都道府県の名前を書きなさい。

- (4) 図Ⅰ中の中部山岳国立公園には、3,000 m級の山々が連なっています。次のア～エのうち、この地域を源流にして、新潟県で日本海にそそぐ川の名前を一つ選びなさい。

ア 天竜川      イ 木曾川      ウ 利根川      エ 信濃川

- (5) 図Ⅰ中の三陸復興国立公園は、2011（平成23）年の東日本大震災により被災した三陸地域の復興に貢献するために、2013（平成25）年に創設された国立公園です。この国立公園の沖合は、親潮と黒潮がぶつかる海域であり、全国でも有数の漁場です。次の図Ⅱは、宮城県の漁業生産量の推移と全国順位を示したものです。図Ⅱを見て、読み取れる内容について適切でないものを、あとのア～エから一つ選びなさい。なお、漁業生産量は、海面漁業の生産量と海面養殖業の生産量を合わせたものです。

図Ⅱ 宮城県の漁業生産量の推移と全国順位



※ 海面漁業：海で行う漁業 海面養殖業：海で行う養殖業

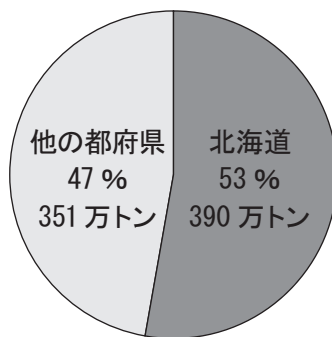
宮城県の資料により作成

- ア 東日本大震災前の2010年の漁業生産量は、34.8万トンで全国2位だったが、2011年の漁業生産量はその半分以上となり、全国6位となった。
- イ 海面養殖業の生産量が漁業生産量に占める割合は、東日本大震災前の2010年に4割をこえていたが、2013年は2割に届いていない。
- ウ 2013年の海面漁業の生産量は、東日本大震災前の2010年の海面漁業の生産量の8割をこえるまでに回復している。
- エ 2013年の漁業生産量は全国3位であり、東日本大震災前の2010年の全国2位に次ぐ順位となるまでに回復している。

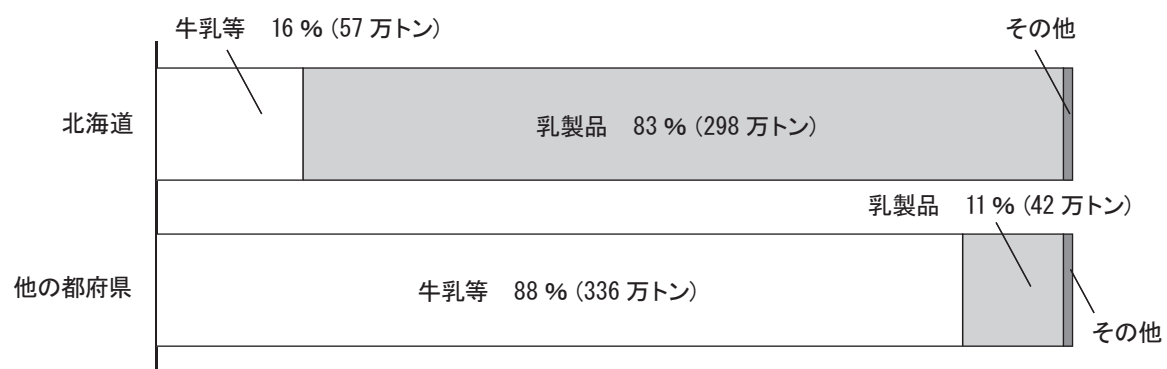
(6) 図Ⅰ中の三陸復興国立公園のある太平洋側では、夏に吹く冷たく湿った北東風が、冷害をもたらすことがあります。この風を何と呼びますか。名前を書きなさい。

(7) 図Ⅰ中の阿寒国立公園の東部には、酪農がさかんに行われている根釧台地があります。次の図Ⅲは、全国の生乳生産量（しぼったままで、人の手を加えない乳用牛の乳の生産量）、図Ⅳは、生乳の用途について北海道と他の都府県とを比較したものです。図Ⅲと図Ⅳから読み取れる北海道における酪農の特徴を、生乳生産量、生乳の用途の二語を使って、70字以内で書きなさい。

図Ⅲ 全国の生乳生産量（2015年）



図Ⅳ 生乳の用途（2015年）



※ 牛乳等：飲用牛乳や乳酸菌飲料等

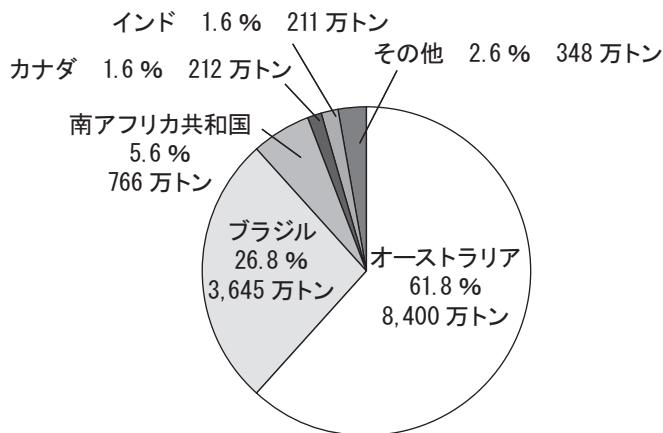
乳製品：牛乳を加工したバター、チーズなど

※ 北海道から他の都府県への生乳移出分等を含むため、図Ⅲの生乳生産量とは一致しない。

農林水産省の資料により作成

- 4 わかなさんは、日本が中国に次いで世界第二位の鉄鉱石輸入国であることに興味をもち、図 I を作成しました。あとの問いに答えなさい。

図 I 日本の鉄鉱石の輸入先（2013 年）



『日本国勢図会 2015/16』により作成

- (1) わかなさんは、図 I 中の 5 か国について、鉄鉱石と鉄鋼の生産量を調べました。表 I は、1990 年、2010 年、2013 年の 5 か国の鉄鉱石生産量、表 II は、1990 年、2010 年、2013 年の 5 か国の鉄鋼生産量を表したものです。表 I と表 II から読み取れる内容について適切なものを、あとのア～オから一つ選びなさい。

表 I 鉄鉱石生産量（単位 万トン）

国名	1990 年	2010 年	2013 年
オーストラリア	6,980	27,100	37,700
ブラジル	9,990	24,777	24,567
南アフリカ共和国	1,970	3,690	4,570
カナダ	2,200	2,330	2,600
インド	3,440	13,440	9,600

『世界国勢図会 2016/17』により作成

表 II 鉄鋼生産量（単位 万トン）

国名	1990 年	2010 年	2013 年
オーストラリア	668	730	469
ブラジル	2,057	3,295	3,416
南アフリカ共和国	862	762	725
カナダ	1,228	1,301	1,242
インド	1,496	6,898	8,130

『世界国勢図会 2015/16』により作成

- ア オーストラリアにおいて、鉄鉱石生産量はいずれの年も5か国の中で一番多いが、鉄鋼生産量はいずれの年も5か国の中で一番少ない。
- イ ブラジルにおいて、2010年と2013年を比べると、鉄鉱石生産量および鉄鋼生産量は、ともに増加している。
- ウ 南アフリカ共和国において、1990年と2013年を比べると、鉄鉱石生産量は2倍以上になっているが、鉄鋼生産量は減少している。
- エ カナダにおいて、2010年と2013年を比べると、鉄鉱石生産量および鉄鋼生産量は、ともに減少している。
- オ インドにおいて、2013年の鉄鋼生産量は、1990年の鉄鋼生産量の6倍以上になっている。

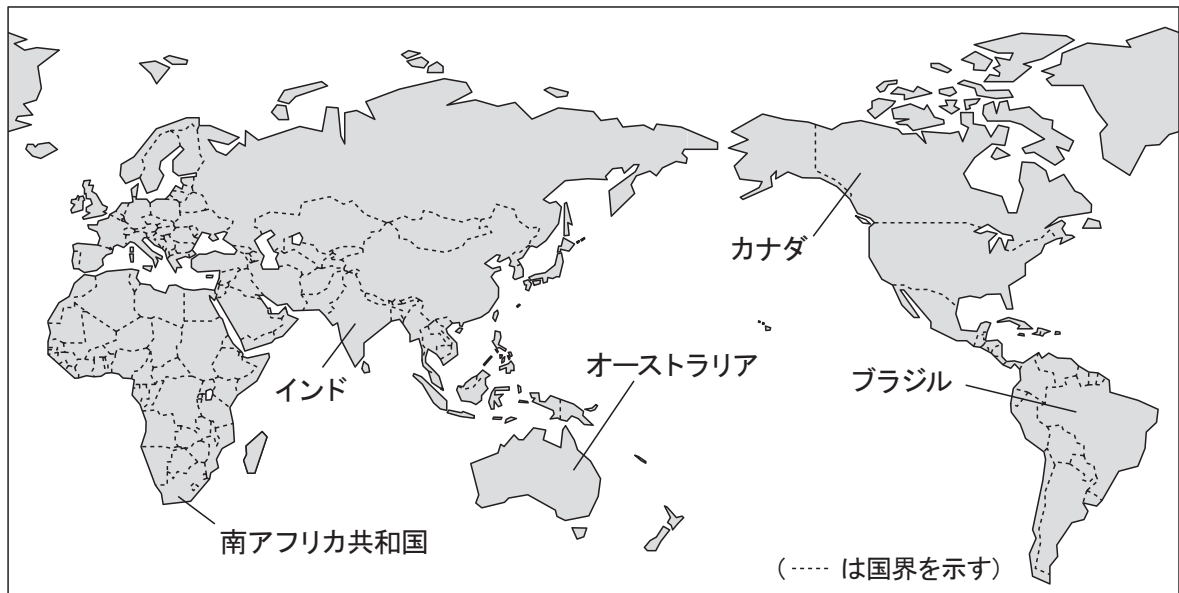
- (2) 次の写真は、オーストラリアの鉄鉱石鉱山で見られる、地表から掘り下げていく採掘さいくつのようすを表しています。直接地表から鉱産資源をけずり取る、このような採掘方法を何と呼びますか。書きなさい。



- (3) 鉄鉱石の他にも鉱産資源が豊富である南アフリカ共和国では、埋蔵量が少なかったり、じゆんすい純粋なものとして取り出すことが難しかったりする金属も産出されます。このような金属は、けいたい携帯電話やコンピュータ、自動車などの生産に欠かせないもので、日本では不要になった家電製品から回収して再利用しています。このような希少な金属（希少金属）を何と呼びますか。カタカナで書きなさい。

- (4) わかなさんは、図Ⅰ中の5か国について、さらに調べました。次の図Ⅱは、5か国の位置を示しています。あとのア～エのうち、図Ⅱに示した5か国について説明したものとして、内容が適切でないものを一つ選びなさい。

図Ⅱ



- ア カナダにあるロッキー山脈は、環太平洋造山帯の一部である。  
 イ ブラジルには、流域に熱帯の森林が広がるアマゾン川がある。  
 ウ 5か国のうち、大西洋に面していないのは、オーストラリアとインドである。  
 エ 5か国のうち、国土のすべてが赤道より南に位置する国は3か国ある。

- (5) 次の①、②の文は、図Ⅱ中の5か国のいずれかの国の人口や言語・宗教について説明したものです。①と②の国に当たるものを、あとのア～オからそれぞれ一つずつ選びなさい。

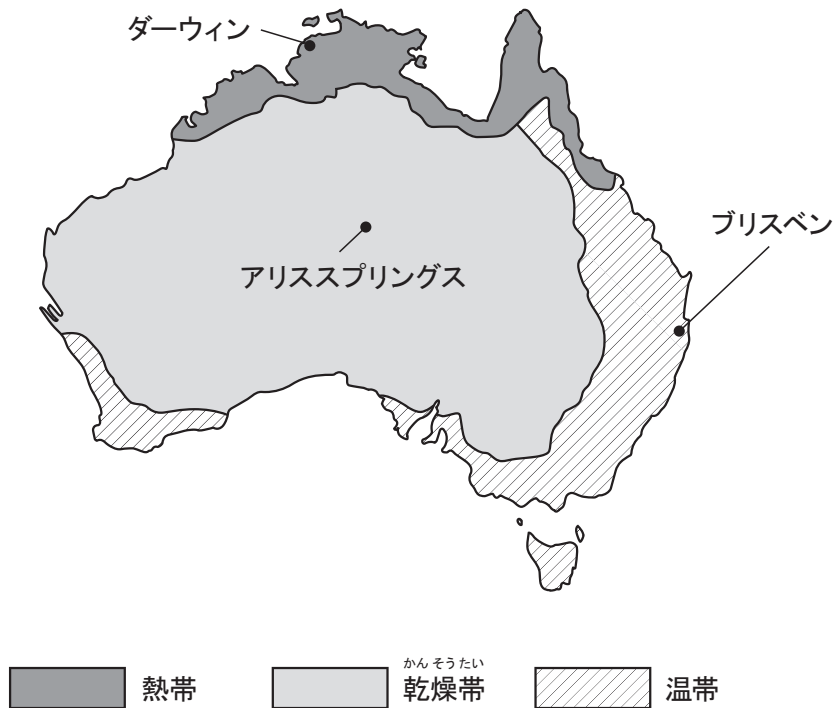
- ① 人口は、約13.3億<sup>おく</sup>人。国全体の公用語はヒンディー語で、公用語に次いで英語がよく使われている。最も多く信仰<sup>しんこう</sup>されている宗教はヒンドゥー教である。  
 ② 人口は、約2.1億人。公用語はポルトガル語である。最も多く信仰されている宗教はキリスト教である。

- |   |         |   |      |   |          |
|---|---------|---|------|---|----------|
| ア | オーストラリア | イ | ブラジル | ウ | 南アフリカ共和国 |
| エ | カナダ     | オ | インド  |   |          |

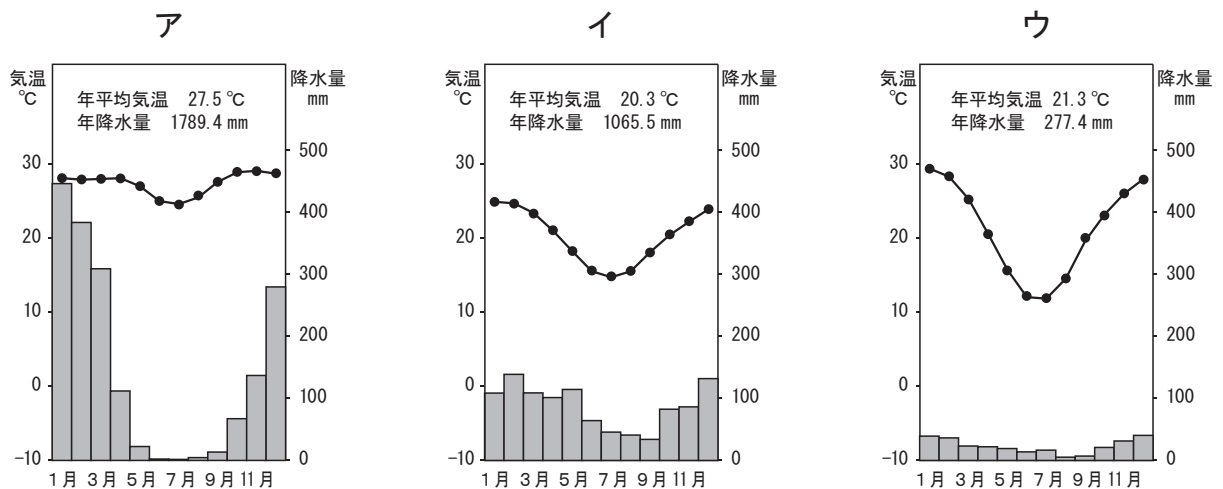


- (6) 次の図Ⅲは、オーストラリアの<sup>きこうたい</sup>気候帯と、ダーウィン、アリススプリングス、ブリスベンの3都市の位置を示したものです。あとのア～ウは、ダーウィン、アリススプリングス、ブリスベンのいずれかの雨温図に当たります。図Ⅲを参考にして、アリススプリングスの雨温図に当たるものを、ア～ウから一つ選びなさい。また、そのように判断した理由を35字以内で書きなさい。

図Ⅲ



『データブック オブ・ザ・ワールド 2016年』により作成



『理科年表 平成28年』により作成

- 5 社会科の授業で、ゆかりさんの班は、人々の生活にかかわる経済をテーマにして、A～Fの6枚の異なる時代のカードを作成しました。ゆかりさんは、鎌倉時代を示すカードAを作成しました。カードA～Fを見て、あとの問いに答えなさい。カードの中の□には、それぞれの時代の名前が入ります。また、カードA～Fは時代順に並んでいません。

A 鎌倉時代

この時代になって、田を耕すのに牛や馬を使ったり、二毛作も広く行われるようになったりするなど農業技術が進歩した。また、寺社の門前や交通の便利な所で市が定期的に開かれ、中国から輸入された宋銭が貨幣として使われた。

B □時代

この時代の貝塚と呼ばれる遺跡には、捨てられた貝殻や魚、けもの骨などが何層にも積み重なっている。また、狩りや漁、採集などで手に入れた食料の保存や煮たきのために、この時代になり初めて土器が使われるようになった。

C □時代

この時代は、人々に租・調・庸と呼ばれる税がかけられた。また、兵役や労役などもあった。律令制のもとで、調や庸は農民によって平城京に運ばれた。

D □時代

この時代、全国の都市を結ぶ陸上や海上の交通路が整備され、日本各地から集められた年貢米や特産物は、大阪などに送られた。また、備中ぐわなどの新しい農具も使われるようになり、農業生産力は向上した。

E □時代

この時代、村では、惣と呼ばれる自治組織が作られ、人々の結びつきは強くなっていた。そうした中、農民などが、金融業を営む富裕な土倉や酒屋などをおそって、借金の帳消しを求める土一揆がおこるようになった。

F □時代

この時代になって、稲作が本格的に広まった。稲作が盛んになるとともに、より力を持ったむらが登場し、まわりのむらを従えて、くにを形成していった。

(1) 次のア～エの文のうち、カードAが示す時代のできごとに当たらないものを、一つ選びなさい。

- ア 執権の北条泰時が、御成敗式目（貞永式目）を定めた。
- イ 二度にわたる元軍の襲来（元寇）があった。
- ウ 承久の乱の後、幕府は京都に六波羅探題を置き、朝廷を監視した。
- エ 将軍のあとつぎ争いと守護大名の対立から応仁の乱がおこった。

(2) カードBの時代の名前は、使っていた土器の名前からつけられています。カードBが説明している時代の名前を書きなさい。

(3) 次の①、②のできごとがおこったのは、わが国において、いつの時代のことですか。時代を示すカードA～Fのうちから、それぞれ一つずつ選びなさい。

- ① 中国で明がおり、日本との勘合貿易が始まった。
- ② イギリスで産業革命がおこった。

(4) 次の写真と、ゆかりさんとひろしさんの会話文を見て、時代を示すカードA～Fのうちから、ひろしさんが作成した時代のカードを一つ選びなさい。



ゆかりさん：これはお金の写真かしら。

ひろしさん：中国にならって日本で作られた貨幣の写真だよ。ぼくのつくったカードの時代に、奈良にあった都で使われていたんだ。

(5) カードA～Fを時代の古いものから順に並べた場合に、一番最後になるものはどれですか。一つ選びなさい。