

平成 28 年度中学生チャレンジテスト

第 3 学年 社会

注 意

- 1 調査問題は、1 ページから 16 ページまであります。先生の合図があるまで、調査問題を開かないでください。
- 2 解答はすべて解答用紙⑤（社会）に記入してください。
- 3 解答は、HBまたはBの黒鉛筆（シャープペンシルも可）を使い、濃く、はっきりと書いてください。また、消すときは消しゴムできれいに消してください。
- 4 解答を選択肢から選ぶ問題は、解答用紙のマーク欄を黒く塗りつぶしてください。
- 5 解答を記述する問題は、指示された解答欄に記入してください。
また、解答欄からはみ出さないように書いてください。
- 6 解答用紙は、オモテ、ウラがあります。
- 7 解答用紙の〔生徒記入欄〕に、組、出席番号、男女を記入し、マーク欄を黒く塗りつぶしてください。
- 8 調査時間は 45 分です。

下に、生徒アンケートが 2 問あります。先生の指示に従って、調査開始前に取り組んでください。アンケートの回答は解答用紙のアンケート欄のマーク欄を黒く塗りつぶしてください。

アンケート

次のアンケートを読んで、当てはまるものを一つずつ選びなさい。

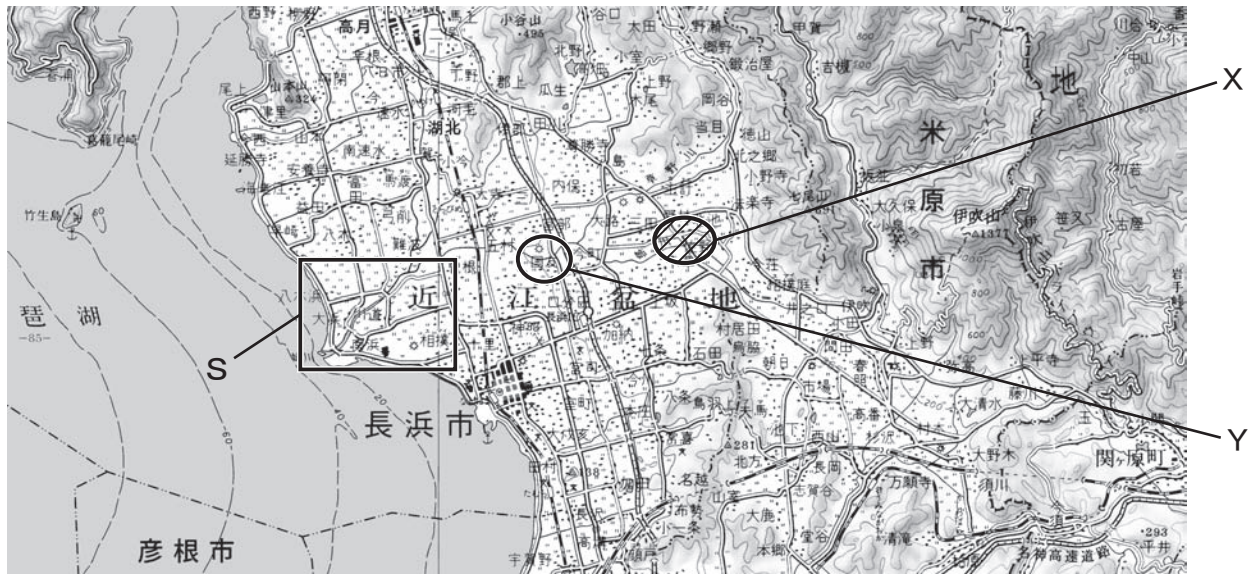
当てはまる	どちらかといえば、当てはまる	どちらかといえば、当てはまらない	当てはまらない
-------	----------------	------------------	---------

- (1) 社会の授業の内容はよく分かる。…………… ① — ② — ③ — ④
- (2) 社会の授業で目的に応じて資料 …………… ① — ② — ③ — ④
を読み、自分の考えを話したり、
書いたりしている。

問題は、次のページから始まります。

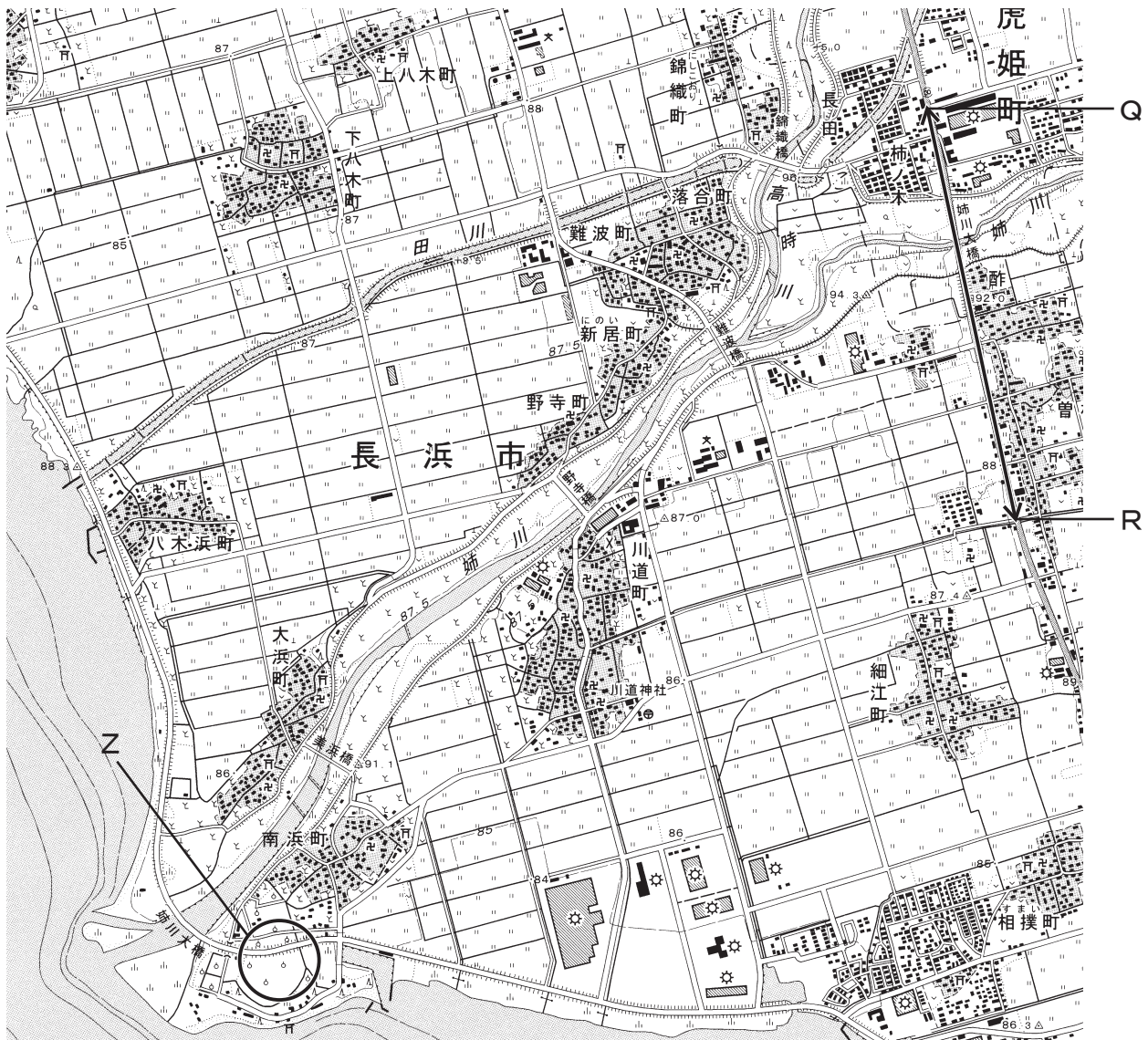
1

図 I



(国土地理院発行 1 : 200,000 「岐阜」より)

図 II



(国土地理院発行 1 : 25,000 「南浜」より)

左の図Ⅰは琵琶湖北東部の20万分の1の地図の一部であり、図Ⅱは図Ⅰ中のSの部分
びわこ
を拡大した2万5千分の1の地図の一部です。図を見て、あとの問いに答えなさい。

(1) 琵琶湖がある都道府県名を次のア～エから一つ選びなさい。

ア 岐阜県 イ 京都府 ウ 滋賀県 エ 福井県

(2) 図Ⅰ中のXで示した場所では、かつて「姉川の戦い」がありました。次の「姉川の戦い」に関する文章で説明している人物の名前を、下のア～エから一つ選びなさい。

16世紀後半に、姉川の河原で数万の軍が戦った「姉川の戦い」で、この人物は浅井・朝倉連合軍を破りました。後に、この人物は、安土に城を築き天下統一をめざし、楽市・楽座などさまざまな政策を実施しましたが、家臣の謀反により京都の本能寺に生涯を終えました。

ア 徳川家康 イ 豊臣秀吉 ウ 織田信長 エ 明智光秀

(3) 図Ⅰ中のYで示した「国友」について記した次の文章の[]に当てはまる適切なヨーロッパの国の名前を書きなさい。

国友や堺などで作られた鉄砲は、戦国時代のさまざまな戦いの場で使用されることとなった。初めてわが国に鉄砲が伝えられたのは、16世紀半ば、種子島に漂着した中国船に乗ってヨーロッパから来た[]人によるものであった。

(4) 図Ⅰ・Ⅱには、河川が河口部につくる地形のようすがうかがえます。図Ⅱからも読み取れるように、水田としても利用されているこの地形を何と呼びますか。書きなさい。

(5) 図Ⅱは、2万5千分の1の地形図です。図ⅡのQの地点からRの地点までの長さは地図上では6cmです。実際の距離は何mですか。次のア～エから一つ選びなさい。

ア 150 m イ 300 m ウ 1,500 m エ 3,000 m

(6) 次のア～エのうち、図Ⅱから読み取れることがらについて誤っているものを一つ選びなさい。

- ア ^{かみやぎ} 上八木町と^{しもやぎ} 下八木町の集落のそれぞれに寺院と神社がある。
- イ ^{あねがわ} 姉川にかかる橋では、^の 野寺橋の方が^{なんば} 難波橋より上流にある。
- ウ ^{ほそえ} 細江町の集落は、^{かわみち} 川道町の集落の東側にある。
- エ Zで示す姉川河口の部分には果樹園がある。

問題は、次のページに続きます。

- 2 授業で班ごとに「奈良の地理や歴史に関して」の調べ学習をしました。Kさんの班は、「奈良・東大寺の大仏の毛髪（らほつ）が、定説の966個ではなく492個だったことがわかった」という新聞記事に興味をもち、東大寺のホームページなどで大仏について調べることにしました。次の文章はKさんの班が調べたものです。文章を読んで、あとの問いに答えなさい。

○東大寺は、奈良時代に（ A ）^{てんのう}天皇が仏教の考えを広め、国を守るために建てたお寺である。

○①743年に（ A ）天皇は「生きとし生けるものが共に栄えること」を願い「大仏造立の詔」^{だいぶつぞうりゅう みことり}を発し、大仏が造立された。

○751年に大仏が入る大仏殿^{だいぶつでん}が完成し、752年には大仏開眼供養^{だいぶつかいげんくよう}が行われた。

○大仏の頭についているうずまき状の毛髪のことを「らほつ」といい、奈良時代に造られたときには966個あったと伝えられているが、現在の大仏は、調査の結果、492個であることがわかった。



○大仏殿は12世紀後半に平氏^{へいし}が起こした戦乱による火災で焼失し、大仏も損傷した。その後、大仏も大仏殿も修理され、12世紀後半の大仏殿再建の法要には、当時^{しょうぐん}将軍であった（ B ）も出席した。

○戦国時代^{せんごくじだい}に入り、16世紀後半の戦乱による火災で、大仏殿は焼け落ち、大仏も大きく損傷した。その後、17世紀後半に大仏が、18世紀前半に大仏殿が、江戸時代^{えどじだい}の人々の尽力により再建された。

○長い年月の中で、大仏を造り直していくうちに、毛髪（らほつ）の数が減ったのだろう。

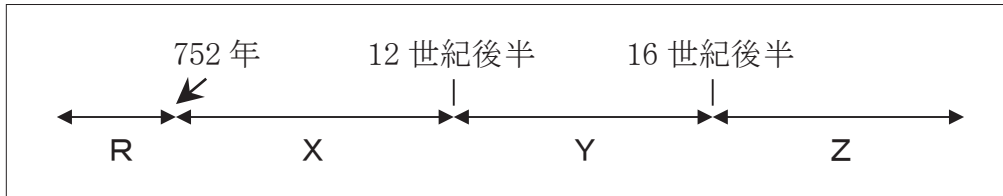
- (1) （ A ）に入る天皇の名前を書きなさい。

(2) (B) に入る人物の名前を次のア～エから一つ選びなさい。

ア ふじわらのみちなが 藤原道長 イ みなもとのよりとも 源頼朝 ウ あしかがよしまさ 足利義政 エ とくがわいえみつ 徳川家光

(3) 文章中①の 743年は、きげんご紀元後何世紀に当たりますか。数字を書きなさい。

(4) 文章中の「752年には大仏開眼供養」より以前に起こったできごとをR、「752年には大仏開眼供養」から「12世紀後半に平氏が起こした戦乱による火災」までの間に起こったできごとをX、「12世紀後半に平氏が起こした戦乱による火災」から「16世紀後半の戦乱による火災」までの間に起こったできごとをY、「16世紀後半の戦乱による火災」以降のできごとをZとすると次の①～⑤のできごとはそれぞれR・X・Y・Zのいずれの時期のできごとですか。記号を選びなさい。

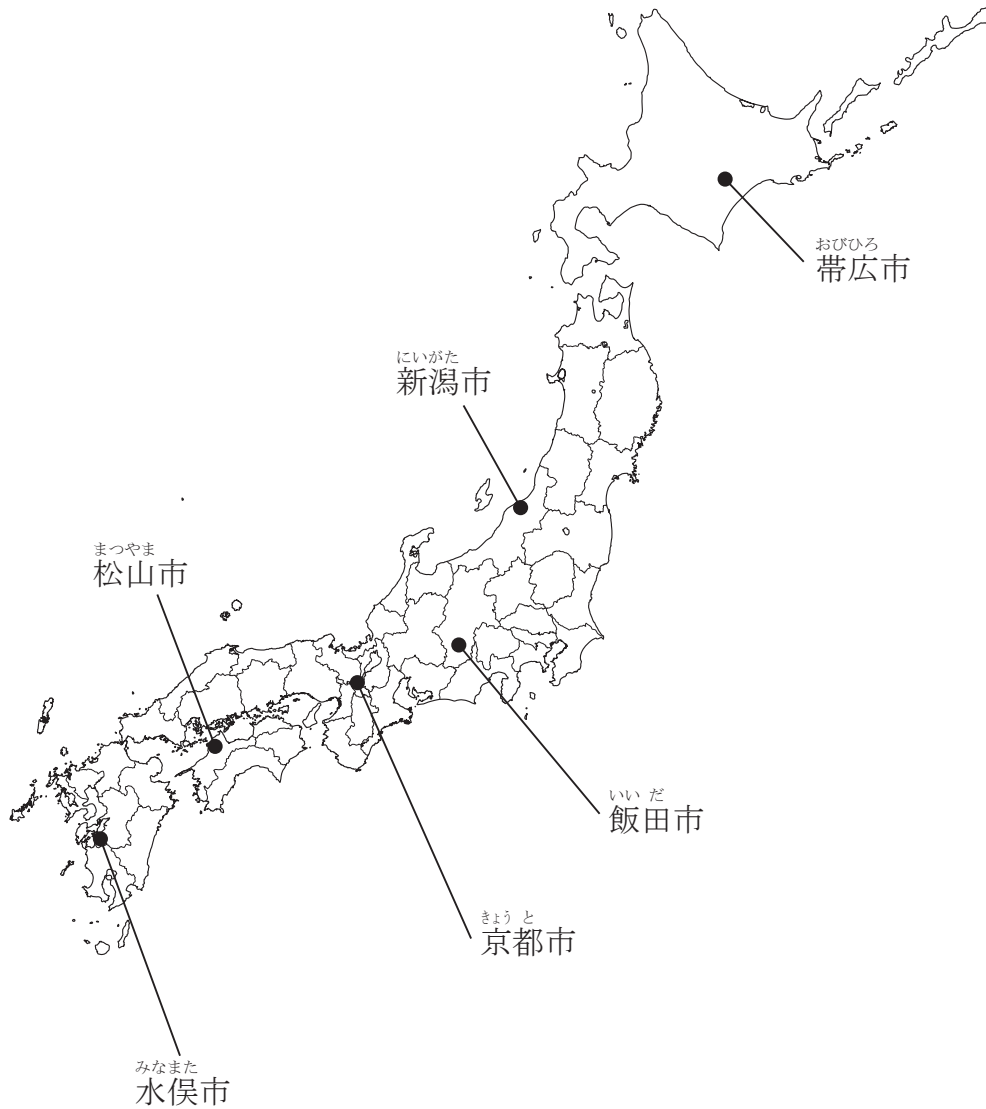


- ① あとつ 將軍の跡継ぎ問題がしゅごだいみょう守護大名の勢力争いと結びつき、おうにんらん応仁の乱が起こった。
- ② いのうただたか 伊能忠敬はぼくふめい幕府の命により全国の海岸線を測量した。
- ③ ほうじょうときむね 北条時宗がしっけん幕府の執権であるときに、2度にわたってげんぐん元軍のしゅうらい襲来があった。
- ④ むらさきしきぶ 紫式部の『げんじものがたり源氏物語』やせいしょうなごん清少納言の『まくらのそうし枕草子』などの作品が生まれた。
- ⑤ なかのおえのおうじ 中大兄皇子やなかとみのかまたり中臣鎌足らにより、たいか大化のかいしん改新が行われた。

(5) Kさんは、奈良の大仏造立は当時の国家事業であったことを知りましたが、(4)のRの時期に、民衆のあいだに仏教を広め、民衆のためにため池などをつくった人物が存在することも知りました。この人物の名前を次のア～エから一つ選びなさい。

ア がんじん 鑑真 イ ぎょうき 行基 ウ せつしゅう 雪舟 エ しんらん 親鸞

- 3 わが国では、^{ていたん そしゃかい}低炭素社会の実現に向け、^{かか}高い目標を掲げて進んだ取組にチャレンジしている都市を環境モデル都市に指定しています。平成 25 年度までに 23 の都市が選定され、下の図はその一部の都市の位置を示しています。図を見て、あとの問いに答えなさい。

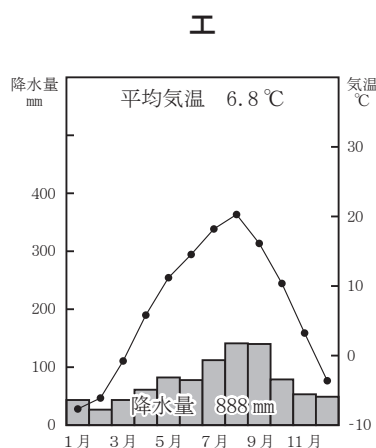
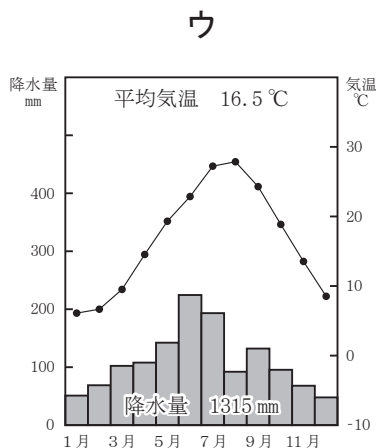
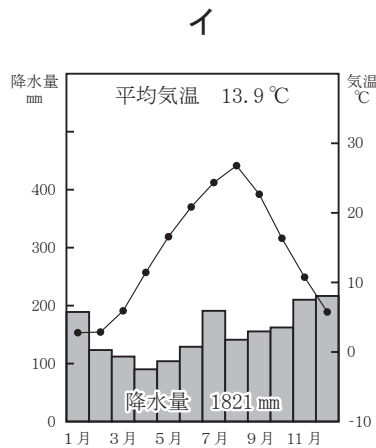
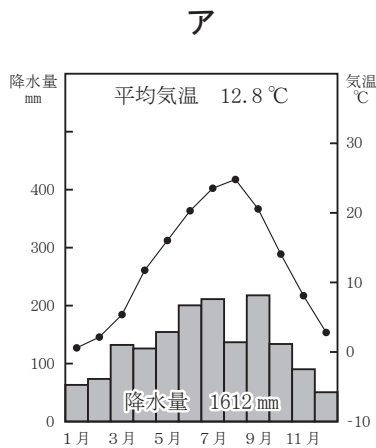


- (1) 図中の九州地方に位置する^{きゅうしゅう}水俣市^{みなまた}では、わが国の四大公害病の一つである^{みなまたびょう}水俣病が発生しました。その経験をふまえて人々はさまざまな環境問題に取り組んでいます。この水俣市のある県の名前を書きなさい。

(2) 水俣市は東経 130 度から東経 131 度の間に位置しています。わが国の標準時子午線が兵庫県明石市を通る東経 135 度であることを考えると、北海道にある帯広市の東経はおよそ何度ですか。最も適しているものを次のア～エから一つ選びなさい。

- ア 東経 133 度から東経 134 度
- イ 東経 135 度から東経 136 度
- ウ 東経 139 度から東経 140 度
- エ 東経 143 度から東経 144 度

(3) 次のア～エのグラフは、それぞれ図中にある帯広市、新潟市、飯田市、松山市のいずれかの気温と降水量を表したものです。飯田市に当たるものをア～エから一つ選びなさい。



各都市の雨温図 気象庁の資料により作成

(4) 京都市は、794年に同じ京都府にあった長岡京から都が移され、平安京と名付けられて以来発展してきた伝統のある都市です。寺院を平城京に残したまま都を平安京に移した天皇の名前を次のア～エから一つ選びなさい。

ア 後醍醐天皇

イ 白河天皇

ウ 桓武天皇

エ 推古天皇

(5) 国際都市でもある京都市は、世界の九つの都市と姉妹都市になっています。下の地図には、そのうちのフィレンツェ、パリ、西安、ボストンの四都市の位置が示されています。あとの問いに答えなさい。



① 京都市（日本）が1月23日午後6時のとき、イタリアのフィレンツェの日時を次のア～エから一つ選びなさい。ただし、イタリアの標準時の基準となる経線は東経15度です。

ア 1月23日 午前4時

イ 1月23日 午前10時

ウ 1月23日 午後5時

エ 1月24日 午前2時

② パリのあるフランスでは、1789年、^{しみんかくめい}市民革命であるフランス革命が起きました。次のア～オのうちフランス革命よりも前に起こったできごとを二つ選びなさい。

- ア アメリカの^{なんぼくせんそう}南北戦争
- イ イギリスの^{めいよかくめい}名誉革命
- ウ マゼランの船隊による世界一周達成
- エ アヘン^{せんそう}戦争
- オ ^{だいいちじせかいたいせん}第一次世界大戦

③ 西安に関する次の文中の（ a ）に入る適切な語を下のア～エから一つ選びなさい。

西安はかつては^{ちやうあん}長安と呼ばれ、^{ずい}隋が滅んだあと7世紀初めに成立した（ a ）の都でした。（ a ）では、国内を治めるために^{りつりやう}律令を制定しました。

- ア ^{そうほくそう}宋（北宋）
- イ ^{みん}明
- ウ ^{しん}秦
- エ ^{とう}唐

④ 西安のある中国では米や小麦の^{さいばい}栽培が^{さか}盛んです。次の表は、中国にあるA市とB市における^{つきべつこうすいりやう}月別降水量と^{ねんかんこうすいりやう}年間降水量をあらわしたもので、A市とB市は、それぞれ、米の栽培の盛んな地域にある都市と小麦の栽培の盛んな地域にある都市のどちらかに当たります。A市・B市のうち米の栽培の盛んな地域にある都市に当てはまるのはどちらか答えなさい。また、その理由として表から読み取ることのできる内容を15字以内で書きなさい。

A市とB市における月別降水量と年間降水量（mm）（※数値の小数第一位を四捨五入）

月	1	2	3	4	5	6	7	8	9	10	11	12	年間降水量
都市													
A市	3	4	10	25	37	72	161	139	49	23	10	2	535
B市	46	55	81	80	94	170	217	141	75	57	53	31	1100

^{きしやうちやう}気象庁の資料により作成

⑤ 次のア～エのうちボストンがある国の特徴について書かれた文章として最も適しているものを一つ選びなさい。

ア この国は世界一のコーヒー生産国であり、また、近年経済成長を急速にとげた国の一つである。

イ この国の国土面積は世界第二位である。オタワが首都^{しゅと}で、英語とフランス語を公用語^{こうようご}としている。

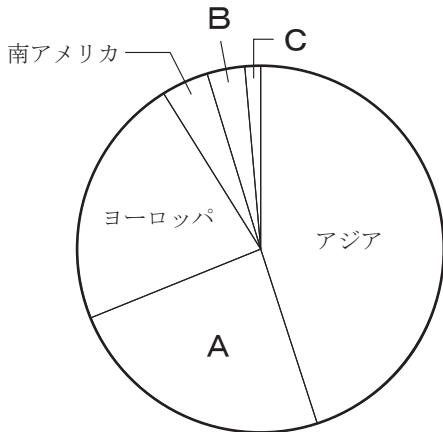
ウ この国では沿岸部と五大湖岸^{ごだいこ}に人口が集中している。とうもろこしや大豆^{だいず}の生産量は世界一である。

エ この国とリベリアを除く大陸のほぼ全域が19世紀の末までに植民地^{しょくみんち}になっていたが、20世紀後半以降次々と独立を果たした。

問題は、次のページに続きます。

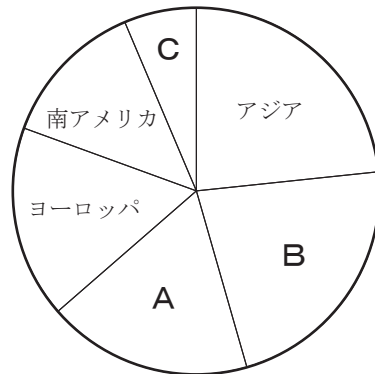
- 4 次の図Ⅰ・Ⅱのグラフは、「世界のエネルギー消費量に占める各地域のエネルギー消費量の割合」と「世界における土地面積の割合」を、アジア・アフリカ・北アメリカ・南アメリカ・ヨーロッパ・オセアニアの六つの地域に分けて示したものです。図Ⅰ・ⅡのA・B・Cはアフリカ・北アメリカ・オセアニアのいずれかに当たります。あとの問いに答えなさい。

図Ⅰ



世界のエネルギー消費量に占める各地域のエネルギー消費量の割合 (2010年)
(世界計 104.3 億トン (石油換算))

図Ⅱ



世界における土地面積の割合 (2012年)
(世界計 1.36 億km²)

『データブック オブ・ザ・ワールド 2015』により作成

- (1) 図Ⅰ・Ⅱ中で、アフリカ・北アメリカ・オセアニアの地域はそれぞれA・B・Cのどれに当たりますか。アフリカ・北アメリカ・オセアニアに当たる記号を選びなさい。

- (2) 次のア～ウは、アジア・ヨーロッパ・南アメリカのそれぞれの特徴について説明したものです。ア～ウのうち誤っているものを一つ選びなさい。

ア アジアにはヒマラヤ山脈がそびえ、モンゴル高原やチベット高原が広がっている。

イ ヨーロッパにはライン川やドナウ川など複数の国を流れる河川がある。

ウ 南アメリカ大陸の大西洋側には、アンデス山脈が南北につらなっている。

- (3) 次の文中の (a) に入る適切な語を書きなさい。

南アメリカにあるブラジルでは、新しいエネルギー源として、さとうきびを原料とする (a) エタノールなどの (a) 燃料の生産がさかんに行われています。

- (4) 次の表は、ヨーロッパ7カ国の発電量をエネルギー源別にそれぞれあらわしたものです。あとの問いに答えなさい。ただし、問いにおける各国の総発電量とは、火力・水力・原子力・X・太陽光の合計とします。

ヨーロッパ7カ国の発電量（億kWh）2011年

国名	火力	水力	原子力	X	太陽光
ドイツ	4,089	235	1,080	489	193
イギリス	2,745	86	690	155	2.5
イタリア	2,285	478	...	99	108
スペイン	1,496	329	577	424	87
フランス	549	499	4,424	122	21
スウェーデン	173	666	605	61	0.1
ノルウェー	48	1,221	...	13	...

(表中の...は該当数なし・資料なし)
『データブック オブ・ザ・ワールド2015』により作成

- ① 表中のXには、太陽光などの新エネルギーのひとつであるヨーロッパの気候の特徴を利用したエネルギー名が入ります。わが国でも46億kWhを発電しているこのエネルギー名を書きなさい。
- ② 次のア～エは、表から読み取れる内容についてまとめたものです。ア～エのうち誤っているものを一つ選びなさい。
- ア 7カ国を総発電量の多い国から順に並べると上位3カ国はドイツ、イギリス、イタリアである。
- イ 火力の発電量は、7カ国の中ではドイツが一番多く、イタリアが三番目に多い。
- ウ 原子力の発電量は、7カ国の中ではフランスが一番多く、スウェーデンの7倍以上になっている。
- エ 太陽光の発電量は、7カ国の中ではドイツが一番多く、スペインの2倍以上になっている。
- ③ 表から読み取れるイギリスとノルウェーの総発電量に対する火力と水力それぞれの発電量の割合の違いを70字以内で書きなさい。

- 5 Lさんは社会科の自由研究で、興味をもった人物のカードをつくり、カードを江戸時代から明治・大正時代にかけての簡単な年表に貼りつけることにしました。あとの問いに答えなさい。

江戸時代	せいねん ぼつねん [生年～没年] を表す
	<p>A おがたこうりん [1658～1716] 江戸時代中期の化政文化を代表する画家 はなやかな装飾画を描いた</p>
	<p>B もとおりのりなが [1730～1801] 江戸時代の思想家、(a) 学を大成 日本古来の考えを研究し、『古事記伝』を著す</p>
	<p>C ペリー [1794～1858] アメリカ使節、1853年浦賀に来航、幕府に開国を迫った 1854年に再び来航、日米和親条約を幕府と結ぶ</p>
	<p>D (b) [1834～1901] 幕末から明治にかけての思想家、欧米の思想を紹介 『学問のすゝ(す)め』を著し多くの人に読まれた</p>
	<p>E よさのあきこ [1878～1942] 明治から昭和にかけて活躍した歌人 戦争に出兵した弟を思った詩が有名である</p>
明治・大正時代	<p>F (c) [1878～1933] 大正から昭和にかけての政治学者 民衆の考えを政治に反映させる民本主義を主張した</p>

(1) カードを貼っていく過程で、LさんはA～Cのカードの中に一枚だけ下線部の語に間違いがあることを見つけました。間違いのあるカードをA～Cから一つ選びなさい。また、その間違っている語を正しい語に直して書きなさい。

(2) Bのカードの（ a ）に入る適切な語を書きなさい。

(3) Cのカードに関する次の問いに答えなさい。

① ペリーの艦隊は1852年にアメリカを出港し大西洋を渡り、アフリカ大陸のケープタウン、インド洋を経て日本に來航しました。その頃のインドを支配していた帝国は大反乱により1858年に滅び、この反乱を鎮圧した国が以後インドを植民地にしていきました。この反乱を鎮圧した国の名前を書きなさい。

② 現在のインドは、人口世界第2位の国です。インドの人口に占める割合の最も高い宗教を次のア～エから一つ選びなさい。

ア キリスト教 イ ヒンドゥー教 ウ イスラム教 エ 仏教

(4) Dのカードの（ b ）に入る人物の名前を次のア～エから一つ選びなさい。

ア 中江兆民 イ 岡倉天心 ウ 福沢諭吉 エ 板垣退助

(5) Eのカードの「戦争に出兵した弟を思った詩」における戦争は何という戦争ですか。次のア～エから一つ選びなさい。

ア 西南戦争 イ 日露戦争 ウ 日清戦争 エ 戊辰戦争

(6) Fのカードの（ c ）に入る人物の名前を書きなさい。