

平成 28 年度中学生チャレンジテスト

第 2 学年 社会 A

注 意

- 1 調査問題は、1 ページから 16 ページまであります。先生の合図があるまで、調査問題を開かないでください。
- 2 解答はすべて解答用紙⑤（社会 A）に記入してください。
- 3 解答は、HB または B の黒鉛筆（シャープペンシルも可）を使い、濃く、はっきりと書いてください。また、消すときは消しゴムできれいに消してください。
- 4 解答を**選択肢**から選ぶ問題は、解答用紙の**マーク欄**を黒く塗りつぶしてください。
- 5 解答を記述する問題は、指示された**解答欄**に記入してください。また、**解答欄**からはみ出さないように書いてください。
- 6 解答用紙は、オモテ、ウラがあります。
- 7 解答用紙の〔生徒記入欄〕に、組、出席番号、男女を記入し、**マーク欄**を黒く塗りつぶしてください。
- 8 調査時間は 45 分です。

下に、生徒アンケートが 2 問あります。先生の指示に従って、調査開始前に取り組んでください。アンケートの回答は解答用紙のアンケート欄の**マーク欄**を黒く塗りつぶしてください。

アンケート

次のアンケートを読んで、当てはまるものを一つずつ選びなさい。

当てはまる	どちらかといえば、当てはまる	どちらかといえば、当てはまらない	当てはまらない
-------	----------------	------------------	---------

(1) 社会の授業の内容はよく分かる。…………… ① — ② — ③ — ④

(2) 社会の授業で目的に応じて資料 …………… ① — ② — ③ — ④
を読み、自分の考えを話したり、
書いたりしている。

問題は、次のページから始まります。

1 人口に関するあとの問いに答えなさい。

- (1) 次の表は、2014年の日本の^{ねんれい}年齢別人口構成を表しています。この表を人口ピラミッド（5歳階級別人口構成図）^{さい}で表したものを、あとのア～エから一つ選びなさい。

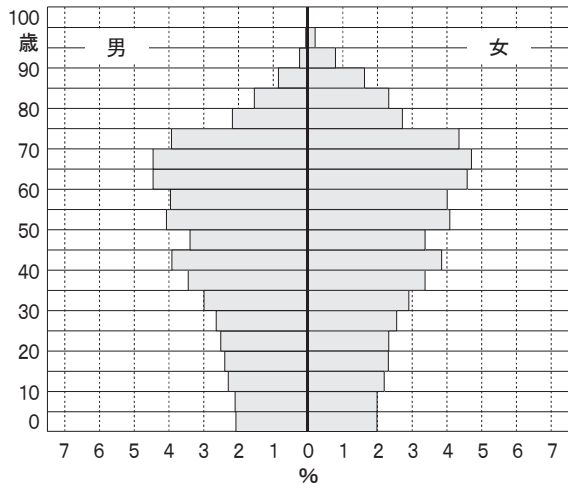
表

日本の年齢別人口構成（2014年10月現在）

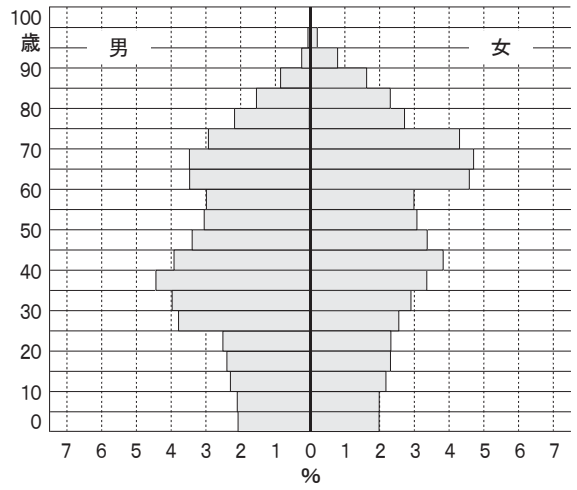
割合（％） 年齢（歳）	男	女
0～4	2.10	2.00
5～9	2.14	2.04
10～14	2.30	2.19
15～19	2.42	2.31
20～24	2.51	2.37
25～29	2.69	2.57
30～34	2.98	2.89
35～39	3.46	3.37
40～44	3.90	3.81
45～49	3.41	3.37
50～54	3.07	3.06
55～59	2.99	3.03
60～64	3.47	3.60
65～69	3.47	3.73
70～74	2.90	3.34
75～79	2.18	2.75
80～84	1.53	2.30
85～89	0.81	1.60
90～94	0.25	0.78
95～99	0.05	0.23
100～	0.01	0.04
総計	48.63	51.37

『日本国勢図会 2015/16』により作成

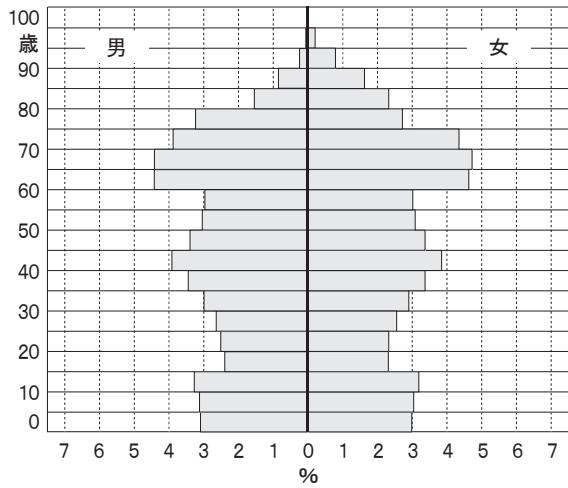
ア



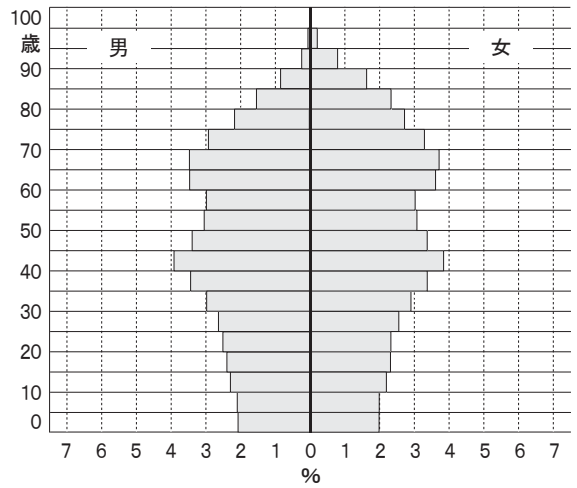
イ



ウ

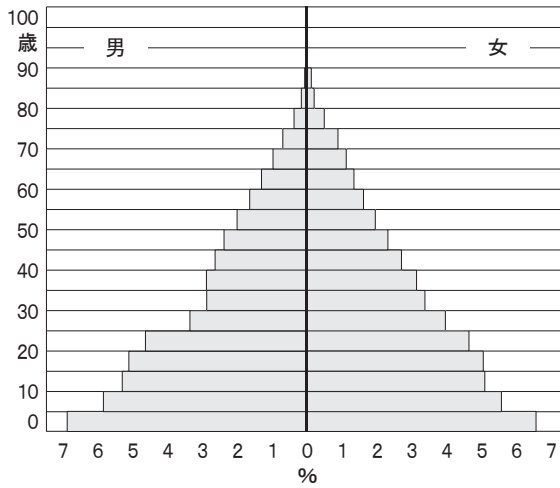


エ

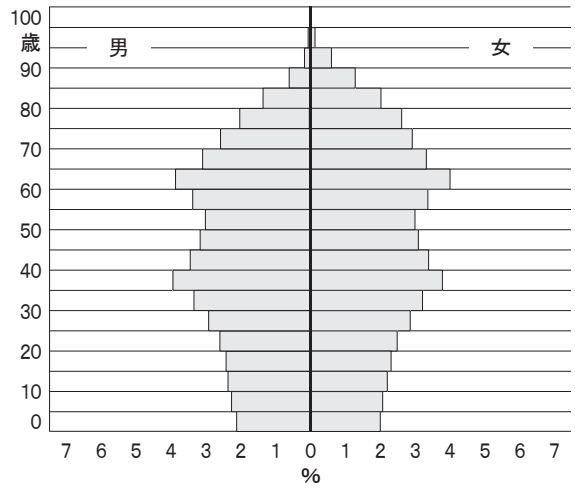


(2) 次のア～エの人口ピラミッド（5歳階級別人口構成図）は、日本の1950年、1970年、1990年、2010年の状態のいずれかを表しています。1970年の日本の状態を表しているものを、次のア～エから一つ選びなさい。

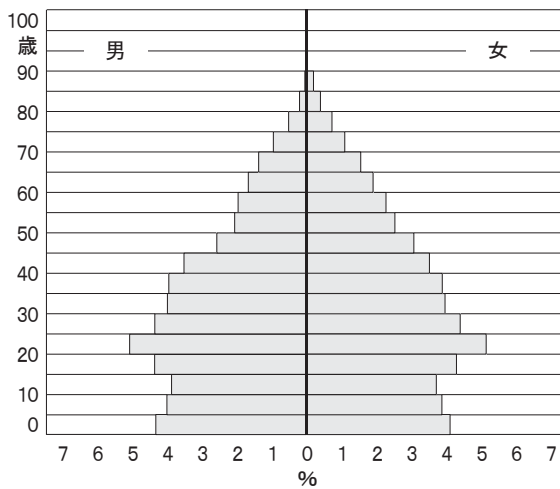
ア



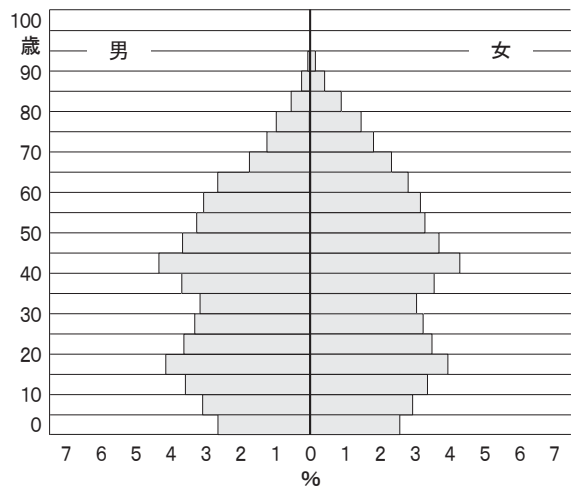
イ



ウ



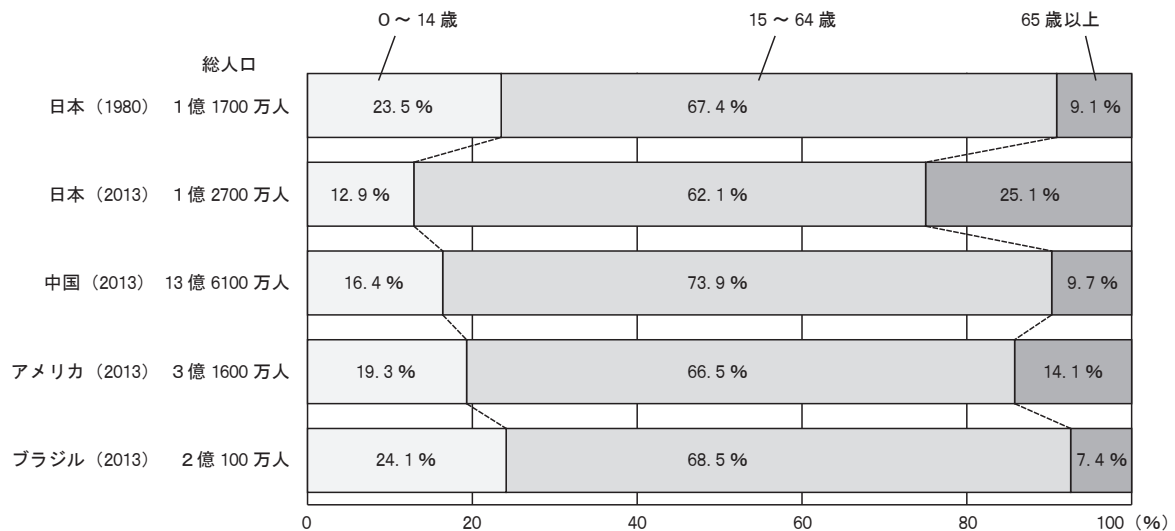
エ



総務省の資料により作成

- (3) 次のグラフは、1980年の日本、2013年の日本、中国、アメリカ、ブラジル、それぞれの総人口と年齢構成の比較を示したものです。グラフから読み取れる内容として誤っているものを、下のア～エから一つ選びなさい。

総人口と年齢構成の比較



*四捨五入の関係で内訳の合計が100%にならない場合がある。

『日本国勢図会 2014/15・2015/16』により作成

- ア 2013年の日本は、中国、アメリカ、ブラジルと比べると、65歳以上の人口割合が最も高く、また、0～14歳と15～64歳の人口割合が最も低い。
- イ 2013年において、15～64歳の人口が最も多いのは中国で、次に多いのがブラジル、そして、アメリカ、日本の順になっている。
- ウ 2013年のブラジルの年齢構成と最も類似しているのは、1980年の日本の年齢構成である。
- エ 2013年の日本は1980年の日本より、0～14歳の人口割合でほぼ半減し、65歳以上の割合は三倍近くになっている。

2 授業で、「四国地方における私が選んだ県の特徴」について、自分たちで調べたことや資料などを参考にして発表しました。次の四国地方の地図と表1、図1とAさん、Bさん、Cさん、Dさんのそれぞれの発表と先生のことばを読み、あとの問いに答えなさい。ただし、表1の中のW、X、Y、Zは、四国地方四県のいずれかの県を表しています。

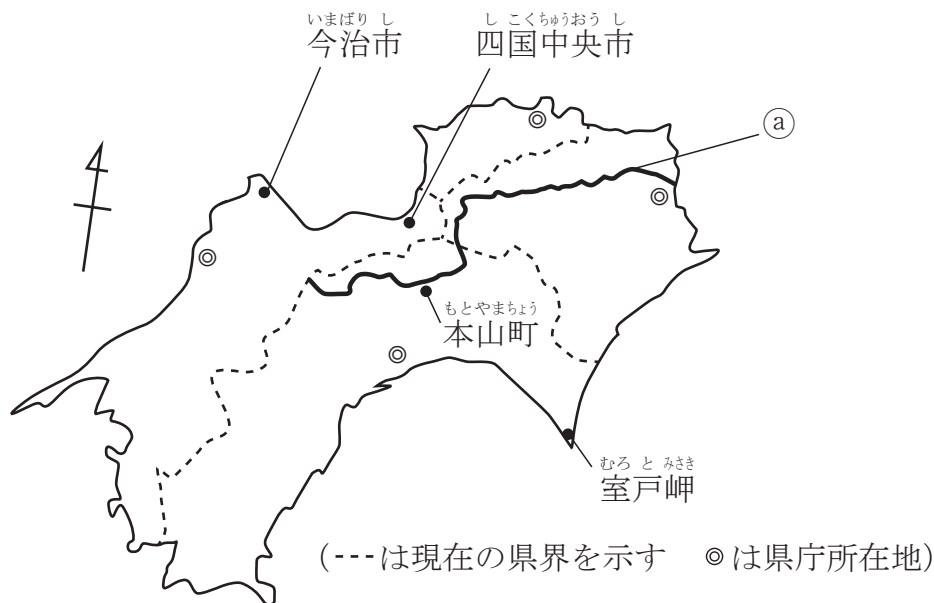


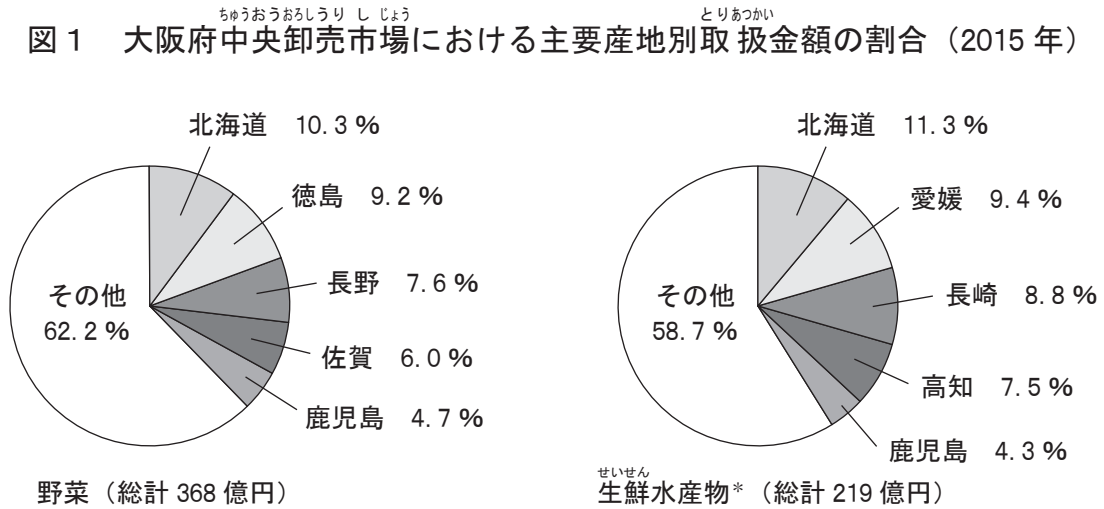
表1

四国地方四県と大阪府の状況

項 目		W	X	Y	Z	大阪府
面積 (km ²)	(2014年)	4,147	1,877	5,676	7,104	1,905
人口 (人)	(2014年)	763,864	981,082	1,395,483	737,737	8,835,525
県内総生産 (億円)	(2012年)	28,389	37,635	47,161	21,604	368,430
農業産出額 (億円)	(2013年)	984	760	1,291	938	331
漁業生産額 (億円)	(2013年)	141	181	849	490	31
産業別 有業者割合 (%) (2012年)	第1次産業	9.7	6.0	7.6	12.0	0.4
	第2次産業	24.5	25.5	24.0	18.5	25.2
	第3次産業	65.8	68.6	68.4	69.5	74.4
昼夜間人口比率 (%) [昼間の人口 ÷ 夜間の人口 × 100] (2010年)		99.7	100.2	100.1	99.9	104.7

* 四捨五入の関係で内訳の合計が100%にならない場合がある。
『データでみる県勢 2016』より作成

図1 大阪府中央卸売市場における主要産地別取扱金額の割合（2015年）



*生鮮水産物とは、加工・冷凍されていない水産物
「大阪府中央卸売市場年報 平成 27 年」より作成

Aさん 「私が選んだ県は、東西に長い扇形をしていて、北には（あ）山地が連なり、南には太平洋が広がります。人口・県内総生産は他の三県と比べると少ないけれど漁業生産額は少なくなく、大阪府中央卸売市場で取り扱われる生鮮水産物の金額も多いです。江戸時代には、紀伊（和歌山県）と並んで（Ⅰ）や（Ⅱ）が盛んになりました。また、なすの収穫量は全国一です。」

Bさん 「私が選んだ県は、海岸線が長くてその延長は約 1,700 km で全国五位になっています。漁業も盛んで、他の三県よりも生産額は高くなっていて、大阪府中央卸売市場で取り扱われる生鮮水産物の金額も多いです。人口は百万人を超えて四国地方で一番です。また、タオルは全国一の出荷額です。」

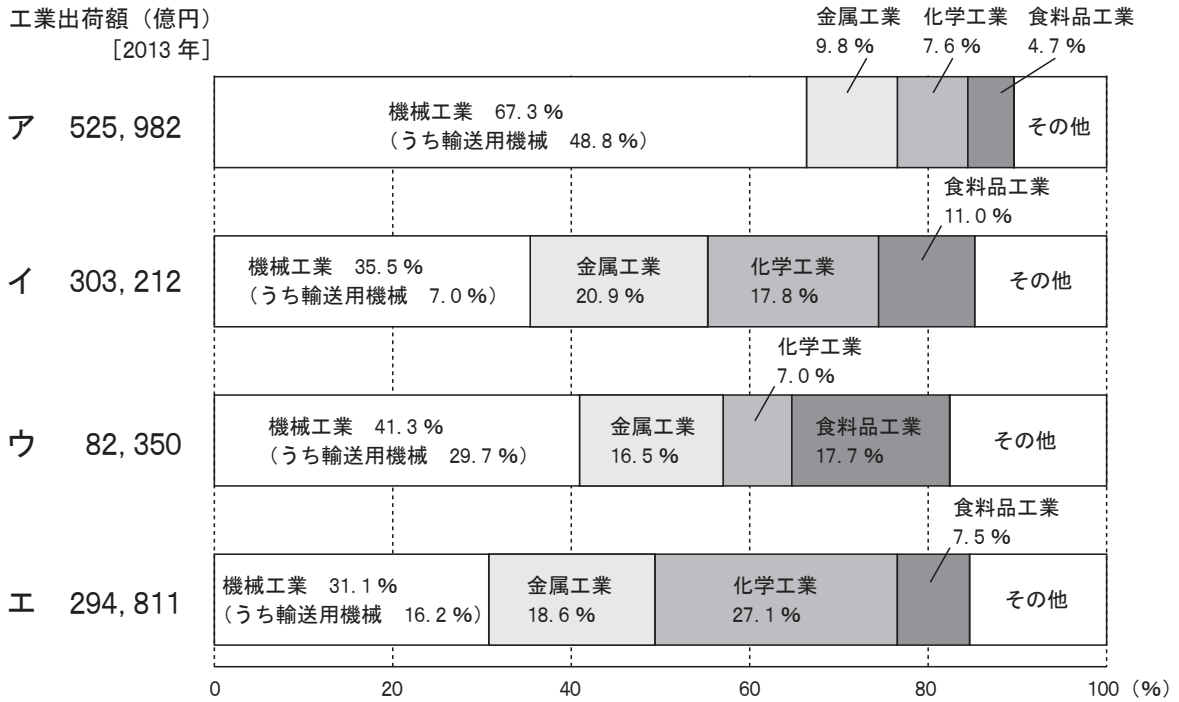
Cさん 「私が選んだ県は、四国地方四県の中では一番面積が小さいです。県内総生産は四国地方四県の中では、二番目に高いです。最近では「うどん県」としても有名です。県庁所在地は（い）市です。」

Dさん 「私が選んだ県は、四国地方四県の中では、農業産出額は二番目に高く、大阪府中央卸売市場で取り扱われる野菜の金額が多いです。県庁所在地の北を流れる地図中の①で示している（う）川は、四国でも有数の美しい川です。」

先生 「それぞれがその県の特徴をうまくとらえていましたね。さらにさまざまな角度から四国地方四県について調べていきましょう。」

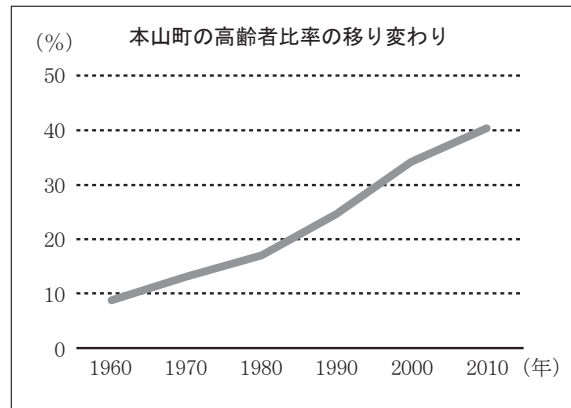
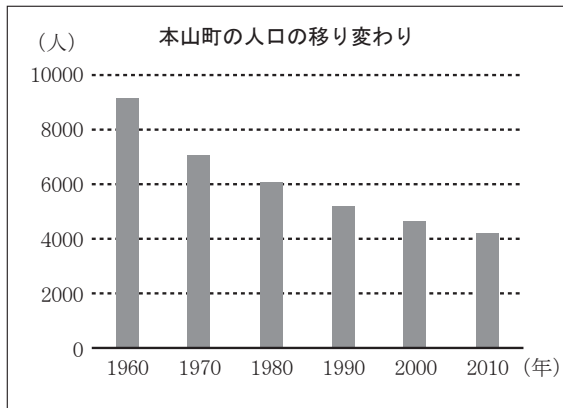
- (1) Bさんが発表した県の名前を書きなさい。
- (2) （あ）・（い）・（う）に入る適切な語を書きなさい。

③ 瀬戸内海をはさんで、四国地方の北部と中国地方の南部の都市を中心に瀬戸内工業地域が発展しています。次のア～エのグラフは、瀬戸内工業地域・阪神工業地帯・中京工業地帯・北九州工業地帯（地域）のいずれかの工業出荷額とその内訳を表しています。瀬戸内工業地域に当たるものを、次のア～エから一つ選びなさい。



『日本国勢図会 2015/16』により作成

- ④ 地図中にある本山町^{もとやまちょう}では、近年地域住民や関係機関が協力して、地域の特産品づくりやその販売^{はんばい}、宿泊施設^{しゅくはくしせつ}を活用した体験交流イベントなど様々な活動に積極的に取り組んでいます。次の資料を参考にして、本山町の実情と取り組みの目的について、40字程度で書きなさい。



高齢者比率 = 65歳以上の人口 / 総人口 × 100 (%)

○本山町の自立促進計画^{そくしん}の基本方針より

将来にわたって活力ある地域^{いじ}を維持していく総合戦略として策定した「本山町ひと・しごと・まち創生総合戦略」(本山町の長期的な振興計画)を推進する……

本山町 WEB ページにより作成

問題は、次のページに続きます。

3 次の与謝蕪村よ さ ぶ ぞんについての文章を読んで、あとの問いに答えなさい。

平成 27 (2015) 年の 3 月に江戸時代中期の俳人・画家である与謝蕪村の直筆の手紙が見つかったことが発表されました。

蕪村は、手紙の中で、妻の妹が河内から訪ねてきたことや、娘が手習い(習字)を始めたことなどを書いています。

蕪村はさまざまな俳句を残していますが、その中の「河内女の宿に居ぬ日やきじの声」という句は、今までは、河内女を河内木綿を織っている女性と考へて、その機織りがいないのでその音が聞こえず、静かな中に甲高いきじの音がするという解釈がされていましたが、手紙の内容から河内女を妻(河内出身)と考へると、妻がいないのできじの音がさびしく聞こえるという解釈も成り立つことがわかりました。

手紙の主である蕪村が生まれた 1716 年、江戸では徳川吉宗が八代将軍になりました。吉宗は幕府財政の立て直しに取り組み、後世、享保の改革と呼ばれる取り組みをおこないました。

蕪村はやがて江戸に行き、晩年は京都に定住しました。蕪村のよく知られた句である「菜の花や月は東に日は西に」は、59 歳のときに詠まれたものです。

蕪村が亡くなった 1783 年は、浅間山が噴火し大きな被害が出ました。おりからの冷害と重なり、天明のききん(1782～1787)の拡大につながり、各地で百姓一揆などが急増しました。

蕪村は江戸時代の中でも、大きな節目の時期を俳句とともに生きたと言えましょう。

- (1) 与謝蕪村が生まれた年は、何世紀に当たりますか。数字を書きなさい。
- (2) 江戸時代の文化は、大阪・京都を文化の中心にした元禄文化と江戸を文化の中心とした化政文化に特徴づけられます。次の問いに答えなさい。

① 俳人である与謝蕪村は化政文化の時代の人物ですが、元禄文化の時代に俳諧を芸術に高めた人物の名前を、次のア～エから一つ選びなさい。

ア 小林一茶 イ 松尾芭蕉 ウ 十返舎一九 エ 滝沢馬琴

② 次のア～オのうち化政文化の時代の人物の名前を二つ選びなさい。

ア 葛飾北斎 イ 菱川師宣 ウ 俵屋宗達
エ 歌川(安藤)広重 オ 尾形光琳

③ ②の**ア～オ**の人物の中の三人に共通するものとして、江戸時代に主として町人の風俗などをえがいた民衆的な絵画があげられます。この絵画は何と呼ばれていますか。書きなさい。

(3) 蕪村の娘について、下線部㉔とありますが、江戸時代、農民や町人の子どもたちが読み・書き・そろばんなどを習った庶民の教育機関は何と呼ばれていますか。漢字で書きなさい。

(4) 下線部㉕に関して、次の①・②の文中の（ a ）、（ b ）に入る適切な語を書きなさい。

① 木綿（綿花）や菜種、べに花、藍など農民が貨幣を得るためにつくる作物は（ a ）作物と呼ばれています。

② 商人が農民などに原料や道具を前貸しして、布などの製品として加工させ賃金を支払う、江戸時代におこった生産方法は（ b ）工業と呼ばれています。

(5) 次の**ア～エ**のうち、下線部㉖の取り組みに**当たらないもの**を一つ選びなさい。

ア 質素^{けんやく}儉約につとめ、新田開発を行った。

イ 裁判の基準となる公事方御定書^{くじがたおさだめがき}を制定した。

ウ 庶民の意見を参考にするため、江戸に目安箱^{めやすばこ}が置かれた。

エ 旗本・御家人の借金を帳消しにしてその生活苦を救った。

(6) 下線部㉗のような情勢の中で、商工業者の力で幕府財政の建て直しを図ったり、長崎貿易^{ながさきばうえき}を推進した（ A ）に代わり、（ B ）が幕府の中心となり、寛政の改革をすすめました。

（ A ）と（ B ）に入る人物の名前の組み合わせとして正しいものを、次の**ア～オ**から一つ選びなさい。

ア A－松平 定信 B－田沼 意次

イ A－徳川 綱吉 B－田沼 意次

ウ A－田沼 意次 B－松平 定信

エ A－田沼 意次 B－徳川 綱吉

オ A－徳川 綱吉 B－松平 定信

4 次の表は、北海道地方，東北地方，関東地方 14 都道県のそれぞれの農業産出額における米の占める割合と野菜の占める割合を示したものです。この表に従って，図1は米の占める割合について，[三つの区分] を設けその区分に従って地図に示したものであり，図2は野菜の占める割合について [三つの区分] のうち二つの区分について示したものです。ただし，14 都道県以外の府県については，[三つの区分] を示していません。あとの問いに答えなさい。

表

農業産出額における米の占める割合と野菜の占める割合 2013 年

都道県名	農業産出額（億円）	米の占める割合	野菜の占める割合
北海道	10,705	12.2%	18.6%
青森	2,835	17.9%	22.0%
岩手	2,433	24.7%	10.6%
宮城	1,767	44.8%	13.1%
秋田	1,716	59.0%	14.0%
山形	2,293	37.8%	16.8%
福島	2,049	36.8%	22.9%
茨城	4,356	20.1%	40.6%
栃木	2,690	25.5%	30.1%
群馬	2,303	7.0%	40.6%
埼玉	2,012	20.0%	50.9%
千葉	4,141	17.1%	40.7%
東京	293	0.3%	58.7%
神奈川	804	5.0%	55.2%

『データでみる県勢 2016』により作成

図1 米の占める割合

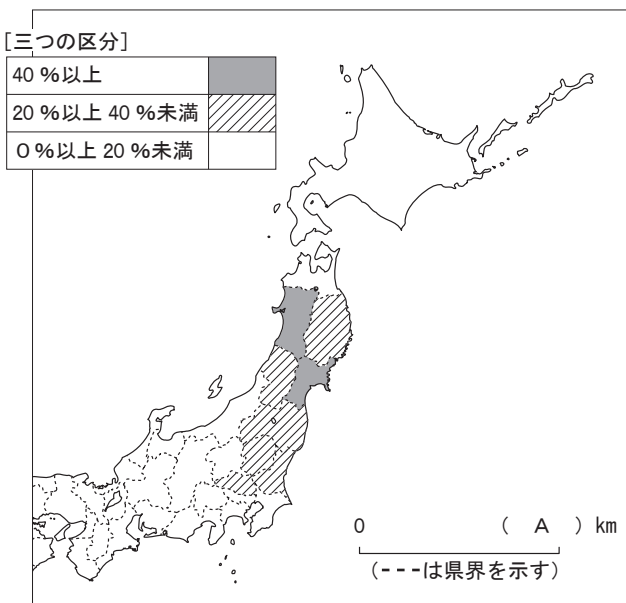
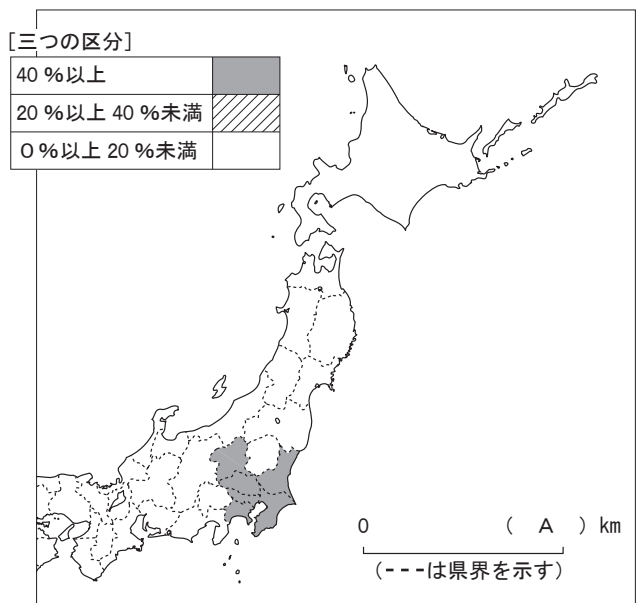


図2 野菜の占める割合



(1) 図1, 図2の右下に地図の縮尺を示しています。(A)に入る適切な語を, 次のア~エから一つ選びなさい。

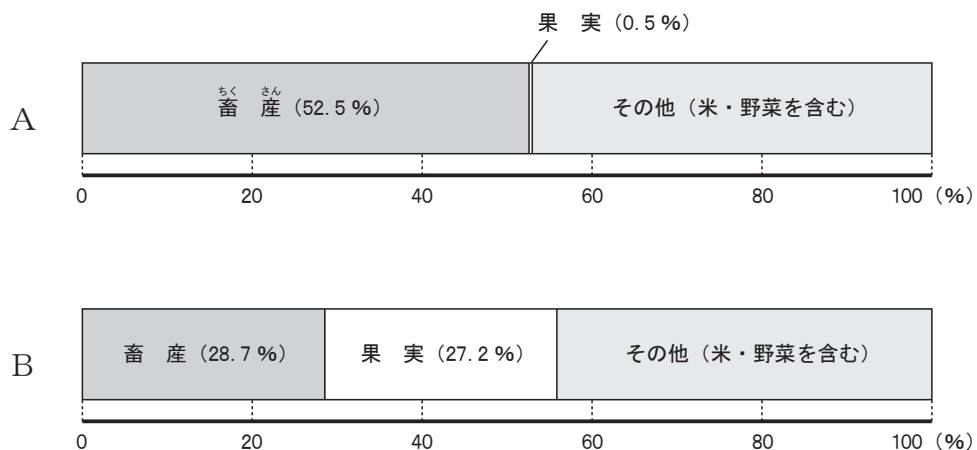
ア 100 イ 500 ウ 1,000 エ 2,000

(2) 図2について, [三つの区分]の表記の方法に従い, 北海道地方, 東北地方, 関東地方14都道県での農業産出額における野菜の占める割合が20%以上40%未満に当たる全ての都道県を解答欄の白地図中に書き入れなさい。

(3) 表と図1, 図2から読み取れる内容についてまとめた文として正しいものを, 次のア~エから一つ選びなさい。

- ア 東北地方の県は, 農業産出額における米の占める割合がいずれも40%以上である。
- イ 農業産出額における野菜の占める割合が40%以上の都道県には, 関東地方の全ての都道県が含まれ, 東北地方の県はない。
- ウ 関東地方の都道県のうち, 農業産出額における米の占める割合と野菜の占める割合が両方とも20%以上の都道県は3県ある。
- エ 14都道県のうち農業産出額が二番目に多いのは千葉県であり, 最も少ないのは東京都である。

(4) 次のA・Bのグラフは14都道県のうち, 二つの都道県の2013年の農業産出額における品目の割合を示したものです。表を参考にして, 二つの都道県の組み合わせとして正しいものを, 下のア~カから一つ選びなさい。

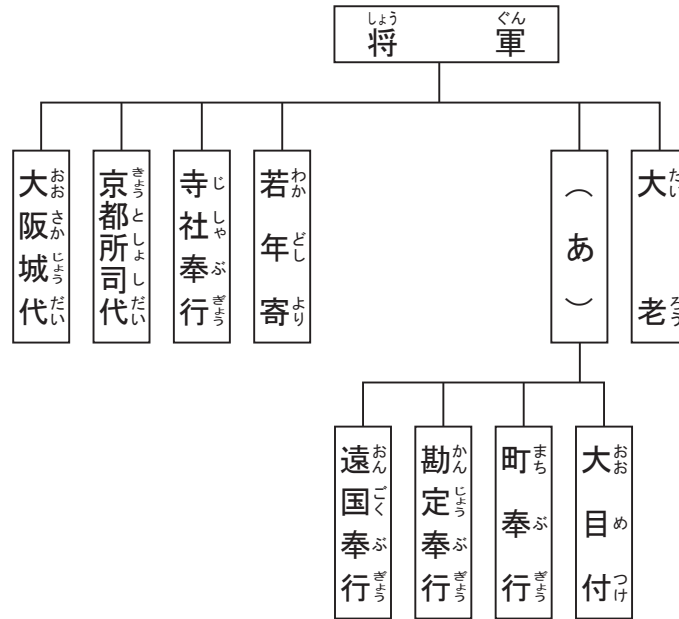


『データでみる県勢 2016』より作成

- | | | | | | |
|---|-------|-------|---|-------|-------|
| ア | A 北海道 | B 秋田県 | イ | A 北海道 | B 青森県 |
| ウ | A 宮城県 | B 青森県 | エ | A 秋田県 | B 山形県 |
| オ | A 山形県 | B 宮城県 | カ | A 青森県 | B 北海道 |

5 次の江戸時代に関する図、年表、史料1、史料2を見て、あとの問いに答えなさい。

図 江戸幕府のしくみ



年表

1612年	幕府領（幕領）にキリスト教禁止令を出す。
1616年	ヨーロッパ船の来航地を平戸と長崎に制限する。
1624年	（ a ） 船の来航を禁止する。
1635年	日本人の海外渡航・帰国を禁止する。…史料1
1637年	（ い ）
1639年	（ b ） 船の来航を禁止する。（（ b ） 人を追放する）…史料2
1641年	平戸の（ c ） 商館・人を長崎の出島に移す。

史料1 「（ a ） より長崎奉行へ通達した文書の一部」

- ・異国へ日本の船を派遣することは厳重に禁止する。
- ・日本人を異国へ派遣してはならない。

史料2 「大老と（ a ） より出され、長崎に立てられた札の文書の一部」

- ・日本国が禁止しているキリスト教について、その趣旨を知らずながらキリスト教をひろめる者が今でもひそかに日本へやってくる。
 - ・キリシタンの信徒たちが徒党を組んで良からぬ事を計画すればただちに処罰する。
 - ・バテレンと信徒の者が隠れている所へ、（ b ） から仕送りの物を与えている。
- このような理由により、今後、（ b ） 船の来航はこれを禁止する。

(1) 図と史料1, 史料2の(あ)には同じ語が入ります。(あ)に入る適切な語を書きなさい。

(2) 次の①・②の文は, 図の中のどの役職を説明したものですか。下のア～オからそれぞれ一つずつ選びなさい。

① ちやうてい かんし 朝廷の監視などを担当する。

② 江戸の町政を担当する。

ア 大老 イ 大目付 ウ 町奉行
エ 勘定奉行 オ 京都所司代

(3) 年表と史料2の(a)～(c)に当たる国の名前の組み合わせとして正しいものを, 次のア～カから一つ選びなさい。ただし, 年表と史料2の(b)には同じ国の名前が入ります。

ア	a－スペイン	b－オランダ	c－ポルトガル
イ	a－スペイン	b－ポルトガル	c－オランダ
ウ	a－オランダ	b－スペイン	c－ポルトガル
エ	a－オランダ	b－ポルトガル	c－スペイン
オ	a－ポルトガル	b－オランダ	c－スペイン
カ	a－ポルトガル	b－スペイン	c－オランダ

(4) 年表中の1637年の(い)のできごとが影響して, 史料2の下線部㊸が書かれました。次のア～エのうち, (い)に当たるものを一つ選びなさい。

ア シャクシャインの戦い
イ ちやうせんつうしん し 朝鮮通信使の日本への派遣 は けん
ウ しまばら あまくさいつ き 島原・天草一揆
エ てんしやうけんおうしやうねん し せつ 天正遣欧少年使節の派遣