






1. 次の問いに答えなさい。

1	48は6の何倍ですか。	
2	63は9の何倍ですか。	
3	3の7倍はいくつですか。	
4	4の8倍はいくつですか。	
5	ある数の5倍は45です。ある数はいくつですか。	
6	ある数の7倍は28です。ある数はいくつですか。	
7	12時40分から50分前は何時何分ですか。	
8	20時50分から35分後は何時何分ですか。	
9	6時間25分は何分ですか。	
10	315分は何時間何分ですか。	
11	 <p>左の時計は何時何分を示していますか。 (午前・午後は問いません。)</p>	
12	 <p>左の時計が示す時刻から20分前は 何時何分ですか。 (午前・午後は問いません。)</p>	
13	 <p>左の時計が示す時刻から25分後は 何時何分ですか。 (午前・午後は問いません。)</p>	
14	 <p>左の時計が示す時刻に作業を始めて、1時間15分で作業が終わりました。作業が終わった時刻は何時何分ですか。 (午前・午後は問いません。)</p>	
15	 <p>作業を始めて40分経った時、左の時計が示す時刻でした。作業を始めた時刻は何時何分ですか。 (午前・午後は問いません。)</p>	

2. 次の計算をしなさい。

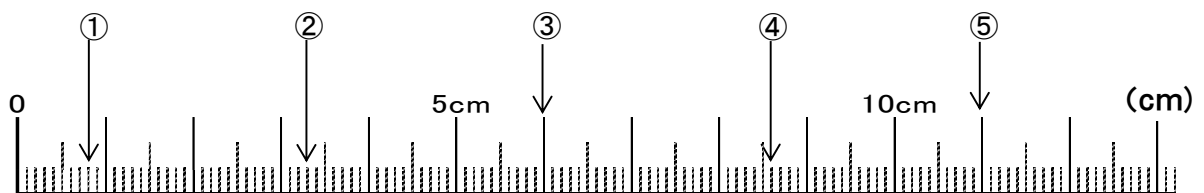
1	$347+52-175 =$	
2	$116 \times 17 =$	
3	$576 \div 8 =$	
4	$234 \div 18 \times 5 =$	
5	$28 \times 0 + 37 =$	

6	$18.1-6.3 =$	
7	$\frac{3}{15} + \frac{8}{15} =$	
8	$\frac{5}{6} - \frac{2}{7} =$	
9	$\frac{5}{13} \times \frac{3}{4} =$	
10	$\frac{1}{8} \div \frac{1}{3} =$	

※記入(きにゆう)しないでください

3. 次の問いに答えなさい。

1	下のものさしの①が示している長さは何センチメートルですか。	センチメートル cm
2	下のものさしの②が示す長さのリボンに、5センチメートルのリボンをつなげると何ミリメートルになりますか。	ミリメートル mm
3	下のものさしの③が示す長さのリボンから、1.7センチメートルを切り取った場合、残ったリボンの長さは何センチメートルになりますか。	センチメートル cm
4	下のものさしの④が示している長さは何ミリメートルですか。	ミリメートル mm
5	下のものさしの⑤が示している長さは何メートルですか。	メートル m



※記入(きにゆう)しないでください

※記入(きにゆう)しないでください

#### 4. 次の問いに答えなさい。

※問題中の金額はすべて税込みとします。

1 1メートル340<sup>えん</sup>円のリボンを1.9メートル<sup>ぶん か</sup>分買ったときの代金<sup>だい きん</sup>はいくらですか。

こたえ  
答 えん  
円

2 時<sup>じ</sup>速<sup>そく</sup>65キロメートルで進<sup>すす</sup>む車<sup>くるま</sup>が3時間<sup>じかん</sup>で進<sup>すす</sup>む距<sup>きょ</sup>離<sup>り</sup>は何<sup>なん</sup>キロメートルですか。

こたえ  
答 きろめーとる  
km

3 1個<sup>こ</sup>80<sup>えん</sup>円のりんごを3個<sup>こ</sup>と、1個<sup>こ</sup>40<sup>えん</sup>円のみかんを7個<sup>こ</sup>買<sup>か</sup>い、1000<sup>えん</sup>円を支<sup>しはら</sup>払<sup>ら</sup>いました。おつりはいくらですか。

こたえ  
答 えん  
円

4 1キログラムで2500<sup>えん</sup>円<sup>ぎゅうにく</sup>の牛肉<sup>か</sup>を600グラム買<sup>か</sup>ったときの代金<sup>だい きん</sup>はいくらですか。

こたえ  
答 えん  
円

5 ある会社<sup>かいしゃ</sup>の社員<sup>しゃいん</sup>は全体<sup>ぜんたい</sup>で430人<sup>にん</sup>います。そのうち、30パーセントがメガネをかけています。メガネをかけている人<sup>ひと</sup>は何<sup>なん</sup>人<sup>にん</sup>ですか。

こたえ  
答 にん  
人

※記入(きにゆう)しないでください