

支援学校高等部 地理歴史（日本史）

解答についての注意点

- 1 問題は、特別支援教育に関する大問 **1**、教科等に関する大問 **2**～大問 **5** の各問題から構成されています。
- 2 解答用紙は、マーク式解答用紙と記述式解答用紙の2種類があります。
- 3 大問 **1**～大問 **4** については、マーク式解答用紙に、大問 **5** については、記述式解答用紙に記入してください。
- 4 解答用紙が配付されたら、まずマーク式解答用紙に受験番号等を記入し、受験番号に対応する数字を、鉛筆で黒くぬりつぶしてください。
記述式解答用紙は、全ての用紙の上部に受験番号のみを記入してください。
- 5 大問 **1**～大問 **4** の解答は、選択肢のうちから、問題で指示された解答番号の欄にある数字のうち一つを黒くぬりつぶしてください。
例えば、「解答番号は 」と表示のある問題に対して、「3」と解答する場合は、解答番号 の欄に並んでいる ① ② ③ ④ ⑤ の中の ③ を黒くぬりつぶしてください。
- 6 間違ってぬりつぶしたときは、消しゴムできれいに消してください。二つ以上ぬりつぶされている場合は、その解答は無効となります。
- 7 その他、係員が注意したことをよく守ってください。

指示があるまで中をあけてはいけません。

大阪府では、「障害」という言葉が、前後の文脈から人や人の状態を表す場合は、「害」の漢字をひらがな表記とし、「障がい」としています。問題中では、機関・団体の名称等の固有名詞や、法令や文献等からの引用部分については、もとの「障害」の表記にしています。

1 特別支援教育に関する法令や近年の動向について、次の(1)～(8)の問いに答えよ。

(1) 次の文は、「障害を理由とする差別の解消の推進に関する法律」(平成28年4月施行)第一条である。空欄ア～エに当てはまる正しい語句の組合せはどれか。1～5から一つ選べ。

解答番号は

(目的)

第一条 この法律は、 (昭和四十五年法律第八十四号)の基本的な理念にのっとり、全ての障害者が、障害者でない者と等しく、を享有する個人としてその尊厳が重んぜられ、その尊厳にふさわしい生活を保障される権利を有することを踏まえ、障害を理由とする差別の解消の推進に関する基本的な事項、等及び事業者における障害を理由とする差別を解消するための措置等を定めることにより、障害を理由とする差別の解消を推進し、もって全ての国民が、障害の有無によって分け隔てられることなく、相互に人格と個性を尊重し合いながらする社会の実現に資することを目的とする。

| | ア | イ | ウ | エ |
|---|----------|-------|--------|----|
| 1 | 発達障害者支援法 | 社会生活 | 独立行政法人 | 共生 |
| 2 | 障害者基本法 | 平等権 | 行政機関 | 支援 |
| 3 | 発達障害者支援法 | 基本的人権 | 地方公共団体 | 共生 |
| 4 | 障害者基本法 | 平等権 | 地方公共団体 | 支援 |
| 5 | 障害者基本法 | 基本的人権 | 行政機関 | 共生 |

(2) 「学校教育法施行規則の一部を改正する省令の制定並びに特別支援学校幼稚部教育要領の全部を改正する告示及び特別支援学校小学部・中学部学習指導要領の全部を改正する告示の公示について(通知)」(平成29年4月 文部科学省)の(5)小学部・中学部における主な改善事項④「一人一人に応じた指導の充実」では、児童生徒の障がいの状態や特性及び心身の発達の段階等を十分考慮し、育成を目指す資質・能力を育むため、障がいの特性等に応じた指導上の配慮を充実させることを示した。次に示す指導上の配慮は、特に、どの障がい種別にあたるか。正しいものを1～5から一つ選べ。解答番号は

| 障がいの特性等に応じた指導上の配慮 | 障がい種別 |
|------------------------------|--------------------------------|
| 間接体験、疑似体験等を取り入れた指導方法の工夫 | <input type="text" value="ア"/> |
| 体験的な活動を通じた的確な言語概念等の形成 | <input type="text" value="イ"/> |
| 音声、文字、手話、指文字等を活用した意思の相互伝達の充実 | <input type="text" value="ウ"/> |
| 空間や時間の概念形成の充実 | <input type="text" value="エ"/> |

| | ア | イ | ウ | エ |
|---|------|-------|-------|-------|
| 1 | 聴覚障害 | 視覚障害 | 病弱 | 肢体不自由 |
| 2 | 視覚障害 | 聴覚障害 | 肢体不自由 | 病弱 |
| 3 | 病弱 | 肢体不自由 | 聴覚障害 | 視覚障害 |
| 4 | 病弱 | 視覚障害 | 聴覚障害 | 肢体不自由 |
| 5 | 視覚障害 | 聴覚障害 | 病弱 | 肢体不自由 |

(3) 次の各文は、「特別支援学校小学部・中学部学習指導要領」(平成29年4月告示)の記述である。
次の①、②の問いに答えよ。

① 「第7章 自立活動」について、正しく述べられているものの組合せはどれか。1～5から一つ選べ。解答番号は

ア 「目標」は、個々の児童又は生徒が自立を目指し、障害による学習上又は生活上の困難を主体的に改善・克服するために必要な知識、技能、態度及び習慣を養い、もって心身の調和的発達の基盤を培うことである。

イ 身体表現についての知識や技能を得たり生かしたりしながら、リズムの特徴や曲の雰囲気を感じ取り、体を動かすことについての思いや意図をもつこと。

ウ 自立活動の指導に当たっては、個々の児童又は生徒の障害の状態や特性及び心身の発達の段階等の的確な把握に基づき、指導すべき課題を明確にすることによって、指導目標及び指導内容を設定し、個別の指導計画を作成するものとする。

エ 日常生活や社会生活に必要な国語の知識や技能を身に付けるとともに、我が国の言語文化に親しむことができるようにする。

オ 学級活動においては、適宜他の学級や学年と合同で行うなどして、少人数からくる種々の制約を解消し、活発な集団活動が行われるようにする必要があること。

- 1 アーウ
- 2 イーエ
- 3 アーウーオ
- 4 イーウーエ
- 5 アーイーウ

② 次の各文は、自立活動の「内容」の記述の一部である。記述中の空欄ア～オに当てはまる正しい語句の組合せはどれか。1～5から一つ選べ。解答番号は

1 健康の保持

2 心理的な安定

3

- (1) 他者とのかかわりの基礎に関する事。
- (2) 他者の意図や感情の理解に関する事。
- (3) 自己の理解と行動の調整に関する事。
- (4) 集団への参加の基礎に関する事。

4

- (1) 保有する感覚の活用に関する事。
- (2) 感覚や認知の特性についての理解と対応に関する事。
- (3) 感覚の補助及び の活用に関する事。
- (4) 感覚を総合的に活用した周囲の状況についての把握と状況に応じた行動に関する事。
- (5) 認知や行動の手掛かりとなる概念の形成に関する事。

5

- (1) 姿勢と運動・動作の基本的技能に関する事。
- (2) 姿勢保持と運動・動作の補助的手段の活用に関する事。
- (3) 日常生活に必要な基本動作に関する事。
- (4) 身体の移動能力に関する事。
- (5) 作業に必要な動作と円滑な遂行に関する事。

6 コミュニケーション

- (1) コミュニケーションの基礎的能力に関する事。
- (2) 言語の と表出に関する事。
- (3) 言語の形成と活用に関する事。
- (4) コミュニケーション手段の選択と活用に関する事。
- (5) 状況に応じたコミュニケーションに関する事。

| | ア | イ | ウ | エ | オ |
|---|---------|-------|------|-------|----|
| 1 | 人間関係の形成 | 環境の把握 | 保有感覚 | 身体の動き | 理解 |
| 2 | 個人と他者 | 環境の把握 | 保有感覚 | 安全な生活 | 理解 |
| 3 | 人間関係の形成 | 体験学習 | 保有感覚 | 安全な生活 | 受容 |
| 4 | 人間関係の形成 | 環境の把握 | 代行手段 | 身体の動き | 受容 |
| 5 | 個人と他者 | 体験学習 | 代行手段 | 身体の動き | 理解 |

(4) 次の各文は、「学校教育法」(平成30年6月一部改正)の「第八章 特別支援教育」の条文である。
正しいもののみをすべてあげているのはどれか。1～5から一つ選べ。解答番号は

ア 特別支援学校は、視覚障害者、聴覚障害者、知的障害者、肢体不自由者又は病弱者(身体虚弱者を含む。以下同じ。)に対して、幼稚園、小学校、中学校又は高等学校に準ずる教育を施すとともに、障害による学習上又は生活上の困難を克服し自立を図るために必要な知識技能を授けることを目的とする。

イ 特別支援学校には、小学部及び中学部を置かなければならない。ただし、特別の必要のある場合においては、そのいずれかのみを置くことができる。

ウ 特別支援学校の幼稚部の教育課程その他の保育内容、小学部及び中学部の教育課程又は高等部の学科及び教育課程に関する事項は、幼稚園、小学校、中学校又は高等学校に準じて、都道府県教育委員会が定める。

エ 特別支援学校には、寄宿舎を設けなければならない。ただし、特別の事情のあるときは、これを設けないことができる。

オ 都道府県は、その区域内にある学齢児童及び学齢生徒のうち、視覚障害者、聴覚障害者、知的障害者、肢体不自由者又は病弱者で、その障害が第七十五条の政令で定める程度のものを就学させるに必要な特別支援学校を設置しなければならない。

- 1 アーイーエ
- 2 イーウーオ
- 3 アーイーエーオ
- 4 アーウーエーオ
- 5 アーイーウーエーオ

(5) 次の文は、「発達障害者支援法」(平成28年6月一部改正) 第八条の一部である。文中の空欄ア～エに当てはまる正しい語句の組合せはどれか。1～4から一つ選べ。解答番号は

国及び地方公共団体は、発達障害児（十八歳以上の発達障害者であって高等学校、及び特別支援学校並びに専修学校の高等課程に在学する者を含む。以下この項において同じ。）が、その年齢及び能力に応じ、かつ、その特性を踏まえた十分な教育を受けられるようにするため、可能な限り発達障害児が発達障害児でない児童と共に教育を受けられるよう配慮しつつ、適切な教育的支援を行うこと、の作成（教育に関する業務を行う関係機関と医療、保健、福祉、労働等に関する業務を行う関係機関及び民間団体との連携の下に行う個別の長期的な支援に関する計画の作成をいう。）及びの作成の推進、の防止等のための対策の推進その他の支援体制の整備を行うことその他必要な措置を講じるものとする。

| | ア | イ | ウ | エ |
|---|--------|-------------|-------------|-----|
| 1 | 大学 | 個別の教育支援計画 | 個別の指導に関する計画 | 差別 |
| 2 | 中等教育学校 | 個別の教育支援計画 | 個別の指導に関する計画 | いじめ |
| 3 | 中等教育学校 | 個別の指導に関する計画 | 個別の教育支援計画 | 差別 |
| 4 | 大学 | 個別の指導に関する計画 | 個別の教育支援計画 | いじめ |

(6)「小学校、中学校、高等学校及び特別支援学校等における児童生徒の学習評価及び指導要録の改善等について（通知）」（平成31年3月 文部科学省）について、次の①、②の問いに答えよ。

① 「2 学習評価の主な改善点について」、空欄ア～エに当てはまる正しい語句の組合せはどれか。
1～5から一つ選べ。解答番号は

高等学校及び特別支援学校（視覚障害、聴覚障害、肢体不自由又は病弱）高等部における各教科・科目の評価について、学習状況を に捉える観点別学習状況の評価と、これらを に捉える評定の両方について、学習指導要領に示す各教科・科目の目標に基づき学校が地域や に即して定めた当該教科・科目の目標や内容に照らし、その実現状況を評価する、目標に した評価として実施することを明確にしたこと。

| | ア | イ | ウ | エ |
|---|-----|-----|--------|----|
| 1 | 個別的 | 作業的 | 生徒の実態 | 準拠 |
| 2 | 職業的 | 客観的 | 家庭の状況 | 配慮 |
| 3 | 個別的 | 総括的 | 家庭の状況 | 準拠 |
| 4 | 分析的 | 客観的 | キャリア教育 | 配慮 |
| 5 | 分析的 | 総括的 | 生徒の実態 | 準拠 |

② 「3 指導要録の主な改善点について」、空欄ア～ウに当てはまる正しい語句の組合せはどれか。
1～5から一つ選べ。解答番号は

特別支援学校（知的障害）各教科については、特別支援学校の新学習指導要領において、小・中・高等学校等との を重視する観点から小・中・高等学校の各教科と同様に育成を目指す の三つの柱で目標及び内容が整理されたことを踏まえ、その学習評価においても観点別学習状況を踏まえて を行うこととしたこと。

| | ア | イ | ウ |
|---|--------|-------|-------|
| 1 | 生きる力 | 資質・能力 | 自由記述 |
| 2 | 学びの連続性 | 資質・能力 | 文章記述 |
| 3 | 横断的学習 | 資質・能力 | 文章記述 |
| 4 | 学びの連続性 | 改善・克服 | 特技の記述 |
| 5 | 生きる力 | 改善・克服 | 自由記述 |

(7) 次の各文は、「これからの学校教育を担う教員の資質能力の向上について」(平成27年12月中央教育審議会答申)のこれからの時代の教員に求められる資質能力について述べたものである。正しい記述のみをすべてあげた組合せはどれか。1～5から一つ選べ。解答番号は

ア これまで教員として不易とされてきた資質能力に加え、自律的に学ぶ姿勢を持ち、時代の変化や自らのキャリアステージに応じて求められる資質能力を生涯にわたって高めていくことのできる力や、情報を適切に収集し、選択し、活用する能力や知識を有機的に結びつけ構造化する力などが必要である。

イ 子供たち一人一人がそれぞれの夢や目標の実現に向けて、自らの人生を切り開くことができるよう、これからの時代に生きる子供たちをどう育成すべきかについての目標を組織として共有し、その育成のために確固たる信念をもって取り組んでいく姿勢が必要である。

ウ アクティブ・ラーニングの視点からの授業改善、道徳教育の充実、小学校における外国語教育の早期化・教科化、ICTの活用、発達障害を含む特別な支援を必要とする児童生徒等への対応などの新たな課題に対応できる力量を高めることが必要である。

エ 学校安全への対応、幼小接続をはじめとした学校間連携等への対応が必要である。

オ 「チーム学校」の考えの下、多様な専門性を持つ人材と効果的に連携・分担し、組織的・協働的に諸課題の解決に取り組む力の醸成が必要である。

- 1 ア－イ－ウ
- 2 イ－ウ－オ
- 3 ア－イ－ウ－エ
- 4 ア－ウ－エ－オ
- 5 ア－イ－ウ－エ－オ

(8) 「大阪の支援教育」(令和元年度版 大阪府教育庁)において、述べられている大阪府の支援教育の現状のうち、適切でないものはどれか。1～5から一つ選べ。解答番号は

- 1 大阪府では、すべての幼児児童生徒が「ともに学び、ともに育つ」教育を基本として幼稚園、小学校、中学校、義務教育学校、高等学校、支援学校などで、一人ひとりのニーズに応じた教育を行っている。
- 2 平成30年度の大阪府における小・中・義務教育学校への支援学級設置校率は、他府県と比較して高い。
- 3 支援学校(小・中学部)に在籍する児童生徒は、支援学級に在籍する児童生徒より多い。
- 4 学齢期の子どもが減少しているが、支援学校・支援学級に在籍する児童生徒は増加している。
- 5 障がいの重度・重複化など、障がいのある子どもの教育を取り巻く状況の変化に伴い、幼児児童生徒や保護者の意識やニーズが多様化している。

2 世界の宗教に関する次の(1)～(10)の問いに答えよ。

(1) 次の1～5のうち、紀元前に成立した宗教についての記述として誤っているものを一つ選べ。

解答番号は

- 1 ガンジス川流域に進出したアーリヤ人によって、司祭者を最高の身分とするバラモン教が成立した。
- 2 ユダヤ人はバビロン捕囚の後、イエルサレムにヤハウエの神殿を再興し、ユダヤ教を確立した。
- 3 アケメネス朝のダレイオス1世が信仰したゾロアスター教では、死後の審判や救世主の到来などの教義が唱えられた。
- 4 ジャイナ教の創始者であるヴァルダマーナは、苦行と不殺生などによる輪廻転生からの解脱を説いた。
- 5 仏教の創始者であるガウタマ＝シッダールタは、ヴァルナの権威や義務をマヌ法典にまとめブッダと呼ばれるようになった。

(2) キリスト教はローマ帝国において、313年のミラノ勅令で公認された。このときのローマ皇帝を、次の1～5から一つ選べ。解答番号は

- 1 ネロ
- 2 カラカラ
- 3 デイオクレティアヌス
- 4 コンスタンティヌス
- 5 テオドシウス

(3) 日本は仏教や律令などを中国から学ぶために、遣隋使や遣唐使を派遣した。隋や唐について述べた次の文ア～オのうち、正しいものを○、誤っているものを×とした場合、正しい組合せはどれか。下の1～5から一つ選べ。解答番号は

- ア 隋の文帝は均田制や府兵制を行うとともに、学科試験による官吏の登用法を採用した。
- イ 隋の煬帝は華北と江南を結ぶ大運河を完成させ、高句麗に度々遠征した。
- ウ 隋の軍閥であった李淵が帝位につき、洛陽を都として唐を建てた。
- エ 唐は中央に三省六部の官制を設け、地方には郡国制を行った。
- オ 唐の玄宗は募兵制を採用して辺境防備のために節度使を置いたが、節度使の一人が起こした安史の乱によって唐は滅びた。

| | ア | イ | ウ | エ | オ |
|---|---|---|---|---|---|
| 1 | × | ○ | × | × | ○ |
| 2 | ○ | × | ○ | ○ | × |
| 3 | × | ○ | ○ | × | ○ |
| 4 | × | ○ | × | ○ | × |
| 5 | ○ | ○ | × | × | × |

(4) 11世紀にキリスト教徒が聖地イエルサレムを回復するために提唱された十字軍は、13世紀末まで度々起こされた。十字軍に関する次の文ア～エのできごとを年代の古い順番に左から右へ並べた場合、正しいものはどれか。下の1～5から一つ選べ。解答番号は

- ア イエルサレムを占領して、イエルサレム王国を建てた。
- イ コンスタンティノープルを占領して、ラテン帝国を建てた。
- ウ 神聖ローマ皇帝フリードリヒ2世が十字軍を起こし、スルタンとの間に休戦条約を結んだ。
- エ イギリス王リチャード1世やフランス王フィリップ2世らが十字軍に参加したが、イエルサレム攻略の目的は果たせなかった。

| | | | | | | | |
|---|---|---|---|---|---|---|---|
| 1 | ア | → | イ | → | エ | → | ウ |
| 2 | ア | → | エ | → | イ | → | ウ |
| 3 | イ | → | ウ | → | エ | → | ア |
| 4 | ウ | → | エ | → | イ | → | ア |
| 5 | エ | → | ウ | → | ア | → | イ |

(5) 西アジアを支配していたイスラーム勢力は、13世紀にモンゴル軍の侵攻を受けた。1258年にモンゴル軍のフラグによって滅ぼされたイスラーム王朝はどれか。次の1～5から一つ選べ。

解答番号は

- 1 ウマイヤ朝
- 2 アッバース朝
- 3 サファヴィー朝
- 4 カージャール朝
- 5 パフレヴィー朝

(6) ヨーロッパの宗教改革は16世紀に始まった。次の1～5のうち、宗教改革とその影響についての記述として誤っているものを一つ選べ。解答番号は

- 1 教皇が贖宥状（免罪符）を販売したことに対して、ルターは1517年に「95か条の論題」を発表して批判し、後に教皇から破門された。
- 2 カルヴァンが説いた予定説は、商工業者のあいだに広く普及した。
- 3 1545年から開かれたトリエント公会議では、教皇の至上権が再確認された。
- 4 ヘンリ8世は、離婚を認めない教皇と対立し、国王がイギリス国内の教会の首長であると宣言した。
- 5 フランスで起こったユグノー戦争は、カトリックの信者であったアンリ4世が国王となりユグノーに改宗し、同時にナントの勅令を出してカトリックに信仰の自由を認めることで終結した。

(7) イギリスで信仰の自由を求めたピューリタンの中には、北米に移住した者もいた。次の1～5のうち、北米植民地が18世紀にイギリスから独立するまでについての記述として誤っているものを一つ選べ。解答番号は

- 1 フレンチ・インディアン戦争で財政が悪化したイギリスは、北米植民地への課税を強化した。
- 2 イギリス議会が砂糖への課税を決めると、ボストン市民たちは東インド会社の船を襲った。
- 3 1775年に植民地の軍総司令官に任命されたワシントンは、後に初代大統領となった。
- 4 1776年に発表された独立宣言は、ジェファソンらが起草した。
- 5 1783年のパリ条約でイギリスは北米植民地の独立を認めた。

- (8) 15世紀から17世紀における東南アジアの港市国家について述べた次の文章を読み、(ア)～(ウ)にあてはまる語句の組合せとして正しいものを、次の1～5から一つ選べ。

解答番号は

マレー半島に生まれたマラッカ王国は、王が15世紀中ごろにスルタンの称号を用いた時からイスラーム教国として確立したと考えられ、その後ムスリム商人による海上交易拠点として発展した。しかし1511年に(ア)がマラッカを占領すると、スマトラ島西北端に栄えた(イ)王国が周辺のイスラーム教国の盟主として(ア)に対抗した。(イ)王国は16世紀中に何度もマラッカを攻撃したが攻落できなかった。その後、1641年には(ウ)が(イ)王国と連合してマラッカを占領した。

| | ア | イ | ウ |
|---|-------|-------|-------|
| 1 | オランダ | アチェ | イギリス |
| 2 | ポルトガル | パレンバン | イギリス |
| 3 | ポルトガル | アチェ | オランダ |
| 4 | イギリス | アチェ | オランダ |
| 5 | イギリス | パレンバン | ポルトガル |

- (9) 18世紀後半から20世紀末までの東アジアでは、宗教に関係する反乱が起こった。次の文ア～エのできごとを年代の古い順番に左から右へ並べた場合、正しいものはどれか。次の1～5から一つ選べ。解答番号は

ア 朝鮮では、東学の全瑋準らを指導者とする農民たちの反乱が起こった。

イ 中国では嘉慶帝の時代に、末劫の到来と下生した弥勒仏による救済を説く運動を発端として白蓮教徒の乱が起こった。

ウ キリスト教の影響を受けた拝上帝会(上帝会)をつくった洪秀全が蜂起し、太平天国を建てた。

エ 中国でキリスト教会への襲撃をくりかえしていた義和団が、北京の外国公使館区域を包囲した。

- | | | | | | | | |
|---|---|---|---|---|---|---|---|
| 1 | イ | → | ウ | → | エ | → | ア |
| 2 | イ | → | ウ | → | ア | → | エ |
| 3 | エ | → | イ | → | ウ | → | ア |
| 4 | ア | → | イ | → | ウ | → | エ |
| 5 | ウ | → | イ | → | ア | → | エ |

(10) 20世紀のパレスティナで起こったできごとに関連した次の文ア～オのうち、正しいものを○、誤っているものを×とした場合、正しい組合せはどれか。下の1～5から一つ選べ。

解答番号は

ア 1915年、イギリスはサイクス・ピコ協定によってアラブ人にオスマン帝国からの独立を約束した。

イ 1917年、イギリスはバルフォア宣言によってパレスティナのユダヤ人国家建設を支持した。

ウ ユダヤ人がイスラエルの建国を宣言したことをきっかけに起こった戦争は第1次中東戦争と呼ばれ、アラブ側が敗北した。

エ 第4次中東戦争後の1979年、イランのサダト大統領がイスラエルの正統性を認めた。

オ 1993年、アメリカ大統領の仲介により、イスラエルとPLOの相互承認とパレスティナ人の暫定自治政府の樹立についての合意がなされた。

| | ア | イ | ウ | エ | オ |
|---|---|---|---|---|---|
| 1 | ○ | × | ○ | × | ○ |
| 2 | ○ | × | × | ○ | ○ |
| 3 | × | ○ | ○ | × | ○ |
| 4 | × | ○ | × | ○ | × |
| 5 | ○ | ○ | × | × | × |

3 地理に関する次の(1)～(10)の問いに答えよ。

(1) 下のA～Cのグラフは、日本のある都市の月別気温と月別降水量を示したものである。次の1～5のうち、瀬戸内気候の説明として正しいものはどれか。1～5から一つ選べ。

解答番号は

著作権保護の観点により、本作品を掲載いたしません。

出典：『日本国勢図会』2019/2020版
公益財団法人 矢野恒太記念会
33ページ

(『日本国勢図会』2019/20年版により作成)

- 1 Aの気候は、季節風の影響で季節によっては雨が多い時や、乾燥して晴れの日も多い。
- 2 Bの気候は、夏は晴天が多く、気温も高くなる。冬は湿気を含む季節風により、降水量が多くなる。
- 3 Bの気候は、夏は降水量が多い。冬は季節風が山脈を吹き超えて乾燥し、降水量が少ない。
- 4 Cの気候は、年間を通じて降水量が少なく、明瞭な梅雨の現象も見られない。
- 5 Cの気候は、山地が季節風をさえぎり、通年で晴れる日が多く降水量が少ない。

(2) 下の表1は、都道府県別に2015(平成27)年の人口密度、工業出荷額、小売業販売額を多い順に示したものである。表1中のA～Eは愛知・大阪・神奈川・千葉・兵庫のいずれかである。愛知に該当するものはどれか。1～5から一つ選べ。解答番号は

表 1

| | | | | | | | | | |
|--------|-------------|------------|------------|------------|------------|-------------|------------|------------|------------|
| 人口密度 | 東京 20.0% | A 15.0% | B 12.2% | 埼玉 6.2% | C 4.6% | D 3.9% | 福岡 3.3% | E 2.1% | 沖縄 2.0% |
| 工業出荷額 | C 14.7% | B 5.6% | A 5.4% | 静岡 5.2% | E 4.9% | 埼玉 4.1% | D 4.0% | 茨城 3.8% | 三重 3.5% |
| 小売業販売額 | 東京 13.8% | A 7.1% | B 6.4% | C 6.1% | 埼玉 5.0% | 北海道 4.6% | D 4.4% | 福岡 4.1% | E 4.0% |

(『日本国勢図会』2017/18年版、2018/19年版により作成)

- 1 A 2 B 3 C 4 D 5 E

(3) 次の1～5は、経済産業省が認めている日本の伝統工芸品の一部である。関東地方の伝統工芸品として誤っているものはどれか。1～5から一つ選べ。解答番号は

1

著作権保護の観点により、
本作品を掲載いたしません。

出典：伝統工芸 青山スクエア HP
<https://kougeihin.jp/craft/0610/>

品目名：箱根寄木細工

2

著作権保護の観点により、
本作品を掲載いたしません。

出典：伝統工芸 青山スクエア HP
[https://kougeihin.jp/assets/cache/images/
resized_p1414411_w154_h116.jpg](https://kougeihin.jp/assets/cache/images/resized_p1414411_w154_h116.jpg)

品目名：江戸切子

3

著作権保護の観点により、
本作品を掲載いたしません。

出典：伝統工芸 青山スクエア HP
<https://kougeihin.jp/craft/1402/>

品目名：房州うちわ

4

著作権保護の観点により、
本作品を掲載いたしません。

出典：伝統工芸 青山スクエア HP
からのリンク 木竹工芸品産地一覧
[https://www.pinterest.jp/pin/
335447872222138491/](https://www.pinterest.jp/pin/335447872222138491/)

品目名：都城大弓

5

著作権保護の観点により、
本作品を掲載いたしません。

出典：伝統工芸 青山スクエア HP
[https://www.kanto.meti.go.jp/seisaku/
creative/20191120dentou_kougeihin_
shitei.html](https://www.kanto.meti.go.jp/seisaku/creative/20191120dentou_kougeihin_shitei.html)
※「行田足袋」の写真

品目名：行田足袋

(経済産業省の資料により作成)

(4) 下の表2は、1960（昭和35）年、2000（平成12）年、2017（平成29）年それぞれにおける日本の主要な農産物の食料自給率と、2017年における日本の主要な農産物の輸入額が多い上位3か国の割合を示したものである。品目A～Dの正しい組合せはどれか。1～5から一つ選べ。

解答番号は

表 2

| 品目 | 日本の自給率 (%) | | | 2017年の日本の輸入額に占める割合 (%) | | |
|----|------------|-------|-------|------------------------|---------------|-----------------|
| | 1960年 | 2000年 | 2017年 | 1位 | 2位 | 3位 |
| A | 28 | 5 | 7 | アメリカ合衆国 71.6 | ブラジル 13.8 | カナダ 13.0 |
| B | 39 | 11 | 14 | アメリカ合衆国 50.4 | カナダ 30.7 | オーストラリア 17.5 |
| C | 100 | 44 | 39 | アメリカ合衆国 21.8 | フィリピン 18.8 | 中国 15.2 |
| D | 91 | 52 | 52 | アメリカ合衆国 27.6 | タイ 14.3 | オーストラリア 14.0 |

(『日本国勢図会』2018/19年版、2019/20年版により作成)

| | A | B | C | D |
|---|----|----|----|----|
| 1 | 小麦 | 大豆 | 果実 | 肉類 |
| 2 | 果実 | 小麦 | 肉類 | 大豆 |
| 3 | 大豆 | 小麦 | 肉類 | 果実 |
| 4 | 肉類 | 大豆 | 果実 | 小麦 |
| 5 | 大豆 | 小麦 | 果実 | 肉類 |

(5) 下の図1は南極点、図2は北極点の正方位図である。図1と図2それぞれにおいて、中心から見て日本が位置する方向を示した正しい組合せはどれか。1～5から一つ選べ。

解答番号は

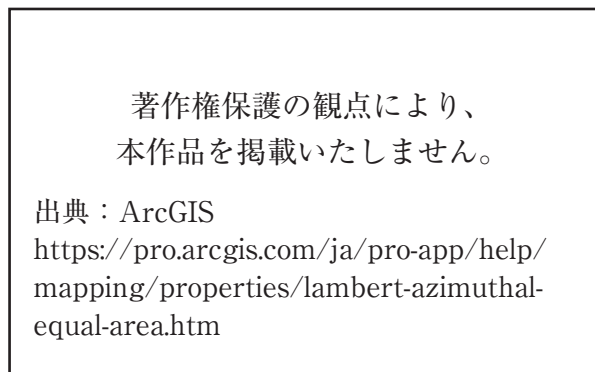


図 1

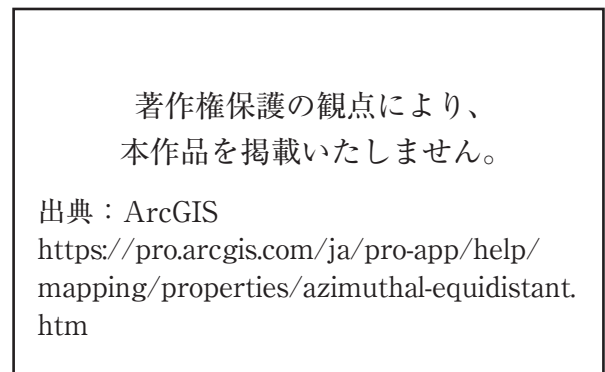


図 2

- 1 AとE 2 BとF 3 CとD 4 AとD 5 CとE

(6) 次の1～5は、世界遺産をそれぞれ示したものである。その世界遺産の位置する緯度が、日本の位置する緯度の範囲に含まれるものとして正しいものはどれか。1～5から一つ選べ。

解答番号は

1

著作権保護の観点により、
本作品を掲載いたしません。

出典：UNESCO HP
<https://whc.unesco.org/en/list/252>

タージ・マハル

2

著作権保護の観点により、
本作品を掲載いたしません。

出典：UNESCO HP
https://whc.unesco.org/uploads/thumbs/site_0031_0025-500-310-20151207171908.jpg

アウシュヴィッツ・ビルケナウ ナチス
ドイツの強制絶滅収容所 (1940-1945)

3

著作権保護の観点により、
本作品を掲載いたしません。

出典：UNESCO HP
https://whc.unesco.org/uploads/thumbs/site_0292_0029-500-436-20151105100703.jpg

ケルン大聖堂

4

著作権保護の観点により、
本作品を掲載いたしません。

出典：UNESCO HP
https://whc.unesco.org/uploads/thumbs/site_0080_0050-500-332-20151104130651.jpg

モンサンミッシェルとその湾

5

著作権保護の観点により、
本作品を掲載いたしません。

出典：ACCU 奈良事務所 HP
<http://www.nara.accu.or.jp/news/heritage/heritage/angkor/1.jpg>

アンコール

(国際連合教育科学文化機関 (ユネスコ) の資料により作成)

(7) 次の1～5は、2016年におけるイギリス・インド・サウジアラビア・スイス・中国の5か国の輸出額と輸入額に占める上位4品目の割合をそれぞれ示したものである。インドに該当するものはどれか。1～5から一つ選べ。解答番号は

1

| 輸出 | % | 輸入 | % |
|---------|------|---------|------|
| 金(非貨幣用) | 27.0 | 金(非貨幣用) | 31.6 |
| 医薬品 | 23.6 | 機械類 | 11.5 |
| 機械類 | 11.4 | 医薬品 | 9.7 |
| 精密機械 | 9.4 | 自動車 | 5.3 |

2

| 輸出 | % | 輸入 | % |
|--------|------|---------|------|
| 石油製品 | 10.5 | 機械類 | 19.2 |
| ダイヤモンド | 9.2 | 原油 | 17.1 |
| 機械類 | 8.7 | 金(非貨幣用) | 6.4 |
| 衣類 | 6.9 | ダイヤモンド | 5.3 |

3

| 輸出 | % | 輸入 | % |
|--------|------|-----|------|
| 原油 | 65.6 | 機械類 | 24.7 |
| 石油製品 | 11.4 | 自動車 | 13.7 |
| プラスチック | 6.8 | 鉄鋼 | 4.2 |
| 有機化合物 | 3.7 | 医薬品 | 3.8 |

4

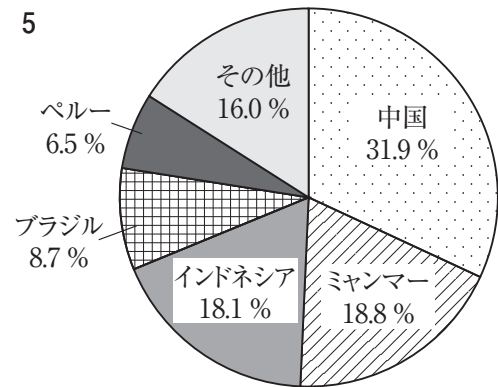
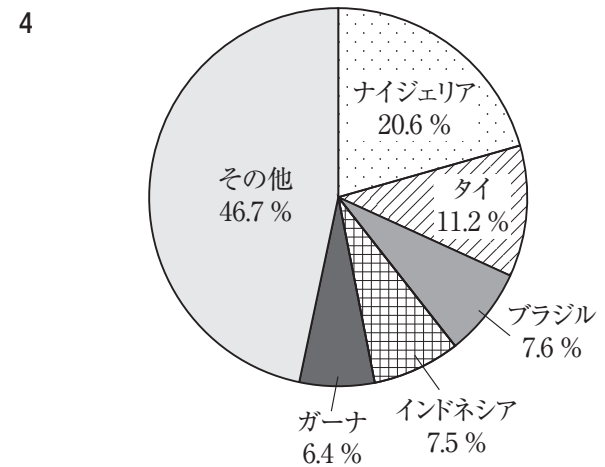
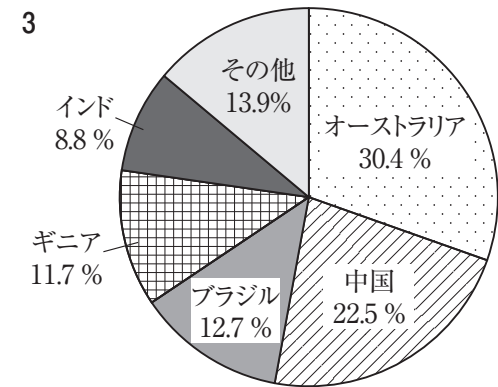
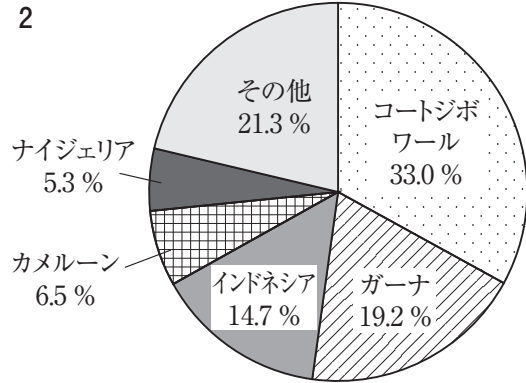
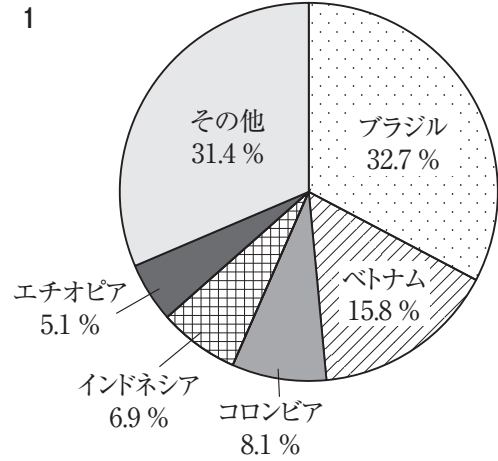
| 輸出 | % | 輸入 | % |
|------|------|------|------|
| 機械類 | 42.6 | 機械類 | 35.3 |
| 衣類 | 7.5 | 原油 | 7.3 |
| 繊維品 | 5.0 | 精密機械 | 5.5 |
| 金属製品 | 3.7 | 自動車 | 4.5 |

5

| 輸出 | % | 輸入 | % |
|-----|------|---------|------|
| 機械類 | 21.4 | 機械類 | 20.8 |
| 自動車 | 12.1 | 自動車 | 11.5 |
| 医薬品 | 8.1 | 金(非貨幣用) | 9.2 |
| 航空機 | 5.0 | 医薬品 | 5.3 |

(『世界国勢図会』2018/19年版により作成)

(8) 次の1～5は、身近な製品の原材料となるカカオ豆、キャッサバ、コーヒー豆、すず鉱、ボーキサイトの2016年におけるそれぞれの原材料の総生産量に占める各国の生産量の割合のうち、生産量の割合の多い上位5か国を示したものである。キャッサバに該当するものはどれか。1～5から一つ選べ。解答番号は



(『世界国勢図会』2018/19年版、2019/20年版により作成)

(9) 下の図3は、アメリカ合衆国の行政区分を示したものである。図3中のA～Dで示す州の位置として正しいものを○、誤っているものを×とした場合、正しい組合せはどれか。1～5から一つ選べ。解答番号は

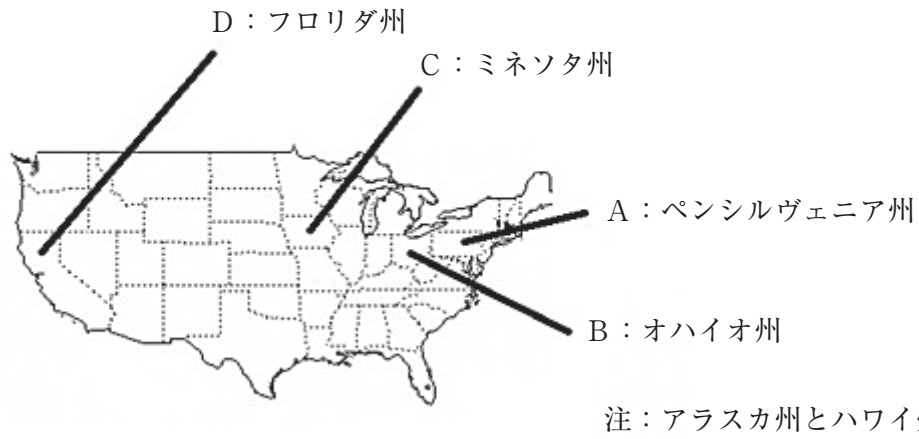


図 3

| | A | B | C | D |
|---|---|---|---|---|
| 1 | ○ | × | ○ | ○ |
| 2 | ○ | ○ | × | × |
| 3 | × | × | × | ○ |
| 4 | × | ○ | × | × |
| 5 | × | ○ | ○ | × |

(10) 下の表3は、2016年における金、銀、銅の生産が多い上位3か国の割合を示したものである。
 表3中のAに該当する国の国土の形と首都名はどれか。1～5から一つ選べ。解答番号は

表 3

| | | | |
|---|---------------|-----------------|-------------|
| 金 | A 14.5% | オーストラリア 9.3% | ロシア 8.1% |
| 銀 | メキシコ 21.4% | ペルー 15.3% | A 12.3% |
| 銅 | チリ 30.2% | A 9.0% | ペルー 8.9% |

(『世界国勢図会』2019/20年版により作成)

1



首都：ペキン(北京)

2



首都：ニューデリー

3



首都：オタワ

4



首都：プレトリア

5



首都：ブラジリア

注：国土の大きさについて、縮尺は共通ではない。

4 次の日本国憲法の前文と条文の一部を読み、次の問いに答えよ。

前文

日本国民は、恒久の平和を念願し、人間相互の関係を支配する崇高な理想を深く自覚するのであつて、平和を愛する諸国民の公正と信義に信頼して、われらの安全と^(a)生存を保持しようと決意した。われらは、平和を維持し、(A)と隷従、(B)と偏狭を地上から永遠に除去しようと努めてゐる^(b)国際社会において、名誉ある地位を占めたいと思ふ。われらは、全世界の国民が、ひとしく恐怖と(C)から免かれ、平和のうちに生存する権利を有することを確認する。

われらは、いづれの^(c)国家も、^(d)自国のことのみ^(e)に専念して他国を無視してはならないのであつて、^(e)政治道徳の法則は、普遍的なものであり、この法則に従ふことは、自国の^(f)主権を維持し、他国と対等関係に立たうとする各国の責務であると信ずる。

第九条

日本国民は、正義と秩序を基調とする^(g)国際平和を誠実に希求し、国権の発動たる^(h)戦争と、武力による威嚇又は武力の行使は、⁽ⁱ⁾国際紛争を解決する手段としては、永久にこれを放棄する。

(1) 前文中の(A)～(C)にあてはまる語句の組合せとして正しいものを、次の1～5から一つ選べ。解答番号は

- | | | | |
|---|------|------|------|
| 1 | A 専制 | B 抑圧 | C 困窮 |
| 2 | A 独裁 | B 圧迫 | C 困窮 |
| 3 | A 専制 | B 圧迫 | C 欠乏 |
| 4 | A 独裁 | B 抑圧 | C 欠乏 |
| 5 | A 専制 | B 抑圧 | C 欠乏 |

(2) 前文中の下線部(a)に関連して、日本の社会保障について述べた次の文章のうち、正しいものを、次の1～5から一つ選べ。解答番号は

- 1 公的年金制度は、自分が積み立てた保険料が将来年金として戻ってくる「積立方式」をとっている。
- 2 介護保険に加入するのは40歳以上の人であり、保険料は所得水準に応じて決まる。
- 3 地域保健法に規定されている保健事業は、都道府県や政令指定都市、中核市等を単位として設置される「保健センター」と市町村を単位に設置される「保健所」を中心に行われている。
- 4 雇用保険制度は、任意の保険制度であり、労働者を一人でも雇用する事業主は加入することができる。
- 5 1938年、国民健康保険法の制定により、国民すべてが公的な医療保険に加入する「国民皆保険」制度が実現した。

(3) 前文中の下線部(b)に関連して、地球環境に関する取組みについての記述として誤っているものを、次の1～5から一つ選べ。解答番号は

- 1 フランスのパリで開催された第21回国連気候変動枠組条約締約国会議（COP21）において、2020年以降の温室効果ガス排出削減等のための新たな国際枠組みとして、パリ協定が採択された。
- 2 1992年、国連環境開発会議において採択された「人間環境宣言」および「環境国際行動計画」を実施に移すための機関として、国連環境計画（UNEP）が設立された。
- 3 「特に水鳥の生息地として国際的に重要な湿地に関する条約（ラムサール条約）」は各締約国がその領域内にある国際的に重要な湿地を1ヶ所以上指定し、条約事務局に登録するとともに、湿地の保全及び賢明な利用促進のために各締約国がとるべき措置等について規定している。
- 4 「生物の多様性に関する条約（生物多様性条約）」は、個別の野生生物種や、特定地域の生態系に限らず、生物の多様性の包括的な保全を目指す国際条約として、1993年に発効した。
- 5 「水銀に関する水俣条約」は、水銀が人の健康や環境に与えるリスクを低減するための包括的な規制を定める条約で、日本は2016年に条約を締結した。

(4) 前文中の下線部(c)に関連して、「主権」は「国家の三要素」の一つとされている。「国家の三要素」の残る二つの組合せとして正しいものを、次の1～5から一つ選べ。解答番号は

- | | | |
|---|----|----|
| 1 | 国民 | 領域 |
| 2 | 憲法 | 領域 |
| 3 | 憲法 | 国民 |
| 4 | 領域 | 元首 |
| 5 | 国民 | 元首 |

(5) 前文中の下線部(d)に関連して、次の表は2018年に日本が実施した二国間政府開発援助の供与相手国（支出純額ベース）の上位5か国と、それぞれの国の年齢別人口構成をあらわしたものである。表中のA～Cに当てはまる国の組合せとして正しいものを、下の1～5から一つ選べ。

解答番号は

| 国名 | 政府開発援助合計 (単位は百万ドル) | 年齢別人口 (%) | | |
|----------|-----------------------|-----------|---------|-------|
| | | 0～14歳 | 15歳～64歳 | 65歳以上 |
| A | 1375.4 | 30.9 | 63.6 | 5.5 |
| バングラディシュ | 1179.3 | 30.8 | 64.6 | 4.6 |
| ミャンマー | 536.9 | 28.0 | 66.0 | 6.0 |
| B | 474.2 | 40.2 | 56.6 | 3.2 |
| C | 203.8 | 23.8 | 68.2 | 8.0 |

(『2019年版 開発協力白書』ならびに『世界国勢図会 2019/20年版』による)

- | | | | |
|---|----------|----------|--------|
| 1 | A インドネシア | B ベトナム | C インド |
| 2 | A インド | B インドネシア | C 中国 |
| 3 | A 中国 | B インド | C イラク |
| 4 | A インド | B イラク | C ベトナム |
| 5 | A インドネシア | B インド | C 中国 |

(6) 前文中の下線部(e)に関連して、現在の各国の政治制度について述べたものとして、正しいものを○、誤っているものを×とした場合、正しい組合せはどれか。次の1～5から一つ選べ。

解答番号は

ア フランスの大統領は間接選挙によって選出される。大統領は首相を任命し、首相の提案に基づいて、政府の他の構成員を任命する。

イ イギリスの議会は上院（貴族院）及び下院（庶民院）からなる二院制であり、両院の議員は小選挙区制による直接選挙で選出される。

ウ アメリカの大統領は連邦議会の解散権をもつが、法案の拒否権はもたない。

エ ベトナムは社会主義共和制をとっており、唯一の合法政党である共産党の単独独裁制である。

- | | ア | イ | ウ | エ |
|---|---|---|---|---|
| 1 | ○ | ○ | × | ○ |
| 2 | ○ | × | ○ | × |
| 3 | × | × | ○ | × |
| 4 | × | ○ | × | ○ |
| 5 | × | × | × | ○ |

(7) 前文中の下線部(f)について、主権の概念を提唱した思想家とその著書の組合せとして正しいものを、次の1～5から一つ選べ。解答番号は

- 1 ホッブズ『法の精神』
- 2 グロティウス『リヴァイアサン』
- 3 ボダン『国家論』
- 4 ルソー『市民政府二論』
- 5 モンテスキュー『社会契約論』

(8) 条文中の下線部(g)に関連して、国連安全保障理事会について述べた次の文章のうち、誤っているものを、次の1～5から一つ選べ。解答番号は

- 1 安全保障理事会は、常任理事国5か国と、総会で選出される非常任理事国10か国の15か国で構成される。
- 2 非常任理事国は任期4年で、全加盟国による公開投票により選出され、連続して任期を務めることが認められていない。
- 3 安全保障理事会の決定について、手続事項を除くすべての事項に関する決定は、常任理事国の1か国の反対があった場合には成立しない。
- 4 全ての国連加盟国は、安全保障理事会の決定を国連憲章に従って受諾しかつ履行することに同意している。
- 5 日本は、2015年10月に行われた安全保障理事会非常任理事国選挙において、加盟国最多となる11回目の当選を果たした。

(9) 条文中の下線部(h)に関連して、兵器の開発や保持などを制限または禁止する条約についての記述として誤っているものを、次の1～5から一つ選べ。解答番号は

- 1 化学兵器禁止条約は、サリンなどの化学兵器の開発、生産、保有などを包括的に禁止し、締結国が保有している化学兵器を一定期間内に全廃することを定めている。
- 2 核拡散防止条約はアメリカ、ロシア、イギリス、フランス、中国の5か国を「核兵器国」と定め、「核兵器国」以外への核兵器の拡散を防止すると規定されている。
- 3 包括的核実験禁止条約は、宇宙空間、大気圏内、水中、地下における核兵器の実験的爆発及び未臨界核実験を含む一切の核実験を禁止している。
- 4 世界最初の非核兵器地帯条約であるトラテロルコ条約は、中南米33か国が対象で、全ての国が締結国となっている。
- 5 対人地雷禁止条約は、基本的に対人地雷の使用、貯蔵、生産、移譲などを全面的に禁止するとともに、地雷除去、被害者支援についての国際協力・援助等を規定している。

(10) 条文中の下線部(i)に関連して、国連平和維持活動（P K O）に関する記述として正しいものを○、誤っているものを×とした場合、正しい組合せを下の1～5から一つ選べ。

解答番号は

- ア 日本は「国際連合平和維持活動等に対する協力に関する法律」の成立をうけ、この法律に基づく初めての要員派遣として、1992年第2次国連アンゴラ監視団に選挙監視要員を派遣した。
- イ 世界で初めてのP K Oは、第一次中東戦争の休戦監視を目的として設立された国連休戦監視機構である。
- ウ P K Oは国連憲章に明文規定があり、主要な紛争当事者の受入れ同意、不偏性、自衛及び任務の防衛以外の実力の不行使の三つの基本原則のもと、活動を実施している。
- エ P K Oは、国連加盟国が義務で派遣する要員と、任意で拠出するP K O分担金により活動を実施している。

| | ア | イ | ウ | エ |
|---|---|---|---|---|
| 1 | ○ | × | ○ | × |
| 2 | × | × | ○ | ○ |
| 3 | ○ | ○ | × | ○ |
| 4 | × | ○ | × | ○ |
| 5 | ○ | ○ | × | × |

5 次の問1～問3の問いに答えよ。

問1 次の〔表1〕は、1868年から1887年までの紙幣流通高の推移を示している。〔表1〕を見て、下の(1)～(7)の問いに答えよ。

〔表1〕 流通高（単位：千円）

| 年 | 政府紙幣 | 国立銀行券 | 兌換銀行券 |
|------|---------|--------|--------|
| 1868 | 24,037 | | |
| 1869 | 50,091 | | |
| 1870 | 55,500 | | |
| 1871 | 60,272 | | |
| 1872 | 68,400 | | |
| 1873 | 78,381 | 913 | |
| 1874 | 91,902 | 823 | |
| 1875 | 99,072 | 327 | |
| 1876 | 105,148 | 1,685 | |
| 1877 | 105,797 | 13,165 | |
| 1878 | 139,419 | 25,139 | |
| 1879 | 130,309 | 33,752 | |
| 1880 | 124,940 | 34,398 | |
| 1881 | 118,905 | 34,376 | |
| 1882 | 109,369 | 34,385 | |
| 1883 | 97,999 | 34,276 | |
| 1884 | 93,380 | 31,016 | |
| 1885 | 88,345 | 30,155 | 3,956 |
| 1886 | 67,801 | 29,501 | 39,550 |
| 1887 | 55,815 | 28,604 | 53,455 |

※『日本銀行百年史』より作成

- (1) 明治新政府が1868年から発行した最初の政府紙幣の名称を答えよ。
- (2) 新貨条例や国立銀行条例の起草・立案をおこない、また、第一国立銀行の総監役・頭取になった人物はだれか、答えよ。
- (3) 1876年、地租改正などに反対して起きた伊勢暴動（三重県農民一揆）は、当時の三重県を中心として他県へも波及した。その「他県」は愛知県・岐阜県とあと1つあるが、その県を当時の県名で答えよ。
- (4) 国立銀行券は1876年から翌々年にかけて、政府紙幣は1877年から翌年にかけて、流通高が増加している。その理由を、次の言葉をすべて使って120字以内で説明せよ。
- 大隈重信 殖産興業 西南戦争
- (5) 日本赤十字社の前身である博愛社の創立者であり、1880年に大蔵卿に就任した人物はだれか、答えよ。
- (6) 海運業で独占的勢力となっていた三菱会社に対抗するため、1883年、政府の援助を受けて半官半民の海運会社が開業した。三菱会社との競争の末、1885年には三菱会社と合併することになったこの海運会社の名称を答えよ。

(7) 紙幣やその流通高に関連して述べた文として正しいものを、次の1～5のうちから二つ選び、番号で答えよ。

- 1 新貨条例が制定された年、政府紙幣の流通高は6,000万円を超えた。
- 2 国立銀行券が発行された最初の年に、金禄公債証書の発行も始まった。
- 3 工場払下げ概則の制定後、国立銀行券の流通高は減り続けた。
- 4 松方正義が大蔵卿に就いていた期間は、政府紙幣の流通高が増え続けた。
- 5 兌換銀行券が発行された最初の年に、菓子税・醤油税が設けられた。

問2 次の〔表2〕は、第1回から第21回までの衆議院議員総選挙（以下「総選挙」という。）の実施年を示している。〔表2〕を見て、下の（1）～（7）の問いに答えよ。

〔表2〕

| 総選挙の回数 | 実施年 |
|--------|------|
| 1 | 1890 |
| 2 | 1892 |
| 3 | 1894 |
| 4 | 1894 |
| 5 | 1898 |
| 6 | 1898 |
| 7 | 1902 |
| 8 | 1903 |
| 9 | 1904 |
| 10 | 1908 |
| 11 | 1912 |
| 12 | 1915 |
| 13 | 1917 |
| 14 | 1920 |
| 15 | 1924 |
| 16 | 1928 |
| 17 | 1930 |
| 18 | 1932 |
| 19 | 1936 |
| 20 | 1937 |
| 21 | 1942 |

※『日本長期統計総覧』より作成

(1) 第2回総選挙では、官吏・警察によって民党候補者に対する選挙干渉がおこなわれた。この時に内務大臣を務めていた人物はだれか、答えよ。

(2) 第6回総選挙が実施された時の内閣は、日本史上初の政党内閣であった。この時に内務大臣を務めていた人物はだれか、答えよ。

(3) 第12回総選挙による第一党は立憲同志会であった。この時の立憲同志会の総裁（総理）を、次の1～5のうちから一つ選び、番号で答えよ。

- 1 桂太郎 2 加藤高明 3 西園寺公望
4 浜口雄幸 5 若槻礼次郎

(4) 第14回総選挙において採用された選挙区の制度と有権者の条件について、次の空欄【ア】～【ウ】に入る適切な語句を、それぞれ答えよ。

選挙区の制度：【ア】選挙区制

有権者の条件：直接国税【イ】円以上を納める満【ウ】歳以上の男性日本国民

(5) 次の表は、第15回総選挙による獲得議席数を示している。空欄【a】～【c】に当てはまる政党名の正しい組合せを、1～6のうちから一つ選び、番号で答えよ。

第15回総選挙（議席定数464）

| 政党名 | 獲得議席数 |
|-----------|-------|
| 【a】 | 151 |
| 【b】 | 109 |
| 立憲政友会 | 105 |
| 【c】 | 30 |
| (無所属・その他) | 69 |

※『国史大辞典』より作成

| | a | b | c |
|---|-------|-------|-------|
| 1 | 革新倶楽部 | 憲政会 | 政友本党 |
| 2 | 革新倶楽部 | 政友本党 | 憲政会 |
| 3 | 憲政会 | 政友本党 | 革新倶楽部 |
| 4 | 憲政会 | 革新倶楽部 | 政友本党 |
| 5 | 政友本党 | 革新倶楽部 | 憲政会 |
| 6 | 政友本党 | 憲政会 | 革新倶楽部 |

(6) 当時における合法的な社会主義政党（無産政党）の立候補者が初めて当選した総選挙は第何回か、答えよ。

(7) 第21回総選挙の特徴、結果及び選挙後の議会在が果たした役割について、次の言葉をすべて使って120字以内で説明せよ。

翼賛政治体制協議会

尾崎行雄

東条英機内閣

問3 次のA～Eの史料を読み、それらに関連した(1)～(15)の問いに答えよ。

史料A

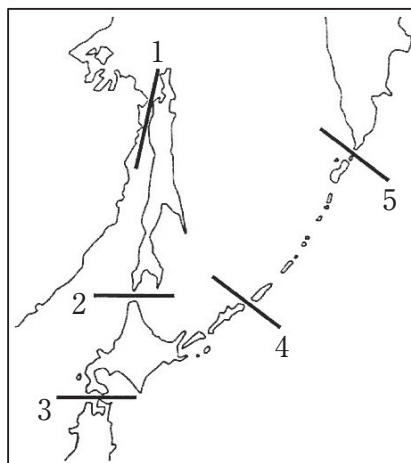
第二条 今より後、日本国と魯西亜国との境、【ア】島とウルップ島との間ニあるへし、【ア】全島ハ、日本に属し、ウルップ全島、夫より北の方クリル諸島ハ、魯西亜ニ属す、カラフト島ニ至りては、日本国と魯西亜国の間ニおゐて、界を分たす、是迄仕来之通たるへし、
(『幕末外国関係文書』)

- (1) 史料Aの空欄【ア】に入る適切な語句を、カタカナで答えよ。
- (2) 史料Aの条項を含む条約を締結したロシア全権の人物はだれか、答えよ。
- (3) 史料Aの条項を含む条約で、日本は箱館・下田の開港を認めた。日本がこの条約で認めたあと1つの開港場を答えよ。

史料B

第一款 大日本国皇帝陛下ハ其ノ後胤ニ至ル迄現今樺太島(即薩哈噠島)ノ一部ヲ所領スルノ権理及君主ニ属スル一切ノ権理ヲ全魯西亜国皇帝陛下ニ譲リ而今而後樺太全島ハ悉ク魯西亜帝国ニ属シ「ラペルーズ」海峡ヲ以テ両国ノ境界トス
第二款 全魯西亜国皇帝陛下ハ第一款ニ記セル樺太島(即薩哈噠島)ノ権理ヲ受シ代トシテ其後胤ニ至ル迄現今所領「クリル」群島即チ第一【イ】島……計十八島ノ権理及ビ君主ニ属スル一切ノ権理ヲ大日本国皇帝陛下ニ譲リ而今而後「クリル」全島ハ日本帝国ニ属シ東察加地方「ラパツカ」岬ト【イ】島ノ間ナル海峡ヲ以テ両国ノ境界トス
(『日本外交年表並主要文書』)

- (4) 史料Bの下線部の位置を、次の地図の1～5のうちから一つ選び、番号で答えよ。



- (5) 史料Bの空欄【イ】に入る適切な語句を、次の1～5のうちから一つ選び、番号で答えよ。

- 1 アライド 2 ウルップ 3 シュムシュ
- 4 チエルポイ 5 パラムシル

- (6) 史料Bの条項を含む条約を締結した日本全権の人物はだれか、答えよ。

史料C

第九条 露西亜帝国政府ハ薩哈噠島南部及其ノ附近ニ於ケル一切ノ島嶼並該地方ニ於ケル一切ノ公共営造物及財産ヲ完全ナル主権ト共ニ永遠日本帝国政府ニ譲与ス 其ノ譲与地域ノ北方境界ハ北緯【ウ】度ト定ム……
(『日本外交年表並主要文書』)

- (7) 史料Cの空欄【ウ】に入る適切な語句を、漢字で答えよ。
- (8) 史料Cの条項を含む条約が締結された時の日本全権であり、当時の外務大臣を務めていた人物はだれか、答えよ。
- (9) 史料Cの条項を含む条約の締結後、日比谷焼打ち事件が発生し、政府は緊急勅令による戒厳(以下「行政戒厳」という。)を宣告した。関東大震災でも行政戒厳が宣告されたが、日本において行政戒厳が宣告されたあと1つの事例(出来事)を答えよ。

史料D

第二条 (a)日本国は、【エ】の独立を承認して、濟州島、巨文島及び鬱陵島を含む【エ】に対するすべての権利、権原及び請求権を放棄する。
(b)日本国は、台湾及び澎湖諸島に対するすべての権利、権原及び請求権を放棄する。
(c)日本国は、千島列島並びに日本国が千九百五年九月五日の【オ】条約の結果として主権を獲得した樺太の一部及びこれに近接する諸島に対するすべての権利、権原及び請求権を放棄する。
(『日本外交主要文書・年表』)

- (10) 史料Dの空欄【エ】に入る適切な語句を答えよ。
- (11) 史料Dの空欄【オ】には、史料Cの条項を含む条約が締結された都市名が入る。【オ】に入る適切な語句を答えよ。
- (12) 史料Dの条項を含む条約が調印された時の日本全権であり、当時の内閣総理大臣を務めていた人物はだれか、答えよ。

史料E

- 1 日本国とソヴィエト社会主義共和国連邦との間の戦争状態は、この宣言が効力を生ずる日に終了し、両国の間に平和及び友好善隣関係が回復される。
- 4 ソヴィエト社会主義共和国連邦は、【カ】への加入に関する日本国の申請を支持するものとする。
- 9 ……ソヴィエト社会主義共和国連邦は、日本国の要望にこたえかつ日本国の利益を考慮して、齒舞群島及び【キ】を日本国に引き渡すことに同意する。ただし、これらの諸島は、日本国とソヴィエト社会主義共和国連邦との間の平和条約が締結された後に現実に引き渡されるものとする。
(『日本外交主要文書・年表』)

- (13) 史料Eの空欄【カ】に入る適切な語句を答えよ。
- (14) 史料Eの空欄【キ】に入る適切な語句を答えよ。
- (15) 史料Eの項目を含む宣言が調印された時の日本全権であり、当時の内閣総理大臣を務めていた人物はだれか、答えよ。

