

高等学校 公民（政治経済）

解答についての注意点

- 1 解答用紙は、マーク式解答用紙と記述式解答用紙の2種類があります。
- 2 大問 **1**～大問 **4** については、マーク式解答用紙に、大問 **5** については、記述式解答用紙に記入してください。
- 3 解答用紙が配付されたら、まずマーク式解答用紙に受験番号等を記入し、受験番号に対応する数字を、鉛筆で黒くぬりつぶしてください。
記述式解答用紙は、全ての用紙の上部に受験番号のみを記入してください。
- 4 大問 **1**～大問 **4** の解答は、選択肢のうちから、**問題で指示された解答番号**の欄にある数字のうち一つを黒くぬりつぶしてください。
例えば、「解答番号は 」と表示のある問題に対して、「**3**」と解答する場合は、解答番号 の欄に並んでいる ① ② ③ ④ ⑤ の中の ③ を黒くぬりつぶしてください。
- 5 間違ってぬりつぶしたときは、消しゴムできれいに消してください。二つ以上ぬりつぶされている場合は、その解答は無効となります。
- 6 その他、係員が注意したことをよく守ってください。

指示があるまで中をあけてはいけません。

1 日本史について、次の各問いに答えよ。

問1 次の(1)～(5)の問いに答えよ。

(1) 紀元前後から、日本のようすは中国の歴史書によって知ることができる。

次のA～Eのうち、正しいものを○、誤っているものを×とした場合、正しい組合せはどれか、次の1～5から一つ選べ。解答番号は

A 『漢書』地理志には、紀元前1世紀に、日本は倭とよばれ、100あまりの小国に分裂しており、その小国の一部が朝鮮半島の楽浪郡と定期的に通交していたことが記載されている。

B 『後漢書』東夷伝には、57年に倭の奴国の王が後漢に使者を送り、光武帝から印綬を授けられたことが記載されている。

C 『魏志』倭人伝には、卑弥呼が使者を帯方郡に派遣し、朝貢することを求めたところ、魏は卑弥呼に対し、「親魏倭王」の称号と金印紫綬・銅鏡100枚などを授けたことが記載されている。

D 『宋書』倭国伝には、日本の使者が中国に「日出処の天子書を日没する処の天子に致す」の国書を携えて行ったが、中国の皇帝の不興を買ったことが記載されている。

E 『隋書』倭国伝には、倭王武が朝貢したことなど、5人の倭王の名が記載されている。

	A	B	C	D	E
1	×	○	×	○	×
2	○	×	○	○	○
3	○	×	×	○	○
4	×	○	○	×	×
5	○	○	○	×	×

(2) 奈良時代には、仏教は国家の保護を受けてさらに発展した。

この頃の仏教の展開について次の文を読み、 に当てはまる人物名を次の1～5から一つ選べ。解答番号は

奈良時代には、鎮護国家思想が重んじられ、中央には東大寺・西大寺などの官寺が、地方にも国家的事業として国分寺・国分尼寺が造営された。仏教は豪族を通じて民衆にも広がり、 のように、道路や橋の建設など土木事業や救済施設を作るなどの社会事業を通じて民衆布教に努める者もあった。

- 1 行基
- 2 鑑真
- 3 義淵
- 4 空也
- 5 最澄

(3) 9世紀末頃から、中央政府は一定額の租税納入を国司に請け負わせることで、国司に国内支配の全権をまかせる体制へと転換していった。国司の中には、巨利を得ようとする強欲なものもあり、郡司や有力農民からしばしば暴政を訴えられた。

次の史料は、その暴政を郡司や有力農民が太政官に訴えたものである。史料中の に入る人物名を次の1～5から一つ選べ。解答番号は

- 1 良房
- 2 兼家
- 3 時平
- 4 元命
- 5 冬嗣

史料

尾張国郡司百姓等解し申し請ふ官裁の事。
裁断せられむことを請ふ、当国の守
藤原朝臣 、三箇年の内に責め取
る非法の官物并せて濫行横法三十一
箇条の 愁状

(4) 江戸時代において、大量の物資を安価に運ぶためには陸路より海上交通が適していた。

このころの物資の輸送について、次の文を読み、(A) ~ (C) に当てはまる語句・人名の組合せとして正しいものを次の 1 ~ 5 から一つ選べ。解答番号は

17世紀前半に、(A) など大型の帆船を用いて、大坂から江戸へ多様な商品を運送し始めた。17世紀後半になると、江戸の商人 (B) が出羽酒田を起点とし、江戸に至る東廻り海運・西廻り海運のルートを整備し、その途中には、各地で港町が発達した。

また、18世紀前半になると、大坂・江戸間では酒をおもな積荷とした (C) が新たに運航を始めた。

	A	B	C
1	北前船	角倉了以	菱垣廻船
2	樽廻船	河村瑞賢	北前船
3	菱垣廻船	河村瑞賢	樽廻船
4	樽廻船	角倉了以	北前船
5	菱垣廻船	三井高利	樽廻船

(5) 外国船の接近が、鎖国政策を続ける江戸幕府に大きな影響を与えることとなった。

18世紀後半から19世紀初め頃の日本とロシアの動きについて、説明した次のア~エの文を年代の古い順に並べたとき、適当なものを一つ選べ。解答番号は

ア 幕府は近藤重蔵らを択捉島に派遣し、「大日本恵登呂府」の木標を立てさせた。

イ 松前藩に対する武力闘争としてクナシリ・メナシ地方でアイヌの蜂起が起こった。

ウ ラクスマンが根室に到着し、漂流民を届けるとともに通商を求めた。

エ レザノフがロシア皇帝アレクサンドル1世の親書を携えて長崎に来航した。

- 1 イ → エ → ウ → ア
- 2 ウ → イ → エ → ア
- 3 ア → イ → エ → ウ
- 4 イ → ウ → ア → エ
- 5 ウ → ア → エ → イ

問2 次の(1)・(2)の問いに答えよ。

(1) 1872(明治5)年、群馬県に官営模範工場として、富岡製糸場が設けられた。この富岡製糸場について、調べようとしたSさんは、史料A「上州富岡製糸場之図」と富岡製糸場の工女であった和田英の記した史料B「富岡日記」を入手し、富岡製糸場についてわかったことを簡条書きにした。

この簡条書きの文(ア～エ)のうち、正しいものを○、誤っているものを×とした場合、正しい組合せはどれか、次の1～5から一つ選べ。解答番号は

史料A「上州富岡製糸場之図」



史料B「富岡日記」

私の父は信州^{まつしろ}松代の旧藩士の一人でありまして、横田数馬と申しました。明治六年頃は松代の区長を致して居りました。それで信州新聞にも出て居りました通り、信州は養蚕が最も盛んな国であるから、一区につき何人（たしか一区につき十六人）十三歳より二十五歳までの女子を富岡製糸場へ出すべしと申す県庁からの達しがありましたが、^{ひとみこくう}人身御供にでも上るように思いまして一人も応じる人はありません。父も心配致しまして、段々人民にすすめますが、何の効もありません。やはり血をとられるのあぶらをしぼられるのと大評判になりまして、中には「区長の所に丁度年頃の娘が有るに出さぬのが何よりの証拠だ」と申すようになりまして。それで父も決心致しまして、私を出すことに致しました。

私も兼ねて親類の娘が東京へメリヤスを製しますことを習いに行きました時、私も行きたいと申しましたが、私より下に四人の弟妹がありまして、中々忙しゅうありましたから許しません。残念に思って居りましたところでありましたから、大喜びで、一人でも^{よろ}宜しいから行きたいと申しました。母はその時末の弟を妊娠して居りました（後で承知致しました）。さぞ迷惑であったろうと後になりましてから思いました。しかし父がそのように申しますから何とも申しません。第一許さぬと申しはせぬかと心配致しました。祖父は大喜びで申しますには、「たとい女子たりとも、天下の御為になることなら参るが宜しい。入場致し候上は諸事心を用い、人後にならぬよう精々励みまするよう」と申されました時の私の喜びは、とても筆には尽されません。

- ア 血をとりあぶらをしぼるとのうわさから、開業当初は工女を募集しても応じるものがいなかった。
イ 和田英のように工女の多くは、強制的に集められた貧農の子女であった。
ウ 史料Aは生糸を生産する工場を表したものであるが、建物の中央に柱のない大空間があった。
エ 史料Aの建物は、木の骨組みにレンガで壁を積み上げて造る建築方法で建てられた。

	ア	イ	ウ	エ
1	○	×	○	○
2	×	×	○	○
3	○	○	×	○
4	○	○	○	×
5	×	×	×	×

(2) 下の資料は、昭和初期に起きた、ある事件に関する新聞記事（『東京朝日新聞』）である。

この記事で報道されている「当時の首相が暗殺された事件」の後、1945年8月の終戦に至るまでの期間におこった次の1～5の出来事を、年代の古い順に並べたとき、古い順から3番目に当たるものを一つ選べ。解答番号は

資料



- 1 日本とソ連との間では、満州国とモンゴル人民共和国の国境ノモンハン付近で日ソ両軍の大規模な武力衝突事件がおき、日本軍はソ連軍の戦車部隊との戦闘で多くの死者を出した。
- 2 斎藤実内閣が日満議定書を結んで満州国を承認した。議定書には「住民の意思に基づきて自由に成立し」と記されているが、満州国は関東軍の無条件駐留を認め、人事権を日本がにぎるなど、事実上日本の傀儡国家であった。
- 3 近衛文麿が首相に就任し、その近衛内閣が成立した直後に北京郊外の盧溝橋付近で日中両軍が衝突する盧溝橋事件が起きた。
- 4 近衛文麿は枢密院議長を退いて、新体制運動の先頭に立った。これは強力な大衆組織を基盤とする一大指導政党を樹立し、既成の政党政治を打破して一元的な指導のもとで全国民の戦争協力への動員をめざす革新運動であった。
- 5 北一輝の思想的影響を受けていた皇道派の一部青年将校たちが、約1400名の兵を率いて首相官邸・警視庁などを襲い、内大臣・蔵相・教育総監などを殺害し、国会を含む国政の中枢を4日間にわたって占拠した。

問3 次の年表を見て、(1)～(3)の問いに答えよ。

年	主なできごと
1989年	元号が、「平成」に改められた
1992年 … A	①国連平和維持活動等協力が成立
1993年	55年体制の崩壊
1995年	阪神・淡路大震災復興の基本方針及び組織に関する法律が成立
1997年 … B	財政構造改革の推進に関する特別措置法が成立
1999年 … C	②新ガイドライン関連法が成立
2001年	中央省庁再編
2005年	③郵政民営化法が成立
2006年 … D	④教育基本法を改正
2011年 … E	東日本大震災復興基本法が成立
2015年	⑤公職選挙法を改正
2016年	<input type="text"/> 開催

(1) 下の写真は、NHKで放映された新元号「平成」が発表された場面である。写真の人物は内閣官房長官としてこれを発表した。後には内閣総理大臣となった。この人物が内閣総理大臣在任中におこったことは、年表中の①～⑤のうちどれか、次の1～5から一つ選べ。解答番号は

著作権保護の観点により、
本作品を掲載いたしません。

出典：NHK 政治マガジン
<https://www.nhk.or.jp/politics/wp-content/uploads/2019/03/0320obuti01.jpg>

1 ① 2 ② 3 ③ 4 ④ 5 ⑤

(2) 消費者に広く公平に負担を求める間接税である消費税が3%から5%に引き上げられた年は、年表中のA～Eのうちどれか、次の1～5から一つ選べ。解答番号は

1 A 2 B 3 C 4 D 5 E

(3) 年表中の には日本で開催された国際会議が入る。この国際会議名を次の1～5から一つ選べ。解答番号は

1 APEC大阪会議 2 G8北海道洞爺湖サミット 3 G20大阪サミット
 4 G8九州・沖縄サミット 5 G7伊勢志摩サミット

2 世界の宗教に関する次の(1)～(10)の問いに答えよ。

(1) 次の1～5のうち、紀元前に成立した宗教についての記述として誤っているものを一つ選べ。

解答番号は

- 1 ガンジス川流域に進出したアーリヤ人によって、司祭者を最高の身分とするバラモン教が成立した。
- 2 ユダヤ人はバビロン捕囚の後、イエルサレムにヤハウエの神殿を再興し、ユダヤ教を確立した。
- 3 アケメネス朝のダレイオス1世が信仰したゾロアスター教では、死後の審判や救世主の到来などの教義が唱えられた。
- 4 ジャイナ教の創始者であるヴァルダマーナは、苦行と不殺生などによる輪廻転生からの解脱を説いた。
- 5 仏教の創始者であるガウタマ＝シッダールタは、ヴァルナの権威や義務をマヌ法典にまとめブッダと呼ばれるようになった。

(2) キリスト教はローマ帝国において、313年のミラノ勅令で公認された。このときのローマ皇帝を、次の1～5から一つ選べ。解答番号は

- 1 ネロ
- 2 カラカラ
- 3 デイオクレティアヌス
- 4 コンスタンティヌス
- 5 テオドシウス

(3) 日本は仏教や律令などを中国から学ぶために、遣隋使や遣唐使を派遣した。隋や唐について述べた次の文ア～オのうち、正しいものを○、誤っているものを×とした場合、正しい組合せはどれか。下の1～5から一つ選べ。解答番号は

- ア 隋の文帝は均田制や府兵制を行うとともに、学科試験による官吏の登用法を採用した。
- イ 隋の煬帝は華北と江南を結ぶ大運河を完成させ、高句麗に度々遠征した。
- ウ 隋の軍閥であった李淵が帝位につき、洛陽を都として唐を建てた。
- エ 唐は中央に三省六部の官制を設け、地方には郡国制を行った。
- オ 唐の玄宗は募兵制を採用して辺境防備のために節度使を置いたが、節度使の一人が起こした安史の乱によって唐は滅びた。

	ア	イ	ウ	エ	オ
1	×	○	×	×	○
2	○	×	○	○	×
3	×	○	○	×	○
4	×	○	×	○	×
5	○	○	×	×	×

(4) 11世紀にキリスト教徒が聖地イエルサレムを回復するために提唱された十字軍は、13世紀末まで度々起こされた。十字軍に関する次の文ア～エのできごとを年代の古い順番に左から右へ並べた場合、正しいものはどれか。下の1～5から一つ選べ。解答番号は

- ア イエルサレムを占領して、イエルサレム王国を建てた。
- イ コンスタンティノープルを占領して、ラテン帝国を建てた。
- ウ 神聖ローマ皇帝フリードリヒ2世が十字軍を起こし、スルタンとの間に休戦条約を結んだ。
- エ イギリス王リチャード1世やフランス王フィリップ2世らが十字軍に参加したが、イエルサレム攻略の目的は果たせなかった。

1	ア	→	イ	→	エ	→	ウ
2	ア	→	エ	→	イ	→	ウ
3	イ	→	ウ	→	エ	→	ア
4	ウ	→	エ	→	イ	→	ア
5	エ	→	ウ	→	ア	→	イ

(5) 西アジアを支配していたイスラーム勢力は、13世紀にモンゴル軍の侵攻を受けた。1258年にモンゴル軍のフラグによって滅ぼされたイスラーム王朝はどれか。次の1～5から一つ選べ。

解答番号は

- 1 ウマイヤ朝
- 2 アッバース朝
- 3 サファヴィー朝
- 4 カージャール朝
- 5 パフレヴィー朝

(6) ヨーロッパの宗教改革は16世紀に始まった。次の1～5のうち、宗教改革とその影響についての記述として誤っているものを一つ選べ。解答番号は

- 1 教皇が贖宥状（免罪符）を販売したことに対して、ルターは1517年に「95か条の論題」を発表して批判し、後に教皇から破門された。
- 2 カルヴァンが説いた予定説は、商工業者のあいだに広く普及した。
- 3 1545年から開かれたトリエント公会議では、教皇の至上権が再確認された。
- 4 ヘンリ8世は、離婚を認めない教皇と対立し、国王がイギリス国内の教会の首長であると宣言した。
- 5 フランスで起こったユグノー戦争は、カトリックの信者であったアンリ4世が国王となりユグノーに改宗し、同時にナントの勅令を出してカトリックに信仰の自由を認めることで終結した。

(7) イギリスで信仰の自由を求めたピューリタンの中には、北米に移住した者もいた。次の1～5のうち、北米植民地が18世紀にイギリスから独立するまでについての記述として誤っているものを一つ選べ。解答番号は

- 1 フレンチ・インディアン戦争で財政が悪化したイギリスは、北米植民地への課税を強化した。
- 2 イギリス議会が砂糖への課税を決めると、ボストン市民たちは東インド会社の船を襲った。
- 3 1775年に植民地の軍総司令官に任命されたワシントンは、後に初代大統領となった。
- 4 1776年に発表された独立宣言は、ジェファソンらが起草した。
- 5 1783年のパリ条約でイギリスは北米植民地の独立を認めた。

- (8) 15世紀から17世紀における東南アジアの港市国家について述べた次の文章を読み、(ア)～(ウ)にあてはまる語句の組合せとして正しいものを、次の1～5から一つ選べ。

解答番号は

マレー半島に生まれたマラッカ王国は、王が15世紀中ごろにスルタンの称号を用いた時からイスラーム教国として確立したと考えられ、その後ムスリム商人による海上交易拠点として発展した。しかし1511年に(ア)がマラッカを占領すると、スマトラ島西北端に栄えた(イ)王国が周辺のイスラーム教国の盟主として(ア)に対抗した。(イ)王国は16世紀中に何度もマラッカを攻撃したが攻落できなかった。その後、1641年には(ウ)が(イ)王国と連合してマラッカを占領した。

	ア	イ	ウ
1	オランダ	アチェ	イギリス
2	ポルトガル	パレンバン	イギリス
3	ポルトガル	アチェ	オランダ
4	イギリス	アチェ	オランダ
5	イギリス	パレンバン	ポルトガル

- (9) 18世紀後半から20世紀末までの東アジアでは、宗教に関係する反乱が起こった。次の文ア～エのできごとを年代の古い順番に左から右へ並べた場合、正しいものはどれか。次の1～5から一つ選べ。解答番号は

ア 朝鮮では、東学の全瑋準らを指導者とする農民たちの反乱が起こった。

イ 中国では嘉慶帝の時代に、末劫の到来と下生した弥勒仏による救済を説く運動を発端として白蓮教徒の乱が起こった。

ウ キリスト教の影響を受けた拝上帝会(上帝会)をつくった洪秀全が蜂起し、太平天国を建てた。

エ 中国でキリスト教会への襲撃をくりかえしていた義和団が、北京の外国公使館区域を包囲した。

- | | | | | | | | |
|---|---|---|---|---|---|---|---|
| 1 | イ | → | ウ | → | エ | → | ア |
| 2 | イ | → | ウ | → | ア | → | エ |
| 3 | エ | → | イ | → | ウ | → | ア |
| 4 | ア | → | イ | → | ウ | → | エ |
| 5 | ウ | → | イ | → | ア | → | エ |

(10) 20世紀のパレスティナで起こったできごとに関連した次の文ア～オのうち、正しいものを○、誤っているものを×とした場合、正しい組合せはどれか。下の1～5から一つ選べ。

解答番号は

ア 1915年、イギリスはサイクス・ピコ協定によってアラブ人にオスマン帝国からの独立を約束した。

イ 1917年、イギリスはバルフォア宣言によってパレスティナのユダヤ人国家建設を支持した。

ウ ユダヤ人がイスラエルの建国を宣言したことをきっかけに起こった戦争は第1次中東戦争と呼ばれ、アラブ側が敗北した。

エ 第4次中東戦争後の1979年、イランのサダト大統領がイスラエルの正統性を認めた。

オ 1993年、アメリカ大統領の仲介により、イスラエルとPLOの相互承認とパレスティナ人の暫定自治政府の樹立についての合意がなされた。

	ア	イ	ウ	エ	オ
1	○	×	○	×	○
2	○	×	×	○	○
3	×	○	○	×	○
4	×	○	×	○	×
5	○	○	×	×	×

3 地理に関する次の(1)～(10)の問いに答えよ。

(1) 下のA～Cのグラフは、日本のある都市の月別気温と月別降水量を示したものである。次の1～5のうち、瀬戸内気候の説明として正しいものはどれか。1～5から一つ選べ。

解答番号は

著作権保護の観点により、本作品を掲載いたしません。

出典：『日本国勢図会』2019/2020版
公益財団法人 矢野恒太記念会
33ページ

(『日本国勢図会』2019/20年版により作成)

- 1 Aの気候は、季節風の影響で季節によっては雨が多い時や、乾燥して晴れの日も多い。
- 2 Bの気候は、夏は晴天が多く、気温も高くなる。冬は湿気を含む季節風により、降水量が多くなる。
- 3 Bの気候は、夏は降水量が多い。冬は季節風が山脈を吹き超えて乾燥し、降水量が少ない。
- 4 Cの気候は、年間を通じて降水量が少なく、明瞭な梅雨の現象も見られない。
- 5 Cの気候は、山地が季節風をさえぎり、通年で晴れる日が多く降水量が少ない。

(2) 下の表1は、都道府県別に2015(平成27)年の人口密度、工業出荷額、小売業販売額を多い順に示したものである。表1中のA～Eは愛知・大阪・神奈川・千葉・兵庫のいずれかである。愛知に該当するものはどれか。1～5から一つ選べ。解答番号は

表 1

人口密度	東京 20.0%	A 15.0%	B 12.2%	埼玉 6.2%	C 4.6%	D 3.9%	福岡 3.3%	E 2.1%	沖縄 2.0%
工業出荷額	C 14.7%	B 5.6%	A 5.4%	静岡 5.2%	E 4.9%	埼玉 4.1%	D 4.0%	茨城 3.8%	三重 3.5%
小売業販売額	東京 13.8%	A 7.1%	B 6.4%	C 6.1%	埼玉 5.0%	北海道 4.6%	D 4.4%	福岡 4.1%	E 4.0%

(『日本国勢図会』2017/18年版、2018/19年版により作成)

- 1 A 2 B 3 C 4 D 5 E

(3) 次の1～5は、経済産業省が認めている日本の伝統工芸品の一部である。関東地方の伝統工芸品として誤っているものはどれか。1～5から一つ選べ。解答番号は

1

著作権保護の観点により、
本作品を掲載いたしません。

出典：伝統工芸 青山スクエア HP
<https://kougeihin.jp/craft/0610/>

品目名：箱根寄木細工

2

著作権保護の観点により、
本作品を掲載いたしません。

出典：伝統工芸 青山スクエア HP
https://kougeihin.jp/assets/cache/images/resized_p1414411_w154_h116.jpg

品目名：江戸切子

3

著作権保護の観点により、
本作品を掲載いたしません。

出典：伝統工芸 青山スクエア HP
<https://kougeihin.jp/craft/1402/>

品目名：房州うちわ

4

著作権保護の観点により、
本作品を掲載いたしません。

出典：伝統工芸 青山スクエア HP
からのリンク 木竹工芸品産地一覧
<https://www.pinterest.jp/pin/335447872222138491/>

品目名：都城大弓

5

著作権保護の観点により、
本作品を掲載いたしません。

出典：伝統工芸 青山スクエア HP
https://www.kanto.meti.go.jp/seisaku/creative/20191120dentou_kougeihin_shitei.html
※「行田足袋」の写真

品目名：行田足袋

(経済産業省の資料により作成)

(4) 下の表2は、1960（昭和35）年、2000（平成12）年、2017（平成29）年それぞれにおける日本の主要な農産物の食料自給率と、2017年における日本の主要な農産物の輸入額が多い上位3か国の割合を示したものである。品目A～Dの正しい組合せはどれか。1～5から一つ選べ。

解答番号は

表 2

品目	日本の自給率（%）			2017年の日本の輸入額に占める割合（%）		
	1960年	2000年	2017年	1位	2位	3位
A	28	5	7	アメリカ合衆国 71.6	ブラジル 13.8	カナダ 13.0
B	39	11	14	アメリカ合衆国 50.4	カナダ 30.7	オーストラリア 17.5
C	100	44	39	アメリカ合衆国 21.8	フィリピン 18.8	中国 15.2
D	91	52	52	アメリカ合衆国 27.6	タイ 14.3	オーストラリア 14.0

（『日本国勢図会』2018／19年版、2019／20年版により作成）

	A	B	C	D
1	小麦	大豆	果実	肉類
2	果実	小麦	肉類	大豆
3	大豆	小麦	肉類	果実
4	肉類	大豆	果実	小麦
5	大豆	小麦	果実	肉類

(5) 下の図1は南極点、図2は北極点の正方位図である。図1と図2それぞれにおいて、中心から見て日本が位置する方向を示した正しい組合せはどれか。1～5から一つ選べ。

解答番号は

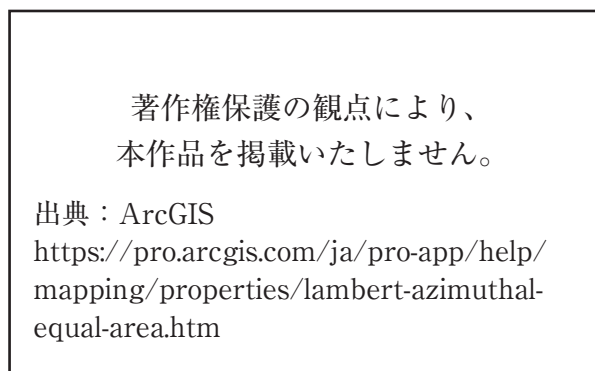


図 1

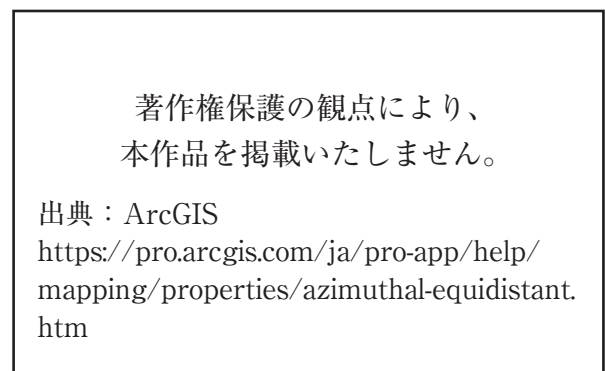


図 2

- 1 AとE 2 BとF 3 CとD 4 AとD 5 CとE

(6) 次の1～5は、世界遺産をそれぞれ示したものである。その世界遺産の位置する緯度が、日本の位置する緯度の範囲に含まれるものとして正しいものはどれか。1～5から一つ選べ。

解答番号は

1

著作権保護の観点により、
本作品を掲載いたしません。

出典：UNESCO HP
<https://whc.unesco.org/en/list/252>

タージ・マハル

2

著作権保護の観点により、
本作品を掲載いたしません。

出典：UNESCO HP
https://whc.unesco.org/uploads/thumbs/site_0031_0025-500-310-20151207171908.jpg

アウシュヴィッツ・ビルケナウ ナチス
ドイツの強制絶滅収容所 (1940-1945)

3

著作権保護の観点により、
本作品を掲載いたしません。

出典：UNESCO HP
https://whc.unesco.org/uploads/thumbs/site_0292_0029-500-436-20151105100703.jpg

ケルン大聖堂

4

著作権保護の観点により、
本作品を掲載いたしません。

出典：UNESCO HP
https://whc.unesco.org/uploads/thumbs/site_0080_0050-500-332-20151104130651.jpg

モンサンミッシェルとその湾

5

著作権保護の観点により、
本作品を掲載いたしません。

出典：ACCU 奈良事務所 HP
<http://www.nara.accu.or.jp/news/heritage/heritage/angkor/1.jpg>

アンコール

(国際連合教育科学文化機関 (ユネスコ) の資料により作成)

(7) 次の1～5は、2016年におけるイギリス・インド・サウジアラビア・スイス・中国の5か国の輸出額と輸入額に占める上位4品目の割合をそれぞれ示したものである。インドに該当するものはどれか。1～5から一つ選べ。解答番号は

1

輸出	%	輸入	%
金(非貨幣用)	27.0	金(非貨幣用)	31.6
医薬品	23.6	機械類	11.5
機械類	11.4	医薬品	9.7
精密機械	9.4	自動車	5.3

2

輸出	%	輸入	%
石油製品	10.5	機械類	19.2
ダイヤモンド	9.2	原油	17.1
機械類	8.7	金(非貨幣用)	6.4
衣類	6.9	ダイヤモンド	5.3

3

輸出	%	輸入	%
原油	65.6	機械類	24.7
石油製品	11.4	自動車	13.7
プラスチック	6.8	鉄鋼	4.2
有機化合物	3.7	医薬品	3.8

4

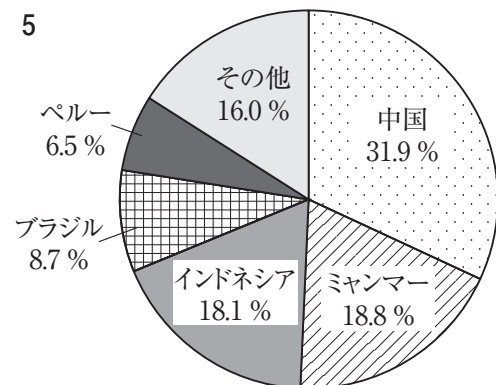
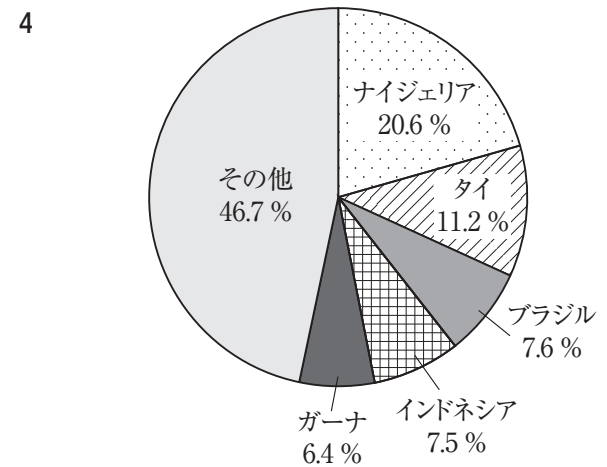
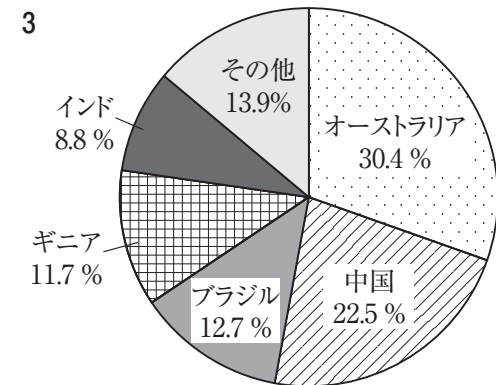
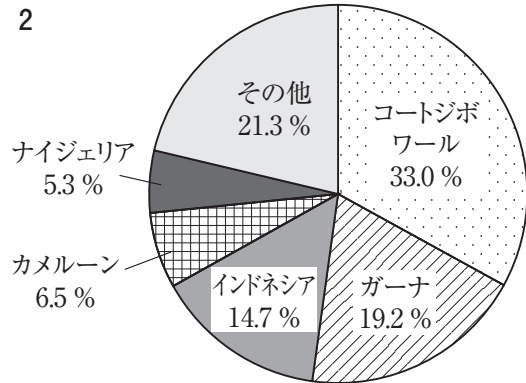
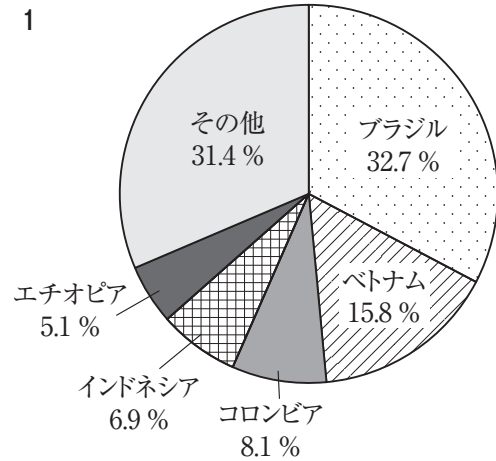
輸出	%	輸入	%
機械類	42.6	機械類	35.3
衣類	7.5	原油	7.3
繊維品	5.0	精密機械	5.5
金属製品	3.7	自動車	4.5

5

輸出	%	輸入	%
機械類	21.4	機械類	20.8
自動車	12.1	自動車	11.5
医薬品	8.1	金(非貨幣用)	9.2
航空機	5.0	医薬品	5.3

(『世界国勢図会』2018/19年版により作成)

(8) 次の1～5は、身近な製品の原材料となるカカオ豆、キャッサバ、コーヒー豆、すず鉱、ボーキサイトの2016年におけるそれぞれの原材料の総生産量に占める各国の生産量の割合のうち、生産量の割合の多い上位5か国を示したものである。キャッサバに該当するものはどれか。1～5から一つ選べ。解答番号は



(『世界国勢図会』2018/19年版、2019/20年版により作成)

(9) 下の図3は、アメリカ合衆国の行政区分を示したものである。図3中のA～Dで示す州の位置として正しいものを○、誤っているものを×とした場合、正しい組合せはどれか。1～5から一つ選べ。解答番号は

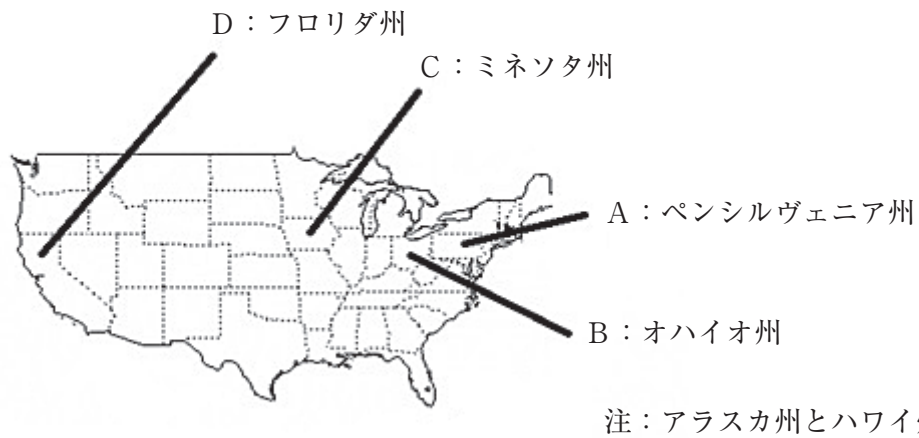


図 3

	A	B	C	D
1	○	×	○	○
2	○	○	×	×
3	×	×	×	○
4	×	○	×	×
5	×	○	○	×

(10) 下の表3は、2016年における金、銀、銅の生産が多い上位3か国の割合を示したものである。
 表3中のAに該当する国の国土の形と首都名はどれか。1～5から一つ選べ。解答番号は

表 3

金	A 14.5%	オーストラリア 9.3%	ロシア 8.1%
銀	メキシコ 21.4%	ペルー 15.3%	A 12.3%
銅	チリ 30.2%	A 9.0%	ペルー 8.9%

(『世界国勢図会』2019/20年版により作成)

1



首都：ペキン(北京)

2



首都：ニューデリー

3



首都：オタワ

4



首都：プレトリア

5



首都：ブラジリア

注：国土の大きさについて、縮尺は共通ではない。

4 次の(1)、(2)の問いに答えよ。

(1) 次の文章は、2020(令和2)年3月31日に閣議決定された『消費者基本計画』の一部である。この文章を読み、下のア～オの問いに答えよ。

1990年代以降は規制緩和の流れを背景に自己責任や市場機能の発揮がうたわれ、^A消費者の利益の保護の在り方が問われるようになった。製造物に起因する事故による被害者の保護のために欠陥責任の考え方による製造物責任を定めた【A】(平成6年法律第85号)が制定されるなど制度整備が進む一方で、1990年代後半以降^Bインターネットが急速に普及するなど、情報化社会の進展に関係する新たな消費者問題が発生・増加した。さらにBSE(牛海綿状脳症：Bovine Spongiform Encephalopathy)問題等を背景として食品の安全性に関する問題が消費者に意識されるようになった。これらの問題に対応するため、消費者契約法(平成12年法律第61号)、特定電子メールの送信の適正化等に関する法律(平成14年法律第26号)、食品安全基本法(平成15年法律第48号)及び個人情報保護に関する法律(平成15年法律第57号。以下「個人情報保護法」という。)が制定されている。

こうした^C消費者を取り巻く社会情勢の大きな変化やこれに対応した立法動向を踏まえ、消費者政策の在り方を^D現代の経済社会にふさわしいものとすべく、2004年には消費者保護基本法が【B】へと改正された。この法律では消費者の位置付けを「保護される者」から「自立した主体」へと転換し、「【C】」と「消費者の自立の支援」を消費者政策の基本とする。

ア 下線部Aに関連して、消費者団体訴訟制度の説明として、誤っているものを1～5から一つ選べ。
解答番号は

- 1 事業者の不当な行為に対して、適格消費者団体が差止めを求めることができる。
- 2 不当な事業者に対して、特定適格消費者団体が被害の回復を求めることができる。
- 3 消費者の被害の回復のためには、特定適格消費者団体に対して、消費者が一定の裁判費用や報酬を支払う必要がある。
- 4 総務大臣が認定した消費者団体が、消費者に代わって事業者に対して訴訟をすることができる。
- 5 適格消費者団体や特定適格消費者団体の活動を支援するために、消費者スマイル基金がある。

イ 下線部Bに関連して、日本の情報社会に関する説明として、正しいものを1～5から一つ選べ。
解答番号は

- 1 特定通信による情報の流通により自己の権利を侵害された人は、「個人情報保護に関する法律」に基づいて、関係するプロバイダ等に対し、発信者の情報の開示を請求することができる。
- 2 携帯電話事業者は、携帯電話インターネット接続サービスの使用者が18歳未満である場合には、原則としてフィルタリングサービスを提供する義務が課せられている。
- 3 情報公開制度において、開示請求をすることができるのは、行政機関の職員が保有する文書であり、図画や電子データは開示請求の対象にならない。
- 4 サイバーセキュリティ基本法は、情報機器やサービスにアクセスする際に使用するIDやパスワード等を不正に取得したり、情報機器やサービスに対して、不正に利用できる状態にしたりする行為を禁止している。
- 5 第4期科学技術基本計画において、我が国が目指すべき未来社会の姿として提唱された情報社会(Society4.0)とは、サイバー空間とフィジカル空間を高度に融合させたシステムにより、経済発展と社会的課題の解決を両立する、人間中心の社会のことである。

ウ 下線部Cに関連して、消費者を取り巻く社会情勢や立法の動向の説明として、正しいものを1～5から一つ選べ。解答番号は

- 1 薬害肝炎訴訟では、全国原告団及び弁護士と厚生労働大臣との間で和解協議が行われたが、現在も全国原告団及び弁護士と厚生労働大臣との間で基本合意には至っていない。
- 2 特定商取引法に基づくクーリング・オフ制度は、通信販売にも適用される。
- 3 日本では、2009（平成21）年、消費者行政を一元化するために消費者庁が設置されるとともに、消費者行政全般に対して意見表明を行う消費者委員会が設置された。
- 4 1962年、アメリカのニクソン大統領が、消費者には4つの権利があると宣言した。
- 5 食品ロスの削減を総合的に推進することを目的とした、食品ロスの削減の推進に関する法律（食品ロス削減推進法）が制定されたが、食品ロスの削減に関し、国、地方公共団体等の責務は明らかにされなかった。

エ 下線部Dに関連して、1990年以降の国際経済の動向の説明として、誤っているものを1～5から一つ選べ。解答番号は

- 1 2008年、アメリカ大手投資銀行リーマン・ブラザーズの破産申請により、国際金融資本市場の緊張は一気に高まり、世界的な金融危機となった。
- 2 2015年、第21回国連気候変動枠組条約締約国会議（C O P 21）において、2020年以降の温室効果ガス排出削減等のための新たな国際枠組みであるパリ協定が採択された。
- 3 1999年、単一通貨「ユーロ」が導入され、導入当初は現金を伴わない決済通貨であったが、2002年にユーロの紙幣と硬貨の流通が始まった。
- 4 1994年、カナダ・アメリカの2国間で、商品・サービスの貿易障壁を撤廃することを目的に、北米自由貿易協定が発効した。
- 5 G20サミット開催にあたり、現議長国、前議長国並びに次期議長国が協力するトロイカ体制がとられるようになり、2011年のカンヌ・サミットから公式化された。

オ 文章中の【A】～【C】に該当する、語句の組合せとして正しいものを1～5から一つ選べ。解答番号は

- | | | | |
|---|--------------|----------|-------------|
| 1 | A 製造物責任法 | B 消費者安全法 | C 消費者の権利の尊重 |
| 2 | A 消費生活用製品安全法 | B 消費者基本法 | C 消費者の被害の防止 |
| 3 | A 製造物責任法 | B 消費者安全法 | C 消費者の被害の防止 |
| 4 | A 消費生活用製品安全法 | B 消費者基本法 | C 消費者の権利の尊重 |
| 5 | A 製造物責任法 | B 消費者基本法 | C 消費者の権利の尊重 |

(2) 次の文章は、「幼稚園、小学校、中学校、高等学校及び特別支援学校の学習指導要領等の改善及び必要な方策等について（答申）」（平成28年12月21日 中央教育審議会）の一部である。この文章を読み、下のア～ウの問いに答えよ。

A 高等学校段階の生徒は、自分の人生をどう生きればよいか、B 生きることの意味は何かということについて思い悩む時期であり、自分自身や自己と他者との関係、さらには、広く国家や社会について関心を持ち、C 人間や社会の在るべき姿について考えを深める時期でもある。

ア 下線部Aに関連して、次の①～③の問いに答えよ。

① 青年期に関する記述として誤っているものを1～5から一つ選べ。解答番号は

- 1 オールポート（G.W.Allport）は、年齢的には大人でも、心理的に少年のままの、大人へ成長することを拒む男性のことを永遠の少年であるピーターパンに例えて、「ピーターパン＝シンドローム」と名づけた。
- 2 小此木啓吾は、いつまでも自我同一性を確立させず、猶予期間にとどまり続ける同一性の拡散状態を呈する青年を「モラトリアム人間」と名づけた。
- 3 レヴィン（K.Lewin）は、青年期は、子どもと大人の間期の時期であり、その両面の心理的特性をもつことから、青年を「マージナルマン」と名づけた。
- 4 ホリングワース（L.S.Hollingworth）は、青年期について、親の管理下から離れ、自らの意思で自己決定する心理的離乳の時期であると唱えた。
- 5 ルソー（J.J.Rousseau）は、『エミール』において、青年期における精神的な自己のめざめを「第二の誕生」という言葉で例えた。

- ② 下の図は、『青年の精神病理 1』（1976年、笠原嘉ほか）における、青年期の延長とその区分（数字は年齢を示す）を示したものである。下の図から読み取れること、および青年期の成立にかかわることがらについて述べた次の a～c のうち、正しいもののみをすべて挙げているものはどれか。1～5 から一つ選べ。解答番号は

著作権保護の観点により、本作品を掲載いたしません。

出典：青年の精神病理 1

笠原嘉 他著 株式会社 弘文堂

6 ページ 図1 青年期の延長とその区分

- a 中世のヨーロッパにおいて青年期は存在せず、フランスの歴史学者アリエス（P. Ariès）は、中世のヨーロッパでは子どもは7歳頃になると「小さな大人」として扱われたと指摘した。
- b 青年期の成立は、産業化、都市化、教育の普及など近代化の過程と深い結びつきがあり、近代を通じて青年期は、教育制度を法的に整備することなどを通して保障されるようになった。
- c 1950年代半ば以降の高度産業社会化は青年期を引き延ばし、現在では青年期と成人期との境界がなくなった。

- 1 a
2 b
3 a と b
4 b と c
5 a と b と c

- ③ 青年期の発達課題や人格形成に関する記述として誤っているものを1～5 から一つ選べ。

解答番号は

- 1 シュプラングァー（E. Spranger）は、人生はその人が追求する価値によって方向づけられると考え、理論型、経済型、審美型、社会型、権力型、宗教型の六つの類型に分類した。
- 2 クレッチマー（E. Kretschmer）は、リビドーと呼ばれる心的エネルギーが外界と内面のどちらに向かいやすいかによって性格を外向型と内向型の二つの類型に分類した。
- 3 エリクソン（E. H. Erikson）は、青年期の発達課題は「自分とは何か」に答えて自分のアイデンティティを確立することであると唱えた。
- 4 ハヴィガースト（R. J. Havighurst）は、青年期の発達課題として「社会的に責任ある行動を求め、成し遂げる」「親からの心理的な独立」などを唱えた。
- 5 マズロー（A. H. Maslow）は、自己実現の欲求を人間の最高の欲求として位置づけ、その下には順に、尊重の欲求、所属と愛情の欲求、安全の欲求、生理的欲求があるとした。

イ 下線部Bに関連して、人間を生きる意味を求める精神的な存在としてとらえ、人生への態度や行動を分析して生きる意味を解明する実存分析を主張したオーストリアの精神医学者は誰か。

1～5から一つ選べ。解答番号は

- 1 フロム (E. Fromm)
- 2 ユング (C. G. Jung)
- 3 フロイト (S. Freud)
- 4 リースマン (D. Riesman)
- 5 フランクフル (V. E. Frankl)

ウ 下線部Cに関連して、社会の在り方や人間としての在り方生き方に関する倫理観についての記述として誤っているものを1～5から一つ選べ。解答番号は

- 1 ミル (J. S. Mill) は、他者危害原則を強調し、自由で寛容な社会で確保される個性や自発性が個人の幸福にとって不可欠な要素であると訴えるとともに、諸個人の自由を軽視することは社会発展を損ねると主張した。
- 2 ロールズ (J. B. Rawls) は、社会の成員に平等な機会を与えたうえでの公正な競争の結果生じた不平等にとどめるとする「公正な機会均等の原理」と、社会の中で最も不遇な生活を強いられている人々の境遇を改善する「格差の原理」を唱えた。
- 3 アリストテレス (Aristoteles) は、事物は事物に内在する本質であるヒュレーと素材となるエイダスとの合成体であり、事物にはすべて固有の目的因が存在し、政治の目的因は国民の美徳の涵養であると考えた。
- 4 カント (I. Kant) は、自律の能力をもつ、理性ある存在を人格と呼び、人格を絶対的価値をもつものとしてとらえ、各人が互いの人格を目的として尊重しあうことによって結びつく社会を目的の国と呼び、理想の社会と考えた。
- 5 ベンサム (J. Bentham) は、社会は諸個人の総和であるから、諸個人の幸福の総計が社会全体の幸福になるとし、最大多数者の最大幸福が立法や行政などの社会の指導理念になると考えた。

5 現代社会の諸課題に関する、次の(1)～(3)の問いに答えよ。

(1) 日本国憲法第四章「国会」、第五章「内閣」及び第六章「司法」に関する、次のア～エの問いに答えよ。

ア 次の各文は、日本国憲法の条文またはその一部である。空欄〔あ〕～〔か〕に入る適切な語句を漢字で記せ。

第五十四条 衆議院が解散されたときは、参議院は、同時に閉会となる。但し、内閣は、国に緊急の必要があるときは、参議院の〔あ〕を求めることができる。

第六十二条 両議院は、各々〔い〕に関する調査を行ひ、これに関して、証人の出頭及び証言並びに記録の提出を要求することができる。

第六十九条 内閣は、衆議院で不信任の決議案を可決し、又は信任の決議案を否決したときは、〔う〕日以内に衆議院が解散されない限り、〔え〕をしなければならない。

第七十七条 検察官は、〔お〕の定める規則に従はなければならない。

第八十一条 最高裁判所は、一切の法律、命令、規則又は処分が憲法に適合するかしないかを決定する権限を有する〔か〕である。

イ 国会に関連して、次の文章は国会法第五十一条の一部である。〔A〕に当てはまる適切な語句を漢字3文字で記せ。

委員会は、一般的関心及び目的を有する重要な案件について、〔A〕を開き、真に利害関係を有する者又は学識経験者等から意見を聴くことができる。

ウ 日本の選挙に関連して、次のa～fの文章のうち、正しい文章をすべて選び、記号で答えよ。

- a 裁判官及び検察官、警察官は、在職中、選挙運動を行うことは認められていない。
- b 選挙運動期間中、立候補者はインターネット等を利用する方法のうち、電子メールを除くウェブサイト等を利用する方法により、選挙運動を行うことができる。
- c 現在の衆議院議員の定数は475人で、そのうち295人が小選挙区選出で選出され、180人が全国を11ブロックに分けて行われる比例代表選挙で選出される。
- d 平成30年に公職選挙法が改正され、参議院比例代表選出議員の定数を増加させるとともに、特定枠制度が導入された。
- e 現在の在外投票制度は、衆議院議員選挙及び参議院議員選挙における比例代表選挙で投票できる制度である。
- f 選挙の有無に関わらず、政治家が選挙区内の人に寄附を行うことは、特定の場合を除いて一切禁止されているが、政治家の後援団体であれば寄附は認められる。

エ 日本の司法に関連して、次の①、②の問いに答えよ。

① 裁判官弾劾裁判所とはどのような裁判所か。以下の語句を用いて説明せよ。

「裁判官としての職務上の義務」「裁判官としての威信」「国会議員」

② 裁判員制度では、法廷で審理が始める前に、裁判官、検察官、弁護人の三者で、事件の争点及び証拠を整理し、明確な審理計画を立てるための手続を行う。この手続を何というか、記せ。

(2) 次の文章は、『平成24年版厚生労働白書』の一部である。この文章を読み、下のア～エの問いに答えよ。

第二次世界大戦後の日本では、右肩上がりの経済成長と低失業率、それにより形成された正規雇用・終身雇用の男性労働者の夫と専業主婦の妻と子どもという核家族モデル、A企業の福利厚生の実施、地域社会とのつながりが残っているという社会構造を前提に社会保障が構築されてきた。

国民生活を保障する枠組みを社会保障と雇用の観点から捉えると、安定的な雇用の維持によって人々（特に現役世代）の生活が支えられていたため、B社会保障への支出規模（OECDの定義する社会支出の対GDP比）は他の先進諸国に比べて小さく、また、C少子化対策が進展せず、家族給付が少なかった結果、その支出の多くは企業等を退職した高齢者のための医療、D介護や年金に向けられていたといえる。

ア 下線部Aに関連して、企業の社会貢献活動の一つで、企業が教育・医療・福祉・環境保護などのために奉仕活動を実施したり、そのような活動を行っている団体や個人に対して寄付したりする活動を何というか。カタカナ8文字で記せ。

イ 下線部Bに関連して、次の表は日本の一般会計歳出の主要経費別割合の推移（会計年度）を表したものである。次の①、②の問いに答えよ。

著作権保護の観点により、本作品を掲載いたしません。

出典：日本国勢図会2020/21年版

公益財団法人 矢野恒太記念会

355ページ

図28-2 一般会計歳出の主要経費別割合の推移（会計年度）

（『日本国勢図会2020/21』により作成
財務省ホームページにより作成）

① 表中の（A）・（B）に当てはまる適切な語をそれぞれ記せ。

② 税収・税外収入と、国債費を除く歳出との収支のことを表し、その時点で必要とされる政策的経費を、その時点の税収等でどれだけまかなえているのかを示す指標を何というか、記せ。

ウ 下線部Cに関連して、1985（昭和60）年に制定され、2016（平成28）年の改正により、上司・同僚が職場において、妊娠・出産・育児休業・介護休業等を理由として就業環境を害する行為をすることがないように事業主に対して防止措置を講じることを義務付けた法律を何というか、漢字9文字で記せ。

エ 下線部Dに関連して、介護保険制度における第1号被保険者と第2号被保険者の違いについて、以下の語句を用いて説明せよ。

「65歳以上」「40歳から64歳までの医療保険加入者」「要介護または要支援認定」


(3) 高等学校学習指導要領（平成30年告示）において、倫理は「現代に生きる自己の課題と人間としての在り方生き方」「現代の諸課題と倫理」の二つの大項目により構成される。

次のア～ウの問いに答えよ。

ア 「現代に生きる自己の課題と人間としての在り方生き方」は「人間としての在り方生き方の自覚」「国際社会に生きる日本人としての自覚」の二つの中項目により構成される。「人間としての在り方生き方の自覚」に関して、次の文を読み、あとの問いに答えよ。

17世紀のヨーロッパでは、新しい学問の方法を探求する人々が現れた。イギリスのベーコンは、学問の目的は_A自然を支配して人類の生活を改善するために役立てることにあると考え、新しい学問の方法として、_i帰納法が最も有効であるとみなした。一方、フランスのデカルトは、_B確実な真理に到達するために、すべてを疑うという方法を取り、その結果、「疑っている私」は疑いえないものであり、「cogito, ergo sum」こそ確実な真理であるとした。そこから出発し、真理を追究する方法は_{ii}演繹法と呼ばれる。

① 下線部Aについて、自然を支配するには、自然現象を綿密に観察して、自然法則をつかむ必要があり、その際、人間が陥りやすい四つのイドラを除去する必要があるとベーコンは指摘している。右図は、中心の黒い円は同じ大きさであるが、左と右で中心の黒い円の大きさが異なっているように見える図である。このような錯覚は、ベーコンが指摘した四つのイドラのうち、どれに当たるか。



② 下線部Bについて、このようなデカルトの真理探究の方法は何と呼ばれているか。漢字5文字で記せ。

③ 二重下線部 i、ii について、次の a～c を演繹法と帰納法とに分けた場合の組合せとして正しいものはどれか。あとの 1～5 から一つ選び、記号で答えよ。

- a 三角形の内角の和は180度である。したがって、四角形の内角の和は360度であり、五角形の内角の和は540度である。
- b スズメには羽がある。ハトには羽がある。カラスには羽がある。したがって、鳥には羽がある。
- c 猫は動物である。私が飼っているタマは猫である。したがって、タマは動物である。

	演繹法	帰納法
1	a	b、c
2	b	a、c
3	c	a、b
4	a、c	b
5	b、c	a

イ 「国際社会に生きる日本人としての自覚」に関して、外来思想の受容と近世日本の思想の発展について述べた文として正しいものを、次の a～e からすべて選び、記号で答えよ。

- a 藤原惺窩に入門した林羅山は、仏教の出世間性を批判して、現実社会の実用に役立つ朱子学に傾倒し、『春鑑抄』『三徳抄』などを著して朱子学の普及に努めた。
- b 南学の系統から出た山崎闇斎は、朱子における儒学の再構成のあり方を追体験的に追及し、朱子の学問的真意を追求する立場から朱子学を道学として再構成した。
- c 中江藤樹は、主著『集義和書』を著し、規範を厳格に守ることを主眼とした学風から、形式よりも人間主体としての心のあり方そのものに関心を向けた学問に変わっていき、陽明学に転向した。
- d 伊藤仁斎は、朱子学への懐疑から、『論語』『孟子』などの古典の研究に専心し、『論語』『孟子』の逐条の注解を作り、古文辞学と呼ばれる独自の儒学思想を確立した。
- e 荻生徂徠は、古典を古典の著された時代の文法と字義に即して読むためには、先秦の文献を広く読み、時代の言語感覚を体得する必要があると、朱子や伊藤仁斎の古典解釈は後世の歪みをもつと考えた。

ウ 「現代の諸課題と倫理」に関して、オリент世界の多様性を無視した、無知や誤解にもとづく一面的な理解が西洋文化の優位の考えを生み、西洋によるオリент世界に対する植民地支配を正当化する役割を果たしたと主張した人物で、主著『オリエンタリズム』を著した、パレスチナ出身の思想家の名前を記せ。

