

学 年

5年

割合①

年 組 氏名

1 小数で表した割合を百分率と歩合で表しましょう。

また、それぞれの問題の下にかかれた数直線に色をぬって、だいたいどれぐらいかを表しましょう。足りないときは、数直線をかき加えてもかまいません。

(例) 0.1 百分率 (10%) 歩合 (1割)



(1) 0.05 百分率 () 歩合 ()



(2) 0.63 百分率 () 歩合 ()



(3) 0.8 百分率 () 歩合 ()



(4) 0.701 百分率 () 歩合 ()



(5) 1.29 百分率 () 歩合 ()



学 年

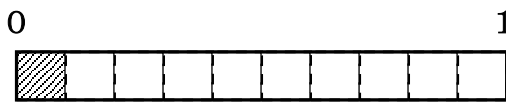
5 年

割合①

年 組 氏名

- 1 小数で表した割合を百分率と歩合で表しましょう。
また、それぞれの問題の下にかかれた数直線に色をぬって、だいたいどれぐらいかを表しましょう。足りないときは、数直線をかき加えてもかまいません。

(例) 0.1 百分率 (10%) 歩合 (1割)



(1) 0.05 百分率 (5%) 歩合 (5分)



(2) 0.63 百分率 (63%) 歩合 (6割3分)



(3) 0.8 百分率 (80%) 歩合 (8割)



(4) 0.701 百分率 (70.1%) 歩合 (7割1厘)



(5) 1.29 百分率 (129%) 歩合 (12割9分)



学 年
5 年

割合②

年 組 氏名

- 1 百分率で表した割合を、小数と歩合で表しましょう。
また、それぞれの問題の下にかかれた数直線に色をぬって、だいたいどれぐらいかを表しましょう。足りないときは、数直線をかき加えてもかまいません。

(例) 20% 割合 (0.2) 歩合 (2割)



(1) 3% 割合 () 歩合 ()



(2) 37% 割合 () 歩合 ()



(3) 90% 割合 () 歩合 ()



(4) 0.4% 割合 () 歩合 ()



(5) 150% 割合 () 歩合 ()



学 年	割合②
5年	

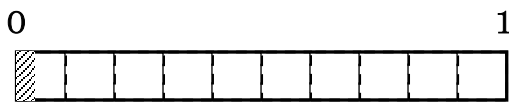
年 組 氏名 _____

- 1 百分率で表した割合を、小数と歩合で表しましょう。
 また、それぞれの問題の下にかかれた数直線に色をぬって、だいたいどれぐらいかを表しましょう。足りないときは、数直線をかき加えてもかまいません。

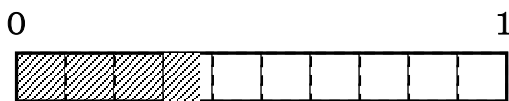
(例) 20% 割合 (0.2) 歩合 (2割)



(1) 3% 割合 (0.03) 歩合 (3分)



(2) 37% 割合 (0.37) 歩合 (3割7分)



(3) 90% 割合 (0.9) 歩合 (9割)



(4) 0.4% 割合 (0.004) 歩合 (4厘)

ほとんど、
見えない
ね。



(5) 150% 割合 (1.5) 歩合 (15割)



学 年

5年

割合③

年 組 氏名

1 歩合で表した割合を、小数と百分率で表しましょう。

また、それぞれの問題の下にかかれた数直線に色をぬって、だいたいどれぐらいかを表しましょう。足りないときは、数直線をかき加えてもかまいません。

(例) 3割 割合 (0.3) 百分率 (30%)



(1) 8割 割合 () 百分率 ()



(2) 4割6分6厘 割合 () 百分率 ()



(3) 2割1厘 割合 () 百分率 ()



(4) 17割 割合 () 百分率 ()



(5) 5分9厘 割合 () 百分率 ()



学 年

5 年

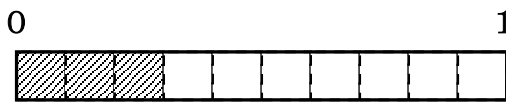
割合③

年 組 氏名

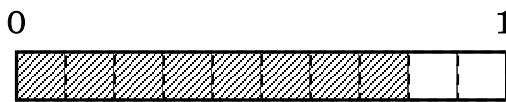
1 歩合で表した割合を、小数と百分率で表しましょう。

また、それぞれの問題の下にかかれた数直線に色をぬって、だいたいどれぐらいかを表しましょう。足りないときは、数直線をかき加えてもかまいません。

(例) 3割 割合 (0.3) 百分率 (30%)



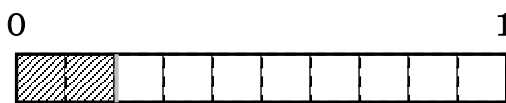
(1) 8割 割合 (0.8) 百分率 (80%)



(2) 4割6分6厘 割合 (0.466) 百分率 (46.6%)



(3) 2割1厘 割合 (0.201) 百分率 (20.1%)



(4) 17割 割合 (1.7) 百分率 (170%)



(5) 5分9厘 割合 (0.059) 百分率 (5.9%)



学 年

5 年

割合④

年 組 氏名

1 定員 50 人のバスに、定員の 70% の人が乗っています。

このバスに乗っている人は何人ですか。

(1) 問題文の中の割合はどれですか。

答え： _____

(2) 問題文の中のものにする量はどれですか。

答え： _____

(3) バスに乗っている人の人数を求めましょう。

式：

答え： _____

2 バスに 66 人の人が乗っています。この人数は定員の 110% です。

このバスの定員は何人ですか。

(1) 問題文の割合はどれですか。

答え： _____

(2) バスの定員を求めましょう。

式：

答え： _____

学 年

5 年

割合④

年 組 氏名

- 1 定員 50 人のバスに、定員の 70% の人が乗っています。

このバスに乗っている人は何人ですか。

- (1) 問題文の中の割合はどれですか。

答え：70% _____

- (2) 問題文の中のものにする量はどれですか。

答え：50人 _____

- (3) バスに乗っている人の人数を求めましょう。

式： $50 \times 0.7 = 35$

答え：35人 _____

- 2 バスに 66 人の人が乗っています。この人数は定員の 110% です。

このバスの定員は何人ですか。

- (1) 問題文の割合はどれですか。

答え：110% _____

- (2) バスの定員を求めましょう。

式

(解答例)

$$66 \div 1.1 = 60$$

答え：60人 _____

(別解例)

このバスの定員を□人とする

$$\square \times 1.1 = 66$$

$$\square = 66 \div 1.1$$

$$\square = 60$$

学 年

5年

割合⑤

年 組 氏名

- 1 下の表は学校の場所別のけが人の数と割合を表したものです。次の問いに答えましょう。

【場所別のけが人の数と割合】

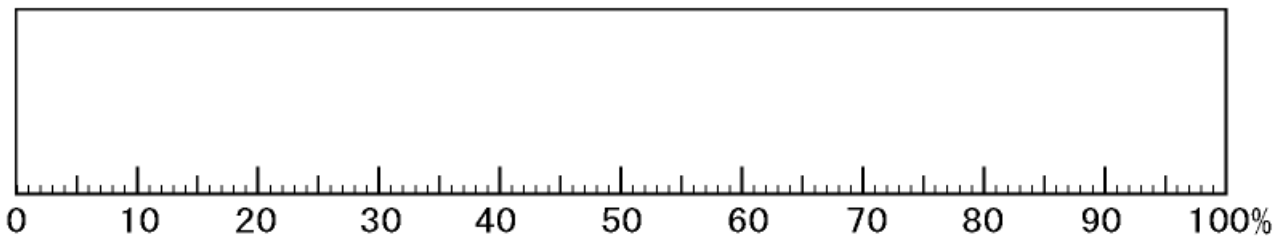
場所	人数(人)	割合(%)
運動場	24	
体育館	11	16
教室	5	7
ろうか	18	27
その他	9	13
合計	67	

- (1) 運動場の割合を求めると36%でした。すると、割合を合計すると99になります。このとき、どうすればいいでしょうか。考えを書いて、表を完成させましょう。

()

- (2) 場所別のけが人の数と割合を帯グラフにかきましょう。

【場所別のけが人の数と割合】



学 年	割合⑤
5年	

年 組 氏名 _____

1 下の表は学校の場所別のけが人の数と割合を表したものです。次の問いに答えましょう。

【場所別のけが人の数と割合】

場所	人数(人)	割合(%)
運動場	24	37
体育館	11	16
教室	5	7
ろうか	18	27
その他	9	13
合計	67	100

(1) 運動場の割合を求めると36%でした。すると、割合を合計すると99になります。このとき、どうすればいいでしょうか。考えを書いて、表を完成させましょう

割合が一番大きいところに入れるので、運動場の36を37にして100%にする。

(2) 場所別のけが人の数と割合を帯グラフにかきましょう。

【場所別のけが人の数と割合】

