

学 年

3年

長いものの長さのはかり方①

年 組 氏名 _____

1 まきじゃくを使ってはかるとべんりなものは、ア～エの どれとどれですか。わけも書きましょう。

ア えんぴつの長さ

イ 黒ばんのよこの長さ

ウ 木のまわりの長さ

エ はがきのたての長さ

ものさしでは、はかれないの

()

と

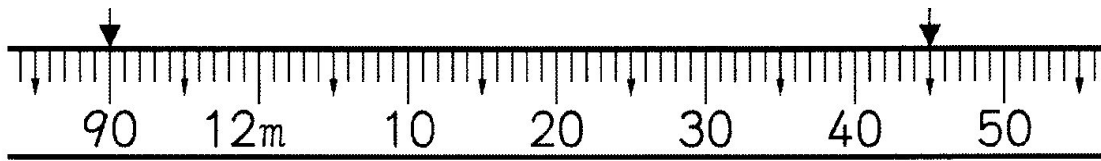
()

2 下の↓のめもりは、何m何cmですか。

何mは、どこを見ればいいのか？

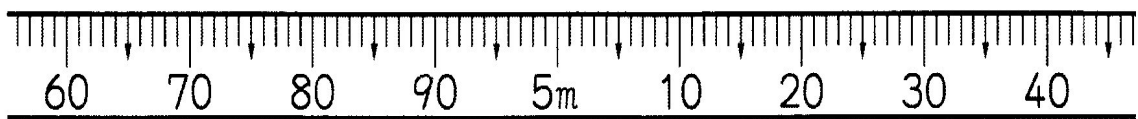
① ()

② ()



3 5m 15cmの長さを表すめもりに↓をつけましょう。

5mをこえているね



学 年

3年

長いものの長さのはかり方①

年 組 氏名

1 まきじゃくを使ってはかるとべんりなものは、ア～エの どれとどれですか。わけも書きましょう。

ア えんぴつの長さ

イ 黒ばんのよこの長さ

ウ 木のまわりの長さ

エ はがきのたての長さ

ものさしでは、はかれないのは？

(イ)

と

(ウ)

黒ばんのよこの長さをものさしではかるには、長すぎて、何回もたしていかなければならないから、まきじゃくなら、一回ではかることができる。

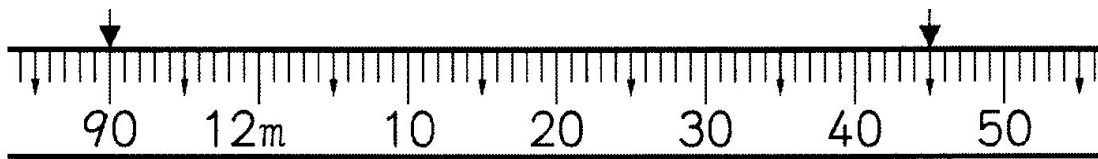
木のまわりの長さは、ものさしでは、はかれない。まきじゃくだとうまくはかることができるから。

2 下の↓のめもりは、何m何cmですか。

何mは、どこを見ればいいのか？

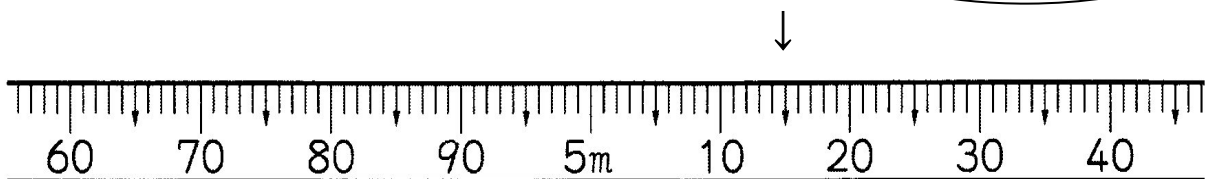
① (1 1 m 9 0 c m)

② (1 2 m 4 5 c m)



3 5 m 1 5 c mの長さを表すめもりに↓をつけましょう。

5 mをこえているね。



学 年

3 年

長いものの長さのはかり方②

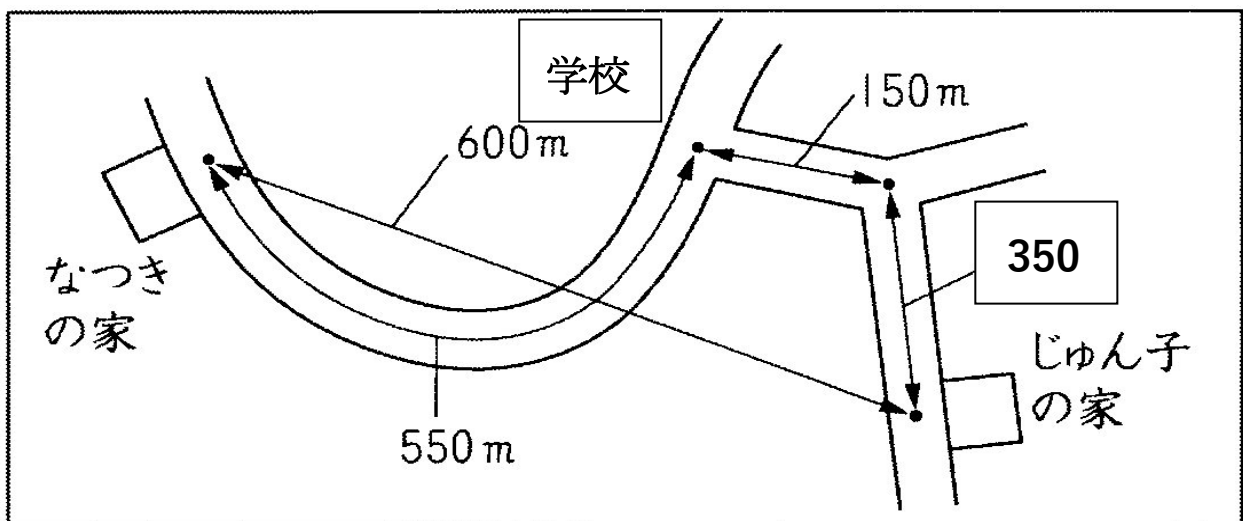
年 組 氏名 _____

4 () にあてはまる、数や長さのたんいをかきましょう。

- ① $1 \text{ km} = () \text{ m}$
- ② $3500 \text{ m} = () \text{ km} () \text{ m}$
- ③ $3 \text{ km} 20 \text{ m} = () \text{ m}$
- ④ 社会見学で歩いた工場までの道のりは、およそ4 ()
- ⑤ 教科書のアツさは、およそ4 ()
- ⑥ 黒板のよこの長さは、およそ4 ()

5 下の地図を見て、答えましょう。

- ① なつきさんの家と じゅん子さんの家が あります。
学校までの道のりは、どちらが どれだけ 近いでしょう。
() さんの家の方が () m 学校に近い。
- ② なつきさんの家から じゅん子さんの家までの 道のりは、何 km 何 m ですか。
()
- ③ なつきさんの家から、じゅん子さんの家までの 道のりときよりのちがいは、何 m ですか。
()



学 年

3年

長いものの長さのはかり方②

年 組 氏名

4 () にあてはまる、数や長さのたんにをかきましょう。

① $1 \text{ km} = (1000) \text{ m}$

② $3500 \text{ m} = (3) \text{ km} (500) \text{ m}$

③ $3 \text{ km} 20 \text{ m} = (3020) \text{ m}$

④ 社会見学で歩いた工場までの道のりは、およそ4 (km)

⑤ 教科書のあつさは、およそ4 (mm)

⑥ 黒板の横の長さは、およそ4 (m)

5 下の地図を見て、答えましょう。

① なつきさんの家と じゅん子さんの家が あります。

学校までの 道のりは、どちらが どれだけ 近いでしょう。

(じゅん子) さんの家の方が (50) m 学校に近い。

② なつきさんの家から じゅん子さんの家までの 道のりは、何km何mですか。

(1 km 50 m)

③ なつきさんの家から、じゅん子さんの家までの 道のりときよりのちがいは、何mですか。

(450 m)

