

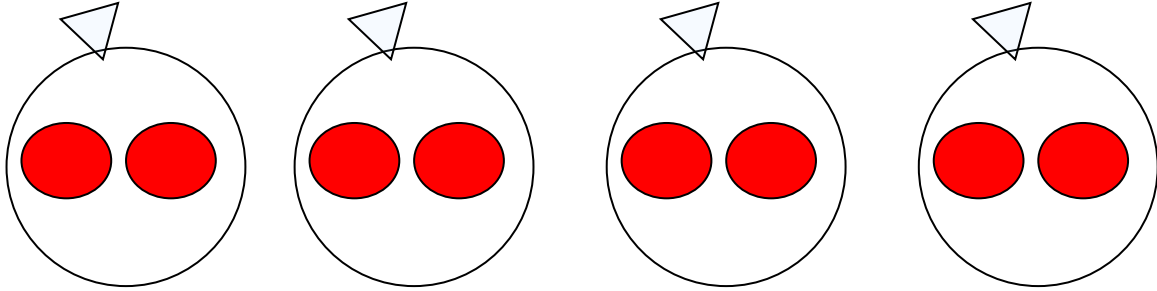
学 年

2年

かけ算 (2) ①

年 くみ 名まえ

1 つぎのえをみて したの もんだい にこたえましょう。



(1) 上のえ を ぶんしょうで あらわします。 □の中に、どんなことばが入りますか？

ふくろの中に、ボールが 入っています。ふくろはぜんぶで、
 ふくろあります。ボールのかずは、ぜんぶでいくつあるでしょうか？

(2) 上のえ を かけざんのしき であらわします。 □の中に、すうじを いれましょう。

1つ分のかず × いくつぶん = ぜんぶ のかず

1ふくろのボールのかず × ふくろ のかず = ぜんぶのボールのかず

× =

こたえ

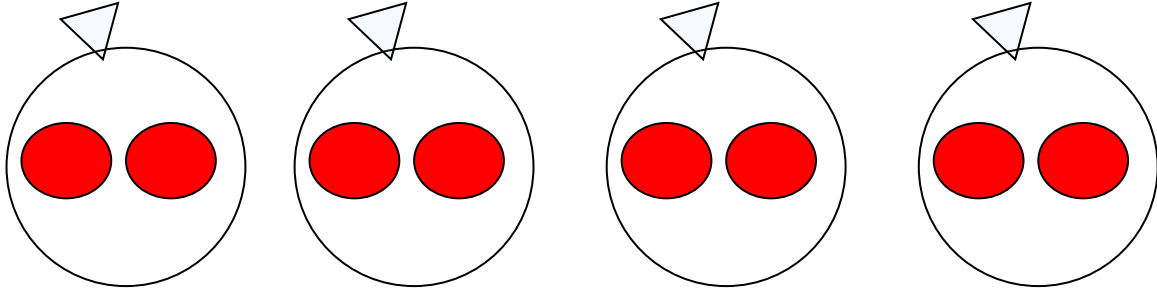
学 年

2年

かけ算 (2) ①

年 くみ 名まえ

1 つぎのえをみて したの もんだい にこたえましょう。



(1) 上のえ を ぶんしょうで あらわします。 □の中に、どんなことばが入りますか？

ふくろがいくつもあるときは、「〇〇ずつ」をつけるね。

ふくろの中に、ボールが **2こずつ** 入っています。ふくろはぜんぶで、

4 ふくろあります。ボールのかずは、ぜんぶでいくつあるでしょうか？

(2) 上のえ を かけざんのしき であらわします。 □の中に、すうじを いれましょう。

1つ分のかず × いくつぶん = ぜんぶ のかず

1ふくろのボールのかず × ふくろ のかず = ぜんぶのボールのかず

2 × **4** = **8**

こたえ **8こ**

学 年

2年

かけ算 (2) ②

年 くみ 名まえ

1 かけ算①を見ながら、つぎのもんだいにこたえましょう。

(1) したのぶんしょうを よんで えをかきましょう。

ふくろの中に、ボールが **3こずつ** 入っています。ふくろはぜんぶで

5 ふくろあります。ボールのかずは、ぜんぶでいくつでしょうか？

○をかきましょう。

(2) 自分でかいた え を かけざんのしき であらわします。 □の中に、すうじをいれましょう。

1つ分のかず × いくつぶん = ぜんぶ のかず

1ふくろのボールのかず × ふくろ のかず = ボールぜんぶのかず

□ × □ = □

こたえ

学 年

2年

かけ算 (2) ②

年 くみ 名まえ

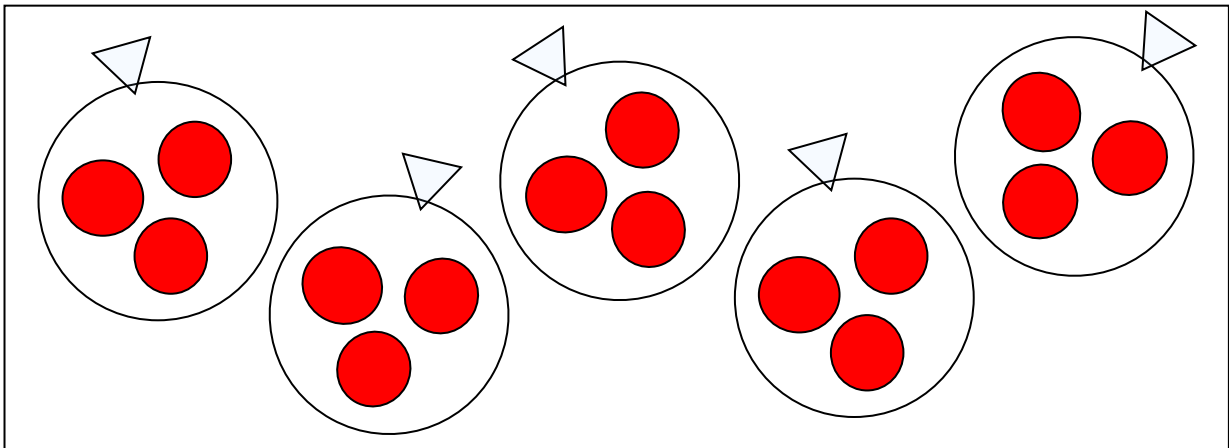
1 かけ算①を見ながら、つぎのもんだいにこたえましょう。

(1) したのぶんしょうを よんで えをかきましょう。

ふくろの中に、ボールが **3こずつ** 入っています。ふくろはぜんぶで

5 ふくろあります。ボールのかずは、ぜんぶでいくつでしょうか？

○でかきましょう。



(2) 自分でかいた え を かけざんのしき であらわします。□の中に、すうじを
 いれましょう。

1つ分のかず × いくつぶん = ぜんぶ のかず

1ふくろのボールのかず × ふくろ のかず = ボールぜんぶのかず

3

×

5

=

15

こたえ 15こ

学 年


2 年

かけ算 (2) ③

年 くみ 名まえ

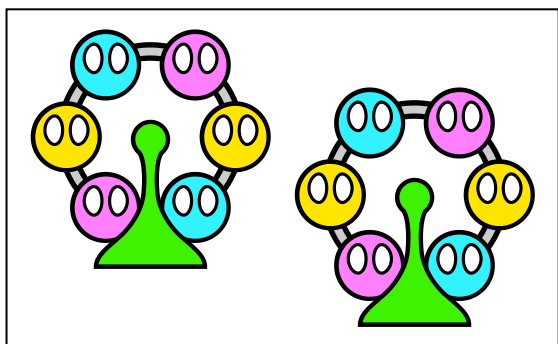
えにあったしきをえらんで、せんでむすびましょう。

(1)



• 4×3

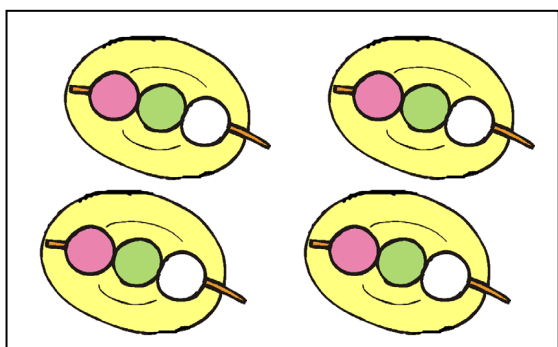
(2)



• 4×6

• 3×4

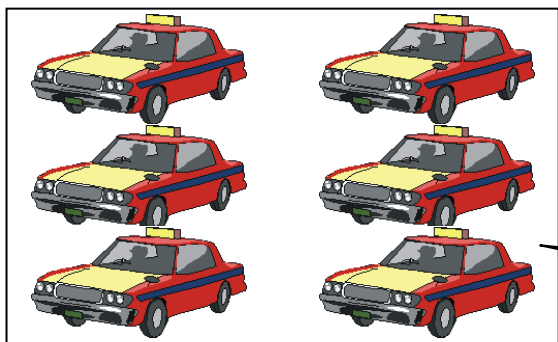
(3)



• 5×6

• 7×3

(4)



• 6×2

タイヤは、1 だいになんこついでるかな？

学 年


2 年

かけ算 (2) ③

年 くみ 名まえ

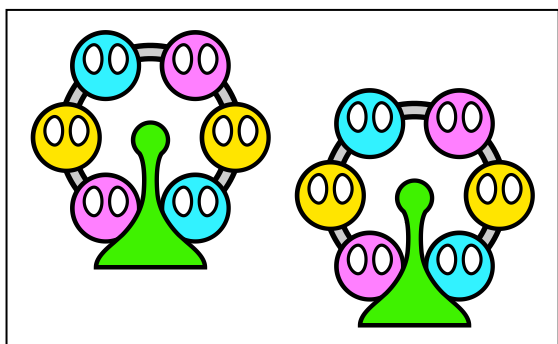
えにあったしきをえらんで、せんでむすびましょう。

(1)



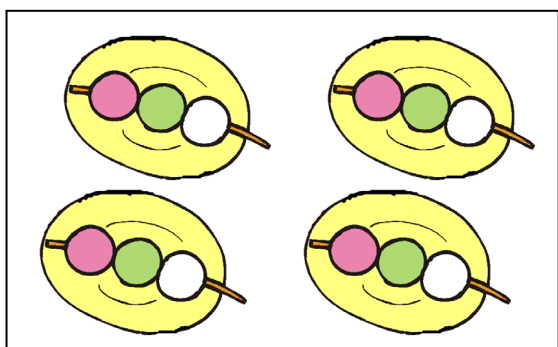
• 4×3

(2)



4×6

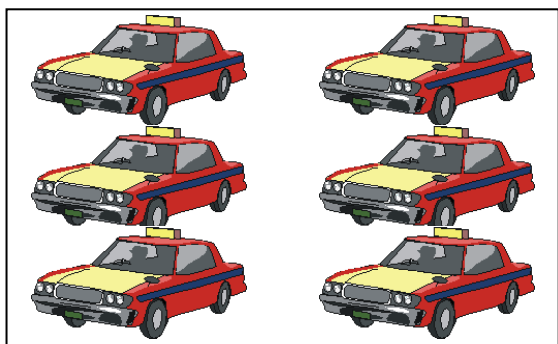
(3)



3×4

• 5×6

(4)



7×3

6×2

学 年

2年

かけ算 (2) ④

年 ぐみ 名まえ

みのまわりには、たくさんの「〇〇ずつ」があります。

1ふくろに、3こずつ ボールが入っています。

とか、

車が3台とまっています。その車は、5人ずつのれます。

など、いろいろな「〇〇ずつ」があります。

あたなのまわりに、どんな「〇〇ずつ」がありますか。できるだけ、たくさん見つけましょう。

みのまわりにある、〇〇ずつをさがそう！

学 年

2年

かけ算 (2) ④

年 くみ 名まえ

みのまわりには、たくさんの「〇〇ずつ」があります。

1 ふくろに、3 こずつ ボールが入っています。

とか、

車が3台とまっています。その車は、5人ずつのれます。

など、いろいろな「〇〇ずつ」があります。

あたなのまわりに、どんな「〇〇ずつ」がありますか。できるだけ、たくさん見つけましょう。

みのまわりにある、〇〇ずつをさがそう！

(かいとうれい)

- 1 パック 7 ひきずつ入っているえび
- 10 まいずつ入っているのクッキー
- 5 まいずつ入った、のりのふくろ
- 12 本ずつ入っているえんぴつのはこ

など

スーパーや、ゆうえんちを
思い出すと、
たくさんありますよ！