


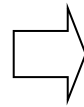
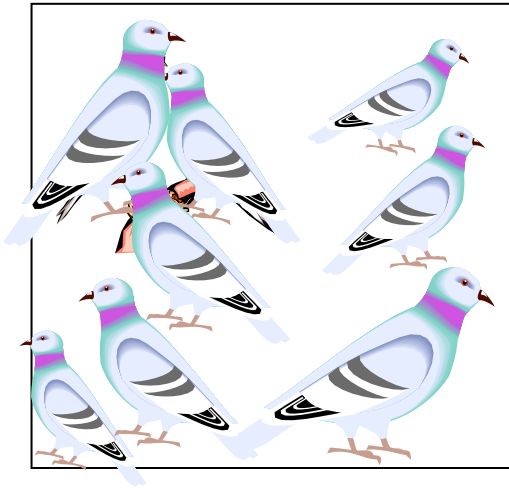
がくねん

1ねん

# たすのかな、ひくのかな①

ねん くみ なまえ

1 えをみてしきをかきましょう。



とんでいくと ということは  
ふえるのかな へるのかな？

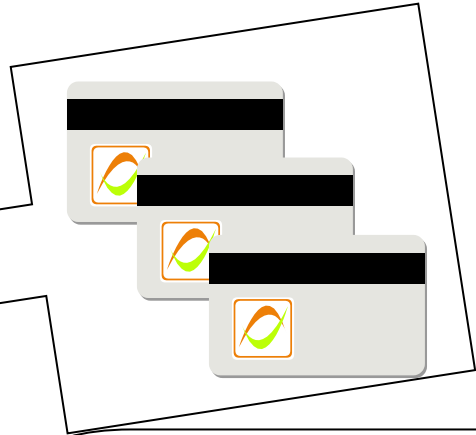
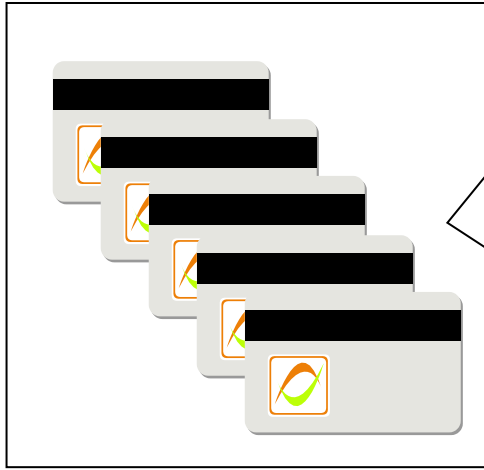
(1) 1わ とんでいくと、のこりは？

(しき)



(2) いぬと ねこを あわせると、ぜんぶで？

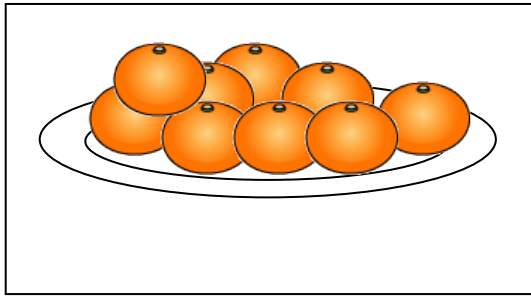

(しき)



もらうということは、  
ふえるのかな、へるのかな？

(3) 3まい もらうと、ぜんぶで？

(しき)



「ちがい」って、なんだったかな？

(4) ちがいは、いくつ？


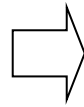
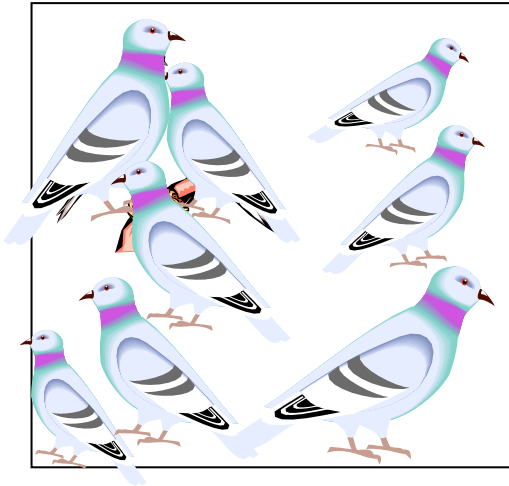
(しき)

がくねん

1ねん

たすのかな、ひくのかな①


1 えをみてしきをかきましょう。



とんでいくと いうことは  
へるんだね。

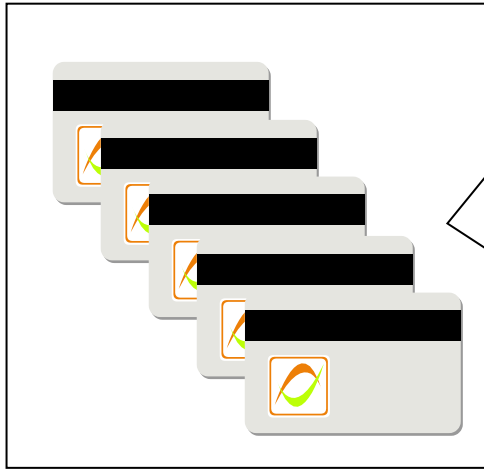
(1) 1わ とんでいくと、のこりは?

(しき)  $8 - 1 = 7$



(2) いぬとねこをあわせると、ぜんぶで?

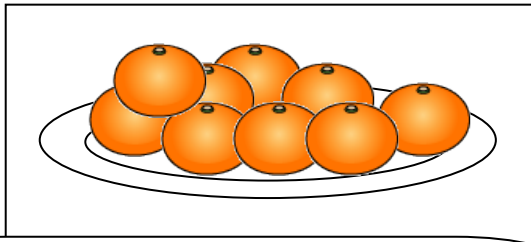
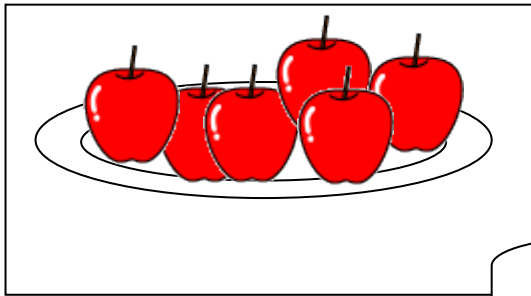
(しき)  $7 + 4 = 11$



(3) 3まい もらうと、ぜんぶで？

もらうということは、  
ふえるのかな、ふえますね。

(しき)  $5 + 3 = 8$



(4) ちがいは、いくつ？

「ちがひ」って、おおいほうから、  
すくないほうを、ひけばいいですね。

(しき)  $9 - 6 = 3$

がくねん


1ねん

## たすのかな、ひくのかな②

ねん くみ なまえ

1 いぬのかずを「いぬ」、ねこのかずのことを「ねこ」、あわせたかずのことを「ぜんぶ」とします。

①～④のなかで、ただしい しき を えらびましょう。



(ただしい ぶん の ばんごう)

① (ねこ) + (ぜんぶ) = (いぬ)

② (いぬ) + (ねこ) = (ぜんぶ)

③ (ぜんぶ) - (いぬ) = (ねこ)

④ (いぬ) - (ねこ) = (ぜんぶ)

⑤ (ねこ) - (ぜんぶ) = (いぬ)

“ぜんぶ”って、なにを  
あわせた かずの こと  
かな？


がくねん

1ねん

## たすのかな、ひくのかな②

1 いぬのかずを「いぬ」、ねこのかずのことを「ねこ」、あわせたかずのことを「ぜんぶ」とします。

①～④のなかで、ただしい しき を えらびましょう。



(ただしい ぶん の ばんごう)

②、③

① (ねこ) + (ぜんぶ) = (いぬ)

② (いぬ) + (ねこ) = (ぜんぶ)

③ (ぜんぶ) - (いぬ) = (ねこ)

④ (いぬ) - (ねこ) = (ぜんぶ)

⑤ (ねこ) - (ぜんぶ) = (いぬ)

“ぜんぶ”って、なにを  
あわせた かずの こと  
かな？

がくねん

1ねん

## たすのかな、ひくのかな③

ねん くみ なまえ

- 1 もんだいに あう しきを  のなかから えらんで、  
( ) に ①, ②, ③を かきましょう。

(1) あひるが 4わ、 かもが 8わ います。

どちらが どれだけ おおいでしょう。

( )

(2) ぱんが 12こ あります。そのうち ちいずぱんは 4こ

です。ほかの ぱんは なんこ あるのでしょうか。

( )

(3) 4にんの こどもに あめを 1こずつ あげました。

あめは まだ 8こ のこっています。

( )

はじめに なんこ あったのでしょうか。

①  $4 + 8 = 12$

②  $8 - 4 = 4$

③  $12 - 4 = 8$

がくねん

1ねん

## たすのかな、ひくのかな③

① もんだいに あう しきを  のなかから えらんで、  
( ) に ①, ②, ③を かきましょう。

(1) あひるが 4わ、 かもが 8わ います。

どちらが どれだけ おおいでしょう。

( ② )

(3) ぱんが 12こ あります。そのうち ちいずぱんは 4こ

です。ほかの ぱんは なんこ あるのでしょうか。

( ③ )

(3) 4にんの こどもに あめを 1こずつ あげました。

あめは まだ 8こ のこっています。

( ① )

はじめに なんこ あったのでしょうか。

①  $4 + 8 = 12$

②  $8 - 4 = 4$

③  $12 - 4 = 8$