

じゅけんばんごう 受検番号

合計

へいせい ねん ど  
平成25年度

おおさか ふりつち てきしょう こうとう し えんがっこうしよくぎょうがっ か  
大阪府立知的障がい高等支援学校職業学科

てきせいけんさ ひっ き とう もん だい  
適性検査・筆記等問題

ちゅういじこう  
【注意事項】

- けんさようし ぜんぶ  
検査用紙は全部で17ページあります。
- だいもんだい  
大問題は1. ～ 10. まであります。
- だいもんだい なか しょうもんだい  
大問題の中には小問題があるものもあります。
- もん だい しつもん  
問題についての質問はできません。
- か もじ み いんさつじょうたい わる  
書いてある文字などが見えにくいなど、印刷状態が悪いものや  
ページがたりないものがあれば黙って手をあげなさい。
- けんさ お せき はな  
検査が終わるまでは席を離れてはいけません。
- まわ ひと かいとう き  
周りの人の解答をのぞいたり、聞いたりしてはいけません。
- もし、きぶん わる い だま て  
もし、気分が悪くなったり、トイレに行きたくなったりしたら、黙って手を  
あげなさい。
- けんさ じかん ふん  
検査時間は40分です。
- 「はじめなさい」と言われてからはじめなさい。
- けんさ しゅうりょう ふんまえ ふん い  
検査が終了する5分前に、「あと5分です」と言います。
- しゅうりょう じこく い  
終了時刻になったら、「やめなさい」と言います。
- 「やめなさい」と言われたら、すぐにやめて両手をひざの上に置いて、  
しずま  
静かに待ちなさい。

1. 次のすべての  の中にひらがなを一字ずつ書き、(1)～(5)の問いの答えを完成させなさい。

(1) 外出から帰ってきた時に言うあいさつのことばを書きなさい。

た			
---	--	--	--

(2) 家から出かける時に言うあいさつのことばを書きなさい。

い					
---	--	--	--	--	--

(3) 学校で職員室に入る時、中にいる人に向かってかけることばを書きなさい。

し						
---	--	--	--	--	--	--

(4) 夜、寝る時に言うあいさつのことばを書きなさい。

お						
---	--	--	--	--	--	--

(5) 食事が終わった時に言うことばを書きなさい。

ご								
---	--	--	--	--	--	--	--	--

2. 次の(1)～(5)の問いについて、ア～エの4つの表現のうち、  
正しくないものをそれぞれ1つ選び、の中に記号を  
書きなさい。

(1) 雨が  
ア あがる  
イ ふる  
ウ つづく  
エ なくす

(2) 窓を  
ア ふく  
イ しめる  
ウ のばす  
エ あける

(3) お金を  
ア あそぶ  
イ もらう  
ウ つかう  
エ わたす

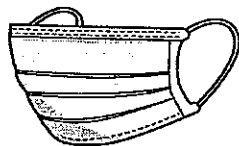
(4) 音楽を  
ア きく  
イ ながす  
ウ たたく  
エ たのしむ

(5) コップに水を  
ア ぬらす  
イ 入れる  
ウ つぎたす  
エ そそぐ

3. 次の(1)～(5)の絵は、何を表した絵ですか。すべての

の中にカタカナを一字ずつ書き、ことばを完成させなさい。

(1)



--	--	--

(2)




--	--	--	--	--	--	--

(3)



--	--	--	--	--	--

(4)



--	--	--	--	--	--

(5)



--	--	--	--	--

小計

4. 「<sup>しゅうがくりょこう</sup>修学旅行で、<sup>とどうふけん い</sup>どこの都道府県に行きたいか」という<sup>きぼうちょうさ</sup>希望調査を  
<sup>ねんせいぜんたい おこな</sup>1年生全体で行いました。

<sup>した ひょう</sup>下の表はその結果です。<sup>けっか</sup>この表を見て、<sup>ひょう み</sup>あとの(1)～(5)の  
<sup>と</sup>問いの<sup>こた</sup>答えを  <sup>なか か</sup>の中<sup>に</sup>書きなさい。

	くみ 1組	くみ 2組	くみ 3組	くみ 4組	ごう けい 合計
ほっかいどう 北海道	6	8	5	5	24
ちばけん 千葉県	16	15	17	13	61
ながさきけん 長崎県	3	1	4	2	10
とうきょうと 東京都	5	5	5	9	24
その他	2	1	2	3	8
ごう けい 合計	32	30	33	32	127

<sup>たんい にん</sup>(単位 人)

(1) <sup>きぼうしゃ かず いちばんおお</sup>希望者の数が一番多かった<sup>とどうふけん</sup>都道府県はどこですか。

(2) <sup>きぼうしゃ かず おな</sup>希望者の数が同じだった<sup>とどうふけん</sup>都道府県はどことどこですか。

と

小計

(3) <sup>ながさきけん</sup> <sup>きぼう</sup> <sup>なんにん</sup>  
長崎県を希望しているのは何人ですか。

--

(4) <sup>いちばんにんずう</sup> <sup>すく</sup> <sup>なんくみ</sup>  
一番人数の少ないクラスは何組ですか。

--

(5) <sup>ねんせい</sup> <sup>ぜんたい</sup> <sup>なんにん</sup>  
1年生は全体で何人ですか。

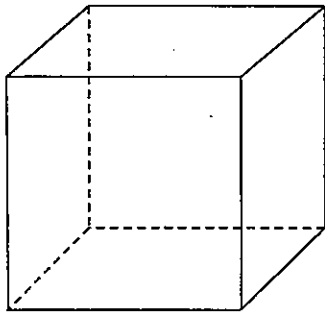
--

小計


5. <sup>りつたい</sup>立体について(1)、(2)の問いに<sup>と</sup>答えなさい。

(1) <sup>した</sup>下の<sup>りつたい</sup>立体の<sup>てんかいず</sup>展開図はア～ウのうちどれですか。

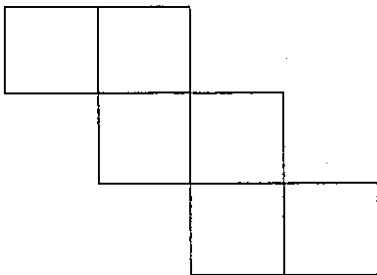
<sup>ただ</sup>正しい<sup>きごう</sup>記号を  <sup>なか</sup>の中<sup>か</sup>に書きなさい。



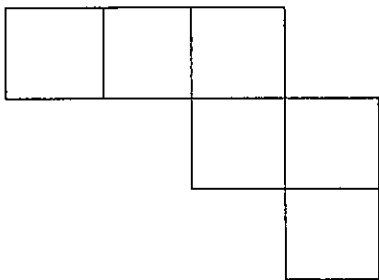
ア



イ

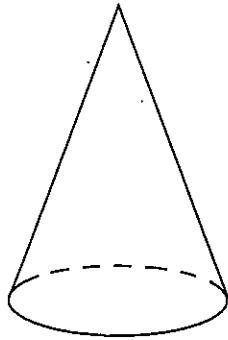


ウ

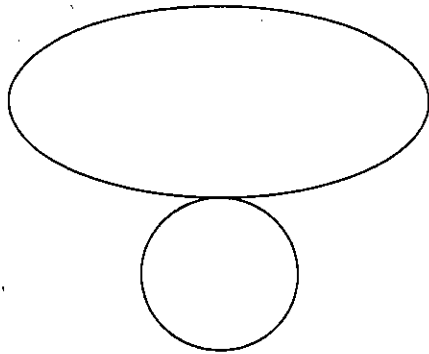


(2) <sup>した</sup> <sup>りったい</sup> <sup>てんかいず</sup> 下の立体の展開図はア～エのうちどれですか。

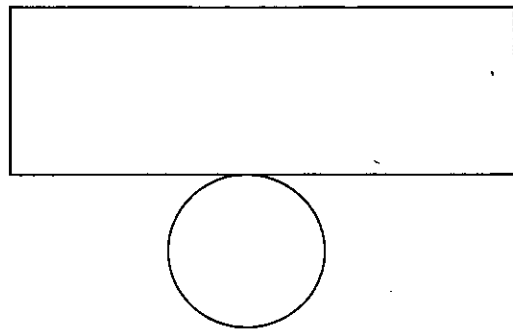
<sup>ただ</sup> <sup>きごう</sup> 正しい記号を  <sup>なか</sup> <sup>か</sup> の中に書きなさい。



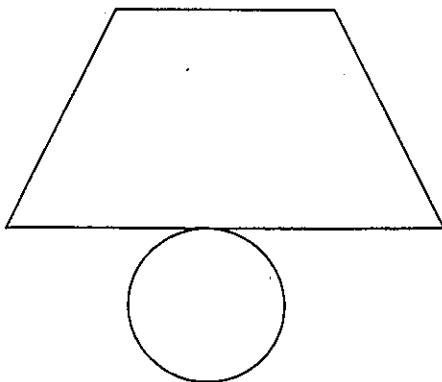
ア



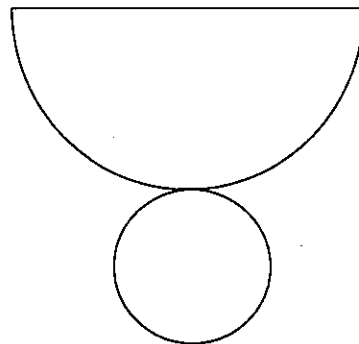
イ



ウ



エ





6. 2年生の宿泊学習の予定表です。予定表を見て(1)～(5)の  
 問いの答えを  の中に書きなさい。

時	分	6月14日(木)	時	分	6月15日(金)
7	00		7	00	起床
8	00		8	00	朝食(食堂)
	30	登校			
9	00	朝の会	9	00	出発準備
	30	出発会(ホール)		30	荷物をフロントに預ける
	45	学校発(バス2台)			
10	00	海浜スポーツセンター到着	10	00	屋外炊飯エリアに移動
	40	入所式(センターホール)		30	屋外炊飯エリアでカレーづくり
11	00	各部屋に分かれ荷物運び	11	00	
	30	センター玄関前集合		45	カレーづくり完了
12	00	野鳥観察エリアに到着	12	00	昼食
	30	野鳥観察		50	退所式(体育館)
13	00	昼食(バードレストラン)	13	00	移動
					センター発(バス2台)
14	00	自由時間	14	20	学校着
					休憩・終礼
15	00	野鳥観察エリア正面に集合	15	10	下校
	10	移動			
	35	海浜スポーツセンター到着			
16	00	入浴			
17	00	休憩			
		食事委員集合			
18	00	夕食(食堂)			
19	00	各部屋で休憩			
	50	体育館に集合			
20	00	お楽しみ会(体育館)			
	50	おわり			
21	00	各部屋で就寝準備			
		消灯			

(1) 6月14日(木)に、<sup>がっこう</sup>学校から<sup>かいびん</sup>海浜スポーツセンターまでは、  
バスで<sup>なんぶん</sup>何分かかりますか。

分

(2) <sup>よしおか</sup>吉岡さんは<sup>しょくじ いいん</sup>食事委員です。<sup>たんとう せんせい</sup>担当の先生から「<sup>しょくじ いいん</sup>食事委員は  
<sup>しょくじ</sup>食事の<sup>ふんまえ</sup>15分前に<sup>しょくどう</sup>食堂に<sup>しゅうごう</sup>集合すること」と<sup>しじ</sup>指示されています。  
<sup>よしおか</sup>吉岡さんが<sup>ゆうしょく</sup>夕食のときに<sup>しょくどう</sup>食堂にいかなければならない  
<sup>じこく なんじ なんぶん</sup>時刻は何時何分ですか。

時 分

(3) <sup>にゅうしょしき</sup>入所式と<sup>たいしょしき</sup>退所式はそれぞれどこでおこなわれますか。

<sup>にゅうしょしき</sup>  
入所式

<sup>たいしょしき</sup>  
退所式

(4) 6月14日(木)の<sup>よる</sup>夜、<sup>たいいくかん</sup>体育館では<sup>なに</sup>何がおこなわれますか。

(5) <sup>おくがすすいはん</sup>屋外炊飯エリアで<sup>た</sup>カレーをつくって<sup>なんようび</sup>食べるのは何曜日ですか。

7. 次の文章を読んで、あとの(1)～(4)の問いに答えなさい。

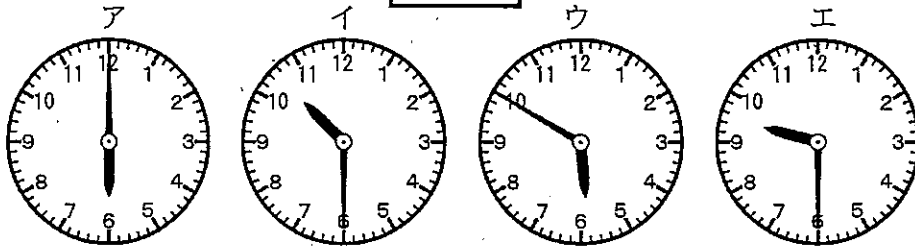
まさお ひろし くろたきやま とざん で  
正夫さんは博さんと黒滝山に登山に出かけました。

まさお とざんぐちまえ てい ひろし じはん あ  
正夫さんは「登山口前」バス停で、博さんと10時半に会う

やくそく くろたきやま とざんぐち でんしゃ えぎ  
約束をしました。黒滝山登山口までは、電車の「まつだ駅」から  
すぐの「まつだ駅前」バス停から出ているバスを利用しました。

(1) 次のうち、「10時半」を示している時計はどれですか。

ただ えら  のなか きごう か  
正しいものを選び、の中に記号を書きなさい。




(2) まさお えき じはん  
正夫さんは「まつだ駅」に9時半につきました。そして  
「まつだ駅前」バス停から「登山口前」バス停までバスに  
乗って35分かかりました。

まさお とざんぐちまえ てい じはん つ  
正夫さんは「登山口前」バス停に10時半までに着くことが  
できました。

まさお の  
正夫さんは何時何分発のバスに乗ったのでしょうか。

した じこくひょう なか ただ じこく えら  のなか  
下の時刻表の中から正しい時刻を選び、の中に  
書きなさい。

まつだ駅前発 (登山口前行き)

7	8	9	10	11	12	13	14	15	16	17	18	19
12	12	13	12	15	7	12	13	12	12			13
27	23	23	23				24		28			
				35	35	35		34				
43	41	41	43									55

時	分
---	---

(3) バスの料金は一人540円でした。正夫さんは自分の料金を1000円札1枚で払いました。

おつりは何円でしたか。  の中に書きなさい。

円
---

(4) 二人は黒滝山を登って山頂で弁当を食べました。その後、午後2時に山頂を出発し、「太郎小屋」バス停にむかって山を下りました。山頂から1時間25分かかって「太郎小屋」バス停に着きました。

二人は「まつだ駅前」バス停行きの最初にきたバスに乗りました。二人が乗ったバスは何時何分発だったでしょうか。時刻表の中から正しい時刻を選び、 の中に書きなさい。

太郎小屋発 (まつだ駅前行き)

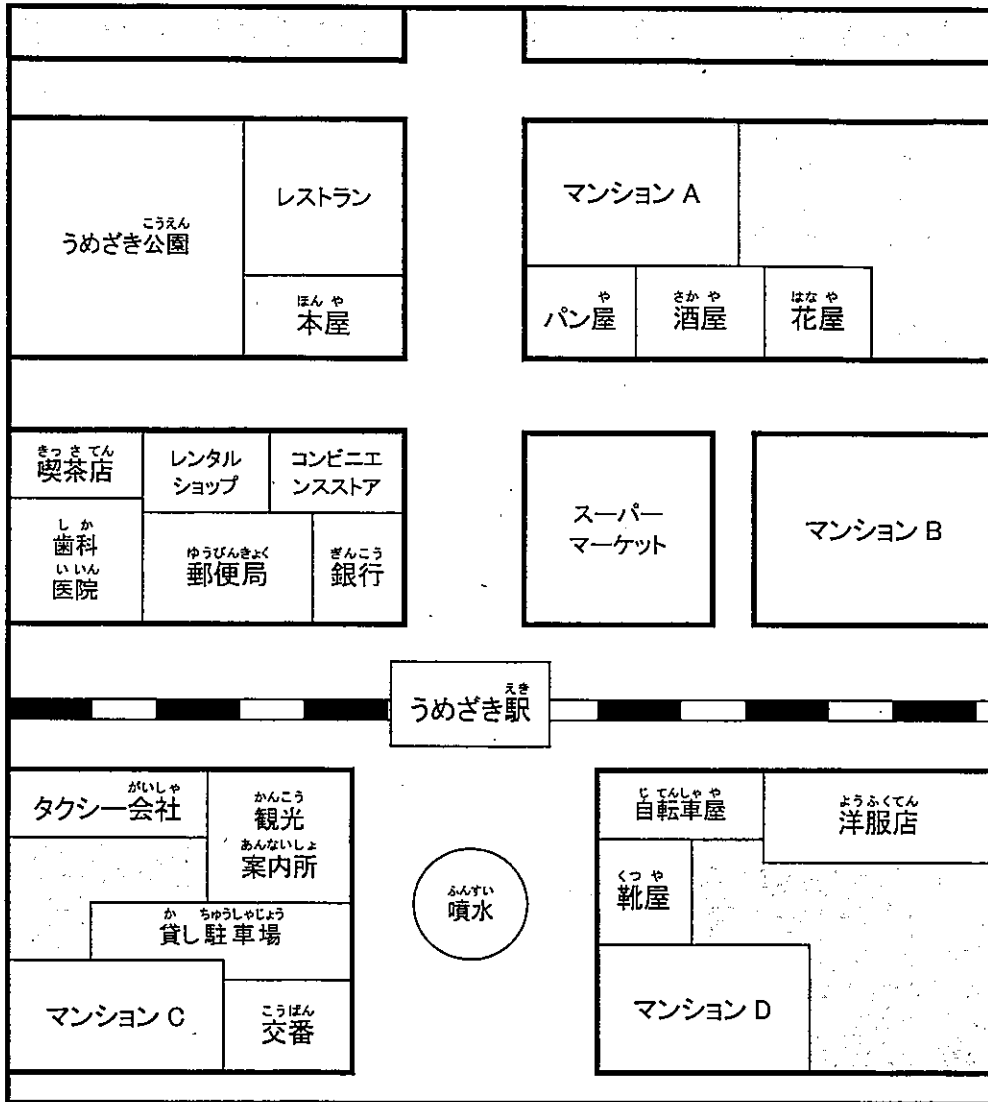
7	8	9	10	11	12	13	14	15	16	17	18	19
			7	7	7	7	7	7	7			5
13	13	13		14	14					13	13	
27		22	23				24		28			
	32			35	35	35		34				
			50									55

時	分
---	---

小計

8. 次の地図を読み取って、あとの(1)～(5)の問いに答えなさい。

きた  
北



(1) 鉄道が走っている方向は、次のうちどれですか。正しいものを選んで、( )に○を書きなさい。

( )	南北	( )	東西
-----	----	-----	----

(2) 次の3つのうち、「うめざき駅」の一番近くにある建物はどれですか。正しいものを1つを選んで、( )に○を書きなさい。

( )	本屋	( )	歯科医院	( )	自転車屋
-----	----	-----	------	-----	------

(3) 明さんと香さんは、地図のマンションA、B、C、Dのいずれかのマンションに住んでいます。ただし別々のマンションに住んでいます。二人の会話から、明さんと香さんの住んでいるマンションを考え、の中の( )にA、B、C、Dのいずれかのアルファベットを書きなさい。

<二人の会話>

(明さん) 昨日、ぼくの住んでいるマンションの階段に財布がおちていたんだ。

それで、隣にある交番にすぐにとどけたよ。

(香さん) わたしが住んでいるところは買い物にととても便利なの。マンション北側の道路を西へ歩くと、おいしいパン屋があるわ。

明さんが住むマンションはマンション ( )  
香さんが住むマンションはマンション ( )

(4) 次のア～エの文で、この地図の説明文として正しくないものを1つ選んで、の中に記号を書きなさい。

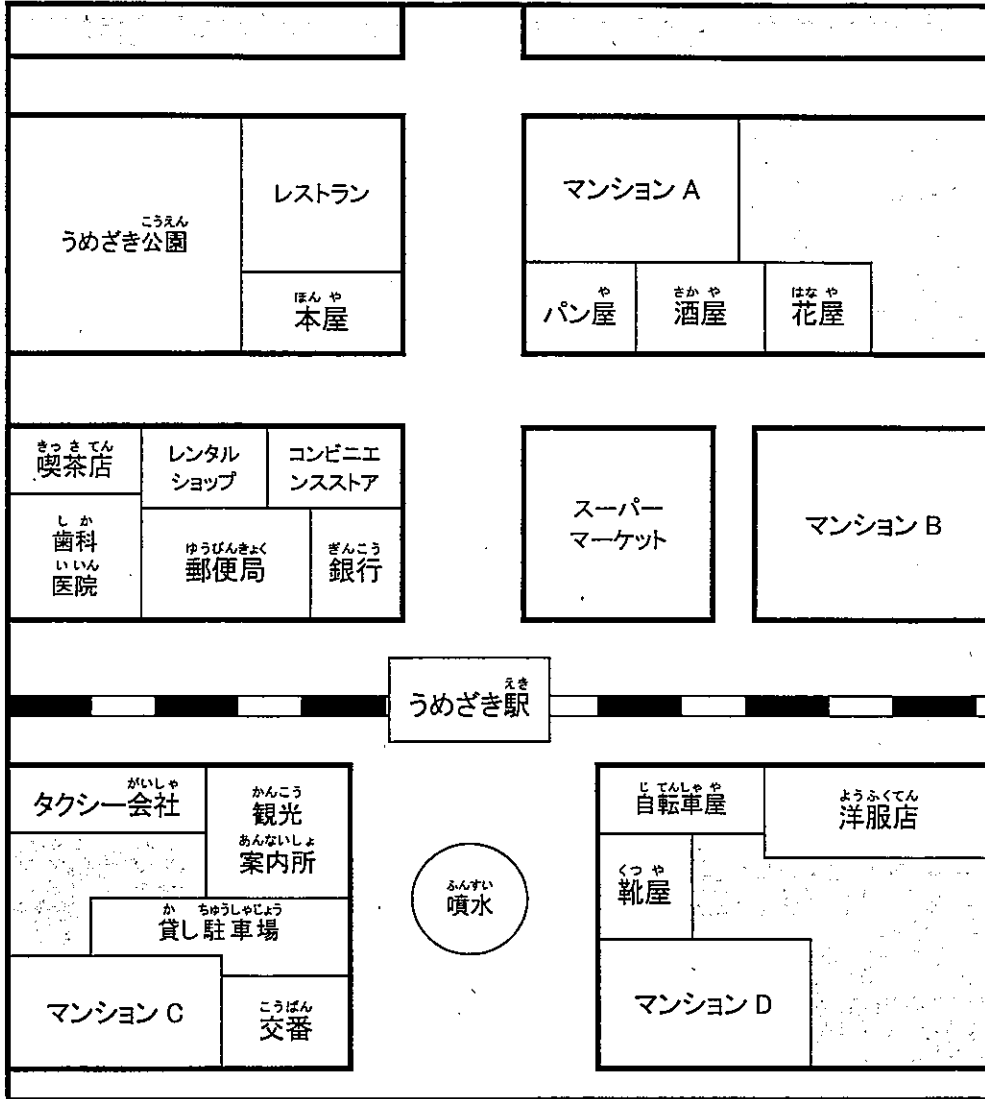
ア 「靴屋」は「自転車屋」より南にあります。

イ 「レンタルショップ」より東側に「コンビニエンスストア」があります。

ウ 「マンションD」は「うめざき駅」より北にあります。

エ 「酒屋」から西に向かって歩くと「喫茶店」があります。

きた  
北



この地図は、12ページの地図とまったく同じものです。

(5) 次の説明文を完成させるため、の中の正しいものを1つ選んで( )に○を書きなさい。

<説明文>

「うめざき駅」から「うめざき公園」に行く最も近い道は、「うめざき駅」を出て

( ) 東 ( ) 西 ( ) 南 ( ) 北 に

すすみ、はじめの交差点を

( ) 東 ( ) 西 ( ) 南 ( ) 北 に

まがります。

しばらく歩くと

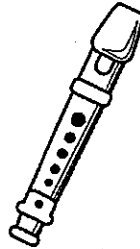



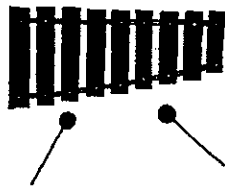

( ) 右 ( ) 左 に

「うめざき公園」が見えてきます。



小計

9. 下の図の説明として正しい文をあとのア～オの中から1つ  
えら  
選び、  の中に記号を書きなさい。



ア 息を吹き込んで音を鳴らすものは2つある。

イ すべて楽器である。

ウ リコーダーの右にトライアングル、左にカスタネットがある。

エ カスタネットの上には太鼓、右にはリコーダーがある。

オ 木琴の上にタンバリン、下にトライアングルがある。

10. 次の<sup>つぎ</sup>< <sup>なか</sup>>の中の2つの<sup>たんご</sup>単語を<sup>かなら</sup>必ず<sup>つか</sup>使って、「<sup>わたし</sup>私は」に  
<sup>つづ</sup>続けて<sup>ぶんしょう</sup>文章<sup>か</sup>を書きなさい。

< <sup>がっこうせいかつ</sup>学校生活      <sup>もくひょう</sup>目標 >

ただし<sup>もじすう</sup>文字数は<sup>じいじょう</sup>50字以上<sup>じいない</sup>80字以内<sup>か</sup>で書きなさい。

私	は									10
										20
										30
										40
										50
										60
										70
										80

## 適性検査 第2時 作業検査

検査 「ステンレス網・紐・名札を使った構造物の作成」

課題 ステンレス網・紐・名札を〈作業検査 指示書〉  
のとおり完成させる

時間 3分間

配点 100点

平成25年度 府立知的障がい高等支援学校職業学科 入学者選抜  
適性検査 筆記等問題の解答例及び配点

大問 番号	出題の内容	小計	小問 番号	配点	解答例	採点基準及び部分点など
1	日常のあいさつを正しいひらがなで書く	10	1	2	ただいま	* 全てのマスにひらがなが1字ずつ書いてあるものを採点対象とする。 * 内容が合っていれば解答例と同じでなくとも正解あるいは部分点を与える。
			2	2	いってきます	
			3	2	しつれいします	
			4	2	おやすみなさい	
			5	2	ごちそうさまでした	
2	日常生活で使われていることばを完成させる	10	1	2	エ	* 記号を1つ書いてあるもののみ採点対象とする。
			2	2	ウ	
			3	2	ア	
			4	2	ウ	
			5	2	ア	
3	カタカナを正しく書く	10	1	2	マスク	* 全てのマスにカタカナが1字ずつ書いてあるものを採点対象とする。
			2	2	サッカーボール	
			3	2	チューリップ	
			4	2	ヘリコプター	
			5	2	カンガルー	
4	表を正しく読み取る	12	1	2	千葉県	* 漢字の間違いは1点減点する。 * 2は、2つともに正解しているものを4点とする。1つの場合は0点とする。 * 「千葉」、「東京」は正解とする。
			2	4	北海道 東京都	
			3	2	10'	
			4	2	2	
			5	2	127	
5	2つの立体図形の展開図を示す	8	1	4	イ	* 記号を1つ書いてあるもののみ採点対象とする。
			2	4	エ	
6	予定表を読み取る	12	1	2	15	* 漢字の間違いは1点減点とする。 * 5は、金、(金)は正解とする。
			2	2	17(5)、45	
			3	2	センターホール	
				2	体育館	
			4	2	お楽しみ会	
5	2	金曜日				
7	時計の時刻や時刻表を読みとる	12	1	3	イ	* 漢数字でもよい。 * 2、4は、2つともに正解しているものを3点とする。1つの場合は0点とする。 * 4は3時34分も正解とする。
			2	3	9、41	
			3	3	460	
			4	3	15(3)、34	
8	簡単な地図を読みとる	16	1	2	東西	* 2つ以上の○は不正解とする。 * 3、4は、記号を1つ書いてあるもののみ採点対象とする。
			2	2	自転車屋	
			3	2	(明)C	
				2	(香)B	
			4	2	ウ	
			5	2	北	
2	西					
2	右					
9	描かれた絵から情報を読み取り、説明文と結びつける	3	1	3	オ	* 記号を1つ書いてあるもののみ採点対象とする。
10	与えられた言葉を用いて文章を書く	7	1	7		* 文字数が80を超えたら1点減点する。文字数が50を超えなければ1点減点する。 * 指示された言葉が用いられていない場合は1語につき3点減点する。 * 漢字の間違いは1ヶ所以上あれば1点減点する。 * 文の意味がとらえない場合は2点減点する。