



1. 次の問いに答えなさい。

1		49は7の何倍ですか。	
2		24は6の何倍ですか。	
3		2の8倍はいくつですか。	
4		5の4倍はいくつですか。	
5		ある数の9倍は72です。ある数はいくつですか。	
6		ある数の3倍は9です。ある数はいくつですか。	
7		14時20分から30分前は何時何分ですか。	
8		9時45分から45分後は何時何分ですか。	
9		1時間35分は何分ですか。	
10		290分は何時間何分ですか。	
11		左の時計は何時何分を示していますか。 (午前・午後は問いません。)	
12		左の時計が示す時間から30分前は何時何分ですか。 (午前・午後は問いません。)	
13		左の時計が示す時間から50分後は何時何分ですか。 (午前・午後は問いません。)	
14		左の時計が示す時間に作業を始めて、1時間40分で作業が終わりました。作業が終わった時間は何時何分ですか。 (午前・午後は問いません。)	
15		作業を始めて35分経った時、左の時計が示す時間でした。作業を始めた時間は何時何分ですか。 (午前・午後は問いません。)	

2. つぎ けいさん 次の計算をしなさい。

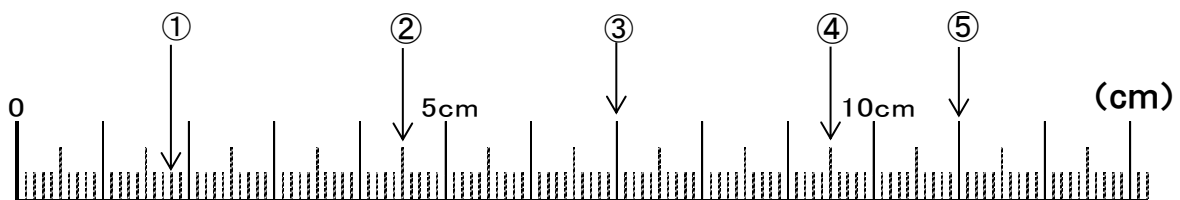
1	$246+459-142 =$	
2	$253 \times 5 =$	
3	$714 \div 7 =$	
4	$225 \div 15 \times 4 =$	
5	$9 \times 0 + 13 =$	

6	$16.7 - 5.9 =$	
7	$\frac{3}{11} + \frac{2}{11} =$	
8	$\frac{4}{5} - \frac{2}{3} =$	
9	$\frac{2}{9} \times \frac{4}{5} =$	
10	$\frac{1}{3} \div \frac{1}{2} =$	

※記入(きにゆう)しないでください

3. つぎ と こた 次の問いに答えなさい。

1	したのもののさしの①がしめながなんセンチメートルですか。	cm
2	したのもののさしの②がしめながのリボンに、3センチメートルのリボンをつなげると何センチメートルになりますか。	cm
3	したのもののさしの③がしめながのリボンから、2.3センチメートルを切り取った場合、残ったリボンの長さは何センチメートルになりますか。	cm
4	したのもののさしの④がしめながなんミリメートルですか。	mm
5	したのもののさしの⑤がしめながなんメートルですか。	m



※記入(きにゆう)しないでください

※記入(きにゆう)しないでください

4. 次の問いに答えなさい。

1	60個のチョコレートを1日3個ずつ食べます。全部食べきるまでに何日かかりますか。	しき式	
		こたえ答	日
2	1個あたり200グラムの荷物を7個運びます。全部を一度に運ぶと重さは何キログラムになりますか。	しき式	
		こたえ答	kg
3	1冊200円の本を3冊と、1個50円のおかしを3個買い、1000円を支払いました。おつりはいくらですか。	しき式	
		こたえ答	円
4	家からスーパーまでの640メートルを8分間で歩きました。歩いた速さは分速何メートルですか。	しき式	
		こたえ答	分速 m
5	色紙が90枚あります。そのうち、4割が赤色です。赤色の紙は何枚ありますか。	しき式	
		こたえ答	枚

※記入(きにゆう)しないでください